

MINISTÉRIO PÚBLICO DA UNIÃO

NÍVEL SUPERIOR

CONCURSO PÚBLICO

CARGO

13

**ANALISTA DE ENGENHARIA
AMBIENTAL/PERITO**

Provas Objetivas e Discursiva

LEIA COM ATENÇÃO AS INSTRUÇÕES ABAIXO.

- 1 Confira atentamente se os seus dados pessoais, transcritos acima, estão corretos e coincidem com o que está registrado na sua folha de respostas e na sua folha de texto definitivo da prova discursiva. Confira também o seu nome em cada página numerada deste caderno de provas.** Em seguida, verifique se ele contém a quantidade de itens indicada em sua folha de respostas, correspondentes às provas objetivas, e a prova discursiva acompanhada de espaço para rascunho. Caso o caderno esteja incompleto, tenha qualquer defeito, ou apresente divergência quanto aos dados pessoais, solicite ao fiscal de sala mais próximo que tome as providências cabíveis, pois não serão aceitas reclamações posteriores nesse sentido.
- 2 Quando autorizado pelo chefe de sala, no momento da identificação, escreva, no espaço apropriado da folha de respostas, com a sua caligrafia usual, a seguinte frase:**

Conforme previsto em edital, o descumprimento dessa instrução implicará a anulação das suas provas e a sua eliminação do concurso.
- 3 Durante a realização das provas, não se comunique com outros candidatos nem se levante sem autorização do fiscal de sala. Nesse período, também não será permitido o empréstimo de qualquer material entre candidatos, mesmo entre os que já tenham terminado as provas.**
- 4 Na duração das provas, está incluído o tempo destinado à identificação — que será feita no decorrer das provas —, ao preenchimento da folha de respostas e à transcrição do texto definitivo da prova discursiva para a folha de texto definitivo.**
- 5 Ao terminar as provas, chame o fiscal de sala mais próximo, devolva-lhe a sua folha de respostas e a sua folha de texto definitivo e deixe o local de provas.**
- 6 A desobediência a qualquer uma das determinações constantes em edital, no presente caderno, na folha de respostas ou na folha de texto definitivo da prova discursiva poderá implicar a anulação das suas provas.**

OBSERVAÇÕES

- Não serão conhecidos recursos em desacordo com o estabelecido em edital.
- Informações adicionais: telefone 0(XX) 61 3448-0100; Internet — www.cespe.unb.br.
- É permitida a reprodução deste material apenas para fins didáticos, desde que citada a fonte.

- De acordo com o comando a que cada um dos itens a seguir se refira, marque, na **folha de respostas**, para cada item: o campo designado com o código **C**, caso julgue o item **CERTO**; ou o campo designado com o código **E**, caso julgue o item **ERRADO**. A ausência de marcação ou a marcação de ambos os campos não serão apenadas, ou seja, não receberão pontuação negativa. Para as devidas marcações, use a **folha de respostas**, único documento válido para a correção das suas provas objetivas.
- Nos itens que avaliam conhecimentos de informática, a menos que seja explicitamente informado o contrário, considere que todos os programas mencionados estão em configuração-padrão, em português; e que não há restrições de proteção, de funcionamento e de uso em relação aos programas, arquivos, diretórios, recursos e equipamentos mencionados.

CONHECIMENTOS BÁSICOS

1 Inovar é recriar de modo a agregar valor e incrementar
a eficiência, a produtividade e a competitividade nos processos
gerenciais e nos produtos e serviços das organizações. Ou seja,
4 é o fermento do crescimento econômico e social de um país.
Para isso, é preciso criatividade, capacidade de inventar e
coragem para sair dos esquemas tradicionais. Inovador é o
7 indivíduo que procura respostas originais e pertinentes em
situações com as quais ele se defronta. É preciso uma atitude
de abertura para as coisas novas, pois a novidade é catastrófica
10 para os mais céticos. Pode-se dizer que o caminho da inovação
é um percurso de difícil travessia para a maioria das
instituições. Inovar significa transformar os pontos frágeis de
13 um empreendimento em uma realidade duradoura e lucrativa.
A inovação estimula a comercialização de produtos ou serviços
e também permite avanços importantes para toda a sociedade.
16 Porém, a inovação é verdadeira somente quando está
fundamentada no conhecimento. A capacidade de inovação
depende da pesquisa, da geração de conhecimento.
19 É necessário investir em pesquisa para devolver resultados
satisfatórios à sociedade. No entanto, os resultados desse tipo
de investimento não são necessariamente recursos financeiros
22 ou valores econômicos, podem ser também a qualidade de vida
com justiça social.

Luis Afonso Bermúdez. **O fermento tecnológico**. In: Darcy. Revista de jornalismo científico e cultural da Universidade de Brasília, novembro e dezembro de 2009, p. 37 (com adaptações).

Considerando a organização das ideias e estruturas linguísticas do texto, julgue os seguintes itens.

- 1 O período sintático iniciado por “Inovar significa” (ℓ.12) estabelece, com o período anterior, relação semântica que admite ser explicitada pela expressão **Por conseguinte**, escrevendo-se: Por conseguinte, inovar significa (...).
- 2 Subentende-se da argumentação do texto que o pronome demonstrativo, no trecho “desse tipo de investimento” (ℓ.20-21), refere-se à ideia de “fermento do crescimento econômico e social de um país” (ℓ.4).
- 3 A forma verbal “é” (ℓ.4) está flexionada no singular porque, na oração em que ocorre, subentende-se “Inovar” (ℓ.1) como sujeito.
- 4 Na linha 8, o segmento “as quais” remete a “situações” e, por isso, admite a substituição pelo pronome **que**; no entanto, nesse contexto, tal substituição provocaria ambiguidade.

1 Nós, seres humanos, somos seres sociais: vivemos
nosso cotidiano em contínua imbricação com o ser de outros.
Isso, em geral, admitimos sem reservas. Ao mesmo tempo,
4 seres humanos, somos indivíduos: vivemos nosso ser cotidiano
como um contínuo devir de experiências individuais
intransferíveis. Isso admitimos como algo indubitável. Ser
7 social e ser individual parecem condições contraditórias da
existência. De fato, boa parte da história política, econômica e
cultural da humanidade, particularmente durante os últimos
10 duzentos anos no ocidente, tem a ver com esse dilema. Assim,
distintas teorias políticas e econômicas, fundadas em diferentes
ideologias do humano, enfatizam um aspecto ou outro dessa
13 dualidade, seja reclamando uma subordinação dos interesses
individuais aos interesses sociais, ou, ao contrário, afastando o
ser humano da unidade de sua experiência cotidiana. Além
16 disso, cada uma das ideologias em que se fundamentam essas
teorias políticas e econômicas constitui uma visão dos
fenômenos sociais e individuais que pretende firmar-se em uma
19 descrição verdadeira da natureza biológica, psicológica ou
espiritual do humano.

Humberto Maturana. **Biologia do fenômeno social: a ontologia da realidade**. Miriam Graciano (Trad.). Belo Horizonte: UFMG, 2002, p. 195 (com adaptações).

A respeito da organização das estruturas linguísticas e das ideias do texto, julgue os itens a seguir.

- 5 Nas relações de coesão do texto, as expressões “esse dilema” (ℓ.10) e “dessa dualidade” (ℓ.12-13) remetem à condição do ser humano: unitário em “sua experiência cotidiana” (ℓ.15), mas imbricado “com o ser de outros” (ℓ.2).
- 6 Na linha 16, na concordância com “cada uma das ideologias”, a flexão de plural em “fundamentam” reforça a ideia de pluralidade de “ideologias”; mas estaria gramaticalmente correto e textualmente coerente enfatizar “cada uma”, empregando-se o referido verbo no singular.
- 7 A inserção de termo **como** antes de “seres humanos” (ℓ.4) preservaria a coerência entre os argumentos bem como a correção gramatical do texto.
- 8 Na linha 4, o sinal de dois-pontos tem a função de introduzir uma explicação para as orações anteriores; por isso, em seu lugar, poderia ser escrito **porque**, sem prejuízo para a correção gramatical do texto ou para sua coerência.
- 9 Depreende-se do texto que as “condições contraditórias” mencionadas na linha 7 decorrem da dificuldade que o ser humano tem em admitir que suas experiências são intransferíveis porque surgem de “um contínuo devir” (ℓ.5).

1 As diferenças de classes vão ser estabelecidas em dois
 níveis polares: classe privilegiada e classe não privilegiada.
 Nessa dicotomia, um leitor crítico vai perceber que se trata de
 4 um corte epistemológico, na medida em que fica óbvio que
 classificar por extremos não reflete a complexidade de classes
 da sociedade brasileira, apesar de indicar os picos. Em cada um
 7 dos polos, outras diferenças se fazem presentes, mas
 preferimos alçar a dicotomia maior que tanto habita o mundo
 das estatísticas quanto, e principalmente, o mundo do
 10 imaginário social. Estudos a respeito de riqueza e pobreza ora
 dão quitação a classes pela forma quantitativa da ordem do
 ganho econômico, ora pelo grau de consumo na sociedade
 13 capitalista, ora pela forma de apresentação em vestuário, ora
 pela violência de quem não tem mais nada a perder e assim por
 diante. O imaginário, em sua organização dinâmica e com sua
 16 capacidade de produzir imagens simbólicas e estereótipos,
 maneja representações que possibilitam pôr ordem no caos.
 O imaginário, acionado pela imaginação individual, é
 19 pluriespacial e, na interação social, constrói a memória, a
 história museológica. Mesmo que possamos pensar que
 estereótipos são resultado de matrizes, a cultura é dinâmica,
 22 porquanto símbolos e estereótipos são olhados e
 ressignificados em determinado instante social.

Dina Maria Martins Ferreira. *Não pense, veja*. São Paulo: Fapesp&Annablume, p. 62 (com adaptações).

Com base na organização das ideias e nos aspectos gramaticais do texto acima, julgue os itens que se seguem.

- 10 Preservam-se as relações argumentativas do texto bem como sua correção gramatical, caso se inicie o último período por **Ainda**, em lugar de “Mesmo” (ℓ.20).
- 11 De acordo com a argumentação do texto, a diferenciação das classes em “dois níveis polares” (ℓ.1-2), como dois extremos, não atende à complexidade de classes da sociedade brasileira, mas é comum ao “mundo das estatísticas” (ℓ.8-9) e ao “mundo do imaginário social” (ℓ.9-10).
- 12 O uso da forma verbal “se trata” (ℓ.3), no singular, atende às regras de concordância com o termo “um corte epistemológico” (ℓ.4) e seriam mantidas a coerência entre os argumentos e a correção gramatical do texto se fosse usado o termo no plural, **cortes epistemológicos**, desde que o verbo fosse flexionado no plural: **se tratam**.
- 13 Na linha 4, para se evitar a repetição de “que”, seria adequado substituir o trecho “que classificar” (ℓ.4-5) por **ao classificar**, preservando-se tanto a coerência textual quanto a correção gramatical do texto.
- 14 Subentende-se da argumentação do texto que “os picos” (ℓ.6) correspondem aos mais salientes indicadores de classes — a privilegiada e a não privilegiada —, referidos no texto também como “extremos” (ℓ.5) e “polos” (ℓ.7).
- 15 Na linha 11, a ausência de sinal indicativo de crase no segmento “a classes” indica que foi empregada apenas a preposição **a**, exigida pelo verbo **dar**, sem haver emprego do artigo feminino.

1 A característica central da modernidade, não seria
 demais repetir, é a institucionalização do universalismo — e
 seu duplo, a igualdade — como princípio organizador da esfera
 4 pública. Com base nesse pressuposto, argumento que, em nossa
 sociedade, na esfera pública, duas formas de particularismo —
 o das diferenças e o das relações pessoais — se reforçam e se
 7 articulam em diversas arenas e situações, na produção e
 reprodução de desigualdades sociais e simbólicas.
 O particularismo das diferenças produz exclusão social e
 10 simbólica, dificultando os sentimentos de pertencimento e
 interdependência social, necessários para a efetiva
 institucionalização do universalismo na esfera pública.
 13 O particularismo das relações pessoais atravessa os novos
 arranjos institucionais que vêm sendo propostos como
 mecanismos de construção de novas formas de sociabilidade e
 16 ação coletiva na esfera pública. Finalmente, considero que,
 embora a formação de novos sujeitos sociais e políticos e de
 arenas de participação da sociedade na formulação e gestão das
 19 políticas públicas traga as marcas de nossa trajetória histórica,
 constitui, ao mesmo tempo, possibilidade aberta para outra
 equação entre universalismo e particularismo na sociedade
 22 brasileira.

Jeni Vaitsman. *Desigualdades sociais e particularismos na sociedade brasileira*. In: *Cadernos de Saúde Pública*, Rio de Janeiro, n.º 18 (Suplemento), p. 38 (com adaptações).

Julgue os seguintes itens, a respeito dos sentidos e da organização do texto acima.

- 16 As relações entre as ideias do texto mostram que a forma verbal “dificultando” (ℓ.10) está ligada a “diferenças” (ℓ.9); por isso, seriam respeitadas as relações entre os argumentos dessa estrutura, como também a correção gramatical, caso se tornasse explícita essa relação, por meio da substituição dessa forma verbal por **e dificultam**.
- 17 Por meio da conjunção “e”, empregada duas vezes na linha 17 e uma vez na linha 18, é estabelecida a seguinte organização de ideias: a primeira ocorrência liga duas características de “novos sujeitos” (ℓ.17); a segunda liga dois complementos de “formação” (ℓ.17); a terceira, dois complementos de “arenas de participação da sociedade” (ℓ.18).
- 18 Na linha 19, é obrigatório o uso do verbo **trazer** no modo subjuntivo — “traga” — porque essa forma verbal integra uma oração iniciada pelo vocábulo “embora” (ℓ.17).
- 19 A coerência entre os argumentos apresentados no texto mostra que o pronome “seu” (ℓ.3) refere-se a “universalismo” (ℓ.2).
- 20 De acordo com as normas de pontuação, seria correto empregar, nas linhas 2 e 3, vírgulas no lugar das travessões; entretanto, nesse caso, a leitura e a compreensão do trecho poderiam ser prejudicadas, dada a existência da vírgula empregada após “duplo”, no interior do trecho destacado entre travessões.
- 21 Na estrutura sintática em que ocorre, a preposição “em” (ℓ.7) poderia ser omitida, o que não prejudicaria a coerência nem a correção gramatical do texto, pois a preposição ficaria subentendida.

1 Hipermodernidade é o termo usado para denominar a
 realidade contemporânea, caracterizada pela cultura do
 excesso, do acréscimo sempre quantitativo de bens materiais,
 4 de coisas consumíveis e descartáveis. Dentro desse contexto,
 todas as interações humanas, marcadas pela doença crônica da
 falta de tempo disponível e da ausência de autêntica integração
 7 existencial, se tornam intensas e urgentes. O movimento da
 vida passa a ser uma efervescência constante e as mudanças a
 ocorrer em ritmo quase esquizofrênico, determinando os
 10 valores fugidios de uma ordem temporal marcada pela
 efemeridade. Como tentativas de acompanhar essa velocidade
 vertiginosa que marca o processo de constituição da sociedade
 13 hipermoderna, surge a flexibilidade do mundo do trabalho e a
 fluidez das relações interpessoais. O indivíduo da “cultura”
 tecnicista vivencia uma situação paradoxal: ao mesmo tempo
 16 em que lhe são ofertados continuamente os recursos para
 que possa gozar efetivamente as dádivas materiais da vida,
 ocorre, no entanto, a impossibilidade de se desfrutar
 19 plenamente desses recursos.

Renato Nunes Bittencourt. *Consumo para o vazio existencial*.
 In: *Filosofia*, ano V, n. 48, p. 46-8 (com adaptações).

Julgue os itens a seguir, com relação às ideias e aspectos linguísticos do texto.

- 22 A ausência de vírgula depois de “vertiginosa” (ℓ.12) indica que a oração iniciada por “que marca” (ℓ.12) restringe a ideia de “velocidade vertiginosa” (ℓ.11-12).
- 23 A forma verbal “surge” (ℓ.13) está flexionada no singular porque estabelece relação de concordância com o conjunto das ideias que compõem a oração anterior.
- 24 O uso da preposição “em”, na linha 16, é obrigatório para marcar a relação estabelecida com a forma verbal “vivencia” (ℓ.15); por isso, a omissão dessa preposição provocaria erro gramatical e impossibilitaria a retomada do referente do pronome “que” (ℓ.16).
- 25 Entende-se da leitura do texto que a “realidade contemporânea” (ℓ.2) caracteriza-se pela velocidade vertiginosa e pelo acúmulo de bens materiais, assim como pela ausência de integração existencial e falta de tempo para usufruir “as dádivas materiais da vida” (ℓ.17).

Considerando a organização, a estrutura e os princípios que orientam as atribuições do Ministério Público da União (MPU), julgue os itens a seguir.

- 26 As funções eleitorais do Ministério Público Federal perante os juízes e juntas eleitorais serão exercidas pelo promotor eleitoral.
- 27 O princípio do promotor natural decorre da independência funcional e da garantia da inamovibilidade dos membros da instituição.

Com relação aos procuradores-gerais, julgue os próximos itens.

- 28 A destituição do procurador-geral de justiça do Distrito Federal e territórios exige a deliberação da maioria absoluta dos membros da Câmara Legislativa do Distrito Federal.
- 29 O presidente da República, no uso de suas atribuições de chefe de Estado, nomeia o procurador-geral de justiça nos estados, o procurador-geral militar e o procurador-geral do trabalho.
- 30 Cabe ao procurador-geral da República, como chefe do Ministério Público Federal, decidir, em grau de recurso, conflitos de atribuições entre órgãos componentes da estrutura do Ministério Público Federal.

A respeito das funções do MPU e das garantias de seus membros, julgue os itens que se seguem.

- 31 Compete ao colégio de procuradores da República elaborar, mediante votação obrigatória, lista triplíce para a composição de todos os tribunais superiores.
- 32 A promoção de membros do MPU ocorre por antiguidade ou merecimento, independentemente de solicitação, interesse público ou autorização do órgão colegiado.

A respeito dos princípios fundamentais, da aplicabilidade das normas constitucionais e dos direitos sociais, julgue os itens a seguir.

- 33 Sendo os direitos fundamentais válidos tanto para as pessoas físicas quanto para as jurídicas, não há, na Constituição Federal de 1988 (CF), exemplo de garantia desses direitos que se destine exclusivamente às pessoas físicas.
- 34 A dignidade da pessoa humana, um dos fundamentos da República Federativa do Brasil, apresenta-se como direito de proteção individual em relação ao Estado e aos demais indivíduos e como dever fundamental de tratamento igualitário dos próprios semelhantes.
- 35 O livre exercício de qualquer trabalho, ofício ou profissão, desde que atendidas as qualificações profissionais que a lei estabelecer, é norma constitucional de eficácia contida; portanto, o legislador ordinário atua para tornar exercitável o direito nela previsto.

No que se refere à organização político-administrativa do Estado e às atribuições e responsabilidades do presidente da República, julgue os itens subsequentes.

- 36 A CF autoriza o presidente da República a delegar ao advogado-geral da União o envio de mensagem e de plano de governo ao Congresso Nacional por ocasião da abertura da sessão legislativa.
- 37 Uma vez que, no Estado federal, há mais de uma ordem jurídica incidente sobre o mesmo território e sobre as mesmas pessoas, a repartição de competências entre os entes federativos, prevista pela CF, favorece a eficácia da ação estatal, evitando conflitos e desperdício de esforços e recursos.

Julgue os itens a seguir, referentes ao Poder Judiciário e às funções essenciais à justiça.

- 38 A CF assegura autonomia funcional, administrativa e financeira às defensorias públicas estaduais, por meio das quais o Estado cumpre o seu dever constitucional de garantir às pessoas desprovidas de recursos financeiros o acesso à justiça.
- 39 De acordo com a CF, compete aos juízes federais processar e julgar os crimes políticos e as infrações penais praticadas em detrimento de bens, serviços ou interesse da União ou de suas entidades autárquicas ou empresas públicas, excluídas as contravenções e ressalvadas as competências da justiça militar e da justiça eleitoral.

Com relação aos poderes, atos e contratos administrativos, julgue os itens a seguir.

- 40 As prerrogativas do regime jurídico administrativo conferem poderes à administração, colocada em posição de supremacia sobre o particular; já as sujeições servem de limites à atuação administrativa, como garantia do respeito às finalidades públicas e também dos direitos do cidadão.
- 41 A legalidade dos atos administrativos vinculados e discricionários está sujeita à apreciação judicial.
- 42 A competência constitui elemento ou requisito do ato administrativo vinculado, cabendo, entretanto, ao próprio órgão público estabelecer as suas atribuições.

A respeito da Lei n.º 8.666/1993, julgue os itens que se seguem.





- 43 Todos os valores, preços e custos utilizados nas licitações têm como expressão monetária a moeda corrente nacional, ressalvadas as concorrências de âmbito internacional, para as quais o edital deve ajustar-se às diretrizes da política monetária e do comércio exterior e atender às exigências dos órgãos competentes.
- 44 Toda prorrogação de contrato deve ser previamente justificada pela autoridade detentora da atribuição legal específica; portanto, é nula toda cláusula contratual que disser ser a avença automaticamente prorrogável.
- 45 Os órgãos da administração direta, os fundos especiais, as autarquias, as fundações públicas, as empresas públicas, as sociedades de economia mista e as demais entidades controladas direta ou indiretamente pela União, pelos estados, pelo Distrito Federal e pelos municípios estão subordinados ao regime dessa lei.

Julgue o seguinte item, acerca dos agentes públicos.

- 46 A vacância do cargo público decorre de: exoneração, demissão, promoção, ascensão, transferência, readaptação, aposentadoria, posse em outro cargo inacumulável e falecimento.


	A	B	C	D	E	F
1	N.º Processo	Estado	Valor			
2	23456	SP	R\$ 3.929.100,00			
3	45321	DF	R\$ 634.321,00			
4	98765	SP	R\$ 498.120,00			
5	76222	DF	R\$ 23.400,00			
6	13450	RJ	R\$ 987.600,00			
7	43210	MG	R\$ 876.000,00			
8	Total					
9	Média					
10						
11						

A figura acima ilustra uma planilha em edição no Microsoft Excel 2007 (MSExcel 2007), que apresenta valores hipotéticos de seis processos. Nessa planilha, o total e a média aritmética dos valores dos seis processos serão inseridos nas células C8 e C9, respectivamente. Com base nessas informações, julgue os itens subsequentes.




- 47 Para se obter o valor total desses processos, é suficiente clicar a célula C8; pressionar a ferramenta  e, em seguida, pressionar a tecla .
- 48 O valor da média aritmética dos seis processos pode ser obtido com o seguinte procedimento: clicar a célula C9 e, em seguida, digitar a fórmula =MÉDIA(C2;C7).
- 49 Ao serem selecionados os cabeçalhos apresentados na primeira linha da planilha em edição e se clicar a ferramenta , os cabeçalhos serão automaticamente centralizados tanto horizontal quanto verticalmente.
- 50 Para formatar a fonte dos valores abaixo de R\$ 500.000,00 com a cor vermelha e a dos valores acima de R\$ 500.000,00 com a cor azul, é suficiente selecionar a coluna, clicar o menu Fórmulas, digitar =SE(C2<500000;"vermelho";"azul") e arrastar tudo, copiando a fórmula para as demais células dessa coluna.
- 51 Para classificar os processos do menor valor para o maior, é suficiente selecionar as células de C2 até C7; clicar a ferramenta ; selecionar a opção Classificar do Menor para o Maior e, em seguida, clicar o botão Classificar.

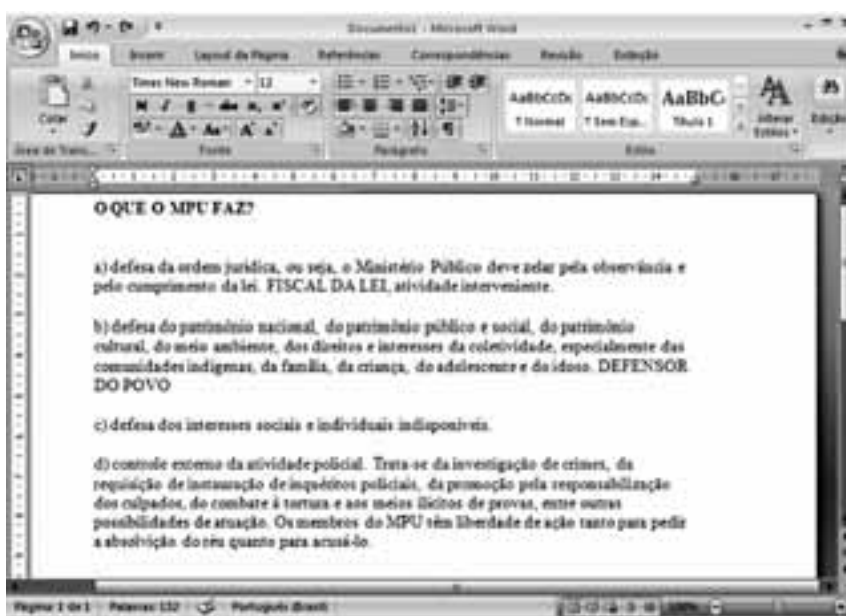


A figura acima mostra uma janela do IE 8.0 aberta em um computador com o Windows XP e conectado à Internet. Com base nessa figura, julgue os itens que se seguem, acerca da utilização de tecnologias, ferramentas, aplicativos e procedimentos associados à Internet.

- 52 Antes de permitir a execução do complemento MSXML 5.0, recomenda-se que o usuário clique a opção **Segurança** e, em seguida, clique Ativar Filtragem InPrivate para executar o antivírus do IE 8.0.
- 53 Ao se clicar a opção **Página** e, em seguida, a opção Zoom, serão exibidas opções que permitem ampliar ou reduzir a exibição da página da Web mostrada na figura.
- 54 Ao se digitar uma palavra na caixa de pesquisa **Busca** e, em seguida, pressionar e manter pressionada a tecla **Alt** e, na sequência, pressionar a tecla **Enter**, serão exibidos, em nova guia, os resultados da pesquisa realizada em todos os sítios da Web em que essa palavra foi encontrada.
- 55 Ao se clicar o botão **Favoritos**, será apresentada a opção Adicionar a Favoritos... Esta, por sua vez, ao ser clicada, permite adicionar o endereço www.mpu.gov.br na lista de favoritos.
- 56 A mensagem de alerta exibida na figura, introduzida pelo símbolo , refere-se ao complemento MSXML 5.0 e solicita permissão do usuário para que esse complemento seja instalado no computador. Existem, no entanto, complementos que podem ser instalados sem o conhecimento do usuário, quando, por exemplo, for parte de outro programa instalado anteriormente.

Com base na figura ao lado, que apresenta um texto em edição no Microsoft Word 2007 (MSWord 2007), julgue os próximos itens, relativos à edição de textos e planilhas.

- 57 Ao se clicar o botão , são apresentadas opções que permitem alterar o *design* geral do documento, incluindo-se cores, fontes, efeitos e o plano de fundo da página.
- 58 Considerando-se que os itens dos parágrafos foram autoformatados pelo MSWord 2007, é possível substituir as letras correspondentes à ordenação por numerais romanos com a utilização da ferramenta .
- 59 Considere que o último parágrafo do texto mostrado na figura seja copiado do MSWord 2007 para uma célula de uma planilha do Microsoft Excel 2007. Nesse caso, é possível tornar todo o conteúdo visível nessa célula, com exibição em várias linhas, formatando-a com a opção Quebrar Texto Automaticamente.
- 60 O texto em edição pode ser afastado para a direita usando-se a régua ou a ferramenta .



CONHECIMENTOS ESPECÍFICOS

Acerca de conceitos básicos de sistemas de informação geográfica (SIG), julgue os itens subsequentes.

- 61 No modelo vetorial de dados de um SIG, a localização e a aparência gráfica de cada elemento espacial são representadas por um ou mais pares de coordenadas. Esse modelo admite a representação de três elementos gráficos — ponto, linha poligonal e área —, além de dados não espaciais (atributos) vinculados aos elementos gráficos.
- 62 Considere que, em um trabalho de campo, tenham sido coletados dados pontuais que descrevem qualitativamente determinado ambiente. Caso esses dados qualitativos devam ser inseridos em um modelo vetorial de dados de um SIG, uma forma usual de fazer sua espacialização dentro desse modelo é empregando o critério do inverso do quadrado da distância que separa os respectivos pontos.

Com relação ao emprego de sistemas de coordenadas e ao georreferenciamento de elementos sobre a superfície terrestre, julgue os próximos itens.

- 63 Não é possível construir, sem deformações, superfícies esféricas ou elipsoidais sobre um plano. Contudo, é possível construir, sobre um plano, projeções dessas superfícies em que são preservados, por exemplo, ângulos ou dimensões lineares dos elementos gráficos contidos na superfície original.
- 64 Nas representações de grandes extensões territoriais, em que as áreas constituem elemento relevante para as análises, deve-se empregar um sistema de projeção dito equivalente, que tem a propriedade de preservar, na representação, as relações existentes entre as áreas reais.
- 65 As coordenadas geográficas de um objeto georreferenciado na escala 1:25.000 serão as mesmas, independentemente de a carta topográfica ter como referência planimétrica o SAD-69 (*south american datum*) ou o Sistema de Referência Geocêntrico para as Américas (SIRGAS2000).

A respeito do conceito de *pixel* em imagens resultantes de processo de sensoriamento, julgue o item a seguir.

- 66 Em uma imagem de uma superfície terrestre gerada por um sistema imageador, o *pixel* representa a menor área imageada dessa superfície, ao qual está associado um valor numérico que indica a intensidade da radiação eletromagnética refletida ou emitida pela área correspondente ao *pixel*.

sensor	bandas espectrais	resolução espectral	resolução espacial	resolução temporal
AVHRR 2 (<i>advanced very high resolution r adiometer</i>)	1 (vermelho)	0,58 – 0,68 μm	1,1 km	diária (AM e PM)
	2 (infravermelho próximo)	0,72 – 1,10 μm		
	3 (infravermelho médio)	3,55 – 3,93 μm		
	4 (infravermelho termal)	10,30 – 11,30 μm		
	5 (infravermelho termal)	11,30 – 12,50 μm		

sensor	bandas espectrais	resolução espectral	resolução espacial	resolução temporal
TM (<i>thematic mapper</i>)	B1 (azul)	0,45 – 0,52 μm	30 m	16 dias
	B2 (verde)	0,50 – 0,60 μm		
	B3 (vermelho)	0,63 – 0,69 μm		
	B4 (infravermelho próximo)	0,76 – 0,90 μm		
	B5 (infravermelho médio)	1,55 – 1,75 μm	120 m	
	B6 (infravermelho termal)	10,4 – 12,5 μm		
	B7 (infravermelho médio)	2,08 – 2,35 μm		

As tabelas apresentadas acima descrevem algumas das características dos sensores AVHRR 2 e TM, embarcados nos satélites NOAA (*national oceanic atmospheric administration*) e LANDSAT (*land remote sensing satellite*), respectivamente. Com base nessas informações, julgue os itens a seguir.

- 67 Para o monitoramento e controle diário das ocorrências de incêndio na região amazônica, o sensor TM é mais adequado que o AVHRR 2.
- 68 Para fins de avaliação de desmatamentos por meio do cálculo da taxa de áreas desmatadas, a partir de dados obtidos com o sensor TM, é mais adequado utilizar uma das bandas espectrais B1, B2 e B3 que alguma das bandas espectrais do infravermelho.

A respeito de características de sensores e produção de imagens de sensoriamento remoto, julgue os próximos itens.

- 69 Considerando que determinada porção do espectro é imageada por um dado sensor com resolução de 10 *bits*, é correto afirmar que a amplitude da refletância dos alvos presentes nessas imagens pode ser representada com até 2.048 diferentes níveis.
- 70 Sistemas de imageamento por micro-ondas, como os radares de visada lateral, são sistemas ativos e, portanto, não dependem da radiação solar, por isso não são afetados pelas variações diurnas da radiação solar refletida pela superfície do terreno e podem ser empregados à noite e em condições de nebulosidade, uma vez que as nuvens são transparentes às micro-ondas.
- 71 Quando o sistema de imageamento utiliza sensor capaz de captar radiação eletromagnética, refletida ou emitida por objetos, em diferentes intervalos de comprimentos de onda, é possível se produzirem, após a transformação da radiação captada em níveis de cinza, imagens multispectrais.

O planejamento territorial urbano, intensamente renovado no Brasil nos últimos anos, tem como novos princípios constitutivos a inclusão e a participação. O Estatuto das Cidades, marco legal dessa nova perspectiva de planejamento urbano, estabelece instrumentos de controle do uso e ocupação do solo a serem implementados. A respeito desse assunto, julgue os itens subsequentes.

- 72** O planejamento é dito inclusivo quando considera, na concepção urbanística da cidade, a fauna e a flora como integrantes da teia urbana emergente ou estabelecida.
- 73** Entre os instrumentos da política urbana, encontram-se os seguintes: os planos nacionais, regionais e estaduais de ordenação do território e de desenvolvimento econômico e social; os institutos tributários e financeiros; os estudos prévios de impacto ambiental (EIA) e estudos prévios de impacto de vizinhança (EIV).
- 74** A elaboração do plano diretor de ordenamento territorial é de competência dos estados, que o faz com a participação dos municípios e o aprova por meio de lei estadual. Contudo, cada município é responsável pela execução do plano em seu território.
- 75** Para cidades inseridas na área de influência de empreendimentos ou atividades com significativo impacto ambiental de âmbito regional ou nacional, o plano diretor de ordenamento territorial é obrigatório, independentemente do tamanho da população dessas cidades.
- 76** Um dos propósitos do zoneamento territorial consiste em direcionar o crescimento urbano para zonas com infraestrutura urbana precária, de modo a garantir investimentos públicos futuros nessas áreas.
- 77** O zoneamento do uso do solo urbano é um instrumento da gestão do espaço urbano que define os usos para determinadas áreas da cidade como, por exemplo, uso industrial, uso comercial e uso residencial.
- 78** O zoneamento de usos e atividades na zona costeira é definido pelo Plano Nacional de Gerenciamento Costeiro (PNGC), instituído em lei específica.
- 79** O planejamento do uso e ocupação do solo disposto no plano diretor contempla tão somente a área urbana do município, uma vez que ainda não há respaldo legal para o zoneamento rural.

No Brasil, o processo de urbanização ocorreu, com raras exceções, sem qualquer planejamento, como resultado do processo de colonização, com exploração dos recursos naturais e margeando a malha hidrográfica. Atualmente, entretanto, a urbanização no Brasil sofre influência da legislação e da ação do capital. Em referência a esse assunto, julgue os itens a seguir.

- 80** A ocupação urbana desordenada, com a impermeabilização de grandes áreas, acentua as cheias nos períodos de chuvas intensas, diminuindo o tempo de concentração das bacias.
- 81** Para novas ocupações urbanas, a concepção moderna de sistemas de drenagem recomenda medidas estruturais que propiciem o deslocamento das águas de chuva no menor intervalo de tempo possível, em contraposição às premissas conservadoras de medidas não estruturais.
- 82** A ocupação humana do território representa fator decisivo na aceleração dos processos erosivos que são comandados, entre outros, pelos seguintes fatores naturais: volume de água que atinge o terreno; cobertura vegetal; fauna silvestre; tipo de solo e profundidade do lençol freático.
- 83** Os desmatamentos diminuem a infiltração da água de chuva no solo e aumentam o volume dos escoamentos superficiais, aumentando o pico do hidrograma de cheia.

zona	área (km ²)	padrão de ocupação	distância a córregos/rios (m)	titularidade da terra
zona 1	100	agricultura irrigada	10	privada
zona 2	5	agricultura irrigada	0	privada
zona 3	500	mineração	40	privada
zona 4	260	vegetação nativa	0	pública

Considerando que a tabela acima contém algumas informações acerca de uma bacia hidrográfica hipotética, julgue os itens subsequentes.

- 84** A mineração existente na zona 3 e a vegetação da zona 4 não oferecem risco de poluição para a rede de drenagem da bacia hidrográfica em tela, uma vez que a distância entre a mineração e qualquer córrego ou rio é maior que a distância mínima exigida pela lei e a vegetação nativa não gera poluição.
- 85** O emprego de fertilizantes agrícolas na zona 1 pode causar eutrofização em córregos ou rios da bacia.

Julgue os itens que se seguem, a respeito da teoria e prática do planejamento da gestão ambiental.

- 86 São diretrizes quantitativas para o planejamento das águas as orientações estratégicas que dispõem sobre: prioridades de atendimento a demandas quantitativas de uso da água; garantias de atendimento às demandas; eficiência de uso da água; racionamento de demanda; proteção contra inundações.
- 87 Em um plano de gerenciamento de resíduos sólidos, a segregação de resíduos tem, entre outras, a finalidade de promover a segurança no seu manuseio, uma vez que a mistura de resíduos incompatíveis pode ter efeitos perigosos, tais como: geração de calor; geração de gases inflamáveis; solubilização e lixiviação de substâncias tóxicas.
- 88 A legislação ambiental brasileira estabelece padrões de qualidade para a água dos rios e para os efluentes da drenagem urbana neles lançados.
- 89 Um método para avaliar a gravidade e a extensão de emissões líquidas acidentais deve considerar, entre outros, os seguintes aspectos: as propriedades físicas, químicas, toxicológicas e ecotoxicológicas das substâncias que compõem a emissão; as características atmosféricas, geológicas, geográficas do local onde ocorreu a emissão; e as características socioeconômicas da população existente nas vizinhanças do local do acidente.

Em acidente envolvendo um caminhão com carregamento de óleo de cozinha, houve rompimento das bombonas que continham o produto e o derramamento de aproximadamente 500L desse óleo. O acidente ocorreu a poucos metros da estação de tratamento de esgotos (ETE) da cidade, que opera com um sistema australiano de lagoas.

Com base na situação hipotética acima, julgue os itens seguintes.

- 90 Uma solução tecnicamente viável e apropriada para o problema em tela é a coleta do óleo derramado e seu lançamento na lagoa anaeróbia da ETE.
- 91 Isolar a área afetada pelo derramamento e então queimar o óleo, haja vista a sua alta inflamabilidade, é uma solução tecnicamente factível e adequada para o problema em tela, que não acarretaria emissão de poluentes atmosféricos altamente danosos, pois se trata de um produto de origem vegetal.
- 92 De acordo com a normatização oficial brasileira, o óleo derramado no acidente em tela é considerado resíduo sólido.
- 93 Considere que se tenha recolhido o óleo derramado e que se tenha identificado um destino apropriado para enviá-lo. De acordo com a legislação ambiental, o transporte desse material até esse destino só pode ser realizado de posse do Certificado de Movimentação de Resíduos de Interesse Ambiental (CADRI).

Texto para os itens de 94 a 104

Em Niterói (RJ), as intensas chuvas de curta duração ocorridas em abril de 2010 provocaram muitas inundações e deslizamentos, com a morte de 165 pessoas no município, sendo 47 na ocupação conhecida como Morro do Bumba. Uma imagem de satélite, feita em 2006, mostra como era o Morro do Bumba antes da tragédia: uma encosta coberta de casas, que aparentava apenas mais uma ocupação irregular de baixa renda entre tantas outras da região. Mas era muito pior. O Morro do Bumba era um grande depósito de lixo a céu aberto, com terreno instável, perigoso, onde nada, rigorosamente nada, deveria ser construído. O depósito foi desativado em 1981. De lá pra cá, o morro foi totalmente ocupado. Moradores mais antigos da região acompanharam tudo. “O lixo foi subindo, subindo, subindo, e virou um morro. Habitaram em uma lixeira como se fosse morro”, disse uma moradora.

Internet: <www.g1.globo.com> (com adaptações).

Com base no texto acima, julgue os itens seguintes.

- 94 As chuvas convectivas apresentam características que contribuem para a ocorrência de deslizamentos em regiões como a mencionada no texto acima.
- 95 O fenômeno *El Niño* foi um dos responsáveis pelas chuvas intensas que caíram no Morro do Bumba em abril de 2010.
- 96 Um número muito acima da média de episódios de zona de convergência do atlântico sul (ZCAS), nos dias que antecederam à tragédia no Morro do Bumba, contribuíram para a formação das chuvas que atingiram a região.
- 97 Com base nos critérios legais que estabelecem as diferenças entre situação de emergência e estado de calamidade pública, tragédias como a do Morro do Bumba devem ser classificadas como situação de emergência.
- 98 Suponha que, no final da década de 1970 do século passado, antes, portanto, de sua ocupação pelos moradores, a área do Morro do Bumba tenha sido classificada, após vistoria técnica, como aterro sanitário. Nessa situação, procedeu-se à classificação da área de forma correta.
- 99 Do rol de atribuições do sistema nacional de defesa civil (SINDEC), cuja finalidade é a prevenção de desastres e o atendimento a suas vítimas, exclui-se a realização de projeto de recuperação estrutural e paisagístico das áreas afetadas.

Considerando a realização de vistoria técnica em determinada região com as mesmas características do Morro do Bumba, julgue os itens de 100 a 104.

- 100 A presença de escorredura de líquido por baixo das casas é irrelevante visto que representa apenas afloramento de água subsuperficial.
- 101 É provável que a equipe técnica detecte, nessa região, produção de gás metano.
- 102 Nessa região, o escoamento laminar superficial seria o destino imediato da água proveniente de chuvas de baixa intensidade em razão da estrutura e do grau de impermeabilidade do terreno.

- 103** As conclusões da equipe de vistoria devem ser confrontadas com o plano diretor urbano do município de modo a favorecer o estabelecimento de diretrizes de ordenamento territorial.
- 104** Alto teor de matéria orgânica no solo da região indica tratar-se de solo adequado para utilização como adubo em hortas e pomares, desde que, antes, seja realizada a sua descontaminação biológica, para eliminar microorganismos patogênicos.

Julgue os itens a seguir, relativos à avaliação de riscos ambientais.

- 105** A utilização de sistema de informação geográfica (SIG) em estudos de terreno permite hierarquizar os quanto ao grau de risco de desmoronamento, mediante sobreposição de informações relativas a declividade, geomorfologia, geologia, solos e cobertura vegetal.
- 106** A análise de componentes principais auxilia a identificação das variáveis que mais contribuem para a ocorrência de desastres naturais.
- 107** O modelo árvore de decisão é utilizado para hierarquizar áreas quanto ao grau de risco, auxiliando a defesa civil na tomada de decisões.
- 108** A avaliação de risco e a de vulnerabilidade são conceitualmente distintas. Em áreas onde o risco é elevado, a vulnerabilidade dos moradores é baixa.

Considere que, em um município litorâneo, vários bairros, que não dispõem de rede canalizada de abastecimento de água e de rede coletora de esgoto, com inúmeras ligações clandestinas de esgoto doméstico na rede pluvial, tenham sido alagados em razão de chuvas intensas. Com relação a essa situação hipotética, julgue os itens que se seguem.

- 109** Uma vez que a água da chuva escoe completamente, cessarão os riscos, decorrentes do alagamento, a que a população dos bairros esteve exposta.
- 110** Ao se expandir a rede de abastecimento de água nesses bairros que foram alagados, deve ser realizada avaliação prévia da posição e do estado de conservação das cisternas das casas.
- 111** As chuvas intensas que alagaram os bairros promovem a limpeza da rede pluvial. Duas horas após a chuva ter cessado, em razão do efeito de diluição, a qualidade da água que sai da rede de abastecimento é considerada boa para o reabastecimento das residências.
- 112** O descarte clandestino de esgoto doméstico na rede pluvial favorece o processo de eutrofização dos corpos de água receptores das descargas da rede pluvial, especialmente nos meses menos chuvosos.
- 113** Tratando-se de cidade litorânea, as chuvas intensas turvam a água das praias, dificultando a penetração da luz solar e afetando as espécies marinhas.
- 114** Nesse município hipotético, a ocorrência de alagamentos simultâneos, a ausência de rede canalizada de abastecimento público de água e a precariedade do sistema de esgoto indicam desequilíbrio intrarregional na oferta de serviços coletivos.

A escassez de água para consumo, os altos índices de contaminação dos principais mananciais e os custos elevados de tratamento têm levado a uma exploração intensa, em Goiás, de fontes subterrâneas de água, em especial do aquífero Guarani — o maior sistema aquífero do mundo, com volume permanente de 45.000 km³. Um estudo feito pela UnB, em 2009, identificou pelo menos sete municípios goianos que fazem intenso uso dessas águas subterrâneas para consumo humano ou para atividades econômicas. A Secretaria Estadual do Meio Ambiente e Recursos Hídricos de Goiás (SEMARH) já concedeu mais de mil outorgas para extração de água subterrânea. Contudo, esse número crescente de autorizações tem gerado preocupação acerca da sobre-exploração das águas do aquífero.

Internet: <www.mp.go.gov.br> (com adaptações).

Na região de Araraquara, onde se encontra a maior concentração do aquífero Guarani, um levantamento estadual identificou 88 fontes potenciais de contaminação. O próximo passo será cruzar o mapa de localização dessas fontes com o de vulnerabilidade do aquífero. No município araraquarense, uma fonte potencial de contaminação é um aterro sanitário, cujo fechamento foi estabelecido mediante termo de ajustamento de conduta firmado entre a prefeitura e a promotoria do meio ambiente. Nesse aterro, o lixo é depositado em sucessivas camadas e recoberto com terra, sem um sistema efetivo de impermeabilização em sua base. Após o seu fechamento definitivo, o aterro deverá passar por um processo de remediação.

Internet: <www.jornalimparcial.com.br> (com adaptações).

A partir das informações dos textos acima, julgue os próximos itens.

- 115** A reserva de água explorável do aquífero Guarani corresponde a 45.000 km³.
- 116** No mapa de vulnerabilidade, as áreas de arenito localizadas sobre o aquífero correspondem, certamente, a pontos de vulnerabilidade.
- 117** A água extraída do aquífero nas proximidades do aterro sanitário apresenta, provavelmente, acidez acima do normal.
- 118** O emprego da fitorremediação, após o fechamento do aterro sanitário, não deve produzir qualquer efeito benéfico.
- 119** Caso ocorra a sobre-exploração das águas do aquífero, haverá rebaixamento do nível potenciométrico.
- 120** Ainda que ocorresse a sobre-exploração do aquífero Guarani nos municípios de Goiás, a qualidade da água captada nesses municípios não seria afetada pelas contaminações ocorridas na região de Araraquara em virtude da grande distância entre essas regiões.

Três municípios brasileiros que abrigam seis sítios arqueológicos reconhecidos pelo Instituto do Patrimônio Histórico e Artístico Nacional (IPHAN) são protegidos por ato do poder público, sendo a área não-edificável. Uma ossada de dinossauro foi descoberta em um sítio paleontológico de um desses municípios, reforçando a importância da preservação da região para pesquisas.

Tendo em vista o interesse público na preservação do patrimônio arqueológico, o Ministério Público Federal (MPF) requisitou aos municípios que informem a atual situação dos sítios arqueológicos e as medidas adotadas para a sua preservação.

Considere que a ação do MPF tenha sido motivada também por denúncias de que os sítios arqueológicos seriam impactados pela expansão da cultura de cana-de-açúcar irrigada. Segundo essas denúncias, os materiais fósseis localizados mais à superfície dos terrenos estariam ameaçados pelas instalações ligadas à monocultura de cana e pelo movimento de máquinas pesadas no plantio. Haveria ainda o risco de a preparação do solo para o cultivo causar o desvio do trajeto da água da chuva, com consequente processo erosivo. Além dos possíveis danos causados pelo plantio, os sítios arqueológicos seriam afetados pelos efeitos da construção, no local, de um silo de armazenagem.

Internet: <www.ecodebate.com.br> (com adaptações).

Com base na situação hipotética descrita no texto acima, julgue os itens a seguir.

- 121 Se aplicada, a multa pela construção do silo de armazenagem estaria limitada ao máximo de 10 salários mínimos.
- 122 O responsável pela infração caracterizada pela construção do silo está sujeito à pena de reclusão, além do pagamento de multa.
- 123 Caso se concretize, a erosão decorrente da preparação do solo para plantio de cana-de-açúcar levará à mudança imediata na classe de enquadramento dos corpos de água afetados.
- 124 De acordo com a legislação em vigor, as terras nas áreas em questão podem ser cultivadas até cinco metros da margem dos rios e córregos da região.
- 125 Em resposta à requisição do MPF, os municípios devem apresentar um diagnóstico detalhado quanto à localização e à vulnerabilidade dos sítios arqueológicos, já que estão obrigados por lei a assegurar a produção da informação solicitada.
- 126 A atividade econômica citada — cultura de cana-de-açúcar — enquadra-se nas situações que requerem outorga de uso de recursos hídricos.

O Parque Estadual Terra Ronca é um dos maiores sítios de cavernas da América Latina, composto também por cachoeiras e uma formação de morros, esculpidos pelos ventos e pelas águas. Está localizado nas cidades de São Domingos, Posse e Guarani de Goiás. O maior atrativo turístico do parque são, sem dúvidas, as grutas e cavernas, que atraem espeleólogos, turistas, aventureiros e curiosos para conhecer os rios de águas cristalinas, que formam lagos subterrâneos, os enormes salões internos das cavernas, ricos em minerais, e as formações rochosas, compostas por belas e expressivas estalactites e estalagmites.

A diversidade biológica do parque é enorme e, dentro das cavernas, a fauna é única. Aí são encontrados peixes da família do bagre com características morfológicas e fisiológicas próprias, como atrofia dos órgãos de visão e despigmentação. Esses peixes não são apenas curiosidades vivas de uma espécie integrante da lista oficial de fauna ameaçada de extinção e integrante do anexo I da CITES, mas representam um patrimônio genético inigualável para estudos sobre a evolução biológica das espécies. Outra surpresa oferecida pelo parque é o fato de uma espécie rara de morcego, também integrante da lista oficial de fauna ameaçada de extinção e integrante do anexo I da CITES, habitar as cavernas locais.

Internet: <www.sitecurupira.com.br> (com adaptações).

Com relação ao assunto abordado no texto e aos temas correlatos, julgue os itens que se seguem.

- 127 Considere que a espécie de morcego citada no texto deixe de figurar na lista oficial de fauna ameaçada de extinção. Nesse caso, essa espécie poderia passar do anexo I para o anexo II da CITES.
- 128 Suponha que determinado criatório da região tenha conseguido autorização para realizar a reprodução, em cativeiro, da espécie de bagre citado no texto, para fins comerciais. Nessa situação, a espécie deve continuar listada no anexo I da CITES, embora haja espécimes nascidos em cativeiro autorizado para fins comerciais.
- 129 O texto retrata uma situação de conservação *in situ* da diversidade biológica.
- 130 As ações voltadas à conservação do patrimônio espeleológico e da fauna ameaçada de extinção devem ser integradas às políticas de incentivo ao turismo.
- 131 Considere que um dos municípios da região adquira um lote de carpas trazidas do continente asiático, de coloração vistosa, visando incentivar ainda mais o turismo. Nessa situação hipotética, o prefeito tem competência legal para determinar a introdução das carpas nas lagoas do município, sem necessidade de consulta ou de autorização de órgão ambiental.

Um projeto original de assentamento de trilhos de ferrovia ameaça sítio arqueológico e importante área de mata atlântica. Se construída, a ferrovia afetará a paisagem da região, pois os trilhos serão assentados também na encosta da montanha mais importante da área, com declividade média de 50 graus no trecho afetado. A comunidade atingida pela estrada de ferro argumenta que o projeto destruirá a fauna, a flora e a beleza da paisagem, além de prejudicar as atividades econômicas, voltadas para o ecoturismo e para a agricultura.

Diante de todos esses riscos, a comunidade exige informações do órgão licenciador, na forma de estudo de impacto ambiental (EIA), para se posicionar frente ao processo de licenciamento ambiental da ferrovia, que atravessa outras unidades da federação.

Internet: <www.corredores.org.br> (com adaptações).

A respeito da situação hipotética descrita no texto acima e dos temas correlatos, julgue os itens que se seguem.

- 132** O EIA deve avaliar possibilidade de traçado alternativo para a estrada de ferro que minimize o impacto sobre o patrimônio arqueológico. Nessa análise, que é focada em aspectos socioculturais, os elementos econômicos são irrelevantes.
- 133** Em um processo de concessão de licenciamento ambiental, a ausência de menção ao patrimônio arqueológico pode motivar um pedido de esclarecimento e complementação pelo órgão ambiental competente, sempre que nenhum pedido de complementação tenha sido feito anteriormente.
- 134** O traçado original da ferrovia mencionada no texto evita as áreas de preservação permanente.
- 135** A presença do sítio arqueológico deve ser mencionada no estudo de impacto ambiental (EIA) realizado na área.

O Instituto Brasileiro do Meio Ambiente e dos Recursos Naturais Renováveis (IBAMA) e a Polícia Federal, com apoio do Instituto Chico Mendes, deflagraram operação que desmantelou uma das maiores organizações de tráfico de animais silvestres do país. Foram cumpridos diversos mandados de prisão e de busca e apreensão nos estados do Paraná, São Paulo e Santa Catarina, e também no exterior, com apoio da Interpol. No estado do Paraná, até o momento, foram apreendidos mais de mil animais nativos do Brasil e exóticos provenientes de diferentes partes do mundo, a grande maioria deles passeriformes e psitacídeos. O local de apanha ou captura dos animais é desconhecido. Multas já foram aplicadas pelo IBAMA, porém tanto os valores das multas como o número de apreensões deverão crescer, uma vez que os procedimentos referentes aos maiores depósitos ilegais ainda não foram concluídos. Em alguns dos locais de depósito utilizados pela quadrilha e estourados durante a operação, há milhares de animais em cativeiro que precisam ser identificados. Os números finais somente serão conhecidos quando o trabalho terminar. Segundo a Polícia Federal, os trabalhos tiveram como objetivo enquadrar os envolvidos em crimes previstos no Código Penal, como formação de quadrilha, receptação e lavagem de dinheiro, e na Lei de Crimes Ambientais.

Internet: <www.ibama.gov.br> (com adaptações).

Considerando as informações acima e a legislação ambiental, julgue os itens de **136** a **140**.

- 136** É permitido aos jardins zoológicos comercializar animais da fauna indígena a eles destinados após apreensão.
- 137** A identificação dos animais encontrados nos locais de depósito é necessária para a aplicação de multas.
- 138** De acordo com a legislação, qualquer animal saudável apreendido, sem lesões que possam dificultar sua sobrevivência ou adaptação à vida livre, deve ser devolvido imediatamente à natureza.

- 139** Os espécimes apreendidos e encaminhados ao depósito provisório devem ser obrigatoriamente identificados por meio de sistema de marcação.
- 140** A reprodução de espécimes mantidos em cativeiro domiciliar, como animais de estimação, deve ser incentivada para posterior soltura das crias na natureza.

Considere que uma usina hidrelétrica será construída em área rural de cerrado e que, a 9 km da futura barragem, haja uma unidade de conservação que será parcialmente alagada pelo lago da usina. Considere ainda que, tendo em vista a preservação da fauna silvestre do local, foram programadas, em meio às diversas etapas desse empreendimento, diversas ações, como o levantamento, o monitoramento e o resgate da fauna silvestre da área a ser alagada, que já constava no plano básico ambiental (PBA) aprovado no processo de licenciamento do empreendimento, e a instalação de um centro de triagem.

A partir dessas informações e do que dispõe a legislação acerca da matéria, julgue os itens subsequentes.

- 141** Uma vez que o resgate da fauna já constava no PBA aprovado no processo de licenciamento do empreendimento, a autorização de resgate é emitida antes da instalação do centro de triagem.
- 142** Do programa de resgate da fauna a ser elaborado, devem constar dados a respeito da velocidade de enchimento do reservatório e dos fragmentos de vegetação nativa submersos e remanescentes por nível de quota de enchimento, que auxiliarão na definição do número necessário de equipes de resgate e na orientação do deslocamento da fauna na execução do resgate.
- 143** Para o cálculo da compensação ambiental, os custos do programa de resgate de fauna não integram os custos totais previstos para a implantação do empreendimento.
- 144** A área de preservação permanente (APP) no entorno das margens do reservatório deve ter largura mínima de 25 m, medida a partir do nível máximo normal em projeção horizontal.
- 145** Para o referido empreendimento obter, no futuro, certificação ISO 14.000, é suficiente que cumpra a legislação ambiental.
- 146** O levantamento de fauna pode ser feito tanto na área de influência desse empreendimento quanto em áreas de características semelhantes próximas ao local de construção da usina.
- 147** No levantamento de fauna, exige-se o emprego de metodologias que atestem a completude e a representatividade do levantamento, comprovadas em documento final com dados sobre esforço e eficiência amostral e sobre estabilização da curva do coletor.
- 148** A fim de atender o que dispõe a legislação vigente acerca de monitoramento posterior, o monitoramento da fauna programado deve ser realizado dezoito meses após o início da operação do empreendimento.

Com base nos dispositivos legais, julgue os itens que se seguem, a respeito de licenciamento e delimitação de APP.

- 149** Em cada um dos projetos que compõem um conjunto de projetos contíguos de assentamento de reforma agrária em área de cerrado ricamente drenada, deve constar processo de licenciamento ambiental. Admita-se, para esses projetos, o corte de 50% das matas de galeria das margens dos rios para tornar economicamente viáveis as culturas irrigadas.
- 150** Para regularização fundiária sustentável de área urbana, a intervenção na vegetação ou a sua supressão em APP pode ser autorizada, pelo órgão ambiental competente, nas áreas ocupadas por população de baixa renda, predominantemente residenciais e incluídas no plano de regularização fundiária sustentável do município.

PROVA DISCURSIVA

- Nesta prova, faça o que se pede, usando o espaço para rascunho indicado no presente caderno. Em seguida, transcreva o texto para a **FOLHA DE TEXTO DEFINITIVO DA PROVA DISCURSIVA**, no local apropriado, pois **não serão avaliados fragmentos de texto escritos em locais indevidos**. Será desconsiderado, também, qualquer fragmento de texto além da extensão máxima de linhas disponibilizadas.
- Na **FOLHA DE TEXTO DEFINITIVO DA PROVA DISCURSIVA**, único documento que servirá de base para a avaliação da Prova Discursiva, escreva com letra legível e respeite rigorosamente as margens. No caso de erro, risque, com um traço simples, a palavra, a frase, o trecho ou o sinal gráfico e escreva em seguida o respectivo substituto. **Atenção:** parênteses não podem ser usados para tal finalidade.

Redija um texto dissertativo acerca do seguinte tema.

FENÔMENOS NATURAIS QUE PODEM SER AGRAVADOS PELA ATIVIDADE ANTRÓPICA NA BACIA HIDROGRÁFICA

No seu texto, aborde, necessariamente, os seguintes aspectos:

- ▶ os fatores naturais que contribuem para a formação das cheias;
- ▶ os agravantes de origem antrópica que contribuem para a ocorrência de inundações;
- ▶ as medidas de prevenção e controle de inundações.

RASCUNHO

1	
2	
3	
4	
5	
6	
7	
8	
9	
10	
11	
12	
13	
14	
15	
16	
17	
18	
19	
20	
21	
22	
23	
24	
25	
26	
27	
28	
29	
30	