

MINISTÉRIO PÚBLICO DA UNIÃO

NÍVEL SUPERIOR

CONCURSO PÚBLICO

CARGO

15

**ANALISTA DE ENGENHARIA
DE SEGURANÇA DO TRABALHO/
PERITO**

Provas Objetivas e Discursiva

LEIA COM ATENÇÃO AS INSTRUÇÕES ABAIXO.

- 1 Confira atentamente se os seus dados pessoais, transcritos acima, estão corretos e coincidem com o que está registrado na sua folha de respostas e na sua folha de texto definitivo da prova discursiva. Confira também o seu nome em cada página numerada deste caderno de provas.** Em seguida, verifique se ele contém a quantidade de itens indicada em sua folha de respostas, correspondentes às provas objetivas, e a prova discursiva acompanhada de espaço para rascunho. Caso o caderno esteja incompleto, tenha qualquer defeito, ou apresente divergência quanto aos dados pessoais, solicite ao fiscal de sala mais próximo que tome as providências cabíveis, pois não serão aceitas reclamações posteriores nesse sentido.
- 2 Quando autorizado pelo chefe de sala, no momento da identificação, escreva, no espaço apropriado da folha de respostas, com a sua caligrafia usual, a seguinte frase:**

Conforme previsto em edital, o descumprimento dessa instrução implicará a anulação das suas provas e a sua eliminação do concurso.
- 3 Durante a realização das provas, não se comunique com outros candidatos nem se levante sem autorização do fiscal de sala. Nesse período, também não será permitido o empréstimo de qualquer material entre candidatos, mesmo entre os que já tenham terminado as provas.**
- 4 Na duração das provas, está incluído o tempo destinado à identificação — que será feita no decorrer das provas —, ao preenchimento da folha de respostas e à transcrição do texto definitivo da prova discursiva para a folha de texto definitivo.**
- 5 Ao terminar as provas, chame o fiscal de sala mais próximo, devolva-lhe a sua folha de respostas e a sua folha de texto definitivo e deixe o local de provas.**
- 6 A desobediência a qualquer uma das determinações constantes em edital, no presente caderno, na folha de respostas ou na folha de texto definitivo da prova discursiva poderá implicar a anulação das suas provas.**

OBSERVAÇÕES

- Não serão conhecidos recursos em desacordo com o estabelecido em edital.
- Informações adicionais: telefone 0(XX) 61 3448-0100; Internet — www.cespe.unb.br.
- É permitida a reprodução deste material apenas para fins didáticos, desde que citada a fonte.

- De acordo com o comando a que cada um dos itens a seguir se refira, marque, na **folha de respostas**, para cada item: o campo designado com o código **C**, caso julgue o item **CERTO**; ou o campo designado com o código **E**, caso julgue o item **ERRADO**. A ausência de marcação ou a marcação de ambos os campos não serão apenadas, ou seja, não receberão pontuação negativa. Para as devidas marcações, use a **folha de respostas**, único documento válido para a correção das suas provas objetivas.
- Nos itens que avaliam conhecimentos de informática, a menos que seja explicitamente informado o contrário, considere que todos os programas mencionados estão em configuração-padrão, em português; e que não há restrições de proteção, de funcionamento e de uso em relação aos programas, arquivos, diretórios, recursos e equipamentos mencionados.

CONHECIMENTOS BÁSICOS

1 Inovar é recriar de modo a agregar valor e incrementar
a eficiência, a produtividade e a competitividade nos processos
gerenciais e nos produtos e serviços das organizações. Ou seja,
4 é o fermento do crescimento econômico e social de um país.
Para isso, é preciso criatividade, capacidade de inventar e
coragem para sair dos esquemas tradicionais. Inovador é o
7 indivíduo que procura respostas originais e pertinentes em
situações com as quais ele se defronta. É preciso uma atitude
de abertura para as coisas novas, pois a novidade é catastrófica
10 para os mais céticos. Pode-se dizer que o caminho da inovação
é um percurso de difícil travessia para a maioria das
instituições. Inovar significa transformar os pontos frágeis de
13 um empreendimento em uma realidade duradoura e lucrativa.
A inovação estimula a comercialização de produtos ou serviços
e também permite avanços importantes para toda a sociedade.
16 Porém, a inovação é verdadeira somente quando está
fundamentada no conhecimento. A capacidade de inovação
depende da pesquisa, da geração de conhecimento.
19 É necessário investir em pesquisa para devolver resultados
satisfatórios à sociedade. No entanto, os resultados desse tipo
de investimento não são necessariamente recursos financeiros
22 ou valores econômicos, podem ser também a qualidade de vida
com justiça social.

Luis Afonso Bermúdez. **O fermento tecnológico**. In: Darcy. Revista de jornalismo científico e cultural da Universidade de Brasília, novembro e dezembro de 2009, p. 37 (com adaptações).

Considerando a organização das ideias e estruturas linguísticas do texto, julgue os seguintes itens.

- 1 Subentende-se da argumentação do texto que o pronome demonstrativo, no trecho “desse tipo de investimento” (l.20-21), refere-se à ideia de “fermento do crescimento econômico e social de um país” (l.4).
- 2 A forma verbal “é” (l.4) está flexionada no singular porque, na oração em que ocorre, subentende-se “Inovar” (l.1) como sujeito.
- 3 Na linha 8, o segmento “as quais” remete a “situações” e, por isso, admite a substituição pelo pronome **que**; no entanto, nesse contexto, tal substituição provocaria ambiguidade.
- 4 O período sintático iniciado por “Inovar significa” (l.12) estabelece, com o período anterior, relação semântica que admite ser explicitada pela expressão **Por conseguinte**, escrevendo-se: Por conseguinte, inovar significa (...).

1 Nós, seres humanos, somos seres sociais: vivemos
nosso cotidiano em contínua imbricação com o ser de outros.
Isso, em geral, admitimos sem reservas. Ao mesmo tempo,
4 seres humanos, somos indivíduos: vivemos nosso ser cotidiano
como um contínuo devir de experiências individuais
intransferíveis. Isso admitimos como algo indubitável. Ser
7 social e ser individual parecem condições contraditórias da
existência. De fato, boa parte da história política, econômica e
cultural da humanidade, particularmente durante os últimos
10 duzentos anos no ocidente, tem a ver com esse dilema. Assim,
distintas teorias políticas e econômicas, fundadas em diferentes
ideologias do humano, enfatizam um aspecto ou outro dessa
13 dualidade, seja reclamando uma subordinação dos interesses
individuais aos interesses sociais, ou, ao contrário, afastando o
ser humano da unidade de sua experiência cotidiana. Além
16 disso, cada uma das ideologias em que se fundamentam essas
teorias políticas e econômicas constitui uma visão dos
fenômenos sociais e individuais que pretende firmar-se em uma
19 descrição verdadeira da natureza biológica, psicológica ou
espiritual do humano.

Humberto Maturana. **Biologia do fenômeno social: a ontologia da realidade**. Miriam Graciano (Trad.). Belo Horizonte: UFMG, 2002, p. 195 (com adaptações).

A respeito da organização das estruturas linguísticas e das ideias do texto, julgue os itens a seguir.

- 5 Depreende-se do texto que as “condições contraditórias” mencionadas na linha 7 decorrem da dificuldade que o ser humano tem em admitir que suas experiências são intransferíveis porque surgem de “um contínuo devir” (l.5).
- 6 Nas relações de coesão do texto, as expressões “esse dilema” (l.10) e “dessa dualidade” (l.12-13) remetem à condição do ser humano: unitário em “sua experiência cotidiana” (l.15), mas imbricado “com o ser de outros” (l.2).
- 7 Na linha 16, na concordância com “cada uma das ideologias”, a flexão de plural em “fundamentam” reforça a ideia de pluralidade de “ideologias”; mas estaria gramaticalmente correto e textualmente coerente enfatizar “cada uma”, empregando-se o referido verbo no singular.
- 8 A inserção de termo **como** antes de “seres humanos” (l.4) preservaria a coerência entre os argumentos bem como a correção gramatical do texto.
- 9 Na linha 4, o sinal de dois-pontos tem a função de introduzir uma explicação para as orações anteriores; por isso, em seu lugar, poderia ser escrito **porque**, sem prejuízo para a correção gramatical do texto ou para sua coerência.

1 As diferenças de classes vão ser estabelecidas em dois
níveis polares: classe privilegiada e classe não privilegiada.
Nessa dicotomia, um leitor crítico vai perceber que se trata de
4 um corte epistemológico, na medida em que fica óbvio que
classificar por extremos não reflete a complexidade de classes
da sociedade brasileira, apesar de indicar os picos. Em cada um
7 dos polos, outras diferenças se fazem presentes, mas
preferimos alçar a dicotomia maior que tanto habita o mundo
das estatísticas quanto, e principalmente, o mundo do
10 imaginário social. Estudos a respeito de riqueza e pobreza ora
dão quitação a classes pela forma quantitativa da ordem do
ganho econômico, ora pelo grau de consumo na sociedade
13 capitalista, ora pela forma de apresentação em vestuário, ora
pela violência de quem não tem mais nada a perder e assim por
diante. O imaginário, em sua organização dinâmica e com sua
16 capacidade de produzir imagens simbólicas e estereótipos,
maneja representações que possibilitam pôr ordem no caos.
O imaginário, acionado pela imaginação individual, é
19 pluriespacial e, na interação social, constrói a memória, a
história museológica. Mesmo que possamos pensar que
estereótipos são resultado de matrizes, a cultura é dinâmica,
22 porquanto símbolos e estereótipos são olhados e
ressignificados em determinado instante social.

Dina Maria Martins Ferreira. *Não pense, veja*. São Paulo: Fapesp&Annablume, p. 62 (com adaptações).

Com base na organização das ideias e nos aspectos gramaticais do texto acima, julgue os itens que se seguem.

- 10 Na linha 11, a ausência de sinal indicativo de crase no segmento “a classes” indica que foi empregada apenas a preposição **a**, exigida pelo verbo **dar**, sem haver emprego do artigo feminino.
- 11 Preservam-se as relações argumentativas do texto bem como sua correção gramatical, caso se inicie o último período por **Ainda**, em lugar de “Mesmo” (l.20).
- 12 De acordo com a argumentação do texto, a diferenciação das classes em “dois níveis polares” (l.1-2), como dois extremos, não atende à complexidade de classes da sociedade brasileira, mas é comum ao “mundo das estatísticas” (l.8-9) e ao “mundo do imaginário social” (l.9-10).
- 13 O uso da forma verbal “se trata” (l.3), no singular, atende às regras de concordância com o termo “um corte epistemológico” (l.4) e seriam mantidas a coerência entre os argumentos e a correção gramatical do texto se fosse usado o termo no plural, **cortes epistemológicos**, desde que o verbo fosse flexionado no plural: **se tratam**.
- 14 Na linha 4, para se evitar a repetição de “que”, seria adequado substituir o trecho “que classificar” (l.4-5) por **ao classificar**, preservando-se tanto a coerência textual quanto a correção gramatical do texto.
- 15 Subentende-se da argumentação do texto que “os picos” (l.6) correspondem aos mais salientes indicadores de classes — a privilegiada e a não privilegiada —, referidos no texto também como “extremos” (l.5) e “polos” (l.7).

1 A característica central da modernidade, não seria
demais repetir, é a institucionalização do universalismo — e
seu duplo, a igualdade — como princípio organizador da esfera
4 pública. Com base nesse pressuposto, argumento que, em nossa
sociedade, na esfera pública, duas formas de particularismo —
o das diferenças e o das relações pessoais — se reforçam e se
7 articulam em diversas arenas e situações, na produção e
reprodução de desigualdades sociais e simbólicas.
O particularismo das diferenças produz exclusão social e
10 simbólica, dificultando os sentimentos de pertencimento e
interdependência social, necessários para a efetiva
institucionalização do universalismo na esfera pública.
13 O particularismo das relações pessoais atravessa os novos
arranjos institucionais que vêm sendo propostos como
mecanismos de construção de novas formas de sociabilidade e
16 ação coletiva na esfera pública. Finalmente, considero que,
embora a formação de novos sujeitos sociais e políticos e de
arenas de participação da sociedade na formulação e gestão das
19 políticas públicas traga as marcas de nossa trajetória histórica,
constitui, ao mesmo tempo, possibilidade aberta para outra
equação entre universalismo e particularismo na sociedade
22 brasileira.

Jeni Vaitsman. *Desigualdades sociais e particularismos na sociedade brasileira*. In: *Cadernos de Saúde Pública*, Rio de Janeiro, n.º 18 (Suplemento), p. 38 (com adaptações).

Julgue os seguintes itens, a respeito dos sentidos e da organização do texto acima.

- 16 Na linha 19, é obrigatório o uso do verbo **trazer** no modo subjuntivo — “traga” — porque essa forma verbal integra uma oração iniciada pelo vocábulo “embora” (l.17).
- 17 A coerência entre os argumentos apresentados no texto mostra que o pronome “seu” (l.3) refere-se a “universalismo” (l.2).
- 18 De acordo com as normas de pontuação, seria correto empregar, nas linhas 2 e 3, vírgulas no lugar dos travessões; entretanto, nesse caso, a leitura e a compreensão do trecho poderiam ser prejudicadas, dada a existência da vírgula empregada após “duplo”, no interior do trecho destacado entre travessões.
- 19 Na estrutura sintática em que ocorre, a preposição “em” (l.7) poderia ser omitida, o que não prejudicaria a coerência nem a correção gramatical do texto, pois a preposição ficaria subentendida.
- 20 As relações entre as ideias do texto mostram que a forma verbal “dificultando” (l.10) está ligada a “diferenças” (l.9); por isso, seriam respeitadas as relações entre os argumentos dessa estrutura, como também a correção gramatical, caso se tornasse explícita essa relação, por meio da substituição dessa forma verbal por **e dificultam**.
- 21 Por meio da conjunção “e”, empregada duas vezes na linha 17 e uma vez na linha 18, é estabelecida a seguinte organização de ideias: a primeira ocorrência liga duas características de “novos sujeitos” (l.17); a segunda liga dois complementos de “formação” (l.17); a terceira, dois complementos de “arenas de participação da sociedade” (l.18).

1 Hipermodernidade é o termo usado para denominar a
 realidade contemporânea, caracterizada pela cultura do
 excesso, do acréscimo sempre quantitativo de bens materiais,
 4 de coisas consumíveis e descartáveis. Dentro desse contexto,
 todas as interações humanas, marcadas pela doença crônica da
 falta de tempo disponível e da ausência de autêntica integração
 7 existencial, se tornam intensas e urgentes. O movimento da
 vida passa a ser uma efervescência constante e as mudanças a
 ocorrer em ritmo quase esquizofrênico, determinando os
 10 valores fugidios de uma ordem temporal marcada pela
 efemeridade. Como tentativas de acompanhar essa velocidade
 vertiginosa que marca o processo de constituição da sociedade
 13 hipermoderna, surge a flexibilidade do mundo do trabalho e a
 fluidez das relações interpessoais. O indivíduo da “cultura”
 tecnicista vivencia uma situação paradoxal: ao mesmo tempo
 16 em que lhe são ofertados continuamente os recursos para
 que possa gozar efetivamente as dádivas materiais da vida,
 ocorre, no entanto, a impossibilidade de se desfrutar
 19 plenamente desses recursos.

Renato Nunes Bittencourt. *Consumo para o vazio existencial*.
 In: *Filosofia*, ano V, n. 48, p. 46-8 (com adaptações).

Julgue os itens a seguir, com relação às ideias e aspectos linguísticos do texto.

- 22 A ausência de vírgula depois de “vertiginosa” (ℓ.12) indica que a oração iniciada por “que marca” (ℓ.12) restringe a ideia de “velocidade vertiginosa” (ℓ.11-12).
- 23 A forma verbal “surge” (ℓ.13) está flexionada no singular porque estabelece relação de concordância com o conjunto das ideias que compõem a oração anterior.
- 24 O uso da preposição “em”, na linha 16, é obrigatório para marcar a relação estabelecida com a forma verbal “vivencia” (ℓ.15); por isso, a omissão dessa preposição provocaria erro gramatical e impossibilitaria a retomada do referente do pronome “que” (ℓ.16).
- 25 Entende-se da leitura do texto que a “realidade contemporânea” (ℓ.2) caracteriza-se pela velocidade vertiginosa e pelo acúmulo de bens materiais, assim como pela ausência de integração existencial e falta de tempo para usufruir “as dádivas materiais da vida” (ℓ.17).

Considerando a organização, a estrutura e os princípios que orientam as atribuições do Ministério Público da União (MPU), julgue os itens a seguir.

- 26 As funções eleitorais do Ministério Público Federal perante os juízes e juntas eleitorais serão exercidas pelo promotor eleitoral.
- 27 O princípio do promotor natural decorre da independência funcional e da garantia da inamovibilidade dos membros da instituição.

Com relação aos procuradores-gerais, julgue os próximos itens.

- 28 Cabe ao procurador-geral da República, como chefe do Ministério Público Federal, decidir, em grau de recurso, conflitos de atribuições entre órgãos componentes da estrutura do Ministério Público Federal.
- 29 O presidente da República, no uso de suas atribuições de chefe de Estado, nomeia o procurador-geral de justiça nos estados, o procurador-geral militar e o procurador-geral do trabalho.
- 30 A destituição do procurador-geral de justiça do Distrito Federal e territórios exige a deliberação da maioria absoluta dos membros da Câmara Legislativa do Distrito Federal.

A respeito das funções do MPU e das garantias de seus membros, julgue os itens que se seguem.

- 31 Compete ao colégio de procuradores da República elaborar, mediante votação obrigatória, lista triplíce para a composição de todos os tribunais superiores.
- 32 A promoção de membros do MPU ocorre por antiguidade ou merecimento, independentemente de solicitação, interesse público ou autorização do órgão colegiado.

A respeito dos princípios fundamentais, da aplicabilidade das normas constitucionais e dos direitos sociais, julgue os itens a seguir.

- 33 Sendo os direitos fundamentais válidos tanto para as pessoas físicas quanto para as jurídicas, não há, na Constituição Federal de 1988 (CF), exemplo de garantia desses direitos que se destine exclusivamente às pessoas físicas.
- 34 A dignidade da pessoa humana, um dos fundamentos da República Federativa do Brasil, apresenta-se como direito de proteção individual em relação ao Estado e aos demais indivíduos e como dever fundamental de tratamento igualitário dos próprios semelhantes.
- 35 O livre exercício de qualquer trabalho, ofício ou profissão, desde que atendidas as qualificações profissionais que a lei estabelecer, é norma constitucional de eficácia contida; portanto, o legislador ordinário atua para tornar exercitável o direito nela previsto.

No que se refere à organização político-administrativa do Estado e às atribuições e responsabilidades do presidente da República, julgue os itens subsequentes.

- 36 A CF autoriza o presidente da República a delegar ao advogado-geral da União o envio de mensagem e de plano de governo ao Congresso Nacional por ocasião da abertura da sessão legislativa.
- 37 Uma vez que, no Estado federal, há mais de uma ordem jurídica incidente sobre o mesmo território e sobre as mesmas pessoas, a repartição de competências entre os entes federativos, prevista pela CF, favorece a eficácia da ação estatal, evitando conflitos e desperdício de esforços e recursos.

Julgue os itens a seguir, referentes ao Poder Judiciário e às funções essenciais à justiça.

- 38 A CF assegura autonomia funcional, administrativa e financeira às defensorias públicas estaduais, por meio das quais o Estado cumpre o seu dever constitucional de garantir às pessoas desprovidas de recursos financeiros o acesso à justiça.
- 39 De acordo com a CF, compete aos juízes federais processar e julgar os crimes políticos e as infrações penais praticadas em detrimento de bens, serviços ou interesse da União ou de suas entidades autárquicas ou empresas públicas, excluídas as contravenções e ressalvadas as competências da justiça militar e da justiça eleitoral.

Com relação aos poderes, atos e contratos administrativos, julgue os itens a seguir.

- 40 A competência constitui elemento ou requisito do ato administrativo vinculado, cabendo, entretanto, ao próprio órgão público estabelecer as suas atribuições.
- 41 As prerrogativas do regime jurídico administrativo conferem poderes à administração, colocada em posição de supremacia sobre o particular; já as sujeições servem de limites à atuação administrativa, como garantia do respeito às finalidades públicas e também dos direitos do cidadão.
- 42 A legalidade dos atos administrativos vinculados e discricionários está sujeita à apreciação judicial.

A respeito da Lei n.º 8.666/1993, julgue os itens que se seguem.

- 43 Toda prorrogação de contrato deve ser previamente justificada pela autoridade detentora da atribuição legal específica; portanto, é nula toda cláusula contratual que disser ser a avença automaticamente prorrogável.
- 44 Os órgãos da administração direta, os fundos especiais, as autarquias, as fundações públicas, as empresas públicas, as sociedades de economia mista e as demais entidades controladas direta ou indiretamente pela União, pelos estados, pelo Distrito Federal e pelos municípios estão subordinados ao regime dessa lei.
- 45 Todos os valores, preços e custos utilizados nas licitações têm como expressão monetária a moeda corrente nacional, ressalvadas as concorrências de âmbito internacional, para as quais o edital deve ajustar-se às diretrizes da política monetária e do comércio exterior e atender às exigências dos órgãos competentes.


Julgue o seguinte item, acerca dos agentes públicos.

- 46 A vacância do cargo público decorre de: exoneração, demissão, promoção, ascensão, transferência, readaptação, aposentadoria, posse em outro cargo inacumulável e falecimento.


	A	B	C	D	E	F
1	N.º Processo	Estado	Valor			
2	23456	SP	R\$ 3.929.100,00			
3	45321	DF	R\$ 634.321,00			
4	98765	SP	R\$ 498.120,00			
5	76222	DF	R\$ 23.400,00			
6	13450	RJ	R\$ 987.600,00			
7	43210	MG	R\$ 876.000,00			
8	Total					
9	Média					
10						
11						



A figura acima ilustra uma planilha em edição no Microsoft Excel 2007 (MSEcel 2007), que apresenta valores hipotéticos de seis processos. Nessa planilha, o total e a média aritmética dos valores dos seis processos serão inseridos nas células C8 e C9, respectivamente. Com base nessas informações, julgue os itens subsequentes.

- 47 Ao serem selecionados os cabeçalhos apresentados na primeira

linha da planilha em edição e se clicar a ferramenta , os cabeçalhos serão automaticamente centralizados tanto horizontal quanto verticalmente.

- 48 Para formatar a fonte dos valores abaixo de R\$ 500.000,00 com a cor vermelha e a dos valores acima de R\$ 500.000,00 com a cor azul, é suficiente selecionar a coluna, clicar o *menu* Fórmulas, digitar =SE(C2<500000;"vermelho";"azul") e arrastar tudo, copiando a fórmula para as demais células dessa coluna.


- 49 Para classificar os processos do menor valor para o maior, é suficiente selecionar as células de C2 até C7; clicar a ferramenta ; selecionar a opção Classificar do Menor para o Maior e, em seguida, clicar o botão Classificar.

- 50 Para se obter o valor total desses processos, é suficiente clicar a célula C8; pressionar a ferramenta  e, em seguida, pressionar a tecla .

- 51 O valor da média aritmética dos seis processos pode ser obtido com o seguinte procedimento: clicar a célula C9 e, em seguida, digitar a fórmula =MÉDIA(C2;C7).






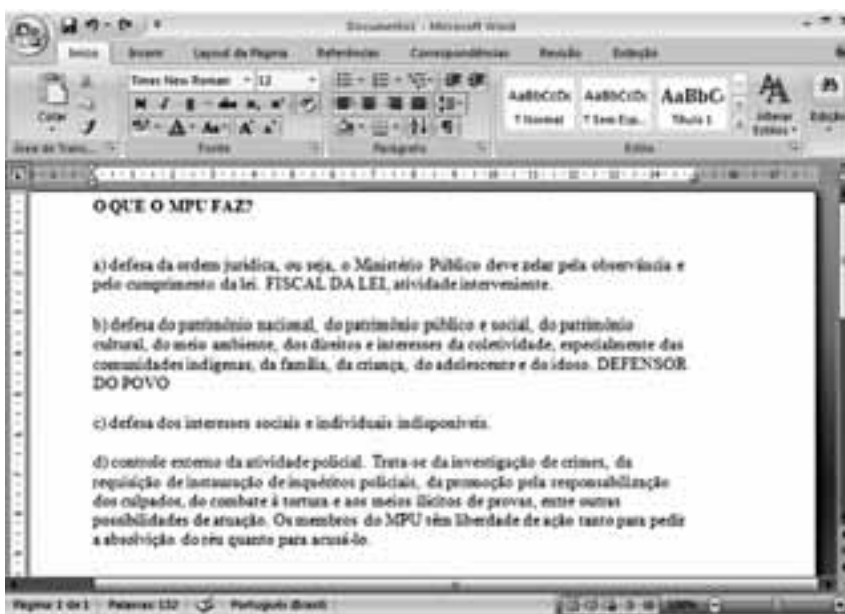
A figura acima mostra uma janela do IE 8.0 aberta em um computador com o Windows XP e conectado à Internet. Com base nessa figura, julgue os itens que se seguem, acerca da utilização de tecnologias, ferramentas, aplicativos e procedimentos associados à Internet.

- 52 A mensagem de alerta exibida na figura, introduzida pelo símbolo , refere-se ao complemento MSXML 5.0 e solicita permissão do usuário para que esse complemento seja instalado no computador. Existem, no entanto, complementos que podem ser instalados sem o conhecimento do usuário, quando, por exemplo, for parte de outro programa instalado anteriormente.
- 53 Antes de permitir a execução do complemento MSXML 5.0, recomenda-se que o usuário clique a opção **Segurança** e, em seguida, clique Ativar Filtragem InPrivate para executar o antivírus do IE 8.0.
- 54 Ao se clicar a opção **Página** e, em seguida, a opção Zoom, serão exibidas opções que permitem ampliar ou reduzir a exibição da página da Web mostrada na figura.
- 55 Ao se digitar uma palavra na caixa de pesquisa , e, em seguida, pressionar e manter pressionada a tecla **Alt** e, na sequência, pressionar a tecla **Enter**, serão exibidos, em nova guia, os resultados da pesquisa realizada em todos os sítios da Web em que essa palavra foi encontrada.
- 56 Ao se clicar o botão **Favoritos**, será apresentada a opção Adicionar a Favoritos... Esta, por sua vez, ao ser clicada, permite adicionar o endereço www.mpu.gov.br na lista de favoritos.

Com base na figura ao lado, que apresenta um texto em edição no Microsoft Word 2007 (MSWord 2007), julgue os próximos itens, relativos à edição de textos e planilhas.



- 57 Ao se clicar o botão , são apresentadas opções que permitem alterar o *design* geral do documento, incluindo-se cores, fontes, efeitos e o plano de fundo da página.
- 58 Considerando-se que os itens dos parágrafos foram autoformatados pelo MSWord 2007, é possível substituir as letras correspondentes à ordenação por numerais romanos com a utilização da ferramenta .
- 59 Considere que o último parágrafo do texto mostrado na figura seja copiado do MSWord 2007 para uma célula de uma planilha do Microsoft Excel 2007. Nesse caso, é possível tornar todo o conteúdo visível nessa célula, com exibição em várias linhas, formatando-a com a opção Quebrar Texto Automaticamente.
- 60 O texto em edição pode ser afastado para a direita usando-se a régua ou a ferramenta .



CONHECIMENTOS ESPECÍFICOS

Dois casos de leptospirose foram registrados em Alagoas, após a ocorrência de fortes chuvas que atingiram o estado nos últimos dias. A doença, comum em situações de enchente, também afetou Pernambuco, onde foram registrados dezesseis casos suspeitos desde a enxurrada. Para evitar esse e outros problemas enfrentados por moradores de áreas atingidas, como diarreias, hepatite A e picadas de animais peçonhentos, as secretarias estaduais de saúde, em parceria com as prefeituras, têm realizado ações preventivas. Técnicos da vigilância epidemiológica e de saúde estão visitando cada um dos municípios atingidos pela chuva e visitando abrigos para detectar precocemente sinais de sintomas de doenças. Eles orientam a população sobre medidas de higiene e ensinam como lavar e cozinhar os alimentos. Além disso, há distribuição de hipoclorito de sódio para uso na água.

Alagoas e Pernambuco têm ações para prevenir doenças causadas por enchentes. Internet: <g1.globo.com> (com adaptações).

Tendo como referência o texto acima e com base nas normas regulamentadoras (NR) do Ministério do Trabalho e Emprego (MTE), julgue os itens a seguir.

- 61 Consideram-se insalubres as atividades desenvolvidas em ambiente de enchentes, em razão da umidade excessiva e do risco de danos à saúde dos trabalhadores, devendo a condição de insalubridade constar em laudo de inspeção feito no local de trabalho.
- 62 O agente etiológico causador da leptospirose é classificado como agente químico.
- 63 O hipoclorito de sódio, classificado como agente biológico ativo, é considerado bastante eficiente na desinfecção de águas para o consumo humano.
- 64 Considere que um membro da defesa civil, durante o resgate de criança vítima de enchente, caia em um bueiro sem proteção e sofra escoriações. Nessa situação, fica evidenciado o risco ambiental classificado como agente físico.

Considerando a realização, por equipe de segurança do trabalho, de inspeção na cozinha, na oficina de manutenção, no arquivo e na garagem de determinada empresa, para a avaliação das condições ambientais de segurança e a exposição dos trabalhadores a agentes agressivos, potenciais causadores de acidentes, julgue os itens que se seguem.

- 65 Suponha que, no arquivo geral, tenha sido constatada a existência de mofo nas paredes, em decorrência da baixa circulação de ar e do excesso de umidade. Nessa situação, a equipe de segurança deve atestar, no laudo de inspeção, a presença de risco químico e biológico.
- 66 Suponha que, durante a inspeção, tenha sido constatada a exposição rotineira dos empregados que trabalham na garagem ao monóxido de carbono, principal produto liberado dos veículos. Nessa situação, a equipe de segurança deve atestar, no laudo de inspeção, grau médio de insalubridade.
- 67 Suponha que, na cozinha dessa empresa, os trabalhadores executem, sem a proteção adequada, tarefas no interior de um frigorífico cuja temperatura seja mantida em torno de -15°C . Nessa situação, de acordo com a legislação, tal atividade não deve ser considerada insalubre, visto que a temperatura do frigorífico está dentro dos limites avaliados como toleráveis ao organismo humano.
- 68 As radiações geradas durante o processo de soldagem elétrica, no setor de manutenção eletromecânica, devem ser classificadas, pela equipe de inspeção, como radiações ionizantes.

No mês de junho, uma empresa de manutenção predial designou uma equipe para proceder à limpeza de um prédio recém-construído. Para a limpeza da fachada desse prédio, foi utilizada uma grua motorizada, operada por dois empregados. Durante manobra para deslocamento horizontal, o equipamento atingiu uma janela no décimo pavimento e quebrou a vidraça. Dois membros da equipe que limpavam o interior do prédio, nesse andar, sofreram cortes no rosto e no braço causados por estilhaços de vidro, tendo ficado afastados do trabalho durante catorze dias. Um dos operadores da grua sofreu escoriações na perna direita e ficou afastado de suas atividades normais do dia 12 ao dia 25 do mês de junho. Adicionalmente a esses acidentes, a mesma empresa registrou em relação a um total de 100.000 horas-homem de exposição ao risco, durante o mês de junho, oito acidentes que não implicaram afastamento de empregados.

Com base na situação hipotética acima, nas NRs, na NBR n.º 14.280/ABNT, que trata de cadastro de acidentes do trabalho, e na legislação previdenciária, julgue os itens que se seguem.

- 69 Caso houvesse dias debitados, estes deveriam ser somados aos dias de afastamento para efeito estatístico.
- 70 Os empregados acidentados com os estilhaços de vidro devem receber auxílio-acidente pago pela previdência social.
- 71 Os dias de afastamento do operador da grua devem ser pagos pela própria empresa, visto que somam menos de 16 dias.
- 72 Pelas informações apresentadas, conclui-se que apenas dois empregados acidentados ficaram com incapacidade temporária total.
- 73 Caso haja, no estado de saúde do operador da grua acidentado, complicações que resultem sequelas que impliquem redução da sua capacidade para o trabalho habitual, o trabalhador terá direito ao recebimento de auxílio-doença.
- 74 Nessa empresa, a taxa de frequência dos acidentes que não implicaram afastamento de empregados é maior que 75.
- 75 Na empresa, a taxa de gravidade dos acidentes é menor que 470.
- 76 A causa do acidente ocorrido com os empregados no interior da edificação deve ser atribuída à grua.

RASCUNHO

Com relação ao controle da poluição ambiental nas indústrias, julgue os itens que se seguem.

- 77 Em ambientes com geração de aerodispersóides carcinogênicos, prioriza-se o uso de ventilação geral diluidora.
- 78 A captura do material particulado com filtro de tecido cujo meio filtrante tem formato de manga é utilizada como instrumento de controle de riscos ambientais.
- 79 Exaustor com sistema captor do tipo cabine é considerado, em processo de pintura, equipamento de proteção coletiva (EPC).
- 80 Os objetivos de um adequado sistema de ventilação industrial incluem a minimização dos riscos ocupacionais relacionados a poluentes, a diminuição do impacto ambiental causado às comunidades vizinhas à unidade e a redução do risco de multas aplicadas bem como dos custos para a mitigação de impactos ambientais.

De acordo com dados fornecidos pelo Corpo de Bombeiros Militar do Distrito Federal, dezessete ocorrências de incêndios florestais foram registradas apenas no começo de junho. Os motivos, de acordo com um tenente-coronel da corporação, são as ações da própria população, sendo os maiores causadores de incêndio as pessoas que jogam pontas de cigarro acesas no mato seco, limpam terrenos e destroem entulhos com queimadas. Além desses motivos, também podem ocorrer incêndios causados por fogueiras, balões e fogos de artifícios.

Internet: <www.correiobraziliense.com.br> (com adaptações).

Considerando o texto acima e com base nas NR do MTE e na legislação acerca da prevenção e combate a incêndios, julgue os próximos itens.

- 81 Corresponde à classe A o incêndio provocado por ponta de cigarro acesa sobre folhas secas.
- 82 O comburente dos incêndios pode originar-se da estrutura molecular de pólvora de fogos de artifícios.
- 83 Dados os elementos essenciais do fogo, considera-se a fogueira das festas juninas fonte de calor.
- 84 Considere que um balão de festa junina tenha provocado incêndio em uma mata e, momentos depois, uma forte chuva caiu na região, extinguindo o fogo. Nessa situação, é correto concluir que o incêndio foi debelado pelo método do abafamento.
- 85 Um princípio de incêndio provocado por ponta de cigarro acesa pode ser adequadamente combatido com extintor de espuma.
- 86 Os aerodispersóides gerados nos incêndios florestais são classificados como agentes químicos.
- 87 Hidrantes de coluna instalados em reservas florestais próximas a áreas urbanas devem ter, em cumprimento à NR n.º 26, cor amarela.
- 88 Caso um balão em chamas caia sobre folhas secas, estas se sujeitam ao fenômeno denominado pirólise.

Tabela I - Registros relacionados à exposição de um grupo de empregados, durante uma jornada de trabalho de oito horas, a ruído de diferentes níveis, medidos com utilização de medidor de pressão sonora.

registros	nível medido [em dB (A)]	tempo real de exposição diária [em hora]
1	83	1,0
2	87	2,5
3	90	2,0
4	93	1,5
5	95	1,5

Tabela II-Anexo da NR 15

nível de ruído dB (A)	máxima exposição diária permissível
85	8 horas
86	7 horas
87	6 horas
88	5 horas
89	4 horas e 30 minutos
90	4 horas
91	3 horas e 30 minutos
92	3 horas
93	2 horas e 40 minutos
94	2 horas e 15 minutos
95	2 horas
96	1 hora e 45 minutos
98	1 hora e 15 minutos
100	1 hora
102	45 minutos
104	35 minutos
105	30 minutos
106	25 minutos
108	20 minutos
110	15 minutos
112	10 minutos
114	8 minutos
115	7 minutos

Considerando os dados apresentados nas tabelas I e II acima, julgue os itens seguintes.

- 89 Se o nível de ruído relativo ao registro 3 da tabela I fosse duplicado, a medição desse nível de ruído seria equivalente à do nível de ruído correspondente ao registro 4.
- 90 Analisando-se os dados da tabela I, com base na tabela II, conclui-se que a exposição do referido grupo de empregados a ruídos de diferentes níveis está acima do limite de tolerância previsto na NR 15.

RASCUNHO

Julgue os próximos itens, relativos à exposição humana a ruídos.

- 91 Não há, nas normas legais que estabelecem os limites de tolerância humana a ruídos, referência aos limites permitidos para a exposição humana ao infrassom ou ultrassom.
- 92 De acordo com norma regulamentadora do MTE, a exposição a ruído de 110 dB (A) não é permitida a indivíduos que não estejam adequadamente protegidos.

A respeito do equipamento de proteção individual (EPI), com base na legislação de segurança e higiene do trabalho, julgue os itens seguintes.

- 93 Em empresa que haja Serviço Especializado em Engenharia de Segurança e em Medicina do Trabalho (SESMT) e Comissão Interna de Prevenção de Acidentes (CIPA), caberá à CIPA recomendar ao empregador o EPI adequado ao risco existente em determinada atividade.
- 94 Recomenda-se ao electricista o uso de botina com biqueira de aço para o trabalho com manutenção de linha viva energizada.
- 95 Classifica-se como EPI o creme protetor de segurança que os trabalhadores usam nos membros superiores, contra agentes químicos.
- 96 Um EPI pode ser composto de vários dispositivos para a proteção do trabalhador contra um ou mais riscos que ameacem a sua segurança e a sua saúde no trabalho.
- 97 Cabe ao empregador fornecer EPI ao empregado e a este cabe decidir usar, ou não, o equipamento, de acordo com o risco da atividade.
- 98 Está dispensado de usar óculos de segurança o trabalhador que use óculos de grau e trabalhe em área de risco de partículas volantes.

Considerando que, em uma oficina, trabalham dez mecânicos de automóveis com idade entre 18 e 40 anos, os quais não apresentam doenças crônicas, julgue os itens a seguir, acerca de medicina do trabalho e ergonomia.

- 99 Existem evidências de que os trabalhadores em questão têm maior risco de desenvolverem linfomas não-Hodgkin que a população geral.
- 100 Para o posto de trabalho de um mecânico em que velocidade e precisão da tarefa são consideradas importantes e que utiliza uma bancada com refletância de 50%, a iluminância adequada é de 500 lux.
- 101 Um mecânico exposto a ruído contínuo de 87 dB (A) deverá cumprir jornada de trabalho inferior a sete horas diárias, em face do risco de desenvolver perda auditiva induzida por ruído (PAIR) de origem ocupacional.
- 102 No setor de pintura da referida oficina, a substituição de um solvente por outro de maior pressão de vapor é medida de controle adequada para a proteção dos trabalhadores.
- 103 O Programa de Controle Médico de Saúde Ocupacional (PCMSO) dos trabalhadores da oficina em questão terá periodicidade de dois anos.

A respeito de ergonomia, julgue os próximos itens.

- 104 Em ergonomia, o trabalho real, ou atividade, consiste na maneira como o indivíduo mobiliza suas capacidades para atingir objetivos de produção.
- 105 A ergonomia de mudança é aquela que visa à correção de inadequações ergonômicas existentes nos meios e processos de trabalho.
- 106 Carga mental de trabalho, tomada de decisão e desempenho especializado são tópicos do domínio de especialização da ergonomia organizacional.
- 107 Em situações de trabalho estático, o músculo produz maior força no final do movimento de contração para manter a postura.
- 108 Em um posto de trabalho, a zona de alcance ótima é definida girando os braços estendidos em torno dos ombros, formando arcos que variam de 60 cm a 70 cm.

Considerando as prescrições da NR n.º 17, do MTE, julgue os itens que se seguem.

- 109 Nas atividades de processamento eletrônico de dados, o tempo efetivo de trabalho de entrada de dados não deve exceder o limite máximo de cinco horas, sendo que, no período de tempo restante da jornada, o trabalhador poderá exercer outras atividades, desde que não exijam movimentos repetitivos nem esforço visual.
- 110 A pesagem de mercadorias pelo operador de *checkout* só poderá ocorrer se a balança se localizar frontal ou lateralmente ao operador, se estiver nivelada com a máquina registradora e se o teclado para digitação estiver localizado a uma distância máxima de 30 cm da borda interna do *checkout*.
- 111 No posto de trabalho em teleatendimento, o teclado somente poderá ficar na mesma superfície regulável do monitor de vídeo se este for dotado de regulagem independente de, no mínimo, 26 cm no plano vertical.
- 112 Todo trabalhador designado para o transporte manual regular de cargas, exceto as leves, deve receber treinamento ou instruções específicos quanto aos métodos de trabalho que deverá utilizar para salvaguardar sua saúde e prevenir acidentes.

Acerca das doenças ocupacionais, julgue os itens subsequentes.

- 113 Anemia, hipertieroidismo, polineuropatia, encefalopatia e gota são alguns dos efeitos sobre a saúde relacionados à exposição ao chumbo ou seus compostos.
- 114 A PAIR apresenta evolução lenta e progressiva, usualmente é bilateral e se caracteriza por ser irreversível.
- 115 A doença desencadeada pelo exercício do trabalho específico de determinada atividade pode ser equiparada ao acidente do trabalho, desde que conste de relação elaborada pelo MTE e Ministério da Previdência Social.
- 116 A exposição ocupacional à sílica está associada ao desenvolvimento de neoplasia maligna de brônquios, de *cor pulmonale* e de doenças pulmonares obstrutivas crônicas, entre outros.
- 117 A asbestose, por ser doença profissional dose-dependente dos níveis de concentração de fibras de asbesto no ar, é classificada no grupo II da classificação de Schilling.

Um engenheiro de segurança foi chamado após grave acidente em uma fábrica. Ao chegar ao local, encontra uma vítima inconsciente e que apresenta fratura exposta em fêmur direito. Após alguns minutos, a vítima recobra a consciência, mostra-se desorientada e permanece com os olhos fechados, porém conversando. Ao comando verbal, no entanto, abre os olhos e move os braços.

Com base nessa situação hipotética, julgue os itens a seguir, acerca de primeiros socorros.

- 118 Pela escala de coma de Glasgow, a vítima sofreu traumatismo cranioencefálico leve.
- 119 Ao chegar ao local, a primeira providência que o engenheiro deve tomar é proteger a coxa direita da vítima.
- 120 Para diminuir o risco de infecção, o engenheiro deverá lavar exaustivamente a lesão na coxa direita da vítima com água limpa corrente.

O objetivo da CIPA é a prevenção de acidentes e doenças decorrentes do trabalho, a fim de torná-lo permanentemente compatível com a preservação da vida e a promoção da saúde do trabalhador. Com relação ao funcionamento, à estrutura e ao processo eleitoral da CIPA, julgue os itens de 121 a 128.

- 121 Ao faltar a mais de seis reuniões ordinárias sem justificativa, o membro titular perde o mandato e é substituído por um suplente.
- 122 No caso de afastamento definitivo do presidente, o empregador indica o substituto, preferencialmente entre os membros da comissão, em dez dias úteis.
- 123 As reuniões ordinárias são semestrais, de acordo com calendário preestabelecido.

- 124 As reuniões ordinárias são realizadas em local apropriado e durante o expediente normal da empresa.
- 125 Nos estabelecimentos onde não há CIPA, a comissão eleitoral é constituída pela empresa.
- 126 Participação inferior a 50% dos empregados na votação dispensa a apuração dos votos, cabendo à comissão eleitoral organizar nova votação, a ser realizada no prazo máximo de dez dias.
- 127 O presidente e o vice-presidente da comissão são designados entre os representantes dos empregadores.
- 128 A duração do mandato dos membros eleitos é de dois anos, vedada a reeleição.

Acerca dos procedimentos de registro profissional no MTE para o exercício da profissão de Técnico de Segurança do Trabalho, julgue o item seguinte.

- 129 O registro profissional será efetivado pelo setor de identificação e registro profissional das unidades descentralizadas do MTE, mediante requerimento do interessado, que poder ser encaminhado pelo sindicato da categoria.

Acerca da NR n.º 9, julgue os itens a seguir.

- 130 As ações do PPRA devem ser desenvolvidas no âmbito de cada estabelecimento da empresa, sob a responsabilidade do empregador, com a participação dos trabalhadores, sendo sua abrangência e profundidade dependentes das características dos riscos e das necessidades de controle.
- 131 Consideram-se agentes físicos as diversas formas de energia a que possam estar expostos os trabalhadores, tais como: ruído, vibrações, pressões anormais, temperaturas extremas, radiações ionizantes e radiações não ionizantes.
- 132 Na ocorrência de riscos ambientais nos locais de trabalho que coloquem em situação de grave e iminente risco um ou mais trabalhadores, a empresa deve garantir que esses trabalhadores possam interromper de imediato suas atividades.
- 133 Os empregadores devem informar os trabalhadores, de maneira apropriada e suficiente, sobre os riscos ambientais que possam originar-se nos locais de trabalho e os meios disponíveis para prevenir ou limitar tais riscos e proteger-se deles.
- 134 Os dados registrados e estruturados, pelo empregador, a fim de constituírem o histórico técnico-administrativo do desenvolvimento do Programa de Prevenção de Riscos Ambientais (PPRA) devem ser mantidos por um período mínimo de dez anos.
- 135 A referida norma estabelece os parâmetros máximos e as diretrizes gerais a serem observados na execução do PPRA.
- 136 Bactérias, fungos, bacilos, parasitas, protozoários, vírus, entre outros, são considerados agentes químicos.

Com base na Lei n.º 6.514/1977, julgue os itens que se seguem.

- 137** O direito do empregado ao adicional de insalubridade ou de periculosidade é mantido com a eliminação do risco à sua saúde ou integridade física.
- 138** Reparos, limpeza e ajustes devem ser executados com as máquinas paradas, salvo se o movimento for indispensável à realização desses procedimentos.
- 139** O exercício de trabalho em condições insalubres, acima dos níveis de tolerância estabelecidos pelo MTE, assegura a percepção de adicional de 10%, 20% e 40% do salário mínimo da região, segundo se classifiquem, respectivamente, nos graus máximo, médio e mínimo.

Acerca do Decreto n.º 92.530/1986, julgue o item abaixo.

- 140** O exercício da atividade de engenheiro ou arquiteto na especialidade de engenharia de segurança do trabalho depende de registro no Conselho Regional de Engenharia, Arquitetura e Agronomia (CREA).

Com relação à Portaria n.º 3.067/1988, posteriormente revogada pela Portaria n.º 191/2008, julgue os seguintes itens.

- 141** A propriedade rural com cinquenta ou mais trabalhadores é obrigada a organizar e manter em funcionamento o Serviço Especializado em Prevenção de Acidentes do Trabalho Rural (SEPATR).
- 142** Todo o ônus decorrente da organização e manutenção do SEPATR cabe exclusivamente ao empregador rural.
- 143** O mandato dos membros da CIPATR é de dois anos, permitida uma recondução.
- 144** O empregador rural que mantenha a média de dez ou mais trabalhadores é obrigado a organizar e manter em funcionamento, por estabelecimento, uma Comissão Interna de Prevenção de Acidentes do Trabalho Rural (CIPATR).
- 145** O empregador rural e(ou) seus prepostos são responsáveis pelo armazenamento dos produtos químicos e pelas consequências decorrentes da estocagem e da contaminação, em qualquer nível, de seres vivos e do meio ambiente.

Julgue os itens a seguir, de acordo com as NR relativas a segurança e medicina do trabalho.

- 146** Para efeito de aplicação das NR, uma ou mais empresas, com personalidade jurídica própria, sob direção, controle ou administração de outra organização, constituindo grupo industrial, comercial ou de qualquer outra atividade econômica, são solidariamente responsáveis com a empresa principal e cada uma das subordinadas.
- 147** Para efeito de aplicação das NR, a obra de engenharia, compreendendo ou não canteiro de obra ou frentes de trabalho, é considerada como um estabelecimento, a menos que se disponha, de forma diferente, em NR específica.
- 148** A observância das NR não desobriga as empresas do cumprimento de outras disposições que, com relação à matéria, sejam incluídas em códigos de obras ou regulamentos sanitários dos estados ou municípios, e outras oriundas de convenções e acordos coletivos de trabalho.
- 149** As atribuições de fiscalização e (ou) orientação às empresas com relação ao cumprimento dos preceitos legais e regulamentares sobre segurança e medicina do trabalho são delegáveis a outros órgãos federais, estaduais e municipais, mediante convênio autorizado pelo MTE.
- 150** Para fins de aplicação das NR, considera-se frente de trabalho a área do trabalho fixa e temporária, onde se desenvolvem operações de apoio e execução à construção, demolição ou ao reparo de uma obra.

PROVA DISCURSIVA

- Nesta prova, faça o que se pede, usando o espaço para rascunho indicado no presente caderno. Em seguida, transcreva o texto para a **FOLHA DE TEXTO DEFINITIVO DA PROVA DISCURSIVA**, no local apropriado, pois **não serão avaliados fragmentos de texto escritos em locais indevidos**. Será desconsiderado, também, qualquer fragmento de texto que ultrapassar a extensão máxima de linhas disponibilizadas.
- Na **FOLHA DE TEXTO DEFINITIVO DA PROVA DISCURSIVA**, único documento que servirá de base para a avaliação da Prova Discursiva, escreva com letra legível e respeite rigorosamente as margens. No caso de erro, risque, com um traço simples, a palavra, a frase, o trecho ou o sinal gráfico e escreva em seguida o respectivo substituto. **Atenção:** parênteses não podem ser usados para tal finalidade.

Conhecidos os riscos de acidente, as empresas devem procurar eliminá-los ou minimizá-los por meio da adoção de medidas preventivas. Uma providência importante para a prevenção de acidentes é a compilação de estatísticas confiáveis que permita calcular e acompanhar a evolução dos indicadores de acidentes e doenças do trabalho a fim de traçar políticas de prevenção mais eficientes. Entretanto, até mesmo técnicos da Organização Internacional do Trabalho (OIT) reconhecem que retratar 100% dos acidentes ocorridos nas empresas é uma tarefa muito difícil, uma vez que, deliberadamente, muitas ocorrências não são notificadas. A maioria dos países, inclusive o Brasil, não possui um sistema eficiente de notificação dos acidentes do trabalho que abranja a totalidade das ocorrências.

Ranking das atividades econômicas segundo a frequência, gravidade e custo dos acidentes do trabalho.
MPAS. Secretaria de Previdência Social. Coordenação Geral de Estatística e Atuária (com adaptações).

Considerando que o fragmento de texto acima tem caráter unicamente motivador, redija um texto dissertativo acerca do seguinte tema.

ACIDENTE DE TRABALHO: CONCEITOS E PREVENÇÃO

Ao elaborar seu texto, aborde, necessariamente, os seguintes aspectos:

- ▶ as principais características do acidente do trabalho, abarcando o conceito legal e o conceito prevencionista;
- ▶ registro de acidente com afastamento e sem afastamento;
- ▶ cadastro de acidentes como um banco de dados para planos de prevenção.

RASCUNHO

1	
2	
3	
4	
5	
6	
7	
8	
9	
10	
11	
12	
13	
14	
15	
16	
17	
18	
19	
20	
21	
22	
23	
24	
25	
26	
27	
28	
29	
30	