

MINISTÉRIO PÚBLICO DO ESTADO DE RORAIMA  
PROCURADORIA-GERAL DE JUSTIÇA

**CONCURSO PÚBLICO**

Cargo:

**Médico**

**NÍVEL SUPERIOR**

**Provas Objetivas**  
**Aplicação: 10/11/2002**

**CESPE**  
UNIVERSIDADE DE BRASÍLIA

**LEIA COM ATENÇÃO AS INSTRUÇÕES ABAIXO.**

- 1 Ao receber este caderno, confira se ele contém trinta questões objetivas corretamente ordenadas.
- 2 Caso o caderno esteja incompleto ou tenha qualquer defeito, solicite ao fiscal de sala mais próximo que tome as providências cabíveis.
- 3 Recomenda-se não marcar ao acaso: cada questão cuja resposta diverja do gabarito oficial definitivo acarretará a perda de 0,25 ponto, conforme consta no Edital n.º 1/2002 – MPRR, de 11/9/2002.
- 4 Não utilize nenhum material de consulta que não seja fornecido pelo CESPE.
- 5 Durante as provas, não se comunique com outros candidatos nem se levante sem autorização do chefe de sala.
- 6 A duração das provas é de três horas, já incluído o tempo destinado à identificação — que será feita no decorrer das provas — e ao preenchimento da folha de respostas.
- 7 A desobediência a qualquer uma das determinações constantes nas presentes instruções, na folha de rascunho ou na folha de respostas poderá implicar a anulação das suas provas.

**AGENDA**

- 1 11/11/2002 – Divulgação, a partir das 10 h, dos gabaritos oficiais preliminares das provas objetivas, na Internet — no endereço eletrônico <http://www.cespe.unb.br> — e nos quadros de avisos do CESPE/UNB — em Brasília.
- 2 12 e 13/11/2002 – Recebimento de recursos contra os gabaritos oficiais preliminares das provas objetivas, exclusivamente nos locais e horários a serem informados juntamente com a divulgação desses gabaritos.
- 3 29/11/2002 – Data provável de divulgação (após a apreciação de eventuais recursos), no Diário Oficial do Estado de Roraima e nos locais mencionados no item 1, do resultado final das provas objetivas, da convocação para a prova prática para o cargo de maioria e do final do concurso para os demais cargos.

**OBSERVAÇÕES**

- Não serão objeto de conhecimento/recursos em desacordo com o estabelecido no item 10 do Edital n.º 1/2002 – MPRR, de 11/9/2002.
- Informações relativas ao concurso poderão ser obtidas pelo telefone (0XX)-61-448-0100.
- É permitida a reprodução deste material, desde que citada a fonte.

Nas questões de 1 a 30, marque, em cada uma, a única opção correta, de acordo com o respectivo comando. Na **folha de respostas**, a indicação do campo **SR** é facultativa e não contará para efeito de avaliação; servirá somente para caracterizar que o candidato desconhece a resposta correta. Use a folha de rascunho para as devidas marcações e, posteriormente, a **folha de respostas**.

## CONHECIMENTOS BÁSICOS

### Texto I – questões 1 e 2

1 O debate presidencial tem focalizado prioritariamente mudanças nas políticas públicas — monetária, fiscal, previdenciária, educacional e outras. Mas existe um debate que deveria preceder: a adequação ou não das atuais instituições de Estado à nova realidade brasileira e mundial. Ou seja, o debate institucional (sobre a estrutura do poder) deveria preceder o debate das políticas

4 públicas (sobre o exercício do poder).

(...)

7 Em meu entender, existe função fundamental, por ninguém exercida, por todos querida, e indispensável ao país. Tão óbvia quanto o vácuo que hoje ocupa. Poderia retomar para o ministério sua antiga função de articulador político-institucional do Poder Executivo.

10 Refiro-me à modernização da administração da justiça, que é muito mais ampla, embora comece pela reforma do Poder Judiciário. Esta é uma unanimidade nacional. A reforma do Estado não pode se limitar à privatização e a novas agências. Nada garante mais a segurança pública do que um Judiciário ágil e eficiente.

Joaquim Falcão. *Por um novo Ministério da Justiça*. In: *Folha de S. Paulo*. “Opinião”, 20/10/2002 (com adaptações).

### QUESTÃO 1

Assinale a opção correta a respeito da organização das idéias apresentadas no texto I.

- A Os trechos entre parênteses explicam como devem ser entendidos o “debate institucional” (ℓ.3) e o “debate das políticas públicas” (ℓ.3-4), respectivamente; por isso, poderiam ser demarcados por vírgulas, em lugar dos parênteses.
- B Para que o texto seja coeso e coerente, é necessário inserir o seguinte trecho na lacuna (...) da linha 5: **Uma função para esse novo Ministério ou Secretaria de Segurança Pública advém das necessidades de se criar um articulador do Poder Executivo.**
- C Para que haja coerência textual, as expressões “função de articulador político-institucional do Poder Executivo” (ℓ.7-8) e “modernização da administração da justiça” (ℓ.9) devem ter o mesmo referente.
- D A função textual do pronome “Esta” (ℓ.10) é recuperar o referente “modernização da administração da justiça” (ℓ.9), para qualificá-lo como “unanimidade nacional” (ℓ.10).
- E Infere-se do texto que a “modernização da administração da justiça” é parte integrante e necessária da reforma do Estado e do Judiciário.

### QUESTÃO 2

Julgue os itens seguintes, a respeito do emprego das estruturas lingüísticas no texto I.

- I Na linha 1, a palavra “mudanças” está no plural para tornar coerente o sentido de “políticas públicas” e preservar a correção gramatical da oração em que ocorre.
- II O sinal de dois-pontos (ℓ.2) é uma questão de estilo; por isso, sua retirada preserva a correção gramatical e as relações semânticas do período.
- III Nas linhas 2-3, a inserção do artigo indefinido feminino diante de “nova realidade”, em substituição ao artigo definido, não prejudica a coerência do texto, mas, para haver correção gramatical, é necessário retirar o acento indicativo de crase em “à”.
- IV As formas verbais “ocupa” (ℓ.7) e “Poderia retomar” (ℓ.7) estão no singular porque concordam com a idéia subentendida de “função” (ℓ.6).
- V O emprego do sinal indicativo de crase em “à modernização” (ℓ.9) e “à privatização” (ℓ.10) é exigência do emprego dos pronomes átonos reflexivos que compõem a estrutura sintática das respectivas orações.

A quantidade de itens certos é igual a

- A 1.
- B 2.
- C 3.
- D 4.
- E 5.

**QUESTÃO 3**

1 Em seu sentido mais amplo, a luta do povo brasileiro  
 4 contra a ditadura teve o objetivo de criar um Estado de direito  
 que possibilitasse a instauração das liberdades públicas e a  
 7 redução das desigualdades. Essa luta incluiu várias  
 aspirações, entre elas a de que a “democracia racial” ganhasse  
 a efetividade necessária para constituir um dos fundamentos  
 10 da democracia política. No total, o censo de 2000 mostra um  
 povo emancipado, decidido a expor a variedade de suas  
 crenças, ou a sua não-crença, e a força da cultura de seus  
 ancestrais. O Brasil do século XXI dá as caras. No pano de  
 fundo formado pelas tabelas do IBGE, surge uma sociedade  
 mais livre.

Luiz Felipe de Alencastro. **O Brasil dá as caras**. In: Veja.  
 “Ponto de vista”. 22/5/2002 (com adaptações).

Assinale a opção correta a respeito das idéias e das estruturas  
 lingüísticas do texto acima.

- Ⓐ Se a palavra “luta” (l.1) for empregada no plural, preserva-se a coerência textual, mas serão obrigatórias também as mudanças de “seu sentido mais amplo” (l.1) para **seus sentidos mais amplos** e de “teve” (l.2) para **tiveram**, para que o texto fique gramaticalmente correto.
- Ⓑ Para que o primeiro período do texto não se construa sobre hipóteses, mas preserve a coerência e a correção gramatical, é possível ser reescrito como: **A luta do povo brasileiro contra a ditadura teve, em seu sentido mais amplo, o objetivo de criar um Estado de direito que possibilitou a instauração das liberdades públicas e a redução das desigualdades.**
- Ⓒ A preposição “entre” (l.5) pode, alternativamente, ser empregada como **dentre**, sem que seja prejudicada a coerência ou a correção gramatical do texto.
- Ⓓ De acordo com o desenvolvimento das idéias do texto, “povo emancipado” (l.8) é povo com ‘democracia racial’ (l.5), povo que pode “constituir um dos fundamentos da democracia política” (l.6-7) e povo que ganha efetividade nas aspirações.
- Ⓔ A expressão figurada “dá as caras” (l.10) prejudica a coerência do texto porque o estilo coloquial não é admitido no gênero em que está escrito o artigo.

**QUESTÃO 4**

1 A base dos sistemas jurídicos é a noção de justiça.  
 Associada aos princípios de integridade, imparcialidade,  
 a justiça é geralmente personificada por uma figura vendada  
 4 segurando uma balança que simboliza a neutralidade da lei.  
 Os juízes devem ser imparciais e não podem ter interesse  
 pessoal no resultado do caso. Ninguém pode atuar ao mesmo  
 7 tempo como julgador e acusador. Com raras exceções,  
 qualquer pessoa pode servir de testemunha e ser intimada a  
 prestar depoimento.

O mundo atual: justiça e crime. In: Enciclopédia compacta de  
 conhecimentos gerais: IstoÉ. São Paulo: Três, 1995, p. 108.

Considerando o texto acima, julgue os itens que se seguem.

- I Na linha 1, a troca de lugar entre as expressões “base dos sistemas jurídicos” e “noção de justiça” preserva as relações semânticas e a correção da oração, mas prejudica a coerência textual.
- II As formas verbais “vendada” (l.3), no particípio, e “segurando” (l.4), no gerúndio, indicam, respectivamente, uma qualidade e um modo de ação de “figura” (l.3); por isso, têm respectivamente o valor de adjetivo e de advérbio de modo.
- III As expressões “a justiça” (l.3), “Os juízes” (l.5), “Ninguém” (l.6) e “qualquer pessoa” (l.8) desempenham a mesma função sintática nos períodos em que ocorrem; por isso, é a respeito desses termos que as respectivas orações declaram alguma coisa.
- IV O conectivo “e” (l.5), além de ter o valor semântico de adicionar idéias e informações, introduz, no texto, uma consequência.
- V Para que o texto seja coeso e coerente, o emprego do artigo definido diante de “caso” (l.6) indica que deve haver, obrigatoriamente, um referente para “caso” mencionado antes no texto, embora não conste do trecho aqui transcrito.

Estão certos apenas os itens

- Ⓐ I, II e III.                      Ⓒ I, IV e V.                      Ⓔ II, IV e V.
- Ⓑ I, III e V.                      Ⓓ II, III e IV.

**QUESTÃO 5**

Julgue os itens que se seguem, relativos às eleições brasileiras de 2002.

- I No primeiro turno, a desistência do candidato do Partido Popular Socialista (PPS) Ciro Gomes, abrindo mão de sua candidatura às vésperas da eleição presidencial, foi decisiva para que o candidato do Partido dos Trabalhadores (PT) Luiz Inácio Lula da Silva obtivesse a vitória.
- II A verticalização imposta pela interpretação dada pelo Tribunal Superior Eleitoral (TSE) à legislação eleitoral em vigor foi compreendida e aceita pelo eleitorado: apurados os votos, viu-se nítida correspondência entre a votação obtida pelos partidos ou coligações partidárias nos níveis federal e estadual.
- III Entre outras possíveis considerações a propósito da trajetória de Luiz Inácio Lula da Silva, vitoriosa em sua quarta tentativa de chegar à presidência da República, destaca-se o ineditismo da eleição de um ex-operário e de um candidato ideologicamente situado à esquerda para o mais importante cargo político do país.
- IV Candidato da coligação formada pelo Partido da Social Democracia Brasileira (PSDB) e pelo Partido da Frente Liberal (PFL), o senador José Serra calcou sua campanha nos feitos de sua gestão à frente do Ministério da Educação, especialmente em torno do êxito da campanha “Toda Criança na Escola”.
- V Individualmente, o PT obteve o maior número de cadeiras na Câmara dos Deputados. Contudo, para que o governo federal eleito pelo partido tenha maioria nessa Casa legislativa, haverá necessidade de composição com outras legendas.

Estão certos apenas os itens

- A** I e II.
- B** I e III.
- C** II e IV.
- D** III e V.
- E** IV e V.

**QUESTÃO 6**

Na atualidade, os Estados Unidos da América (EUA) exercem incontestável poder mundial, sobretudo em termos militares e econômicos. Fatores diversos se conjugaram para a configuração desse quadro. Relativamente às razões que levaram o país a essa posição de destaque e à forma pela qual conduz suas ações internacionais, assinale a opção **incorreta**.

- A** Sob o comando de George W. Bush, os EUA têm procurado agir externamente de modo a angariar a simpatia da opinião pública mundial, o que significa promover e estimular a chamada cultura da paz, esforçando-se por reduzir ao máximo suas incursões militares sobre outros países.
- B** O fim da União das Repúblicas Socialistas Soviéticas (URSS), arrastando consigo o decadente modelo de democracias populares do Leste europeu, foi marcante para sepultar a bipolaridade existente desde o fim da Segunda Guerra e deixar livre o caminho para a hegemonia mundial de Washington.
- C** Os ataques terroristas de que foram alvo os EUA, em setembro de 2001, que atingiram brutalmente instalações do Pentágono e destruíram as torres do World Trade Center, explicitaram novas formas de ação política e bélica a que os Estados não estavam acostumados, pelo menos com tal ousadia e intensidade.
- D** Eleito por estreita margem de votos, em um processo eleitoral eivado de dúvidas e desconfianças quanto a sua lisura, George W. Bush chegou ao governo, assumindo um discurso essencialmente conservador, nacionalista e patriótico, algo que se exacerbou após os trágicos acontecimentos de 11 de setembro de 2001.
- E** A administração de George W. Bush é vista com desconfiança por boa parte dos ambientalistas, em especial por sua recusa em ratificar o Protocolo de Kyoto, documento de alcance planetário que propõe a redução gradativa da emissão de gases poluentes na atmosfera.

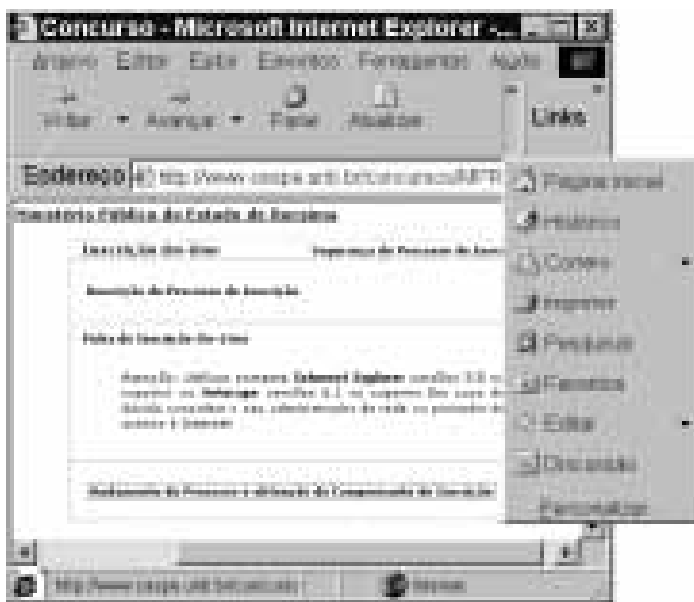
**QUESTÃO 7**

De fácil utilização e difícil conceituação, a palavra globalização serve para denominar a atual realidade mundial, há bastante tempo gestada, mas que ganhou efetiva densidade nas últimas décadas do século XX. Em linhas gerais, é possível identificar a globalização como sendo um novo estágio da evolução do mundo contemporâneo, assinalado por





- A** sensível ampliação do papel do poder público na condução das economias nacionais, planejando e coordenando a produção, zelando pela preservação das leis trabalhistas, bem como controlando as movimentações do mercado de capitais.
- B** drástica redução do peso da agricultura na economia dos países, esmagada pela força da indústria e do setor de serviços, o que explica o desinteresse de praticamente todos os governos em oferecer subsídios e proteção à área agrícola.
- C** significativa redução na margem de lucro das operações financeiras em função do rígido controle exercido pelos Estados sobre o sistema bancário e as bolsas de valores, o que redundou, necessariamente, em maior volume de investimentos na produção.
- D** aumento da produção e acirramento da concorrência entre empresas e países, o que está inviabilizando o comércio mundial, que se ressentiu da inexistência, até o momento, de um organismo internacional que fixe normas condizentes com a atual realidade do mercado internacional.
- E** ampliação dos mercados em dimensão mundial, processo facilitado pelo suporte oferecido pela tecnologia ao sistema produtivo e às facilidades de comunicação e de locomoção, o que permite a rapidez na circulação de bens e de capitais.

Nas questões de 8 a 10, que avaliam **Conhecimentos de Informática**, a menos que seja explicitamente informado o contrário, considere que todos os programas mencionados estão em configuração-padrão, em português, que o *mouse* está configurado para pessoas destras e que expressões como clicar, clique simples e clique duplo referem-se a cliques com o botão esquerdo do *mouse*. Considere também que não há restrições de proteção e de uso em relação aos programas, arquivos, diretórios e equipamentos mencionados.

#### QUESTÃO 8






Com o intuito de obter informações acerca do concurso público para provimento de vagas e formação de cadastro de reserva em cargos do MPRR, um usuário, por meio de uma rede *dial-up* e utilizando-se do Internet Explorer 5, executado em um computador cujo sistema operacional é o Windows 98, acessou o *site* do CESPE — <http://www.cespe.unb.br> — e, após algumas operações, obteve a página mostrada na figura acima. Com base nessa figura e com relação ao Internet Explorer 5 em um ambiente Windows 98, assinale a opção correta.

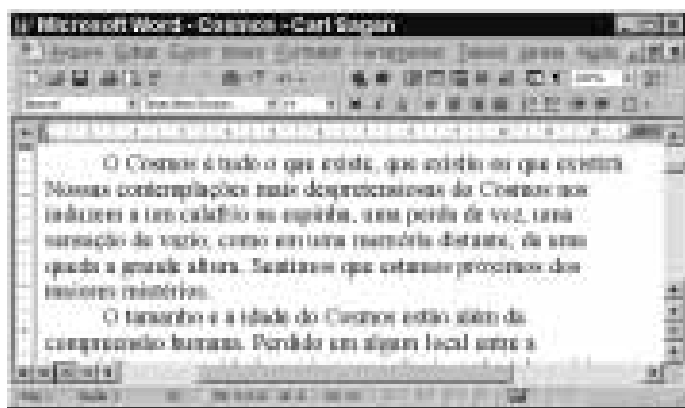
- A Caso o usuário clicasse o botão , seria aberta uma nova janela do Internet Explorer 5, na qual seria mostrado o conteúdo do *site* da Microsoft com opções de atualizações de *softwares* comercializados por essa empresa.
- B Para fechar a janela do Internet Explorer 5, encerrando a sessão de uso descrita, seria suficiente clicar o botão .
- C Por meio do botão , o usuário poderá obter uma lista das páginas e dos *sites* previamente acessados na sessão de uso descrita, bem como daquelas acessadas em outras sessões de uso, mesmo que o acesso tenha ocorrido em dias diferentes do corrente.
- D Para enviar toda a informação contida na página mostrada na figura na forma de *e-mail* a um determinado destinatário, seria suficiente clicar o botão .
- E Sabendo que **Destinação de Processos de Inserção** constitui um *hyperlink*, ao se clicar esse *hyperlink*, será iniciado um processo de *download* da página cujo URL é <http://www.cespe.unb.br/concurso>.

#### QUESTÃO 9






	personas que vivem abaixo da linha de pobreza (em milhões)	personas que vivem abaixo da linha de pobreza no ano imediatamente anterior (em milhões)	coeficiente de pobreza (em %)
1			
2	EUA	33	31,8
3	Brasil	33	50,3
4			

A planilha do Excel 2000 acima mostra dados, retirados da revista **Veja** (n.º 1.772, de 9/10/2002), com um estudo acerca do número de pessoas que vivem abaixo da linha da pobreza, nos EUA e no Brasil. Considerando essa figura, assinale a opção correta, relativa ao Excel 2000.

- A É correto afirmar que o valor na célula D2 pode ter sido obtido mediante o uso da fórmula  $(B2-C2)/(B2+C2)*100$ .
- B Selecionando-se as células B2 e B3 e, a seguir, clicando-se o botão , aparecerá o valor 86 na célula B4.
- C Para se obter o retorno automático do texto, como se observa nas células de B1 a D1, é suficiente selecionar essas células e clicar a opção Quebra de linha, encontrada no menu **Inserir**.
- D Caso se selecione as células B2 e B3 e, a seguir, se clique o botão , aparecerá, na célula B4, o percentual referente à diferença entre o valor da célula B3 e o valor da célula B2.
- E Caso se selecionem as células B2 e C2 e, a seguir, se clique o botão , essas células serão mescladas em uma única célula com valor igual à soma dos conteúdos das células B2 e C2.

**QUESTÃO 10**

A figura acima mostra uma janela do Word 97, com um texto que está sendo editado por um usuário. Com relação a essa figura e ao Word 97, assinale a opção correta.

- A** Para se afastar o primeiro parágrafo para uma posição mais à direita, é suficiente selecionar esse parágrafo e teclar .
- B** Para se contar o número de palavras contidas no primeiro parágrafo do texto mostrado na figura, é suficiente selecionar esse parágrafo e, em seguida, clicar o botão .
- C** O documento está sendo exibido no modo Estrutura de tópicos.
- D** Ao se clicar o menu , aparecerá uma lista de opções, entre as quais a opção Novo, que permite criar um novo arquivo em branco.
- E** O trecho “O Cosmos é tudo o que existe” será removido e posto na área de transferência caso a seguinte seqüência de ações seja executada: selecionar o referido trecho; pressionar a tecla  e, mantendo-a pressionada, teclar .

## CONHECIMENTOS ESPECÍFICOS

**QUESTÃO 11**

Uma paciente com 25 anos de idade vem apresentando, nos últimos dois meses, dispnéia quando realiza médios esforços, associada a palpitações cardíacas. O exame físico mostra *ictus cordis* forte e propulsivo deslocado para baixo, no sexto espaço intercostal esquerdo, 8 cm deslocado para a esquerda. A ausculta cardíaca revela a existência de sopro diastólico em foco aórtico, mais intenso quando a paciente se mantém sentada. O pulso radial é de grande amplitude e de curta duração. Tais achados clínicos são mais provavelmente verificados na

- A** estenose mitral.
- B** insuficiência mitral.
- C** estenose aórtica.
- D** insuficiência aórtica.
- E** dupla lesão mitral.

**QUESTÃO 12**

Quando na ausculta do tórax se percebem nitidamente as palavras que o paciente pronuncia, pode-se estar diante de uma afecção de origem pulmonar. Essa afecção pode ser o(a)

- I asma brônquica.
- II pneumonia lobar.
- III enfisema pulmonar.
- IV tuberculose cavitária.
- V bronquite crônica.

A quantidade de itens certos é igual a

- A** 1.
- B** 2.
- C** 3.
- D** 4.
- E** 5.

**QUESTÃO 13**

Quadro clínico de insuficiência hepática traduz supressão rápida ou progressiva das funções do fígado. Nesse quadro, há, quase sempre, sintomas prodrômicos entre os quais se pode incluir

- I icterícia.
- II respiração do tipo Kussmaul.
- III sonolência.
- IV coma.
- V oligúria.

A quantidade de itens certos é igual a

- A** 1.
- B** 2.
- C** 3.
- D** 4.
- E** 5.

**QUESTÃO 14**

Nem sempre a localização de um edema em um paciente está relacionada a um acometimento renal. O edema de origem renal pode ser distinguido dos demais tipos de edema por, geralmente, cursar com o(a)

- A** presença de proteinúria.
- B** acometimento bilateral de membros inferiores.
- C** diminuição do volume urinário.
- D** hematúria persistente.
- E** comprometimento facial unilateral.

**QUESTÃO 15**

Um paciente com vinte anos de idade procurou o ambulatório porque, ao ter palpado a base do pescoço, identificou nódulo de cerca de 2 cm de diâmetro, duro, indolor e aderido a planos profundos. Realizada cintilografia e ecografia da tiróide, verificou-se que o nódulo era não-funcionante e sólido. De acordo com as características citadas, o diagnóstico mais provável é o de

- A** tiroidite auto-imune.
- B** carência de iodo.
- C** hipotireoidismo.
- D** câncer de tiróide.
- E** tiroidite linfocítica.

**QUESTÃO 16**

Por insuficiência cardíaca entende-se a incapacidade de o coração bombear adequadamente o sangue. Essa deficiência funcional pode estar localizada no ventrículo direito, no ventrículo esquerdo ou em ambos ao mesmo tempo. Acerca desse assunto, julgue os itens a seguir.

- I Nas fases mais adiantadas da insuficiência cardíaca congestiva, geralmente predomina a sintomatologia da insuficiência cardíaca esquerda.
- II A causa mais comum de insuficiência cardíaca direita é a prévia insuficiência cardíaca esquerda.
- III A congestão passiva do fígado e o edema do tecido celular subcutâneo costumam ser os sinais mais precoces da insuficiência cardíaca direita.
- IV Lesões tóxicas e fibrilação atrial podem comprometer, ao mesmo tempo, as câmaras direita e esquerda do coração e gerar quadro clínico de insuficiência cardíaca congestiva.
- V Na insuficiência cardíaca esquerda isolada, pode ser observada turgência jugular e pulso em martelo d'água.

Estão certos apenas os itens

- A** I, II e III.                      **C** I, III e IV.                      **E** III, IV e V.
- B** I, II e V.                        **D** II, IV e V.

**QUESTÃO 17**

Um paciente com vinte anos de idade procurou o pronto-socorro, queixando-se de dispnéia súbita há cerca de 2 horas. O exame físico revelou que o hemitórax direito apresentava-se abaulado, com redução de sua expansibilidade, frêmito toracovocal diminuído, timpanismo à percussão e murmúrio vesicular reduzido. Diante desse quadro, o diagnóstico mais provável é o de

- A** enfisema pulmonar.
- B** abscesso pulmonar.
- C** derrame pleural.
- D** pneumotórax.
- E** pneumonia.

**QUESTÃO 18**

O encontro de manchas equimóticas disseminadas na parede abdominal de um paciente que se queixa de forte dor epigástrica que se irradia em faixa para a região lombar tem como mais provável diagnóstico a

- A** pancreatite.
- B** apendicite.
- C** gastrite.
- D** úlcera péptica.
- E** colecistite.

**QUESTÃO 19**

A ausculta da loja renal tem utilidade no caso de

- I aneurisma de artéria renal.
- II infecção do trato urinário.
- III hipertensão renovascular.
- IV cálculo renal.
- V nefrite intersticial.

Estão certos apenas os itens

- A** I e III.                              **C** II e IV.                              **E** III e V.
- B** I e IV.                              **D** II e V.

**QUESTÃO 20**

Mais do que qualquer outra doença, o diabetes melito deve ser procurado em sua fase pré-clínica, uma vez que seu curso apresenta uma série de complicações que vão limitar a qualidade de vida do indivíduo acometido por essa enfermidade. Com relação aos aspectos clínicos do diabetes melito, julgue os itens subseqüentes.

- I Seus sintomas principais são a polidipsia, a polifagia e a poliúria.
- II Costuma-se encontrar também história de obesidade e doença microvascular em famílias de diabéticos.
- III A história pregressa de mulheres portadoras de diabetes melito pode revelar gravidez com morte fetal e fetos nascidos com peso excessivo.
- IV Os sintomas são mais intensos nas crianças e adolescentes e tendem a ser menos expressivos nos idosos.
- V O diagnóstico diferencial de diabetes melito do tipo 1 deve incluir câncer, tuberculose e tirotoxicose.

A quantidade de itens certos é igual a

- A** 1.                                      **B** 2.                                      **C** 3.                                      **D** 4.                                      **E** 5.

**QUESTÃO 21**

Não há consenso na indicação de exames para o rastreamento de indivíduos que apresentem alto risco para fraturas. A densitometria óssea possui baixa sensibilidade e uma boa especificidade. Desse modo, a identificação dos fatores de risco para osteoporose ainda é a melhor medida para a prevenção do problema. Nesse sentido, a osteoporose **não** está associada a

- A** história familiar materna de fratura de colo de fêmur.
- B** índice de massa corporal elevado, maior que 25 kg/m<sup>2</sup> de superfície corporal.
- C** terapêutica com corticosteróide: uso de prednisona (ou equivalente) a 7,5 mg/kg por dia, por mais de seis meses.
- D** status do nível de estrogênio: menopausa prematura; amenorréia secundária prolongada, hipogonadismo primário.
- E** presença de anorexia nervosa, doença inflamatória intestinal, insuficiência renal crônica, hipertireoidismo ou síndrome de Cushing.

**QUESTÃO 22**

Acerca da síncope — que consiste na perda súbita e transitória da consciência, acompanhada por uma perda do tônus postural —, julgue os itens seguintes.

- I A síncope vasovagal ou síncope neurocardiogênica é a mais freqüente. Possui um bom prognóstico, sem aumento do risco de morte.
- II A síncope de origem cardíaca está associada ao maior risco de morte. A taxa de mortalidade pode ser maior que 10% em seis meses.
- III As causas mais comuns de síncope cardíaca são as taquicardias ventriculares não-sustentadas e as bradiarritmias.
- IV As causas neurológicas de síncope são: convulsão, acidente vascular cerebral e isquemia arterial transitória.
- V Síncopes recorrentes e inexplicáveis podem ser um dilema diagnóstico. O teste de TILT (*tilt head-up test*) pode ser útil para definir o diagnóstico de síncope vasovagal, apesar de ocorrerem resultados falso-positivos e falso-negativos.

A quantidade de itens certos é igual a

- A** 1.      **B** 2.      **C** 3.      **D** 4.      **E** 5.

**QUESTÃO 23**

A gota é caracterizada bioquimicamente pela deposição de urato de sódio no tecido conjuntivo e na cartilagem articular. Com relação a essa doença, assinale a opção **incorreta**.

- A** Cerca de 90% de todos os casos de hiperuricemia primária e secundária estão associados a ingestão excessiva de alimentos ricos em purinas.
- B** Nefrolitíase por ácido úrico é uma das manifestações clínicas da gota.
- C** O acúmulo de cristais de urato na forma de tofo é característico da gota.
- D** Uma das comorbidades mais comuns associadas à gota é a nefropatia.
- E** O quadro clínico da gota consiste de crises recorrentes de artrite inflamatória aguda.

**QUESTÃO 24**

Uma paciente, com 46 anos de idade, multipara, obesa, foi atendida em um pronto-socorro com dor abdominal.

Considerando o quadro clínico acima, assinale a opção **incorreta** quanto à avaliação e análise do quadro de dor abdominal apresentado.

- A** Caso se trate de dor epigástrica ou localizada na região do quadrante superior direito, então o diagnóstico pode ser de colecistite tipicamente aguda. Nesse caso, a dor pode irradiar-se para as costas ou o ombro direito e é do tipo cólica, de forte intensidade, geralmente associada a náusea, vômitos e anorexia. A paciente poderá ter apresentado, ainda, histórico de ingestão de alimentos gordurosos uma hora antes do início do quadro de dor.
- B** Se houver bloqueio prolongado ou recorrente do ducto cístico, este poderá progredir para obstrução completa e colecistite aguda. Se a dor localizar-se no quadrante superior direito e prolongar-se por mais de quatro horas, especialmente se estiver associada a febre, então o diagnóstico deverá ser de colecistite aguda, ao contrário de um quadro de simples cólica biliar.
- C** Caso não haja nenhum tratamento, os sintomas da colecistite irão desaparecer entre sete e dez dias. Nesse caso, a taxa de complicações é muito elevada. A complicação mais comum é o desenvolvimento de gangrena da vesícula biliar, em até 20% dos casos, com posterior perfuração, em 2% dos casos.
- D** Se o diagnóstico for de colecistite aguda, então a paciente apresentar-se-á febril e taquicárdica. Nesse caso, o exame de abdome geralmente revela defesa voluntária e involuntária. A presença do sinal de Murphy pode ser uma manobra útil para confirmar o diagnóstico.
- E** Se houver suspeita de que a paciente tenha colecistopatia litíásica, então o exame de primeira escolha deverá ser o colecistograma oral.

**QUESTÃO 25**

Com relação à infecção herpes-zoster ou varicela-zoster, assinale a opção **incorreta**.

- A** O declínio da resposta imunológica celular específica, que ocorre naturalmente durante o envelhecimento, ou induzida por doença imunossupressora, aumenta o risco de reativação pelo vírus da varicela-zoster.
- B** Durante os pródromos, os pacientes relatam cefaléia, fotofobia e mal-estar, mas, raramente, febre.
- C** A dor, de grau variável, ocorre em quase todos os pacientes na fase aguda.
- D** As erupções cutâneas são sempre bilaterais e geralmente ultrapassam a linha média.
- E** A incidência e a duração da neuralgia pós-herpética está diretamente correlacionada com a idade do paciente. Ela é de quinze a 27 vezes maior nos indivíduos com idade superior a cinqüenta anos.



**QUESTÃO 26**

A respeito da redução do volume extracelular, assinale a opção **incorreta**.

- A A alcalose metabólica está associada a hipovolemia induzida pelos diuréticos.
- B Geralmente, a osmolaridade urinária e a densidade urinária são, respectivamente, menores do que 450 Mos/kg e 1.010, refletindo a presença na inibição e redução na liberação do hormônio antidiurético.
- C A acidose metabólica ocorre associada à insuficiência renal, lesão túbulo-intersticial, insuficiência adrenal, diarreia e cetoacidose.
- D O aumento relativo do hematócrito e da concentração plasmática de albumina é um indicativo de hemoconcentração.
- E O objetivo terapêutico é o retorno à normovolemia, por meio da administração de líquidos com composição semelhante àquela perdida.

**QUESTÃO 27**

Julgue os itens abaixo, relativos à malária.

- I A malária humana é causada por quatro espécies de plasmódio: *P. falciparum*, *P. vivax*, *P. ovale* e *P. malariae*. A grande maioria das infecções é causada pelo *P. falciparum* ou pelo *P. vivax*.
- II A maioria das mortes associada à malária é causada pelo *P. falciparum*.
- III Febre e calafrio são sintomas muito comuns. Diaforese, cefaléia, fadiga, dor abdominal, vômitos e diarreia podem ser incluídos. Anemia, esplenomegalia, hepatomegalia podem desenvolver-se, e a linfadenomegalia é raramente encontrada.
- IV O período de incubação do *P. falciparum* é de doze a quatorze dias. Aproximadamente 50% dos pacientes infectados pelo *P. vivax* apresentam sintomas no intervalo de dois meses, mas os sintomas, às vezes, podem demorar anos para aparecer.
- V As complicações associadas à malária por *P. falciparum* são malária cerebral, insuficiência renal, pulmão de choque, choque circulatório, diarreia, anemia e hemorragias.

A quantidade de itens certos é igual a

- A 1.      B 2.      C 3.      D 4.      E 5.

**QUESTÃO 28**

A infecção das vias urinárias é muito comum em mulheres sexualmente ativas. Por definição, a infecção das vias urinárias pode ser do trato inferior — cistite aguda — ou do trato superior — pielonefrite aguda. No que se refere a esse assunto, assinale a opção **incorreta**.

- A A maioria dos episódios de pielonefrite aguda é geralmente sem complicações. Os casos complicados estão associados à presença de uma condição subjacente, tal como obstrução, disfunção urológica ou a multirresistência ao uropatógeno.
- B A pielonefrite aguda é sugerida pela presença de lombalgia, náusea e vômitos, febre superior a 38,5°C e(ou) pontos renoureterais dolorosos, podendo ocorrer na presença ou ausência de sintomas de cistite.
- C Todos os casos de pielonefrite devem ser investigados por meio de um método de imagem (urografia excretora, ultrasonografia de vias urinárias ou tomografia computadorizada de vias urinárias).
- D A piúria está presente em quase todas as mulheres com pielonefrite aguda; a sua ausência faz sugerir um outro diagnóstico.
- E A maioria dos casos de pielonefrite aguda apresenta leucocitose, VHS acelerado e elevação da proteína C reativa plasmática.

**QUESTÃO 29**

Quanto a doenças sexualmente transmissíveis, assinale a opção **incorreta**.

- A A síndrome uretral não-gonocócica é definida pela presença de disúria e(ou) corrimento uretral. A inflamação uretral é documentada por meio da presença de corrimento uretral mucopurulento ou de leucócitos no Gram.
- B Tanto na mulher quanto no homem a gonorréia pode ocorrer em qualquer local do trato genital, da orofaringe ou pode se apresentar de forma disseminada. A infecção nas mulheres é geralmente sintomática, diferentemente do que é observado nos homens, que apresentam 90% dos casos assintomáticos.
- C A infecção pela *Chlamydia trachomatis* pode causar diversas síndromes no homem, que incluem a proctite, epididimite, prostatite, artrite reativa e síndrome de Reiter. Por outro lado, nas mulheres essa infecção é assintomática. Diferentemente do que é observado nas mulheres, a infecção assintomática nos homens não está associada à infertilidade.
- D Apesar de a maioria dos casos de infecção pela *C. trachomatis* ser assintomática nas mulheres, as manifestações clínicas podem variar de cervicite a doença pélvica inflamatória.
- E Pacientes com infecção primária pelo vírus herpes geralmente apresentam lesões pustulares, ulceradas, múltiplas e bilaterais, que regredem em média após dezenove dias de evolução. Outros sintomas que podem estar presentes nessa fase são: sintomas sistêmicos, dor e prurido no local da lesão, disúria e linfadenomegalia dolorosa.

**QUESTÃO 30**

Acerca da dengue, assinale a opção **incorreta**.

- A A maioria das crianças abaixo dos quinze anos de idade é assintomática.
- B Os sintomas da dengue normalmente aparecem de quatro a sete dias após a picada pelo mosquito infectado; no entanto, o período de incubação pode ser de até 14 dias.
- C A leucocitose associada à trombocitose é achado laboratorial muito específico, sendo identificada tanto nas crianças quanto nos adultos.
- D A febre da dengue clássica é aguda, acompanhada de cefaléia retroorbitária, artralgia e mialgia. A febre dura cerca de cinco a sete dias. O período de febre pode ser acompanhado por intensa fadiga, que pode durar de dias a semanas.
- E O exame físico é geralmente inespecífico. Pode ocorrer febre, rash, hiperemia conjuntival, eritema de faringe, linfadenomegalia e hepatomegalia.



Universidade de Brasília (UnB)