

De acordo com o comando a que cada um dos itens de 1 a 150 se refira, marque, na **folha de respostas**, para cada item: o campo designado com o código **C**, caso julgue o item **CERTO**; o campo designado com o código **E**, caso julgue o item **ERRADO**; ou o campo designado com o código **SR**, caso desconheça a resposta correta. Marque, obrigatoriamente, para cada item, um, e somente um, dos três campos da **folha de respostas**, sob pena de arcar com os prejuízos decorrentes de marcações indevidas. A marcação do campo designado com o código **SR** não implicará apenação. Para as devidas marcações, use a folha de rascunho e, posteriormente, a **folha de respostas**, que é o único documento válido para a correção das suas provas.

## CONHECIMENTOS BÁSICOS

1 Se quisermos compreender o simbolismo da água,  
não podemos pensá-la como H<sub>2</sub>O, mas como elemento  
fundamental indissociável de suas formas concretas: os  
4 mares, os oceanos, os rios, os lagos, os regatos, os riachos,  
as torrentes, as chuvas, as fontes, as nascentes, as praias, as  
quedas d'água, as cascatas, o gelo, o orvalho, onde se podem  
7 distinguir as águas claras, as águas correntes, as águas  
primaveris, as águas profundas, as águas dormentes, as águas  
mortas, as águas compostas, as águas doces, as águas  
10 violentas, as lágrimas. Cada uma das culturas humanas  
reserva um papel privilegiado para a água, em cada uma das  
suas formas, em cada um de seus modos de ser. Percorrer,  
13 mesmo que rapidamente, a riqueza desse material simbólico  
é impossível aqui. Digamos, muito esquematicamente, que os  
estudos da dimensão simbólica da água têm ressaltado  
16 basicamente três aspectos: a água como fonte de vida, a água  
como meio de purificação e a água como centro de  
regeneração.

José Carlos Bruni. *A água e a vida*. In: *Tempo social*, v. 5, nov./1994, p. 59 (com adaptações).

Com relação ao texto acima, julgue os itens a seguir.

- 1 A tese defendida pela argumentação do texto é que compreender o sentido simbólico da água vai além de sua descrição química: é considerar suas formas concretas.
- 2 O pronome em “pensá-la” (ℓ.2) e a oração iniciada por “que” (ℓ.14) desempenham a mesma função sintática.
- 3 As duas seqüências de enumerações, uma começando por “os mares” (ℓ.3-4) e a outra, por “as águas claras” (ℓ.7), têm o efeito estilístico de reforçar a idéia expressa por “riqueza desse material simbólico” (ℓ.13).
- 4 Na linha 6, o pronome relativo “onde” tem como antecedente imediato “o orvalho” e corresponde semanticamente a **em que**.
- 5 Na linha 14, o verbo **ser** está empregado no singular para, em atendimento às regras gramaticais, concordar com o núcleo de seu sujeito, “riqueza” (ℓ.13).

### Que parte do planeta precisa ser protegida?

1 Grande parte da conservação de ecossistemas e de  
biodiversidade mundial, atualmente, se faz dentro dos limites  
de 44 mil parques e reservas, que somam 13,6 milhões de  
4 quilômetros quadrados, o equivalente aos territórios da  
China e da Índia, juntos. Se isso é suficiente para garantir a  
sobrevivência das espécies e os serviços ambientais  
7 essenciais ao planeta, é uma das questões a serem  
debatidas em Durban, na África do Sul, onde tem início o  
V Congresso Mundial de Parques, com a participação de  
10 mais de 2.500 pessoas, entre delegações governamentais e  
não-governamentais de 180 países.

De acordo com os estudos preparados para o  
13 congresso, apesar de a área nominalmente protegida ser  
grande, chegando a 12% da superfície terrestre, ainda há  
muitos parques e reservas de papel, com graves problemas de  
16 implantação. Além disso, a distribuição das unidades de  
conservação é desequilibrada em relação às concentrações de  
biodiversidade e há lacunas importantes a serem preenchidas.

Internet: <<http://www.estadao.com.br>>. Acesso em 8/9/2003 (com adaptações).

Considerando o texto acima, julgue os itens subsequentes.

- 6 Infere-se dos dados do texto que as delegações não-governamentais são mais numerosas porque têm colaborado mais na preservação da biodiversidade que as governamentais.
- 7 Na linha 2, o emprego do pronome “se” antecedendo o verbo é permitido pelas regras da norma culta por desempenhar a função de sujeito.
- 8 Como ocorre no texto após uma vírgula, o adjetivo “juntos” (ℓ.5) admite a dupla interpretação: (a) referir-se a “44 mil parques e reservas” (ℓ.3), ou (b) referir-se a “territórios da China e da Índia” (ℓ.4-5); se retirada a vírgula que o antecede, sua referência será apenas a “territórios da China e da Índia” (ℓ.4-5).
- 9 O emprego do plural em “a serem debatidas” (ℓ.7-8) é gramaticalmente opcional e tem como efeito de sentido enfatizar “questões” (ℓ.7).
- 10 A expressão iniciada pelo gerúndio “chegando” (ℓ.14) fornece uma comprovação para o argumento de “ser grande” (ℓ.13-14).
- 11 A expressão “de papel” (ℓ.15) é uma metonímia que abrevia a idéia de **plantação de árvores que servirão de matéria-prima para papel**.

1 Na década de 80, agricultores gaúchos invadiram o  
município de Chapada Gaúcha, em Minas Gerais, e  
derrubaram extensas áreas de mata virgem para implantar  
4 lavouras de soja. Os prejuízos ao ambiente foram tantos que,  
depois de desmatarem 30 mil hectares do cerrado, quase  
10% dos 312,3 mil hectares do município, os agricultores —  
7 assustados com a erosão e com o esgotamento das nascentes  
de água — resolveram se aliar aos ambientalistas.

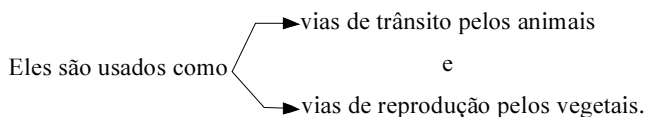
Há 18 meses buscam com técnicos da Fundação  
10 Pró-Natureza (Funatura) meios para proteger as fontes de  
águas naturais. Quatro produtores vão transformar  
3.252 hectares de suas fazendas em reservas particulares de  
13 patrimônio natural (RPPN). “As RPPN serão corredores  
ecológicos que vão unir as áreas de cerrado e o Parque  
Nacional Grande Sertão Veredas, contribuindo para  
16 preservar a cultura local”, explica o coordenador do projeto.

Corredores ecológicos são áreas que servem como  
meio de comunicação selvagem entre unidades de  
19 conservação. Eles são usados como vias de trânsito pelos  
animais e de reprodução pelos vegetais.

Cristina Ávila. *Reservas verdes*. In: *Correio  
Braziliense*, 17/5/2003, p. 15 (com adaptações).

Com relação ao texto acima, julgue os seguintes itens.

- 12 As expressões “agricultores gaúchos” (l.1), “agricultores” (l.6) e “produtores” (l.11) remetem aos mesmos indivíduos e, por isso, compõem uma cadeia coesiva.
- 13 De acordo com as relações textuais, “erosão” (l.7) e “esgotamento das nascentes de água” (l.7-8) constituem dois exemplos de “prejuízos ao ambiente” (l.4).
- 14 Preservam-se a coerência textual e a correção gramatical ao se substituir “Há” (l.9) por **Fazem**.
- 15 A oração iniciada por “contribuindo” (l.15) fornece uma finalidade e(ou) uma função para orações anteriores do mesmo período sintático.
- 16 A estrutura sintática da última oração do texto corresponde ao seguinte esquema:



1 **Istoé** — Como se resume o estilo de vida da classe C?

**Sônia Bueno** — Nós fazemos esse estudo com o  
4 objetivo de entender um pouco mais o processo de compra.  
O que a gente percebe é que as donas-de-casa da classe C  
são menos suscetíveis a promoções por quantidade, porque  
7 o orçamento apertado não permite uma compra para  
estocagem. Então tem menor peso a compra por impulso.  
Entre as donas-de-casa da classe C, 91% procuram produtos  
10 em promoções e 88% comparam preços antes de escolher a  
marca. Um número significativo, 82%, gosta de experimentar  
novas marcas. Quase 80% se limitam ao orçamento de  
13 compra e 67% concordam que o preço é o fator mais  
importante. Enfim, a gente percebe que existe uma atitude  
positiva em termos de experimentar novos produtos. É um  
16 consumidor pronto, que não tem a renda necessária para  
manter o padrão desejado.

Entrevista de Sônia Bueno, pesquisadora da Latin Panel à revista **Istoé**, 5/3/2003 (com adaptações).

Com base na entrevista acima, julgue os itens que se seguem.

- 17 Se a opção do texto fosse empregar a palavra “promoções” (l.6) de forma determinada, o uso do artigo obrigaria ao emprego do sinal indicativo de crase para se obter à.
- 18 Por sua força generalizadora, o artigo em “uma compra” (l.7) atribui, no texto, ao substantivo singular a representação de toda a espécie.
- 19 Considerando os sentidos do texto, a retirada das expressões numéricas “91%” (l.9) e “88%” (l.10) e a inserção de **a grande maioria** antes de “procuram” (l.9) preservam a coerência textual e a correção gramatical.
- 20 O último período do texto atende ao que solicita a pergunta e constitui um resumo objetivo de tudo que foi respondido.

De acordo com o disposto na Lei n.º 4.320/1964 e na Lei Complementar n.º 101/2000, julgue os itens subseqüentes.

- 21** O balanço financeiro demonstra a totalidade de recebimentos e de pagamentos, orçamentários e extra-orçamentários; contém, ainda, os saldos financeiros vindos do exercício anterior e os que passarão para o próximo exercício.
- 22** Restos a pagar ou resíduos passivos constituem uma rubrica com dotação própria constante do orçamento corrente, sendo a mesma subdividida em restos a pagar processados e restos a pagar não-processados.
- 23** A contabilidade pública admite a reavaliação de bens móveis e imóveis.
- 24** Cabe aos tribunais de contas alertar os poderes ou os órgãos interessados quando constatarem que o montante de despesas com pessoal extrapolou o limite prudencial, ou seja, 90% do limite estabelecido para esse gasto.
- 25** Empresa estatal dependente é qualquer empresa que receba recursos públicos repassados pelo Estado a qualquer título e que, portanto, dependa desses recursos para suas atividades empresariais.

É inexigível licitação por órgão ou entidade da administração pública para

- 26** aquisição de materiais, equipamentos ou gêneros que só possam ser fornecidos por produtor, empresa ou representante comercial exclusivo, vedada a preferência de marca e devendo a comprovação de exclusividade ser feita por meio de atestado fornecido pelo órgão de registro do comércio do local em que se realizaria a licitação, a obra ou o serviço, pelo sindicato, federação ou confederação patronal, ou, ainda, pelas entidades equivalentes.
- 27** contratação de associação de portadores de deficiência física, sem fins lucrativos e de comprovada idoneidade, com vistas à prestação de serviços ou fornecimento de mão-de-obra, desde que o preço contratado seja compatível com o praticado no mercado.

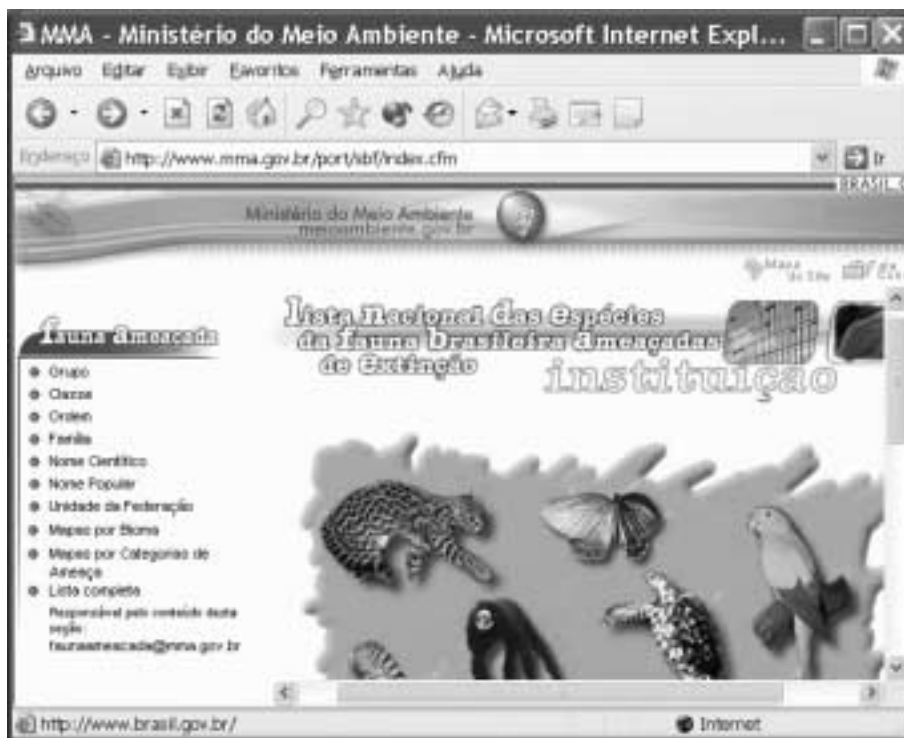
- 28** celebração de contratos de prestação de serviços com as organizações sociais, qualificadas no âmbito das respectivas esferas de governo, para atividades contempladas no contrato de gestão.

O projeto de lei que dispõe sobre o Plano Plurianual para o período de 2004-2007 estabelece que


- 29** as codificações de programas e ações do plano devem ser observadas nas leis de diretrizes orçamentárias, nas leis orçamentárias anuais e nos projetos que as modifiquem.
- 30** a exclusão ou alteração de programas constantes da Lei do Plano Plurianual para o período de 2004-2007 ou a inclusão de novo programa devem ser propostas pelo Poder Executivo exclusivamente nos projetos de lei orçamentária anual.

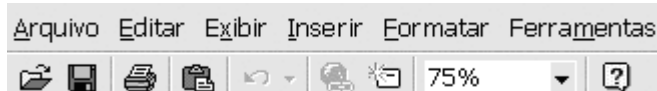
Julgue os itens que se seguem, a respeito do IBAMA — autarquia vinculada ao MMA.

- 31** O IBAMA é uma entidade da administração federal indireta.
- 32** O presidente do IBAMA não é hierarquicamente subordinado ao ministro de Estado do meio ambiente.
- 33** O diretor de um órgão do IBAMA somente pode revogar atos praticados por seus subordinados quando esses atos são praticados em clara desobediência a preceitos legais.
- 34** Configura exercício de poder de polícia administrativa a fiscalização realizada legalmente por agentes do IBAMA acerca de atividades de captura de mamíferos marinhos ameaçados de extinção.
- 35** O presidente da República tem competência para, mediante decreto, criar e extinguir empregos públicos no IBAMA.



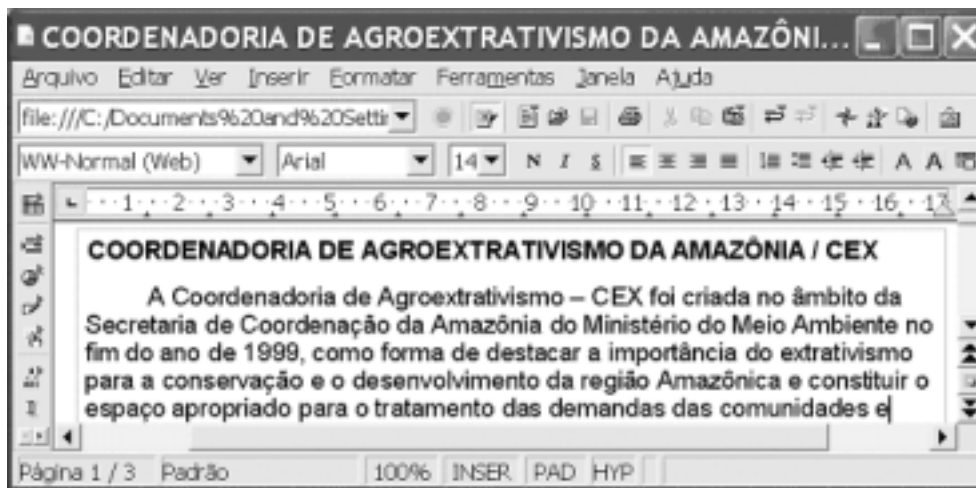
Um usuário da Internet acessou, por meio do Internet Explorer 6, o sítio do MMA, cujo URL é <http://www.mma.gov.br>, para obter informações acerca das espécies da fauna brasileira ameaçadas de extinção. Após algumas operações nesse sítio, o usuário obteve a página Web ilustrada na figura acima, que mostra uma janela do Internet Explorer 6. Acerca do Internet Explorer 6 e de conceitos relacionados à Internet e ao correio eletrônico, julgue os itens a seguir, considerando a figura mostrada.

- 36** Para que o acesso à Internet descrito acima ocorresse, foi necessário instalar, no computador do usuário, um *modem*, cujo número de série define o número IP que permite que informações relacionadas a páginas Web possam chegar corretamente até o computador.
- 37** Figuras disponíveis na página Web mostrada podem ser copiadas para o *winchester* do computador a partir do qual o acesso descrito acima foi realizado.
- 38** Caso o usuário instale um *firewall* no seu computador, ele passará a contar com recursos que podem aumentar a sua segurança contra alguns tipos de ataques por vírus de computador.
- 39** Ao clicar o botão , o usuário poderá ajustar o tamanho da fonte utilizada na página mostrada, bem como realizar um *zoom* sobre as figuras e ícones mostrados na página Web.






Com o auxílio da figura acima, que mostra parte da janela de um aplicativo do Microsoft Office, julgue os itens subsequentes, no que se refere ao Microsoft Office.

- 40** Em qualquer programa do Office, para copiar um item na área de transferência, é suficiente selecionar o item que se deseja copiar e clicar Copiar no *menu* **Editar**.
- 41** Para se adicionar um atalho para um documento, é suficiente clicar Abrir no *menu* **Ferramentas**; selecionar o documento para o qual se deseja criar o atalho; clicar **Inserir** e, em seguida, clicar Adicionar a favoritos.
- 42** No aplicativo Word, para selecionar todo um documento em edição, é suficiente posicionar o ponteiro do *mouse* no início do documento; clicar o botão direito do *mouse*; pressionar e manter pressionada a tecla **Ctrl**; teclar **Page Down**; e liberar a tecla **Ctrl**.
- 43** No aplicativo Excel, considerando que as células de A1 a A4 contenham valores numéricos, ao se digitar =MÉDIA(A1;A2;A3;A4) na célula B2 e, a seguir, teclar **Enter**, será exibido, na célula B2, o valor correspondente à média aritmética dos conteúdos das células de A1 a A4.



A figura acima mostra uma janela da ferramenta Writer, do OpenOffice 1.0.3, com um texto que está sendo editado por um usuário. Com relação a essa janela e ao OpenOffice 1.0.3, julgue os itens seguintes.

- 44 Está sendo exibida na janela do OpenOffice a página 1 do documento mostrado. Para exibir a página 2 desse mesmo documento é suficiente clicar .
- 45 Para abrir um novo documento em branco, é suficiente clicar .
- 46 Com o auxílio do botão , é possível criar e editar *hyperlinks*.

O encontro foi inédito e reuniu pelo menos 120 técnicos e pensadores em uma rede voluntária internacional de ambientalistas que discutiram alternativas e políticas que possam cooperar no desenvolvimento de projetos ecologicamente sustentáveis. Falaram sobre agroecologia, energias limpas e renováveis e educação para a sustentabilidade.

Promovido pelo MMA em parceria com o físico e teórico de sistemas Fritijof Capra, o Instituto Ecoar para a Cidadania e o Programa Brasil Sustentável e Democrático, o seminário **Diálogos para um Brasil Sustentável** poderá influenciar o conjunto do governo na elaboração de políticas públicas que levem à sustentabilidade ambiental, econômica, social e cultural, admitiu a ministra do Meio Ambiente, Marina Silva. O documento final do seminário vai servir ainda de subsídio à 1.ª Conferência Nacional do Meio Ambiente e será entregue ao governo brasileiro e ao diretor executivo do Programa das Nações Unidas para o Meio Ambiente, Klaus Töpfer.

Ana Diniz. **Diálogos para um Brasil sustentável**. In: **JB Ecológico**, ano 2, n.º 20, 21/9/2003, p. 18-9 (com adaptações).

Considerando o texto acima e os diversos aspectos concernentes à temática ambiental no Brasil e no mundo contemporâneo, julgue os itens seguintes.

47 Conquanto se saiba que a relação dos homens com a natureza acompanha a trajetória das sociedades ao longo da História, não há dúvida de que o processo evolutivo da economia contemporânea, especialmente a partir da Revolução Industrial, correspondeu a uma monumental ampliação da capacidade de produzir e à expansão de um sistema econômico fundamentalmente voltado para a produção de bens e para o capital.

48 O desenvolvimento de uma mentalidade ambientalista, a partir de meados do século XX, especialmente em suas três últimas décadas, foi decisivo para o surgimento de novos conceitos e idéias, os quais, de maneira geral, postulam uma nova e mais ampla concepção de desenvolvimento — o sustentável — em que interagem aspectos econômicos, sociais, ambientais, políticos e culturais.

49 Uma das marcas características da sociedade contemporânea é a crescente importância das organizações não-governamentais (ONGs), em larga medida impulsionadoras de ações que os Estados se vêem obrigados a realizar, como acontece, por exemplo, na área ambiental. No Brasil, contudo, uma legislação considerada cerceadora e remanescente do chamado “entulho autoritário”, praticamente impede o trabalho dessas organizações.

50 Ainda que possam divergir pontualmente, os ambientalistas, em geral, defendem o investimento em políticas públicas comprometidas com a superação da miséria e com a mudança nos padrões de produção e de consumo, consideradas essenciais para um real desenvolvimento sustentável.

51 Energia limpa e renovável, o petróleo continua sendo o motor da industrialização contemporânea, embora, no seu conjunto, a economia globalizada dos dias de hoje não se ressinta tanto de sua escassez. Todavia, o peso específico que ainda tem em relação a determinadas atividades econômicas faz que a principal área de produção petrolífera do mundo, o Oriente Médio, permaneça como foco de tensões e de disputas por seu controle.

- 52 Relativamente ao setor agrícola, técnicos, ambientalistas e autoridades governamentais, em geral, defendem atualmente a adoção de um “capitalismo verde”, ou seja, o combate tanto às fazendas familiares, que pouco produzem, quanto ao agronegócio e às demais expressões de mentalidade empresarial no campo como forma de preservar os recursos naturais.
- 53 A conhecida expressão “a ONU que dá certo” remete à idéia de que a Organização das Nações Unidas (ONU), muitas vezes impedida de agir em graves situações mundiais em face das injunções e dos interesses que envolvem as grandes potências, consegue bons resultados em sua atuação em outros campos, a exemplo da educação, da cultura, da proteção à infância e da defesa do meio ambiente.
- 54 Órgão integrante da administração federal direta, o MMA é responsável, entre outras atividades, pela política nacional do meio ambiente e pela política nacional de recursos hídricos, além das políticas para a integração do meio ambiente e da produção.
- 55 A recente medida provisória editada pelo Poder Executivo, tratando da liberação do plantio de sementes transgênicas no território brasileiro, explicitou divergências de pontos de vista entre os vários interesses e áreas do conhecimento acerca do assunto.
- 56 Com poucos recursos naturais e detentor de uma biodiversidade relativamente modesta, o Brasil tem chamado a atenção da comunidade internacional por seus esforços para implantar uma política nacional de meio ambiente responsável e integrada, presente nas mais diversas ações governamentais.

Acerca da estrutura regimental do MMA, julgue os itens a seguir.

- 57 Compete à Secretaria-Executiva do MMA assistir ao ministro de Estado na supervisão das atividades do IBAMA.
- 58 Compete ao secretário-executivo elaborar o plano de ação global do Ministério e submetê-lo à apreciação do ministro de Estado.
- 59 Compete à Secretaria de Recursos Hídricos (SRH) definir estratégias para a gestão integrada dos ambientes costeiro e marinho.
- 60 A SRH exerce a função de secretaria-executiva da Agência Nacional de Águas (ANA).
- 61 O Conselho Nacional do Meio Ambiente (CONAMA) não é autarquia vinculada ao MMA.

- 62 A Consultoria Jurídica (CONJUR) é um órgão da Advocacia-Geral da União.
- 63 Os atos que reconhecem a inexigibilidade de licitação devem ser previamente examinados pela CONJUR.
- 64 A proposição de políticas relacionadas aos organismos geneticamente modificados é de competência exclusiva da Subsecretaria de Políticas para o Desenvolvimento Sustentável (SDS).
- 65 Compete à Secretaria de Biodiversidade e Florestas (SBF) a realização dos estudos relativos à contabilidade e à valoração econômica de recursos naturais.
- 66 O secretário de biodiversidade e florestas não é a autoridade do MMA competente para coordenar o processo de captação de recursos de fontes internacionais para a realização de projetos de conservação da biodiversidade.

## RECURSOS HÍDRICOS

Os métodos de identificação ou diagnóstico dos processos de desertificação têm sido objeto de dúvidas e críticas por parte de muitos, especialmente daqueles que têm a responsabilidade pela implementação de programas e projetos de desenvolvimento. (...) Há que se destacar um problema de ordem simbólica. A imagem de deserto difundida para a grande maioria das pessoas é de dunas, areia e vazio. Não há uma clara associação entre a realidade física da desertificação e as imagens estereotipadas dos desertos, o que faz que muitos não “vejam” os sinais de um tal processo a não ser nas dunas e areias do litoral do Nordeste.

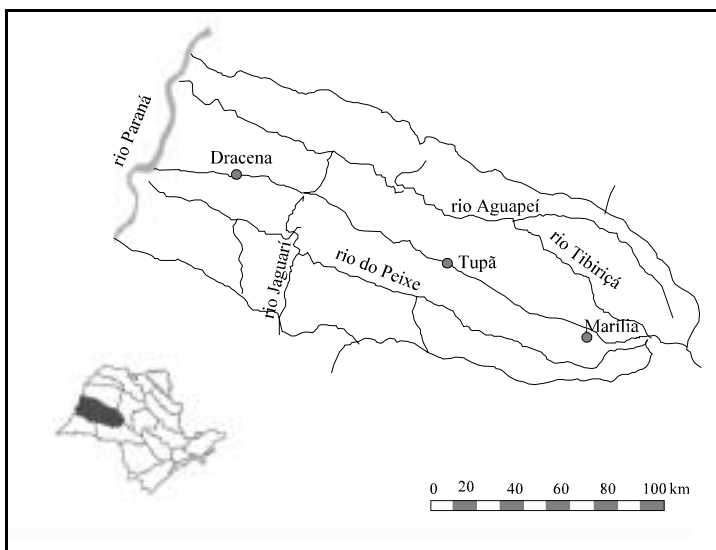
Heitor Matallo Junior. *Indicadores de desertificação: histórico e perspectivas.*  
In: Heitor Matallo Junior. *Série meio ambiente*, v. 2, p. 28-9, 2001 (com adaptações).

Acerca do tema abordado no texto acima, julgue os itens a seguir.

- 67 A desertificação diz respeito a processos de formação de desertos nas regiões áridas e semi-áridas.
- 68 Nas diretrizes para a Política Nacional de Controle da Desertificação prevê-se o apoio a implementação de programas de peixamento em açudes, o que pode resultar em impactos ambientais negativos se realizados segundo as experiências tradicionais do setor hidrelétrico.
- 69 Indicadores de desertificação já utilizados no Brasil, com base em microrregiões, foram objeto de críticas devido à generalização para um espaço geográfico mais amplo.
- 70 Salinização e qualidade da água, usualmente consideradas como variáveis indicadoras de desertificação, evidenciam a necessidade de integração das políticas de combate à desertificação às políticas de gestão de recursos hídricos.

O Comitê das Bacias Hidrográficas dos rios Aguapeí e do Peixe (SP), instalado em 19/12/1995, apresenta sessenta municípios integrantes, cobrindo uma área de 18.964 km<sup>2</sup>, em que se encontram representados a sociedade civil sediada na bacia (formada pelas universidades, grandes usuários e associações técnicas, comunitárias e não-governamentais), o estado e os municípios, cada segmento com quatorze votos, de acordo com as diretrizes da Lei Estadual de Recursos Hídricos (n.º 7.663/1991). A localização geográfica da área de atuação do Comitê se encontra na figura a seguir. Os rios Aguapeí e do Peixe deságuam no rio Paraná, que recebe também água dos rios que integram a área de atuação de outros quatro Comitês de Bacias do estado de São Paulo, antes de sair de São Paulo e percorrer outras unidades da Federação. No estado de São Paulo contabilizam-se 21 Comitês instalados e em funcionamento, conforme informação do Conselho Estadual de Recursos Hídricos em março de 2002.

Documento conjunto do governo do estado de São Paulo/Conselho Estadual de Recursos Hídricos/Secretaria de Recursos Hídricos, Saneamento e Obras/Departamento de Águas e Energia Elétrica, mar./2002, p.1-6 (com adaptações).



Acerca de gestão de recursos hídricos e com base nas informações acima, julgue os itens a seguir.

- 71 A legislação paulista está fundamentada nos princípios da gestão descentralizada e participativa dos recursos hídricos, mesmo sendo anterior à Política Nacional de Recursos Hídricos.
- 72 O comitê de bacia figura como um dos instrumentos da Política Nacional de Recursos Hídricos.

73 Conforme a Lei n.º 9.433/1999, o comitê do rio Paraná, que é um comitê de bacia de âmbito estadual, pode ser formado por representantes dos cinco comitês de bacias envolvidos, sem a representação da União.

74 Nenhum dos sessenta municípios integrantes dos comitês das bacias dos rios Aguapeí e do Peixe pode participar de outros comitês de bacias no estado de São Paulo, visto que cada município só pode pertencer a uma bacia hidrográfica.

	<b>infra-estrutura social I</b>	<b>agricultura e outros II</b>	<b>indústria III</b>
a	doméstico	agricultura	hidreletricidade
b	dessedentação de animais	pecuária	termeletricidade
c	navegação	irrigação	resfriamento
d	recreação	piscicultura por cercamento no próprio rio	mineração
e	diluição de efluentes	piscicultura com bombeamento de água para tanques	processos industriais

Sebastião Virgílio de A. Figueiredo. **Conflitos relativos ao uso de água**. In: Demétrius D. da Silva e Fernando F. Pruski. **Recursos hídricos e desenvolvimento sustentável da agricultura**. Brasília: MMA, 1997, p. 37-44 (com adaptações).

O quadro acima ilustra os principais usos da água. Considerando esse quadro e o tema abordado, julgue os itens subsequentes.

- 75 Entre os usos citados, aI, bI, aII, bII, cII, aIII, bIII, cIII e eIII correspondem a usos não-consuntivos.
- 76 O uso bI é definido pela Lei n.º 9.433/1999 como uma das prioridades no caso de escassez de água.
- 77 Conflitos sempre surgem em uma bacia hidrográfica quando, no rio, um uso consuntivo de água se realiza à montante de um uso não-consuntivo; mas se à montante, o uso for não-consuntivo, não haverá conflito.
- 78 O estímulo à atividade cI pode gerar conflitos entre os usuários ou mesmo promover profundas alterações nos ecossistemas, merecendo cuidadosos estudos de impacto ambiental.