



PODER JUDICIÁRIO

TRIBUNAL DE JUSTIÇA DO ESTADO DO AMAPÁ

CONCURSO PÚBLICO

Aplicação:
1.º/2/2004

MANHÃ

CADERNO DE PROVAS

NÍVEL MÉDIO

Auxiliar Judiciário
Área: Apoio Especializado
Especialidade: Motorista

CARGO 12



CESPE
UNIVERSIDADE DE BRASÍLIA
Criando Oportunidades para Realizar Sonhos

LEIA COM ATENÇÃO AS INSTRUÇÕES ABAIXO.

- 1 Ao receber este caderno, confira se ele contém **cento e vinte e cinco** itens, correspondentes às provas objetivas, corretamente ordenados de **1 a 125**.
- 2 Caso o caderno esteja incompleto ou tenha qualquer defeito, solicite ao fiscal de sala mais próximo que tome as providências cabíveis.
- 3 Recomenda-se não marcar ao acaso: a cada item cuja resposta marcada diverja do gabarito oficial definitivo, além de não marcar ponto, o candidato perde **1,00** ponto, conforme consta no Edital n.º 4/2003 – Comarcas de Macapá e Santana, de 17/12/2003.
- 4 Não utilize nenhum material de consulta que não seja fornecido pelo CESPE.
- 5 Durante as provas, não se comunique com outros candidatos nem se levante sem autorização do chefe de sala.
- 6 A duração das provas é de **três horas**, já incluído o tempo destinado à identificação — que será feita no decorrer das provas — e ao preenchimento da folha de respostas.
- 7 Ao terminar as provas, chame o fiscal de sala mais próximo, devolva-lhe a sua folha de respostas e deixe o local de provas.
- 8 A desobediência a qualquer uma das determinações constantes no presente caderno, na folha de rascunho ou na folha de respostas poderá implicar a anulação das suas provas.

AGENDA

- I **2/2/2004** – Divulgação, a partir das 10 h (horário de Brasília), dos gabaritos oficiais preliminares das provas objetivas, na Internet — no site <http://www.cespe.unb.br> — e nos quadros de avisos do CESPE/UnB — em Brasília.
- II **3 e 4/2/2004** – Recebimento de recursos contra os gabaritos oficiais preliminares das provas objetivas, exclusivamente nos locais e no horário que serão informados na divulgação dos referidos gabaritos.
- III **18/2/2004** – Data provável da divulgação (após a apreciação de eventuais recursos), nos locais mencionados no item I e no Diário Oficial do Estado do Amapá, do resultado final das provas objetivas para todos os cargos e da convocação para a prova prática de digitação para os cargos **1, 2, 4, 6, 7, 8, 9 e 11**.

OBSERVAÇÕES

- Não serão objeto de conhecimento recursos em desacordo com o estabelecido no item 11 do Edital n.º 4/2003 – Comarcas de Macapá e Santana, de 17/12/2003.
- Informações relativas ao concurso poderão ser obtidas pelo telefone 01(XX) 61 448 0100.
- É permitida a reprodução deste material apenas para fins didáticos, desde que citada a fonte.

- De acordo com o comando a que cada um dos itens de 1 a 125 se refira, marque, na **folha de respostas**, para cada item: o campo designado com o código **C**, caso julgue o item **CERTO**; ou o campo designado com o código **E**, caso julgue o item **ERRADO**. A ausência de marcação ou a marcação de ambos os campos não serão apenadas, ou seja, não receberão pontuação negativa. Para as devidas marcações, use a folha de rascunho e, posteriormente, a **folha de respostas**, que é o único documento válido para a correção das suas provas.
- Nos itens que avaliam **Conhecimentos de Informática**, a menos que seja explicitamente informado o contrário, considere que todos os programas mencionados estão em configuração-padrão, em português, que o *mouse* está configurado para pessoas destros e que expressões como clicar, clique simples e clique duplo referem-se a cliques com o botão esquerdo do *mouse*. Considere também que não há restrições de proteção, de funcionamento e de uso em relação aos programas, arquivos, diretórios e equipamentos mencionados.

CONHECIMENTOS BÁSICOS

Texto I – itens 1 a 10

Justiça itinerante é destaque em congresso na Alemanha

1 A Justiça Itinerante Terrestre e Fluvial do Amapá foi
destaque no XII Congresso da Associação de Informática do Estado
de Sarre, na Alemanha. O evento foi realizado no final do mês de
4 setembro, tendo como tema geral “Rumo à justiça do futuro com
a tecnologia de hoje”.

7 O Tribunal de Justiça do Amapá foi convidado a participar
do evento, devido ao trabalho desenvolvido junto à comunidade por
meio da Justiça Itinerante Terrestre e Fluvial. A juíza Coordenadora
dos Juizados Especiais Cíveis da Capital palestrou para uma platéia
10 formada por mais de quatrocentos participantes de vários países.

13 Na explanação, a coordenadora falou do sucesso no
atendimento feito à população por meio dos Tribunais Itinerantes
Terrestre e Fluvial e do Juizado Especial Volante, além do combate
à exclusão e desigualdade social, do acesso da população à justiça,
da desburocratização e da aproximação da justiça com o cidadão.

16 Segundo a coordenadora, o trabalho desenvolvido pela
justiça do Amapá chamou a atenção internacional devido à
humanização do Poder Judiciário. “Entendemos que uma pessoa que
19 chega à justiça através de conflito deve ser atendida com qualidade
e humanização, para que ela possa crescer com o conflito que a
levou ao Judiciário.”

22 “O cidadão deve participar da solução do conflito no
Judiciário a fim de poder voltar à sociedade e conviver em
harmonia”, acentua a juíza que coordena as ações dos Juizados
25 Especiais Cíveis desde sua implantação, no ano de 1996.

28 Para o vice-presidente do Tribunal de Justiça do Estado no
exercício da presidência, o interesse que esse trabalho desperta em
caráter internacional está no acesso do cidadão à justiça sem as
dificuldades da burocracia. “É o Judiciário em contato direto com
o cidadão, oferecendo seus serviços e levando assistência à
31 população ribeirinha carente dos serviços públicos”, disse o
magistrado que idealizou e implementou a instalação dos Juizados
Especiais, da Justiça Itinerante Fluvial e Terrestre e da Justiça
34 Volante.

37 Durante a apresentação dos trabalhos realizados pela
Justiça Itinerante, foi exibido um documentário de 45 minutos,
produzido no Amapá, em 2001, pelo alemão Klaus Dixel, que
esteve presente ao evento, onde prestou depoimento acerca do
sucesso do trabalho da Justiça Itinerante no Amapá.

Assessoria de Imprensa do TJAP. Macapá, 8/10/2003. Internet:
<<http://www.tjap.gov.br>>. Acesso em dez./2003 (com adaptações).

Com base nas informações contidas no texto I, julgue os
itens a seguir.

- 1 O Tribunal de Justiça do Estado do Amapá foi convidado a participar do XII Congresso da Associação de Informática do Estado de Sarre, na Alemanha, para apresentar o trabalho desenvolvido junto à comunidade por meio da Justiça Itinerante Terrestre e Fluvial.
- 2 Os Tribunais Itinerantes Terrestre e Fluvial e o Juizado Especial Volante visam atender, em condições especiais, a população amapaense.
- 3 O XII Congresso da Associação de Informática do Estado de Sarre, na Alemanha, contou com a presença de vários participantes de quatrocentos países.
- 4 A solução de um conflito judicial deve, necessariamente, ter caráter educativo para o cidadão nele envolvido.
- 5 O “evento” referido na penúltima linha do texto é a implantação dos Juizados Especiais Cíveis.

Com relação à grafia das palavras e à sintaxe do texto I, julgue os itens que se seguem.

- 6 Na expressão “à humanização” (l.17-18), o emprego do acento grave indicativo de crase é facultativo.
- 7 A forma verbal ‘Entendemos’ (l.18) é um exemplo do uso do plural majestático.
- 8 O vocábulo “caráter” (l.28) pode ser substituído por **caractere**, sem que se incorra em erro.
- 9 A forma verbal “foi exibido” (l.36) pode ser substituída por **exibiu-se**, sem que haja alteração de sentido.
- 10 A vírgula que aparece logo depois da palavra “evento” (l.38) pode ser retirada, sem que isso acarrete alteração do sentido e da correção do texto.

A justiça e a ética da inclusão

1 Todos os setores da vida nacional serão influenciados pela histórica e inédita alternância no poder ocorrida em 1.º de janeiro. O Poder Judiciário não ficará imune a isso e como reagirão os diversos juízes e tribunais é algo a ser visto ao longo dos próximos quatro anos.

4 Alguns pontos, porém, saltarão aos olhos de todas as pessoas e irão destacar a relação que os brasileiros têm com a sua Justiça. Em meio ao torvelinho de denúncias públicas de corrupção e envolvimento de juízes com o crime organizado, o crédito de que goza o Poder Judiciário ainda é expressivo, mas, tanto quanto o prestígio dos novos governantes, o Judiciário dependerá de medidas concretas e de posições claras e justificadas para manter-se merecedor do respeito da sociedade.

7 Até o início dos anos 90, a maioria dos juízes tinha de si uma imagem distorcida. Fiadores da legalidade de um processo eleitoral ainda não confiável, os juízes majoritariamente acreditavam poder desempenhar suas funções alheios aos conflitos políticos. Proibido pela Constituição de dedicar-se à atividade político-partidária, o juiz brasileiro, em regra, assumia postura aparentemente indiferente ao resultado do confronto político, especialmente quando o enfrentamento ocorria nas urnas. A indicação clara da opção política de um juiz, ainda que sem conotação partidária, era, freqüentemente, objeto de crítica e de desqualificação do magistrado. Na outra ponta, a afinidade pessoal com os detentores do poder garantia tratamento privilegiado e prerrogativas inconcebíveis. O nepotismo e o fisiologismo foram denunciados pela mídia durante esse período.

16 Essa maneira de ver a si mesmo e de agir conforme essa imagem, hoje parcialmente superada, foi responsável pela manutenção de um padrão de decisão judicial que focava o interesse particular acima e além de interesses mais abrangentes, da maior parte da população. Reivindicando para si a falsa condição de neutralidade política, o juiz decidia controvérsias sobre a propriedade de terras, os salários, o direito ao trabalho e até sobre questões criminais, invocando as regras de uma legalidade construída no tempo do arbítrio e fundada na prevalência dos interesses singulares das elites em face dos direitos dos excluídos. Esses direitos, por sua vez, ficavam retidos na Constituição, como simples texto, incapazes de se transformarem em realidade.

22 Progressivamente a magistratura brasileira foi mudando, e o alargamento de seu quadro de primeiro grau, formado pelos juízes que decidem a maioria das causas, produziu o efeito mais visível de alteração do eixo decisório. Talvez os juízes não tenham alcançado uma postura totalmente nova diante dos poderosos de sempre, todavia tornava-se inquestionável o seu compromisso com as massas de consumidores, eleitores e parcela significativa da classe média. Os Juizados Especiais são a prova disso, mas a transformação ainda não foi capaz de mudar a vida dos mais pobres. A insuficiência desse novo compromisso pode ser atestada pelo sentimento difuso de desconforto que a população pobre percebe quando recorre ou é chamada à Justiça.

28 Por isso, creio que é possível interpretar a escolha de outro modelo de relação entre governantes e governados — evidente mensagem das urnas — como exigência de outra ética que muito afeta o trabalho dos juízes. Trata-se de “olhar a partir de baixo”, como diria conhecido cientista francês, e perceber, do ponto de vista dos mais pobres, as históricas contradições sociais, políticas e econômicas que abalam a estrutura da sociedade brasileira, assumindo que a reversão das expectativas de pobreza e ignorância depende muito do nível de comprometimento social dos juízes e da qualidade das práticas sociais que implementarem.

34 Como exemplo disso estão a interpretação e a aplicação do direito constantemente voltadas à integração da massa excluída, por meio do efetivo reconhecimento do direito a saúde, educação, habitação e trabalho e pela compreensão do fenômeno do crime nas grandes cidades como expressão da dura contradição entre ser proprietário e(ou) adquirir identidade. A solução das questões individuais e coletivas que são levadas ao Poder Judiciário deve representar a escolha da decisão que privilegia a proteção dos mais fracos e a redução do abismo social!

37 Assumir uma postura alinhada aos interesses dos grupos desfavorecidos é atuar politicamente. A forma como os juízes lidarão com a tensão gerada pelo conflito entre os interesses normalmente protegidos pelo sistema legal e os da parcela da população que se vê em destaque no novo governo, interesses que, na sua maioria, já estão consagrados na Constituição, refletirá a opção entre o antigo e o novo.

Geraldo Prado – JB. Internet: <<http://www.stacecilia.org.br/materias/materia41.htm>> (com adaptações).

Com base nas idéias do texto II, julgue os itens seguintes.

- 11 A sociedade brasileira continua confiando no Poder Judiciário, mas espera ansiosa por medidas concretas e posições claras dos juízes que justifiquem essa confiança.
- 12 Por força da Constituição, os juízes brasileiros eram obrigados a manter uma postura apartidária.
- 13 Nepotismo e fisiologismo são formas persuasivas preconizadas pela Constituição do Brasil.
- 14 A expressão “Na outra ponta” (l.13) pressupõe a existência de, pelo menos, mais uma ponta relativa à isenção política dos juízes brasileiros.
- 15 Atualmente, a população mais pobre, ao recorrer ou ao ser chamada à Justiça, sente-se plenamente confiante nos juízes brasileiros.
- 16 A Justiça tem-se mantido imune às históricas contradições sociais, políticas e econômicas que abalam a estrutura da sociedade brasileira.
- 17 Ao assumirem uma conduta em prol do direito da massa excluída à saúde, à educação, à habitação e ao trabalho, os juízes adotam um compromisso ético de base política.

Com referência à tipologia e à estruturação do texto II, julgue os itens subseqüentes.





- 18 O texto é fundamentalmente descritivo.
- 19 Como está redigido, o texto pode ser classificado como um requerimento.
- 20 Nas linhas 27 e 28, os travessões podem ser substituídos por parênteses, sem que se incorra em erro de pontuação.
- 21 A expressão ‘olhar a partir de baixo’ (l.28) deve ser entendida em seu sentido denotativo.


Com base nos princípios de ortografia, emprego de palavras e sintaxe, julgue os seguintes itens, relativos ao texto II.





- 22 Uma única regra orienta a acentuação gráfica dos vocábulos “juízes” e “saúde”.
- 23 Na linha 26, o sentido original do texto será mantido, caso o adjetivo “pobre” seja colocado imediatamente antes do vocábulo “população”.
- 24 O termo “disso” (l.32) tem como referente o período “Trata-se de (...) implementarem” (l.28-31).
- 25 O segmento “que são” (l.35) pode ser suprimido, sem que se incorra em erro de sintaxe.



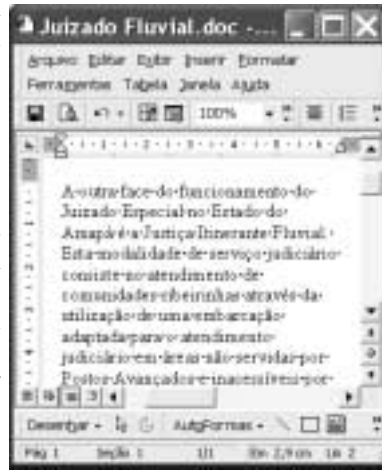
Com base nas informações contidas na janela do Internet Explorer 6 ilustrada acima, é correto concluir que, ao se clicar


- 30 o botão  Ir, será aberta uma janela do Windows Explorer que mostrará o conteúdo da pasta denominada Favoritos do Internet Explorer 6. Por meio dessa janela, é possível manipular as páginas definidas como favoritas desse aplicativo.
- 31 o botão , será aberta uma janela que permitirá definir os recursos de impressão que possam estar disponíveis no computador por meio do qual se realizou o acesso à Internet que permitiu obter a página Web mostrada acima.
- 32 , no botão , será possível obter informações acerca de páginas Web acessadas na sessão de uso do Internet Explorer 6 que permitiu obter a página mostrada acima.
- 33 o menu **Ferramentas**, será possível selecionar Opções da Internet, funcionalidade do Internet Explorer 6 que permite definir níveis de segurança no acesso a determinados conteúdos na Internet.


A janela acima foi obtida ao se clicar o botão  em um computador PC cujo sistema operacional é o Windows XP. Considerando essa figura, julgue os itens a seguir.


- 26 Ao se clicar o botão , será aberta a janela Meu computador.
- 27 Ao se clicar o botão , o modo UNIX do Windows XP será ativado. Nesse modo, o computador poderá operar na forma multitarefas.
- 28 Se o computador possuir acesso à Internet em rede ADSL, o botão  permitirá estabelecer uma conexão ADSL com a Internet, por meio de um provedor de Internet.
- 29 Ao se clicar o botão , o computador no qual a janela está sendo executada será desligado.


A figura ao lado mostra uma janela do Word 2000, com parte de um texto extraído do sítio <http://www.tjap.gov.br>. Considerando essa figura, julgue os itens a seguir, relativos ao Word 2000.

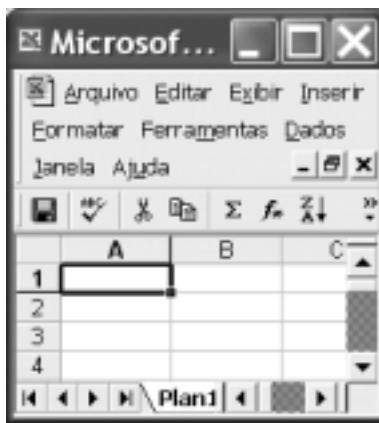


34 Para se alinhar o parágrafo mostrado do documento à margem direita, é suficiente clicar em qualquer palavra desse parágrafo e, a seguir, clicar o botão .


35 Para se excluir do texto mostrado o termo “Fluvial”, é suficiente aplicar um clique duplo sobre esse termo e, a seguir, teclar .




36 Para se inserir uma marca de tabulação apenas na linha contendo o trecho “Esta modalidade”, é suficiente clicar imediatamente antes desse trecho e, a seguir, teclar .



37 Para se ocultar as régua horizontal e vertical observadas na janela mostrada, é suficiente aplicar um clique duplo no botão , localizado à esquerda da régua horizontal.



Considerando a figura acima, que mostra uma janela do Excel 2000 com a célula A1 selecionada, julgue os itens subsequentes.

38 Sabendo que a população do estado do Amapá é estimada em 475.843 habitantes e que a área do estado é igual a 143.453 km², então, para se determinar a densidade populacional do Amapá, em habitantes por km², pondo o resultado na célula A1, é suficiente digitar =475843/143453 e, a seguir, teclar .

39 Considere o seguinte procedimento: digitar Amapá; teclar ; digitar Macapá; teclar ; selecionar as células A1 e A2; clicar . Com esse procedimento, as células A1 e A2 terão, respectivamente, os conteúdos Macapá e Amapá.

40 Para se inserir na célula A1 da planilha o termo Amapá, com a formatação da fonte no estilo itálico e negrito, é suficiente clicar , para acionar o referido estilo de fonte; digitar Amapá e, a seguir, teclar .

Levantamento do Instituto Brasileiro de Geografia e Estatística (IBGE) demonstra o crescimento da violência, que vitima principalmente a juventude no país. Em 1990, crimes e acidentes de trânsito causaram 60,25% dos óbitos entre homens com idade de 15 a 24 anos. Em 2002, esse índice chegou a 70,67%, percentual recorde no Brasil. Entre as mulheres da mesma faixa etária, o índice de mortes violentas também aumentou no mesmo período, passando de 28,25% para 34,14%.

Jornal de Brasília, 18/12/2003, capa.

A partir do texto acima e considerando os múltiplos aspectos que envolvem o tema que ele focaliza, julgue os itens seguintes.

41 Embora com índices elevados, a violência no Brasil é amenizada pelo fato de estar restrita aos grandes centros urbanos.

42 Dificuldade de acesso e de permanência na escola e falta de perspectiva profissional são problemas que contribuem para a marginalidade de adolescentes e de jovens.

43 O tráfico de drogas, hoje sob controle mais severo do Estado, pouco influi no aumento da criminalidade, pois quem dele se ocupa busca preservar seus ganhos e, assim, afasta-se das ações violentas.

44 Ao revogar o Estatuto da Criança e do Adolescente, graças sobretudo às pressões da sociedade e dos meios de comunicação, o Brasil ficou desprovido de legislação adequada à proteção de seus menores que vivem em situação de risco social.

45 A recente redução da maioridade penal, de 18 para 16 anos, decorreu do clamor popular diante de crimes bárbaros cometidos por indivíduos menores de idade.

46 As razões para que a expectativa de vida do homem brasileiro seja inferior à da mulher incluem a violência, que atinge os rapazes em maior número.

47 Políticas públicas que criem perspectivas de vida para os jovens, a exemplo da educação e do emprego, são vitais para a redução dos índices de violência.

48 Para os estudiosos do assunto, o apelo exagerado ao consumo — tão próprio da sociedade contemporânea — gera desejos e frustrações que costumam resultar em práticas criminosas.

49 Sabe-se que parte do aumento do número de mortes violentas no Brasil se deve ao consumo de álcool, muito presente tanto em brigas quanto em homicídios.

50 A proibição do porte de armas, no Brasil, foi acompanhada, simultaneamente, pela lei que proíbe a publicidade de álcool e de fumo em todos os meios de comunicação brasileiros.

CONHECIMENTOS ESPECÍFICOS

A habilidade de se manter boas relações humanas no trabalho está sendo considerada um importante diferencial nas organizações. Acerca desse tema, julgue os itens seguintes.

- 51 Estabelecer e impor limites nas relações interpessoais é prejudicial ao bom andamento dos trabalhos.
- 52 Um bom gerente deve saber reconhecer o estilo e o que motiva cada um de seus colaboradores para que o trabalho seja mais produtivo.
- 53 A comunicação entre as pessoas, no ambiente de trabalho, deve ser completamente desprovida de emoção.
- 54 Conflitos interpessoais podem ser facilmente resolvidos pelo gerente, se ele buscar todas as informações relativas ao fato junto ao empregado identificado como agente causador do conflito.

Julgue os itens subseqüentes relativos à qualidade no atendimento ao público e à ética no serviço público.

- 55 Um motorista do TJAP, responsável pela condução de veículos oficiais que fazem o transporte de magistrados, visitantes ilustres e servidores, deve dispensar tratamento diferenciado para os dois primeiros, por serem autoridades.
- 56 O motorista que faz uso de veículo público para qualquer atividade pessoal está praticando comportamento antiético.
- 57 A qualidade do atendimento resulta da combinação de variáveis pessoais, materiais, técnicas e orçamentárias da organização.
- 58 A confiabilidade das informações, a cortesia no trato com os usuários e a presteza no atendimento determinam a qualidade no atendimento ao público.
- 59 Para prestar um bom serviço aos seus usuários, o motorista deve ter um sólido conhecimento das normas de legislação de trânsito e as cumprir rigorosamente.
- 60 A qualidade dos serviços prestados por um motorista é mais influenciada pela cortesia no tratamento ao cliente, apresentação e higiene pessoal do que pela habilidade de comunicação verbal, pois esta é uma característica totalmente dispensável para o bom cumprimento da função.

Acerca do trabalho em equipe, julgue os itens subseqüentes.

- 61 A falta de motivação de apenas um membro da equipe prejudica o desenvolvimento do espírito de equipe.
- 62 No relacionamento interpessoal no âmbito do trabalho, as pessoas que são hábeis no oferecimento e recebimento de *feedback* são mais respeitadas pela equipe.
- 63 No desenvolvimento do trabalho em equipe, as pessoas que têm alta inteligibilidade são normalmente menos apreciadas pelos seus pares.
- 64 Para o desenvolvimento do trabalho de equipes de alto desempenho é imprescindível a presença constante, e em tempo integral, do gerente.
- 65 O grau de coesão e cooperação dos membros pode definir o sucesso ou o fracasso do trabalho desenvolvido pela equipe.


Em via urbana de trânsito rápido com perfeitas condições de trânsito, mas desprovida de sinalização indicativa da velocidade máxima, Jorge dirigia seu veículo, desenvolvendo a velocidade de 95 km/h, medida no radar de um posto de fiscalização, onde foi parado por um agente de trânsito que, além de constatar a velocidade desenvolvida pelo veículo, verificou que Jorge não estava fazendo uso do cinto de segurança.

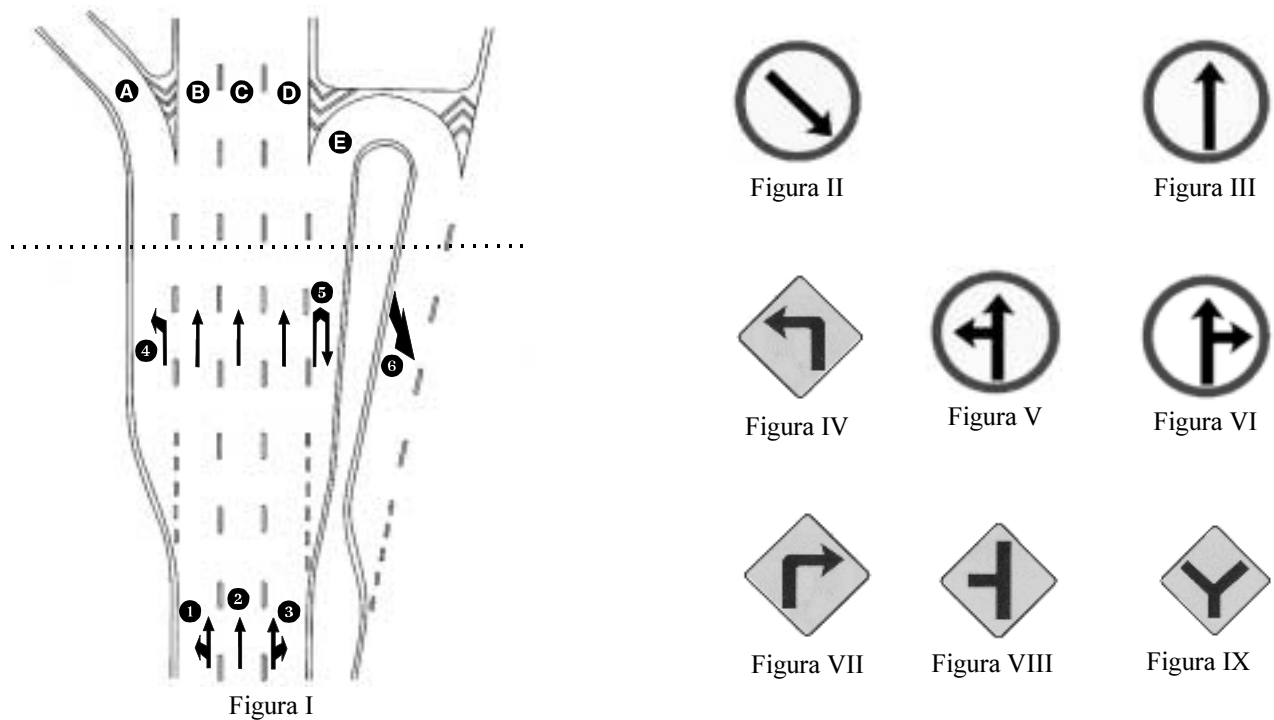
Em face dessa situação hipotética e das disposições do Código de Trânsito Brasileiro (CTB), julgue os itens que se seguem.

- 66 Por ser urbana a via referida, a velocidade máxima nela permitida é de 60 km/h.
- 67 Na situação considerada, ao trafegar a 95 km/h, Jorge cometeu uma infração de trânsito gravíssima.
- 68 Embora alguns motoristas acreditem que, quando se comete mais de uma infração, só se é multado por uma delas — a de maior gravidade ou uma entre duas ou mais de mesma gravidade —, Jorge deverá ser multado pelo cometimento de duas infrações: uma relativa a excesso de velocidade e outra por não fazer uso do cinto de segurança.
- 69 Poderá ser imposta a penalidade de advertência por escrito às infrações cometidas por Jorge — desde que não se trate de reincidência, nas mesmas infrações, nos últimos doze meses —, se a autoridade de trânsito, considerando o prontuário de Jorge, entender que essa providência poderá ser mais educativa.

Considerando as disposições do CTB, julgue os itens que se seguem.

- 70 Os pedestres que estiverem atravessando a via sobre as faixas delimitadas para esse fim terão prioridade de passagem, exceto nos locais com sinalização semaforica. Nesses locais, caso o sinal abra para o tráfego de veículos e pedestres estejam atravessando, estes deverão acelerar o passo pois, caso sejam atropelados, além do risco de lesões corporais, poderão ser punidos como responsáveis pelo eventual acidente.
- 71 O ciclista que, desmontado e empurrando sua bicicleta, cruzar uma pista de rolamento em local onde não seja permitido fazê-lo comete infração de trânsito passível de punição com multa.
- 72 Embora proíba o trânsito de veículos sobre passeios, calçadas e nos acostamentos, o CTB prevê situações às quais essa proibição não se aplica.
- 73 Um aspecto importante do texto do atual CTB é a preocupação com o meio ambiente, a ponto de determinar a inclusão, obrigatória, na formação de condutores, de curso que contemple conceitos básicos de proteção ao meio ambiente relacionados com o trânsito. Pode-se considerar correlato a essa preocupação o enquadramento, como infração, da condução de veículo com descarga livre ou silenciador de motor de explosão defeituoso, deficiente ou inoperante.

- 74 Constitui falta leve a desobediência à regulamentação contida na placa de sinalização vertical representada na figura ao lado. 
- 75 Neste concurso, para a especialidade motorista, exige-se, no mínimo, habilitação na categoria D. Nesse sentido, é correto afirmar que todos os que estiverem aptos a atender essa exigência poderão conduzir veículos correspondentes às habilitações abaixo dessa, ou seja, as categorias de A a C.
- 76 Além de tipificar diversos crimes de trânsito, elencados no capítulo Dos Crimes de Trânsito, o CTB avançou nesse aspecto, ao fixar penas e descrever situações que, configuradas, constituem agravantes para esses crimes.
- 77 De acordo com o CTB, as penalidades de suspensão do direito de dirigir e de cassação do documento de habilitação serão feitas mediante decisão fundamentada da autoridade de trânsito competente, em processo administrativo no qual seja assegurado ao infrator amplo direito de defesa.



Na figura I acima, em que a linha pontilhada horizontal corresponde a uma linha imaginária, estão representadas faixas de circulação de uma via — identificadas por letras — sobre as quais são mostradas marcas de sinalização horizontal — identificadas por números. Nas demais figuras, são mostradas placas de sinalização vertical. Considerando essas figuras e o que dispõe o CTB, julgue os itens que se seguem.

- 78 Desconsiderando-se o fato de que as placas de sinalização vertical V, III e VI são de regulamentação — o desrespeito a elas constitui infração —, é correto afirmar que as mensagens nelas contidas correspondem, respectivamente, às contidas nas sinalizações horizontais ①, ② e ③.
- 79 Caso um condutor, trafegando sobre uma das faixas de circulação B, C ou D, estivesse com seu veículo sobre a linha imaginária mostrada na figura I e toda a sinalização horizontal fosse de cumprimento obrigatório, ele não poderia conduzir seu veículo para uma das faixas de circulação A ou E.
- 80 A mensagem contida na sinalização vertical correspondente à figura II é a mesma contida na sinalização horizontal indicada pelo número ⑤.
- 81 Embora um condutor que esteja com seu veículo sobre a linha imaginária da figura I, na faixa de circulação C, possa ver as faixas de rolamento A e E, o conjunto formado por essas três faixas não corresponde à situação que é mostrada na sinalização vertical contida na figura IX.
- 82 Na situação mostrada na figura I, seria correto, nos locais apropriados, sinalizar as faixas de circulação A e E com as placas de sinalização vertical mostradas nas figuras IV e VII, respectivamente.
- 83 Para condutores que trafeguem pela faixa de circulação B, seria correto, em algum ponto antes do trecho mostrado na figura I, que eles encontrassem a placa de sinalização mostrada na figura VIII, para informar-lhes da existência da faixa de circulação A, à esquerda.

Tendo em vista conceitos e recomendações relacionados a direção defensiva, julgue os itens seguintes.

- 84** Ao se dirigir à noite, não se deve *revidar* a luz alta de um veículo em sentido contrário. Deve-se, apenas, piscar rapidamente os próprios faróis para advertir o outro condutor. Caso ele persista com a luz alta, deve-se evitá-la, voltando o olhar para o acostamento do lado esquerdo, durante o cruzamento, para evitar o ofuscamento da visão.
- 85** Sob chuva forte, neblina ou cerração, além de diminuir a velocidade, é recomendado que o condutor mantenha o pisca-alerta do seu veículo ligado, como forma de tornar-se mais visível para condutores à sua retaguarda e de chamar-lhes a atenção para as condições climáticas adversas.
- 86** As posições do banco do próprio condutor e dos espelhos retrovisores interno e lateral esquerdo devem ser definidas com o veículo em movimento. Com isso, garante-se que o ajuste corresponda às condições reais de uso, evitando erros de posicionamento que podem ser provocados quando do ajuste com o veículo estacionado em área com inclinação, seja ela positiva ou negativa.

Com referência a primeiros socorros, julgue os itens que se seguem.

- 87** Na figura ao lado, tem-se um exemplo do dispositivo conhecido como tipóia, muito usado por equipes de primeiros socorros para imobilizar a coluna cervical (pescoço) e evitar lesões irremediáveis à medula espinhal de vítimas de acidentes.




- 88** Caso não se disponha de todos os recursos para o socorro a uma vítima de ferimento na cabeça, pode-se improvisar um curativo como o mostrado na figura ao lado. Nesse caso, deve-se cobrir a área lesionada com compressa feita de material limpo, evitando-se que o ferimento seja pressionado.

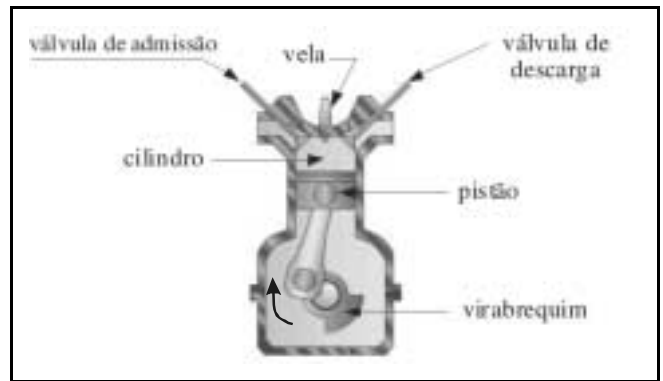


- 89** Tão logo uma vítima de desmaio comece a recobrar os sentidos, deve-se estimulá-la a caminhar lentamente. Com essa providência, o socorrista consegue diminuir a quase zero a possibilidade de que a vítima desmaie novamente.

- 90** Na figura ao lado, é mostrado um torniquete, dispositivo que normalmente é aplicado em membros tanto superiores quanto inferiores, em quadros de hemorragia advindos de grandes lesões em que outros meios não sejam suficientes para estancar ou controlar o sangramento.



- 91** Tão logo tenha recebido os primeiros socorros, toda vítima de acidente de trânsito que apresentar sangramento provocado pelo acidente deverá ser conduzida a um hospital, para receber atendimento especializado.



Com referência à figura acima e aos motores de combustão interna que equipam a grande maioria dos veículos automotores, julgue os itens seguintes.

- 92** Em um motor a gasolina, os pistões sobem e descem, executando fases bem características, denominadas tempos. No cilindro de um motor de quatro tempos esquematizado na figura acima, está ocorrendo a fase de compressão.
- 93** Nos motores a *diesel*, a ignição ocorre por processo de auto-ignição do combustível, injetado diretamente na câmara de combustão, ao final da fase de compressão adiabática, quando a temperatura na câmara de combustão é suficientemente alta para queimar o combustível sem necessidade de centelha elétrica. Para que isso ocorra, os motores a *diesel* devem ter taxa de compressão elevada, da ordem de 15 a 20.
- 94** Em um motor a *diesel*, a quantidade de combustível a ser injetado na câmara de combustão e o momento certo da injeção são controlados pela bomba injetora.
- 95** Os anéis de segmentos, montados em ranhuras existentes na parte superior dos pistões, são divididos em dois conjuntos: o inferior, composto por anéis de compressão, que têm como função vedar a câmara de combustão, e o superior, composto por anéis raspadores de óleo, desenhados para espalhar o óleo nas paredes do cilindro durante o movimento alternado do pistão.
- 96** Nos motores com ignição eletrônica, o centelhamento é controlado por meio de um interruptor rotativo denominado distribuidor, de modo que, em função da velocidade de rotação do motor, a centelha ocorre sempre no instante que permite tornar a combustão mais eficiente.
- 97** Os turbocompressores são equipamentos acoplados aos motores de combustão interna para aumentar a potência máxima que pode ser obtida. O aumento da potência decorre da maior quantidade de ar — e também de combustível, em consequência — admitida no cilindro.

Requisitos legais cada vez mais rigorosos na emissão de poluentes bem como o aumento do preço da gasolina e do óleo *diesel* têm levado ao uso de outros combustíveis nos motores de combustão interna. Acerca desse assunto, julgue os itens a seguir.

- 98** O álcool anidro pode ser usado diretamente como combustível em motores do ciclo Otto, enquanto o álcool hidratado destina-se à mistura com a gasolina em percentuais de até 25%, para melhorar o poder antidetonante da mesma.

99 *Backfire* ou contra-explosão é a denominação que se dá ao fenômeno de retorno de chama para o tubo de admissão em motores movidos por gás natural veicular (GNV). Esse fenômeno decorre do cruzamento das válvulas de admissão e descarga (ficam abertas simultaneamente), permitindo a inflamação do gás no tubo de admissão. Esse problema pode ser evitado com o uso do variador de avanço, que promove o adiantamento do ponto de ignição, garantindo a queima completa do combustível antes da abertura da válvula de descarga.

100 A utilização de GNV permite o uso de taxas de compressão elevadas, o que melhora a eficiência do motor (menor emissão de poluentes) e aumenta a potência, ou seja, permite que, a uma mesma cilindrada, um motor movido a GNV seja mais potente que um motor a gasolina.

101 O óleo *diesel* aditivado difere do óleo *diesel* comum pela presença de aditivos detergentes/dispersantes, antiespumantes, anticorrosivos e desemulsificantes, que têm as funções de manter o motor limpo, evitar a formação de espuma durante o abastecimento, evitar a formação de ferrugem e ajudar na separação de água do óleo *diesel*. Entretanto, o uso de óleo *diesel* aditivado requer alterações no motor e na bomba injetora.

Os óleos lubrificantes automotivos são comercialmente designados na forma SAE xxW ou SAE yy, seguindo uma classificação estabelecida pela SAE (*Society of Automotive Engineers*), que se baseia na viscosidade dos óleos em condições de altas e baixas temperaturas. Essa classificação é apresentada em duas escalas: uma de baixa temperatura (de SAE 0W até SAE 25W) e outra de alta temperatura (de SAE 20 a SAE 60). A respeito desse assunto, julgue os itens que se seguem.

102 A letra W na designação significa *winter* (inverno, em inglês) e designa óleos com fluidez a baixa temperatura. Quanto menor o número que antecede a letra W, maior a viscosidade.

103 Os óleos de graus múltiplos combinam as características de altas e baixas temperaturas. Assim, um óleo multigrav SAE 20W-40 comporta-se, a baixa temperatura, como um óleo 20W, reduzindo o desgaste na partida do motor ainda frio e, em alta temperatura, como um óleo SAE 40.

Além do motor, um veículo automotivo possui vários outros sistemas com funções específicas. Com referência a esse assunto julgue os itens seguintes.

104 O sistema de transmissão é formado por um conjunto de órgãos que transmite a potência do motor às rodas motrizes. Na sua forma mais simples, compreende: embreagem, caixa de mudança de velocidade, árvores de transmissão e diferencial. A embreagem é o mecanismo que possibilita ao motorista conectar ou desconectar, à sua vontade, o motor do restante do sistema de transmissão.

105 O sistema de freios destina-se a reduzir a velocidade, parar ou manter veículos parados. Nesse sistema, o servofreio é um dispositivo cheio de fluido hidráulico, conectado aos cilindros das rodas por meio de um circuito hidráulico. Ao se acionar o pedal do freio, o fluido é comprimido e a pressão é transmitida aos cilindros das rodas, gerando o esforço necessário para pressionar as sapatas contra os tambores de freio ou as pastilhas contra os discos.

106 A estrutura básica sobre a qual são montados todos os sistemas de um veículo automotor, como carroceria, motor, suspensão e rodas é denominada chassi. Denomina-se monobloco o tipo de estrutura, utilizada em praticamente todos os automóveis modernos, em que chassi e carroceria formam uma única peça.

107 Para atender aos requisitos legais que determinam limites restritos para a emissão de poluentes, existe nos automóveis mais modernos um dispositivo instalado na primeira parte do sistema de exaustão do veículo (escapamento), denominado conversor catalítico, que contém um catalisador para converter as substâncias poluentes contidas nos gases de escapamento em substâncias não-poluentes do ar.

Com referência ao sistema elétrico de veículos automotores, julgue os itens subseqüentes.

108 Os veículos automotores modernos usam alternadores em vez dos dínamos de antigamente para gerar energia elétrica. Por essa razão, o sistema elétrico dos automóveis modernos funciona com corrente alternada.




109 O sistema elétrico é composto por dispositivos destinados à ignição, iluminação, sinalização, partida do motor e fornecimento de corrente elétrica a aparelhos elétricos instalados no veículo. São fundamentais nesse sistema a bateria e o alternador. A função da bateria é gerar corrente alternada para acionar o motor de partida e o sistema de ignição.

110 No sistema de ignição dos veículos, a bobina é o dispositivo responsável pela produção de alta tensão, necessária para gerar uma faísca nas velas e iniciar a queima da mistura ar/combustível. Na ignição eletrônica, a bobina é substituída por um circuito transistorizado que, além de possibilitar melhor controle do motor, fornece voltagens mais elevadas às velas.

111 O regulador de tensão é um dispositivo eletromecânico ou eletrônico cuja finalidade é controlar o funcionamento do alternador, mantendo a tensão nominal, geralmente de 12 V, de modo a proteger a bateria e o sistema elétrico, e evitando que picos de tensão possam danificar os componentes elétricos do veículo.

Com relação a aspectos geográficos do Brasil, julgue os itens a seguir.

- 112** O solo do estado do Amapá é igualmente dividido em áreas de alta concentração de lavouras temporárias e áreas de alta concentração de lavouras permanentes. Nestas, predominam as culturas de cereais.
- 113** O Brasil está longe do que se pode chamar de universalização do acesso à informação. Nesse sentido, entre os estados da Federação, há uma distribuição heterogênea de bens como televisões, linhas telefônicas instaladas e microcomputadores.
- 114** Em 2003, além de ter alcançado a cifra de mais de 6 bilhões de dólares com as exportações de soja e produtos dela derivados, o Brasil comemorou o que foi chamado de auto-suficiência na produção de grãos, tendo saído da condição de importador de produtos como arroz, trigo e milho.
- 115** Ao se traçar uma linha imaginária paralela ao equador que, passando sobre o Distrito Federal, divida o território brasileiro em duas partes, verifica-se, entre as duas macrorregiões assim obtidas, uma assimetria no desenvolvimento econômico, à qual se associa uma assimetria na distribuição tanto de linhas de distribuição de energia elétrica quanto de redes de transporte.

Amapá 09:00 h manhã	
Mato Grosso 08:00 h manhã	
Distrito Federal 09:00 h manhã	

Internet: <<http://www.worldtimeserver.com>> (com adaptações).

Considerando a figura acima, julgue os itens a seguir.

- 116** Os horários apresentados simultaneamente para o Amapá e o Mato Grosso, serão corretos para o dia 20 de julho de 2004.
- 117** Os horários apresentados, simultaneamente para o Amapá e o Distrito Federal, foram registrados corretamente no dia 20 de janeiro de 2004.
- 118** Em uma viagem rodoviária pelo estado de Goiás no mês de julho, o motorista deve estar atento às freqüentes chuvas nesse período do ano.
- 119** O estado do Amapá, por estar localizado na região Norte, não deve sofrer a influência dos ventos alíseos de nordeste.
- 120** Em uma possível viagem rodoviária do Amapá para Brasília, o veículo estaria progressivamente passando por latitudes cada vez maiores.
- 121** A rodovia Belém-Brasília caracteriza-se como uma rodovia longitudinal.
- 122** A região Amazônica apresenta temperaturas médias elevadas, mas com grande amplitude térmica anual, ou seja, grandes diferenças entre as temperaturas máximas e mínimas de cada dia.
- 123** Ao sair de Macapá para Porto Grande (localizado setentrionalmente, em relação a Macapá), os viajantes estarão se afastando da linha do Equador e percorrendo latitudes do hemisfério sul.
- 124** Em uma viagem ao extremo oeste da Amazônia, cuja principal rodovia da região é a Transamazônica, encontra-se uma vegetação predominante de floresta tropical úmida.
- 125** No planejamento de uma viagem terrestre de Macapá para Brasília, o roteiro deve incluir pelo menos um traslado hidroviário.



UNIVERSIDADE DE BRASÍLIA

Criando Oportunidades para Realizar Sonhos



Universidade de Brasília (UnB)