

- De acordo com o comando a que cada um dos itens de **1 a 150** se refira, marque, na **folha de respostas**, para cada item: o campo designado com o código **C**, caso julgue o item **CERTO**; o campo designado com o código **E**, caso julgue o item **ERRADO**; ou o campo designado com o código **SR**, caso desconheça a resposta correta. Marque, obrigatoriamente, para cada item, um, e somente um, dos três campos da **folha de respostas**, sob pena de arcar com os prejuízos decorrentes de marcações indevidas. A marcação do campo designado com o código **SR** não implicará apenação. Para as devidas marcações, use a folha de rascunho e, posteriormente, a **folha de respostas**, que é o único documento válido para a correção das suas provas.
- Nos itens que avaliam **Noções de Informática**, a menos que seja explicitamente informado o contrário, considere que todos os programas mencionados estão em configuração-padrão, em português, que o *mouse* está configurado para pessoas destros e que expressões como clicar e clique referem-se a cliques com o botão esquerdo do *mouse*. Considere também que não há restrições de proteção e de uso em relação aos programas, arquivos, diretórios e equipamentos mencionados.

## CONHECIMENTOS BÁSICOS

1 A proposta de classificar, com base na fauna, as águas de rios, córregos e lagos segue o seguinte princípio: uma grande diversidade de animais indica que o ambiente está saudável; existência de poucas espécies revela que algo está faltando ou em excesso. O nome desse método é “biomonitoramento biológico”.

7 Por lei, as águas doces no Brasil devem ser analisadas apenas quanto às suas variáveis físico-químicas e bacteriológicas. Essa metodologia consiste na coleta de amostras, posteriormente analisadas em laboratório. Apesar de amplamente utilizado, esse sistema apresenta desvantagens, principalmente quando se trata da análise da água de rios. Os cursos de água são ecossistemas dinâmicos. O rio que olhamos nunca é o mesmo, pois a cada momento a água se renova. Caso uma indústria lance uma grande concentração de poluentes na parte alta do rio, por exemplo, a coleta de uma amostra na parte baixa não será capaz de detectar o impacto, mesmo que esta seja feita apenas um minuto antes de a onda tóxica atingir o local. Esse tipo de controle, portanto, pode ser comparado à *fotografia* de um rio.

Ciência Hoje, set./2002, p. 49 (com adaptações).

Julgue os itens a seguir com relação às idéias do texto acima e à correção gramatical.

- 1 Segundo o texto, ‘biomonitoramento biológico’ (l.6) trata-se de um método de classificação das águas de rios, córregos e lagos com base na fauna.
- 2 O princípio de que trata a proposta de classificação citada no primeiro parágrafo do texto estabelece que a qualidade da água está diretamente relacionada à grande quantidade de animais ali existentes.
- 3 O emprego da palavra “apenas” (l.8) implica a existência de outras variáveis que poderiam ser consideradas.
- 4 No trecho “Apesar de amplamente utilizado” (l.11), está implícita a forma verbal **estando**.
- 5 A frase “Os cursos de água são ecossistemas dinâmicos.” (l.13) reproduzirá a linha de raciocínio do texto, se, trocado o ponto por vírgula, o trecho sofrer o seguinte acréscimo: **portanto, o biomonitoramento biológico é um método que traz vantagens, haja visto que a cada momento a água se renova**.
- 6 Na linha 15, a substituição de “Caso” por **Se** mantém as idéias da frase e a correção gramatical.
- 7 O vocábulo “feita” (l.18) refere-se a “coleta” (l.17), o que determina a concordância entre esses dois termos em gênero e número.
- 8 No trecho “antes de a onda tóxica atingir o local” (l.19), a substituição da parte grifada por **da** resulta em um sujeito preposicionado.

1 A Química está muito presente em nossas vidas: nas roupas, nos alimentos, nos medicamentos, nos combustíveis de carros e aviões, em inúmeros materiais sintéticos e em diversos outros produtos.

7 O impacto da Química sobre o meio ambiente é enorme, em função dos rejeitos dos processos industriais, que muitas vezes trazem sérios e irreversíveis prejuízos ao homem e à natureza. A questão ambiental, que abrange os problemas gerados pelo setor químico, vem sendo intensamente debatida no mundo nos últimos vinte anos. São fatos marcantes desse período a conscientização da sociedade quanto às agressões à natureza e sua participação em iniciativas que visam reduzir o processo, como a reciclagem (de papel, vidro, alumínio etc.), além de programas como Produção Limpa (da Organização das Nações Unidas) e Atuação Responsável (da Associação Brasileira da Indústria Química), e da atitude de muitos setores produtivos no sentido de reduzir a liberação de substâncias poluentes no ambiente.

Ciência Hoje, ago./2002, p. 21 (com adaptações).

Quanto às relações morfossintáticas, semânticas e discursivas do texto acima, julgue os itens seguintes.

- 9 O primeiro parágrafo do texto é constituído por um período simples, ou seja, é uma oração absoluta.
- 10 Na linha 6, a vírgula que separa a oração adjetiva pode ser retirada sem prejuízo para a correção gramatical da frase, mas provoca alteração de sentido.
- 11 Na linha 10, a forma verbal “São” concorda com o predicativo, e não com o sujeito da oração “a conscientização da sociedade” (l.11).
- 12 Os sinais indicativos de crase usados em “quanto às agressões à natureza” (l.11-12) constituem uma sofisticação da escrita, sem valor gramatical que os sustente.
- 13 Na linha 12, o pronome substantivo “que” refere-se a “iniciativas”, termo que lhe dá sentido e que esse pronome substitui na oração adjetiva.
- 14 Os dois parênteses usados logo após “reciclagem” (l.13-14) podem ser retirados sem prejuízo para a correção e o sentido do trecho.
- 15 Mantém-se a correção gramatical e o sentido do texto se o trecho “além de (...) ambiente” (l.14-18) for reescrito como se segue: **além de programas como o da Organização das Nações Unidas (Produção Limpa) e o da Associação Brasileira da Indústria Química (Atuação Responsável), e da atitude de muitos setores produtivos no sentido de reduzir a liberação no ambiente de substâncias poluentes**.

As chuvas de verão ameaçaram derruir Ouro Preto  
Ouro Preto, a avozinha, vacila,  
Meus amigos, meus inimigos, Salvemos Ouro Preto

Manuel Bandeira.

Desde 1948, quando o poeta Manuel Bandeira publicou os versos acima, periodicamente alguém volta a entoar algo parecido. O último alerta sobre a deterioração de Ouro Preto, porém, não chegou em poema, mas em um relatório da Organização das Nações Unidas para Educação, Ciência e Cultura (UNESCO). A cidade mineira, Patrimônio Cultural da Humanidade desde 1980, pode agora entrar na lista de sítios históricos em risco. O documento alerta para a ocupação irregular de morros, obras mal fiscalizadas, trânsito pesado e descaracterização do conjunto arquitetônico.

Galileu, jun./2003, p. 60 (com adaptações).

Julgue os itens que se seguem, referentes aos textos acima.

- 16 Para Manuel Bandeira, a preservação da cidade deveria estar acima de divergências pessoais, como demonstram o terceiro verso e os dois vocativos nele contidos.
- 17 Além das ameaças que pairam sobre a cidade, apontadas pela UNESCO, Manuel Bandeira apresenta mais uma: os estragos causados pelas águas pluviais.
- 18 No terceiro verso, o verbo no imperativo está flexionado para se dirigir à primeira pessoa do plural, **nós**. Para que se mude o tratamento para a segunda pessoa do plural, **vós**, a forma verbal tem de ser **Salveis**.
- 19 A troca de “pode agora entrar” (l.7) por **entra** manteria a correção gramatical, mas o sentido da frase seria modificado.
- 20 Infere-se do texto que o trânsito pesado é uma ameaça a Ouro Preto porque os caminhões trazem materiais modernos, que descaracterizariam essa cidade histórica.

Com referência à correção gramatical, julgue os fragmentos de texto contidos nos itens subsequentes.

- 21 A Química tem hoje uma grande presença em nossas vidas, porquanto é responsável por inúmeros produtos importantes para a humanidade.
- 22 As atividades ligadas a química muitas vezes trazem graves prejuízos a natureza e ao próprio homem.
- 23 Em todo o mundo, cerca de 1,2 bilhão de pessoas não tem acesso à água potável, e 2,4 bilhões sofre com a falta de saneamento básico, segundo a ONU.
- 24 A população ribeirinha, por sua vez, devido à precariedade dos serviços de saneamento básico, lançam seu lixo no rio, contribuindo para aumentar a poluição.
- 25 Nos últimos anos uma nova filosofia para a Química vem tomando grande força: a chamada “química verde” (química sustentável), que tem como alguns de seus princípios não só evitar ao máximo a geração de rejeitos, e utilizar processos mais seguros para o meio ambiente.

Itens adaptados. *Ciência Hoje*, ago./2002, p. 21-7.

O mundo sofreu um retrocesso sem precedentes no desenvolvimento humano durante os anos 90, segundo a ONU. “O que mais chama a atenção é a extensão da estagnação e dos reveses, que não haviam sido vistos nas décadas anteriores”, diz a entidade. Nessa década, o índice de desenvolvimento humano (IDH) caiu em 21 dos 175 países analisados — nos anos 80, isso ocorreu em quatro. A renda *per capita* ficou menor em 54, e a expectativa de vida, em 34. Cresceu a mortalidade infantil (em 14 países) e o número de pessoas passando fome (em 21). A ONU atribui a piora na qualidade de vida ao baixo crescimento econômico e à epidemia de Aids. Mas a entidade vê avanços na China, que tirou 150 milhões da pobreza. O Brasil subiu quatro posições no IDH da ONU, chegando à 65.<sup>a</sup> posição entre 175 países, mas estando atrás de alguns países da América do Sul, como Argentina (34.<sup>o</sup> do *ranking*), Uruguai (40.<sup>o</sup>), Chile (43.<sup>o</sup>) e Colômbia (64.<sup>o</sup>). Segundo o relatório, que se refere a 2001, o pequeno crescimento da renda limita o avanço do país.

Folha de S. Paulo, 8/7/2003, capa (com adaptações).

Tendo o texto acima por referência inicial e considerando a amplitude do tema por ele focalizado, julgue os itens seguintes.

- 26 Um relatório como o citado no texto, que mede o nível de desenvolvimento humano no mundo, evidencia a importância do trabalho da ONU, que, muitas vezes tolhida pelas circunstâncias políticas e pelas injunções, por exemplo, da segurança mundial, consegue obter resultados positivos nas áreas social, econômica e cultural, entre outras.
- 27 O índice de desenvolvimento humano traduz uma concepção de desenvolvimento mais abrangente que a baseada exclusivamente no critério econômico e, justamente por isso, leva na devida consideração a educação, a longevidade e a renda das populações pesquisadas.
- 28 Em que pese a denominação de década perdida, dada pelos economistas aos anos 80 do século passado, vê-se que, na perspectiva do desenvolvimento humano, tal como exposto no texto, esse período logrou obter resultados melhores do que os apresentados pela década seguinte.
- 29 Infere-se do relatório produzido pela ONU, a partir das informações contidas no texto, que os anos 90, embora não tenham conhecido derrotas expressivas no tocante a desenvolvimento humano, sofreram os efeitos de uma estagnação extensa e profunda.
- 30 Sabe-se que os efeitos mais dramáticos causados pela epidemia de Aids, relativamente ao número de infectados e de mortes, ocorrem no continente africano, embora não tenham contribuído para piorar os índices econômicos já precários da maioria dos países africanos.
- 31 O exemplo chinês, identificado como positivo pelo relatório da ONU devido a retirada da pobreza de um número expressivo de pessoas, remete à experiência de modernização e de abertura econômica em curso na China desde os anos 80 do século passado.
- 32 Embora se recusando a integrar a Organização Mundial do Comércio (OMC) e sendo sistematicamente acusada de práticas protecionistas e impróprias ao atual estágio do comércio mundializado, a China tem ampliado sua participação na economia global dos dias de hoje.
- 33 Ao contrário da União Soviética, que se desintegrou ao não conseguir levar a bom termo sua reestruturação econômica (*Perestroika*) e a transparência política (*Glasnost*), a China vem mantendo, na atualidade, o difícil equilíbrio entre a abertura econômica e a rígida estrutura política.

- 34 A discreta melhoria do Brasil no *ranking* do IDH da ONU pode ser debitada, em larga medida, aos avanços feitos pelo país no que concerne ao acesso à educação — especialmente ao ensino fundamental — e à expectativa de vida da população.
- 35 A posição obtida pela Colômbia entre os países pesquisados para a aferição do IDH foi um pouco melhor que a do Brasil, o que se explica pelo fim da guerra civil e pelo desmantelamento da poderosa rede local de narcotraficantes. Esses fatos permitiram ao governo central colombiano dominar a totalidade do território nacional e implementar políticas públicas mais consistentes.
- 36 Os dados relativos ao Brasil registrados no texto permitem concluir que, sob o ponto de vista do desenvolvimento humano, os primeiros seis meses do governo Luiz Inácio Lula da Silva foram insuficientes para superar históricas dificuldades sociais acumuladas pelo país.
- 37 Entre os aspectos positivos apresentados pelo Brasil nos problemáticos anos 90, destacam-se, entre outros, a redução da mortalidade infantil — envolvendo a ação do Estado e da sociedade civil, a exemplo da Pastoral da Terra — e a produção de medicamentos mais acessíveis à população, os genéricos.

Se os Estados Unidos da América (EUA) estão um passo atrás com relação ao combate ao aquecimento global, o Brasil está um passo à frente. Muito antes de o País ratificar o protocolo de Kyoto, em julho de 2002, o empresariado brasileiro vem se preparando para tirar proveito do mercado de créditos de carbono, previsto pelo Mecanismo de Desenvolvimento Limpo (MDL). São dezenas de projetos, que variam de reflorestamentos à substituição de combustíveis e melhor aproveitamento de energia. O primeiro acordo desse tipo no Brasil foi fechado entre o Fundo Protótipo de Carbono do Banco Mundial e a siderúrgica mineira Plantar, que está substituindo o carvão mineral por vegetal.

O Estado de S. Paulo, 8/9/2002, p. A15 (com adaptações).

Tomando o texto acima por referência inicial e considerando os aspectos relativos ao meio ambiente e ao desenvolvimento sustentável, julgue os itens que se seguem.

- 38 As últimas décadas do século passado foram protagonistas de um movimento que, em escala planetária, expandiu e fortaleceu a tese de um mundo em perigo em face de um modelo de desenvolvimento predatório, o qual precisava ser reorientado, sob pena de inviabilizar a própria vida.
- 39 O movimento ambientalista mundial foi — e, em larga proporção continua sendo — impulsionado por entidades governamentais, em especial nos países economicamente menos desenvolvidos, sendo diminuta a participação de organismos não-oficiais nesse tipo de militância.
- 40 Controlada a emissão de gases poluentes na atmosfera, principal causa do chamado aquecimento global, as atenções dos ambientalistas, desde a assinatura do protocolo de Kyoto, voltam-se para o igualmente perigoso problema das agudas variações climáticas, responsáveis por gigantescas perdas agrícolas.
- 41 Quando o texto afirma estarem os EUA “um passo atrás com relação ao combate ao aquecimento global”, provavelmente se refira ao fato de que o governo de Washington foi um dos últimos a ratificar o protocolo de Kyoto, retardando ao máximo seu compromisso em reduzir a emissão de poluentes.
- 42 Tendo sido sede da ECO-92, o Brasil é um dos países que mais tem-se esforçado em propor medidas que, na prática, contribuam para a substituição de fontes fósseis — petróleo, carvão mineral e gás natural — por formas renováveis de energia, além de participar do comércio de certificados de emissão, como citado no texto.
- 43 O conceito de desenvolvimento sustentável implica, entre outros aspectos, a gradativa redução das atividades industriais — sobretudo nos países plenamente desenvolvidos — e o retorno à agricultura orgânica, como única forma de preservar a natureza e, por extensão, a vida no planeta.

Nem só de combate à tortura em delegacias e cadeias se ocupam os defensores dos direitos humanos. O relatório brasileiro sobre direitos humanos econômicos, sociais e culturais, de 2003, é uma tentativa de abrir o leque. Ele prioriza temas como meio ambiente, saúde, moradia, educação, trabalho e alimentação, água e terra rural. Trata-se de uma compilação de dados produzidos pelo governo federal e por instituições de pesquisa independentes. O material foi apresentado à comissão de direitos humanos da ONU. Para os relatores, “o documento vai servir para cobrar compromissos que o país assumiu com as organizações internacionais”.

Correio Braziliense, 4/7/2003, p. 14 (com adaptações).


Considerando o texto acima e o tema que ele aborda, em suas múltiplas vertentes, julgue os itens subsequentes.


- 44 Uma primeira crítica que se pode fazer ao relatório diz respeito a sua parcialidade, justamente por prescindir — talvez por desconfiança — de informações oficiais para sua elaboração.
- 45 Infere-se do texto que o relatório amplia o conceito de violação à cidadania, ao estabelecer que fome, desemprego e falta de moradia, de saúde, de educação e de água são formas de desrespeitar o indivíduo.
- 46 Superada a fase dos regimes autoritários, no Brasil e na América Latina, a tortura a presos deixa de ser problema grave e rotineiro, razão pela qual não foi tratada no relatório de que fala o texto.
- 47 No caso brasileiro, sabe-se que o acesso ao ensino fundamental está praticamente universalizado e que a qualidade dos serviços educacionais acompanhou esse crescimento quantitativo.
- 48 Com o nível da atividade econômica do país estagnado ou decrescente, com índices bem inferiores aos de muitos países no mesmo estágio de desenvolvimento, as atuais taxas de desemprego no Brasil tendem a se elevar.
- 49 Esforços conjuntos do poder público e de organizações não-governamentais, na esteira de forte pressão internacional, levaram o Brasil a uma vitória expressiva: a erradicação do trabalho infantil e a quase abolição total do trabalho escravo.
- 50 Direitos humanos como elementos indissociáveis da plena cidadania são conquistas da civilização contemporânea, sacramentadas pela comunidade internacional por meio da ONU, embora não sejam poucas as situações em que, na prática, esses direitos sejam rotineiramente violados.

Considerando que a janela ilustrada ao lado está sendo executada em um computador cujo sistema operacional é o Windows 98, julgue os itens a seguir.



51 O computador no qual a janela mostrada está sendo executada tem capacidade disponível em *winchester* para armazenar as informações contidas em pelo menos quatro unidades de *compact disc*.












52 Com base na figura ao lado, é correto concluir que o computador em questão dispõe de um gravador de *compact disc* regravável – CD-RW.

53 Ao aplicar um clique duplo sobre o ícone , será executada a janela Painel de controle, com a qual é possível acessar recursos do Windows 98 para o ajuste das propriedades do teclado conectado ao computador.

54 Para visualizar todos os ícones disponíveis na área de trabalho do Windows 98, é suficiente clicar o botão  e, em seguida, utilizar os recursos das barras de rolagens da janela Área de trabalho, caso seja necessário.

55 Caso se deseje formatar um disquete existente no *drive A*., é suficiente realizar a seguinte seqüência de ações: aplicar um clique

simples sobre o ícone ; com o botão direito do *mouse*, clicar ; no *menu* que aparece em decorrência dessa ação, clicar a opção *Formatar*.


56 O seguinte procedimento permite copiar todo o conteúdo de um disquete que esteja inserido no *drive A*: para o disco associado ao ícone : aplicar um clique duplo sobre o ícone ; na janela que será executada, clicar ; nesse *menu*, clicar a opção *Selecionar tudo*; pressionar e manter pressionada a tecla ; teclar ; liberar a tecla ; clicar ; aplicar um clique duplo sobre o ícone ; pressionar e manter pressionada a tecla ; teclar ; liberar a tecla .




Considerando que a janela ilustrada ao lado, referente ao Internet Explorer 5, está sendo executada em um computador cujo sistema operacional é o Windows 98 e que dispõe, para o acesso à Internet, de uma conexão ADSL, julgue os itens subsequentes.

57 Devido à conexão ADSL, o computador tem capacidade de acessar a Internet a taxas entre 10 Mbps e 100 Mbps, caso esteja corretamente configurado e possua instalado *modem* com desempenho adequado.

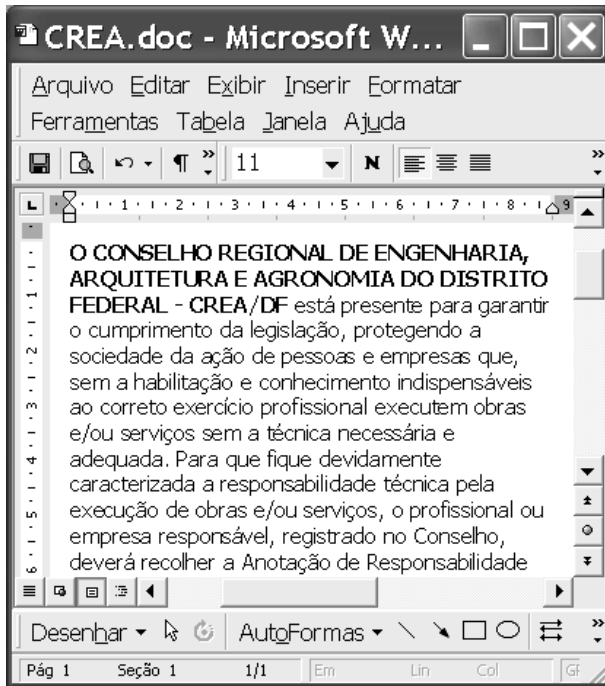
58 Sabendo que a imagem contida na janela mostrada ao lado pode ser obtida por *download* no formato JPEG, é possível editar tal imagem no computador usando o aplicativo do Windows 98 denominado Paint, e ainda poderá ser inserida em um documento do tipo Word 2000 e, até mesmo, do tipo Excel 2000.

59 O código fonte correspondente à página mostrada na janela poderá ser editado com o uso do aplicativo Microsoft FrontPage, que pode ser acessado por meio do botão , caso o Internet Explorer 5 esteja adequadamente configurado para isto.

60 Com base na janela ilustrada na figura, é correto concluir que, caso se deseje acessar a página <http://www.geocities.com>, é suficiente clicar o botão .

61 É possível, por meio da janela mostrada, acessar recursos de *e-mail* como, por exemplo, o envio de uma mensagem de correio eletrônico utilizando-se o Microsoft Outlook Express.





A figura acima mostra uma janela do aplicativo Word 2000 com parte de um texto extraído do *site* <http://www.creadf.org.br>. Considerando essa figura, julgue os itens subsequentes, acerca do Word 2000.

- 62 Para selecionar todo o documento em edição, é suficiente realizar as seguintes ações: no *menu* **Ferramentas**, clicar a opção **Marcadores**; na caixa de diálogo resultante, marcar **Selecionar tudo**; clicar, em seguida, **OK**.
- 63 Para alterar a fonte — de maiúscula para minúscula — das palavras mostradas no início do documento, é suficiente selecionar todo o trecho contendo essas palavras e, a seguir, clicar a opção **Todas em minúsculas**, encontrada no *menu* **Formatar**.
- 64 No *menu* **Arquivo**, encontra-se a opção **Salvar como** que pode ser utilizada para salvar o documento em edição com um nome ou localização de arquivo diferente do atual.
- 65 Por meio do *menu* **Exibir**, pode-se visualizar uma página da Internet, caso o computador esteja devidamente conectado a uma rede de acesso e seja fornecido, na caixa de diálogo correspondente, um endereço válido.
- 66 No documento em edição, para selecionar a palavra **“CONSELHO”**, é suficiente aplicar um clique duplo sobre a referida palavra.

Considere a situação em que um usuário deseja fazer o *backup* de um arquivo de 3 *Mbytes*, que está armazenado em um disco rígido de um computador. Julgue os itens seguintes, relativos aos procedimentos capazes de se fazer esse *backup*.

- 67 É correto o uso da versão mais atual do programa Winzip para armazenar o arquivo em disquetes, pois o Winzip permite compactar o arquivo e, caso o arquivo compactado não caiba em um único disquete, gravar em vários disquetes.

- 68 Caso o usuário possua o dispositivo de gravação apropriado, é correto efetuar o *backup* em um CD regravável, pois esse dispositivo tem capacidade de armazenamento bem superior a 3 *Mbytes*.
- 69 É correto realizar o *backup* na própria memória RAM do computador, pois esse tipo de memória é não-volátil, o que permite a manutenção dos dados quando o computador é desligado. Além disso, a quantidade de memória RAM tipicamente instalada em computadores é grande o suficiente para armazenar 3 *Mbytes*.
- 70 Caso o computador esteja conectado a outros computadores por meio de uma rede, o usuário poderá realizar o *backup* transferindo uma cópia do arquivo desejado do seu computador para o disco rígido de outro computador conectado à essa rede.



A figura acima mostra uma janela do Excel 2002 sendo executada em um computador com o sistema operacional Windows XP. A janela apresenta uma planilha, contendo o número de laudos técnicos efetuados por um profissional do CREA/DF em três meses de um determinado ano, em três cidades satélites do Distrito Federal. Com relação a essa figura e ao Excel 2002, julgue os itens seguintes.

- 71 Para calcular o número total de laudos técnicos realizados em Taguatinga nos três meses mostrados na planilha e colocar o resultado na célula F3, é suficiente clicar a célula F3; clicar ; teclar **Enter**.
- 72 Para alterar a cor da fonte utilizada nos conteúdos das células C2, D2 e E2, é suficiente realizar o seguinte procedimento: selecionar as células C2, D2 e E2; clicar ; na caixa de diálogo que aparece em decorrência dessa ação, selecionar a cor desejada.
- 73 Para selecionar as células B3, B4 e B5, é suficiente aplicar um clique duplo na célula B3 e, em seguida, aplicar um clique duplo na célula B5.
- 74 Para alterar a fonte utilizada no conteúdo da célula C2, é suficiente realizar o seguinte procedimento: clicar a célula C2; clicar ; na caixa de diálogo que aparece como resultado dessa ação, clicar a fonte desejada.
- 75 Para apagar o conteúdo das células C3, C4 e C5, é suficiente selecionar essas células e clicar .

## CONHECIMENTOS ESPECÍFICOS

Com referência à prescrição e à decadência, julgue os itens a seguir.

- 76** A prescrição e a decadência são prazos extintivos, sendo que o início de suas contagens se dá com o nascimento do direito.
- 77** Se, no curso do prazo prescricional, o agente se torna incapaz, ocorre a suspensão da prescrição. Ao ser retomada, a contagem do prazo continua a fluir do ponto em que se encontrava.
- 78** No caso de solidariedade passiva, prescrevendo obrigação indivisível, a renúncia feita por um dos devedores restabelece a obrigação dos demais coobrigados, pois a solidariedade da obrigação exige que cada devedor pague por inteiro, porque deve integralmente. Ademais, o devedor, devido à indivisibilidade, é obrigado pelo todo.

Quando à extinção das obrigações, julgue os itens subseqüentes.

- 79** O acordo extrajudicial firmado entre credor e devedor principal para mera prorrogação do pagamento da dívida acarreta novação e, conseqüentemente, desonera os coobrigados que nela não intervieram.
- 80** A transação, por ser negócio jurídico bilateral, não constitui ato de mera administração a autorizar o pai para transacionar em nome dos filhos menores, independentemente de autorização judicial.

Com referência aos contratos, julgue os itens que se seguem.

- 81** Firmado um contrato por prazo indeterminado, de prestação de serviços de lavanderia, no qual conste cláusula de rescisão convencional, qualquer dos contratantes poderá rescindir o contrato se pagar a multa penitencial.
- 82** O inadimplemento absoluto em contrato bilateral confere pretensão de rescisão contratual à parte prejudicada, que pode considerar unilateralmente rescindido o ajuste bilateral e proceder como se o negócio nunca houvesse existido, porque a cláusula resolutiva está implicitamente inserida em todo contrato bilateral.

Julgue os seguintes itens.

- 83** Caso uma pessoa firme contrato de locação residencial assumindo o pagamento excessivo de alugueres por estar sua família em desabrigo, esse instrumento estará eivado de nulidade absoluta por vício de consentimento, podendo o prejudicado requerer sua rescisão ou pedir que o aluguel seja fixado ao valor de mercado da época em que o negócio foi concluído.
- 84** Não pode o menor, com dezesseis anos de idade, que se tenha declarado emancipado no momento da constituição da obrigação, alegar sua incapacidade relativa quando chamado a cumprir seus deveres sob o fundamento de que o acordo lhe trouxe grandes prejuízos financeiros.
- 85** O proprietário que edifica em terreno próprio de forma regular e, por conseqüência, impede a vista do vizinho para um belo bosque, bem como o acesso à avenida principal, o que obriga o vizinho a percorrer diariamente mais de 5 km, não está obrigado a indenizar o vizinho pelos prejuízos sofridos.

Em relação à competência, às partes e ao litisconsórcio, julgue os itens a seguir.

- 86** As execuções fiscais ajuizadas pelos Conselhos Regionais de Engenharia, Arquitetura e Agronomia (CREA) são processadas perante a justiça federal, sendo tal competência estipulada pela Constituição da República, *ratione personae*.
- 87** O Conselho Federal e os Conselhos Regionais de Engenharia, Arquitetura e Agronomia não têm legitimidade *ad causam* para atuar como substitutos processuais na defesa em juízo de direito de seus filiados, pois as entidades de fiscalização do exercício profissional não são consideradas associações de categorias profissionais, estas, sim, legitimadas para representar seus associados em juízo.
- 88** O prazo de contestação, quando a citação é feita por oficial de justiça, só se inicia após a juntada aos autos do mandado de citação de todos os litisconsortes necessários; a revelia de um desses litisconsortes, decretada sem que os demais tenham sido citados, não produz efeitos e a sentença proferida nesse contexto é nula.
- 89** Não promovendo o autor, no prazo fixado, o chamamento do litisconsorte necessário para integrar a lide, haverá extinção do processo.
- 90** Excluído do feito o ente federal cuja presença levara o juiz estadual a declinar da competência, deve o juiz federal suscitar conflito negativo de competência perante o Superior Tribunal de Justiça.

Em relação à sentença, ao processo de execução e aos recursos, julgue os itens seguintes.

- 91** É nula a sentença que, extinguindo o processo por carência de ação, deixa de julgar o mérito da causa por ser *citra petita*.
- 92** É nula a sentença que, rejeitando o pedido principal, deixa de apreciar o subsidiário ou sucessivo por ser *citra petita*.
- 93** Não se admite a execução forçada por título extrajudicial em face da fazenda pública, sendo necessária a propositura prévia de ação de conhecimento.
- 94** A eventual exclusão de um dos litisconsortes motivada pelo indeferimento da pluralidade de partes configura decisão interlocutória, contra a qual cabe recurso de agravo.
- 95** A apelação é o recurso cabível da decisão que homologa a atualização do cálculo da liquidação.

Acerca da relação de emprego, julgue os itens a seguir.

- 96** A relação de emprego possui natureza institucional, equiparável ao regime jurídico que vincula a União a seus servidores, em face do propósito maior da proteção ao trabalhador, que inspira e fundamenta as normas do direito do trabalho.
- 97** Qualifica-se como relação de trabalho, e não de emprego, o vínculo que une o pequeno empreiteiro ao proprietário da obra contratada.
- 98** É suficiente para configurar uma relação de emprego a presença de qualquer uma das seguintes espécies de subordinação: técnica, econômica ou jurídica.
- 99** A relação jurídica de emprego deve ser celebrada de forma escrita, inclusive com registro em carteira de trabalho e previdência social, sob pena de nulidade e de imposição de sanção administrativa ao empregador.
- 100** O vínculo de trabalho por prazo determinado, fundado na natureza transitória da atividade empresarial explorada, há de ser celebrado pelo prazo máximo de dois anos, sob pena de ser compreendido como por prazo indeterminado.

No que se refere à figura jurídica do empregador, julgue os itens que se seguem.

- 101** É empregador a pessoa física ou jurídica que admite e assalaria trabalhadores, dirigindo-lhes os serviços. Ainda quando compartilhar com os empregados os lucros e os riscos da atividade econômica, deve o empregador observar integralmente as disposições da legislação do trabalho.
- 102** São equiparados ao empregador as instituições de beneficência que admitem trabalhadores para a prestação pessoal e subordinada de serviços, com habitualidade e onerosidade.
- 103** As empresas que formam grupo econômico de qualquer natureza são solidariamente responsáveis por seus débitos trabalhistas, devendo, entretanto, integrar a relação jurídica-processual cognitiva e figurar no pólo passivo do título executivo judicial.
- 104** Para os fins do direito do trabalho, a sucessão de empregadores se configura quando há a transferência da propriedade da empresa a terceiros, com a manutenção dos contratos de trabalho dos antigos empregados.

A respeito do exercício do poder diretivo do empregador e das causas dissolutórias das relações de emprego, julgue os itens seguintes.

- 105** No caso da imposição de suspensão ao empregado, o poder de direção do empregador está limitado ao máximo de trinta dias, gerando, quando superado esse limite, a rescisão injusta do vínculo.
- 106** A hipótese de improbidade que justifica a resolução do contrato ocorre quando o trabalhador pratica qualquer ato doloso contra o patrimônio de seu empregador.
- 107** Compreendida como a reiterada violação de obrigações contratuais de natureza leve, a desídia apenas poderá conduzir à dissolução do vínculo quando a última falta cometida revelar gravidade suficiente para justificar, por si só, a dispensa do trabalhador.
- 108** A dispensa por justa causa do operário detentor de estabilidade provisória no emprego depende de prévia e expressa autorização judicial. Para tanto, deve o empregador propor o inquérito judicial, no prazo máximo de trinta dias, contados da data do ato faltoso praticado pelo empregado, sob pena de arcar com as parcelas próprias da rescisão injusta do vínculo de emprego.
- 109** A rescisão indireta do contrato tem lugar quando o empregador pratica atos graves e incompatíveis com a continuidade da relação de emprego, tais como ofensas físicas e tratamento excessivamente rigoroso ao empregado. Em qualquer dessas situações, deve o empregado propor ação judicial e permanecer em serviço, sob pena de abandono, até decisão final do processo.
- 110** O dirigente sindical dispensado sem autorização judicial lavrada em inquérito tem direito à reintegração liminar no emprego.

Quanto às regras informativas da duração do trabalho, julgue os itens subseqüentes.

- 111** Para os trabalhadores de empresas que funcionem em turnos ininterruptos de revezamento, a jornada de trabalho é limitada ao máximo de seis horas diárias, salvo se houver negociação coletiva em contrário.
- 112** Em nenhuma hipótese, quando suplantado o limite diário de seis horas de trabalho, os intervalos devidos durante a jornada podem ser inferiores a uma hora ou superiores a duas horas.

**113** O adicional destinado a remunerar as horas trabalhadas além do limite máximo previsto em lei deve ser de, no mínimo, 50% para as duas primeiras horas e de 100% para as subseqüentes.

**114** O adicional destinado a remunerar o trabalho noturno — prestado entre 22 h e 5 h em atividades urbanas — tem caráter meramente indenizatório, objetivando compensar o maior desgaste físico e social imposto ao prestador.

Com relação ao procedimento observado nas ações propostas perante a justiça do trabalho, julgue os itens a seguir.

**115** Ausente injustificadamente o reclamante à audiência, quando ainda não tiver sido apresentada a defesa, deve o juiz proferir de imediato a sentença, extinguindo o processo sem exame do mérito, por ausência de pressuposto de desenvolvimento válido e regular da relação jurídica processual.

**116** Presentes o reclamante e seu advogado à audiência e comparecendo apenas o advogado da pessoa jurídica reclamada, ainda que munido de procuração, defesa escrita e documentos, configura-se a revelia e a conseqüente confissão ficta.

**117** Em audiência, frustrada a tentativa conciliatória, segue-se a instrução do processo, com a oitiva de até três testemunhas nas ações vinculadas aos ritos sumaríssimo e ordinário e de até seis testemunhas nos inquéritos para apuração de falta grave de empregado estável.

**118** Nas ações propostas sob o rito sumaríssimo, em que o valor da causa é igual ou inferior a quarenta salários mínimos, o adiamento da audiência em razão do não-comparecimento de testemunhas apenas pode ser deferido se houver prova de que elas foram realmente convidadas.

**119** Contestada a ação, a ausência do reclamado à audiência caracteriza confissão ficta quando, envolvendo o dissídio matéria de fato, tiver sido prévia e expressamente intimado a comparecer para prestar depoimento, sob aquela cominação.

Com referência aos recursos no processo do trabalho, julgue os itens seguintes.

**120** As decisões interlocutórias proferidas em ações de conhecimento são irrecorríveis de imediato, devendo o respectivo merecimento ser aferido por ocasião do recurso cabível contra o julgamento definitivo.

**121** O agravo de petição — recurso adequado para a revisão das decisões proferidas nas execuções — só é conhecido se o agravante expuser, de modo fundamentado, as matérias e os valores impugnados.

**122** Nas ações de competência originária dos tribunais regionais do trabalho, o recurso de revista só é admitido contra julgamentos proferidos em dissídios coletivos de natureza econômica.

**123** Nos conflitos individuais, os julgamentos proferidos pelos tribunais regionais do trabalho, envolvendo matéria de fato, apenas podem ser revistos pelo Tribunal Superior do Trabalho (TST) se ficar demonstrada a natureza anômala da decisão recorrida.

**124** Os embargos dirigidos à Seção de Dissídios Individuais do TST são cabíveis na hipótese de ocorrer divergência entre julgados proferidos por suas turmas.

**125** O recurso ordinário contra sentença proferida em ação vinculada ao rito sumaríssimo deve ser interposto em oito dias, com imediata distribuição ao relator, que possui dez dias de prazo para determinar a sua inclusão em pauta de julgamento.

Acerca dos conselhos de fiscalização de profissões regulamentadas, julgue os itens a seguir.

**126** Esses entes podem deter personalidade jurídica de direito privado, desde que a lei assim o estabeleça.

**127** Por exercerem poder de polícia sobre aqueles neles inscritos, esses conselhos integram, obrigatoriamente, a administração pública direta.

**128** A inscrição de profissional no respectivo conselho é ato administrativo que, embora vinculado, não está sujeito a controle judicial.

**129** A punição de profissional inscrito em conselho profissional depende sempre de prévio processo administrativo.

**130** A responsabilidade civil por danos a terceiros causados por essas entidades independe de culpa de seus agentes.

**131** Ante a natureza especial dos conselhos de fiscalização de profissões regulamentadas, os atos que tais entes praticam não estão sujeitos ao princípio da eficiência.

**132** Esses conselhos estão sujeitos ao controle externo dos tribunais de contas dos estados onde têm sede.

**133** Servidores técnicos dos conselhos federais podem ocupar outro cargo da mesma natureza em órgão da administração direta estadual.

**134** A publicidade de atos, programas, obras, serviços e campanhas desses conselhos não poderá conter nomes, símbolos ou imagens que caracterizem promoção pessoal de autoridades.

Com relação aos atos e contratos administrativos, julgue os itens subseqüentes.

**135** O ato administrativo nulo nunca é suscetível de convalidação.

**136** A administração pública pode rescindir unilateralmente os contratos administrativos por motivo de interesse público.

**137** Os contratos administrativos, por estarem sujeitos ao princípio do *pacta sunt servanda*, inadmitem alteração quantitativa do seu objeto.

**138** Pregão eletrônico é uma forma de licitação admitida pela administração pública federal.

**139** Atos normativos administrativos, uma vez dotados de generalidade e abstração, não são, de regra, impugnáveis por meio de mandado de segurança.

**140** O fato de uma autarquia ser parte em contrato regulado pelo direito civil importa no afastamento da competência da justiça federal para julgamento de lide decorrente de tal contrato.

Carlos, engenheiro civil e dono da firma Carlos Engenharia e Arquitetura Ltda., presta serviços para entidades municipais e estaduais em diferentes regiões do Brasil.

Considerando essa situação hipotética e as normas referentes ao exercício das profissões de engenheiro civil e de arquiteto, julgue os itens a seguir.

**141** Nos termos da Lei n.º 5.194/1966, a firma de Carlos não pode prestar serviços públicos ou privados independentemente de registro nos conselhos regionais (CREA) dos municípios em que atua. Nessa situação, caso prestasse serviços estaria ocorrendo a hipótese de exercício ilegal da profissão.

**142** Como autônomo, Carlos pode prestar serviços privados independentemente de registro no CREA, mas no caso de serviços para as prefeituras deverá ter esse tipo de registro.

**143** Supondo que Carlos trabalhe na firma com outros dois sócios, todos eles, obrigatoriamente, deverão estar registrados no CREA para que a firma possa ter a denominação referida.

**144** Na condição de engenheiro civil, Carlos pode, cumulativamente, exercer as atribuições de arquiteto, independentemente de haver cursado arquitetura.

No que se refere à caracterização e ao exercício das profissões de engenheiro, arquiteto e engenheiro agrônomo, julgue os seguintes itens, nos termos da Lei n.º 5.194/1966 e da Lei n.º 6.496/1977.

**145** Entre outros, os empreendimentos relacionados aos meios de locomoção e comunicações caracterizam as profissões de engenheiro, arquiteto e engenheiro agrônomo.

**146** O exercício ilegal da profissão refere-se exclusivamente a indivíduos (pessoas físicas) e nunca a firmas (pessoas jurídicas).

**147** As alterações do projeto ou plano original, em regra, só podem ser feitas pelo profissional que o tenha elaborado.

**148** Os profissionais habilitados na forma estabelecida na Lei n.º 5.194/1966, só poderão exercer a profissão após o registro no CREA da jurisdição em que se achar o local de sua atividade.

**149** A anotação de responsabilidade técnica (ART) define, para os efeitos legais, os responsáveis técnicos pelo empreendimento de engenharia, arquitetura e agronomia.

**150** A inscrição na Mútua é pessoal e independente de inscrição profissional e os benefícios só poderão ser pagos após decorrido um ano do pagamento da primeira contribuição.



## PROVA DISCURSIVA

Na prova a seguir — que vale **dez** pontos —, faça o que se pede, usando as páginas correspondentes do presente caderno para rascunho. Em seguida, transcreva o texto para a respectiva **FOLHA DE TEXTO DEFINITIVO** da prova discursiva, nos locais apropriados, pois **não serão avaliados fragmentos de texto escritos em locais indevidos**. Utilize, no mínimo, **trinta** e, no máximo, **sessenta** linhas. Qualquer texto com extensão aquém da mínima de **trinta** linhas será apenado, e qualquer fragmento de texto além da máxima de **sessenta** linhas será desconsiderado.

**ATENÇÃO!** Na **folha de texto definitivo da prova discursiva**, identifique-se apenas no cabeçalho, pois **não serão avaliados** os textos que tenham qualquer assinatura ou marca identificadora fora do local apropriado.

Leia o texto a seguir.

### *Cultura da abundância, o mal das águas*

*Os recursos hídricos tornaram-se cada vez mais escassos nos últimos 20, 30 anos, derrubando os mitos de que a água é abundante no planeta e é um recurso renovável. Com o crescimento da população e a intensa urbanização, tais recursos ficaram escassos em quantidade e qualidade, mais difíceis e complexos de se obter e conservar, e mais caros para distribuir, prover e ampliar.*

*Ainda não há números que retratem um quadro nacional da qualidade das águas. Os padrões e critérios variam por região, o que se soma a outra dificuldade no dimensionamento deste quadro: identificar os maiores poluidores, qual é o quinhão de responsabilidade das diferentes fontes de degradação. Outro complicador é o significativo impacto na natureza da chamada “poluição difusa”, também de difícil identificação. Trata-se dos detritos e sucatas do chão das cidades, dos pavimentos, erosões, lixo de rua, óleo de avenidas e rodovias, tudo que é carregado do chão pelas chuvas, diretamente para os rios, com potencial poluidor significativo e crescente.*

Época. “Informe publicitário”, 30/6/2003, p. 73 (com adaptações).

Considerando que as idéias apresentadas no texto acima têm caráter unicamente motivador, redija um texto dissertativo, posicionando-se acerca do seguinte tema:

**ÁGUA, SUBSTÂNCIA DECISIVA PARA A MANUTENÇÃO DA VIDA.**

# RASCUNHO – 1/2

1	
2	
3	
4	
5	
6	
7	
8	
9	
10	
11	
12	
13	
14	
15	
16	
17	
18	
19	
20	
21	
22	
23	
24	
25	
26	
27	
28	
29	
30	

# RASCUNHO – 2/2

31	
32	
33	
34	
35	
36	
37	
38	
39	
40	
41	
42	
43	
44	
45	
46	
47	
48	
49	
50	
51	
52	
53	
54	
55	
56	
57	
58	
59	
60	