

**CONCURSO PÚBLICO****NÍVEL MÉDIO****Emprego 14:****Assistente Administrativo****CADERNO  
DE PROVAS****LEIA COM ATENÇÃO AS INSTRUÇÕES ABAIXO.**

- 1 Ao receber este caderno, confira se ele contém **cem** itens, correspondentes às provas objetivas, corretamente ordenados de **1 a 100**.
- 2 Caso o caderno esteja incompleto ou tenha qualquer defeito, solicite ao fiscal de sala mais próximo que tome as providências cabíveis.
- 3 Recomenda-se não marcar ao acaso: a cada item cuja resposta diverja do gabarito oficial definitivo, além de não marcar ponto, o candidato recebe pontuação negativa, conforme consta em edital.
- 4 Não utilize nenhum material de consulta que não seja fornecido pelo CESPE.
- 5 Durante as provas, não se comunique com outros candidatos nem se levante sem autorização do chefe de sala.
- 6 A duração das provas é de **três horas**, já incluído o tempo destinado à identificação — que será feita no decorrer das provas — e ao preenchimento da folha de respostas.
- 7 Ao terminar as provas, chame o fiscal de sala mais próximo, devolva-lhe a sua folha de respostas e deixe o local de provas.
- 8 A desobediência a qualquer uma das determinações constantes no presente caderno, na folha de rascunho ou na folha de respostas poderá implicar a anulação das suas provas.

**AGENDA**

- I **13/12/2004**, a partir das 10 h (horário de Brasília) — Gabaritos oficiais preliminares das provas objetivas: Internet — [www.cespe.unb.br](http://www.cespe.unb.br) — e quadros de avisos do CESPE/UnB, em Brasília.
- II **14 a 16/12/2004** — Recursos (provas objetivas): formulários estarão disponíveis no Sistema Eletrônico de Interposição de Recurso, Internet — [www.cespe.unb.br](http://www.cespe.unb.br).
- III **18/1/2005** — Resultado final das provas objetivas e resultado final do concurso: Diário Oficial do Distrito Federal e nos locais mencionados no item I.

**OBSERVAÇÕES**

- Não serão objeto de conhecimento recursos em desacordo com o item 12 do Edital n.º 1/2004 — SGA/TERRACAP, de 17/8/2004.
- Informações adicionais: telefone 0(XX) 61 448 0100; Internet — [www.cespe.unb.br](http://www.cespe.unb.br).

• De acordo com o comando a que cada um dos itens de 1 a 100 se refira, marque, na **folha de respostas**, para cada item: o campo designado com o código **C**, caso julgue o item **CERTO**; ou o campo designado com o código **E**, caso julgue o item **ERRADO**. A ausência de marcação ou a marcação de ambos os campos não serão apenadas, ou seja, não receberão pontuação negativa. Para as devidas marcações, use a folha de rascunho e, posteriormente, a **folha de respostas**, que é o único documento válido para a correção das suas provas.

• Nos itens que avaliam **Noções de Informática**, a menos que seja explicitamente informado o contrário, considere que todos os programas mencionados estão em configuração-padrão, em português, que o *mouse* está configurado para pessoas destros e que expressões como clicar, clique simples e clique duplo referem-se a cliques com o botão esquerdo do *mouse*. Considere também que não há restrições de proteção, de funcionamento e de uso em relação aos programas, arquivos, diretórios e equipamentos mencionados.

## CONHECIMENTOS BÁSICOS

### Texto I – itens de 1 a 10

1 O fim do direito é a paz, o meio de atingi-lo é a luta. Enquanto o direito tiver de contar com as agressões partidas dos arraiais da injustiça — e isso acontecerá enquanto o mundo for mundo — não poderá prescindir da luta. A vida do direito é a luta — uma luta dos povos, dos governos, das classes sociais, dos indivíduos.

7 Todo o direito que existe no mundo foi alcançado através da luta; seus postulados mais importantes tiveram de ser conquistados em combate contra as legiões de opositores; todo e qualquer direito, seja o direito de um povo, seja o direito de um indivíduo, só se afirma através de uma disposição ininterrupta para a luta.

13 O direito não é uma simples idéia, é uma força viva. Por isso a justiça sustém em uma das mãos a balança com que pesa o direito, enquanto na outra segura a espada por meio da qual o defende. A espada sem a balança é força bruta; a balança sem a espada, a impotência do direito. Uma completa a outra, e o verdadeiro estado de direito só pode existir quando a justiça sabe brandir a espada com a mesma habilidade com que manipula a balança.

Rudolf von Ihering. *A luta pelo direito*, 2003 (com adaptações).

Com base nas idéias do texto I, julgue os itens a seguir.

- 1 Há uma relação ambígua e paradoxal entre justiça e direito.
- 2 Apesar de o direito ter por finalidade a paz, todos os povos, governos e classes sociais combatem, entre si, para ter as injustiças sociais eliminadas de seu contexto.
- 3 A alegoria da justiça representa, no símbolo da balança, a idéia de que é imperioso mensurar e avaliar estados de direito.
- 4 O sentido de luta, de trabalho, é imprescindível ao direito, uma vez que parte da predisposição ao combate às injustiças.
- 5 O direito não é uma abstração e, sim, uma “força viva” (ℓ.13), desde que os conquistados combatam, com dignidade, seus conquistadores.

A partir da análise das estruturas do texto I, julgue os itens subseqüentes.

- 6 A passagem “— e isso acontecerá enquanto o mundo for mundo —” (ℓ.3-4) refere-se às constantes injustiças das quais o direito emerge.
- 7 Podem-se substituir as duas ocorrências de “através” (ℓ.8 e 11) por **em virtude**.
- 8 A vírgula logo após “idéia” (ℓ.13) pode ser substituída por ponto-e-vírgula, sem implicar alteração semântica.

9 As duas ocorrências da palavra “outra” (ℓ.15 e 18) têm como referente a palavra “espada”.

10 A vírgula após a palavra “espada” (ℓ.17) indica a supressão de uma forma verbal na terceira pessoa do singular; o verbo omitido pode ser, entre outros, **representar**.

### Texto II – itens de 11 a 16

A elevação brusca no preço dos aluguéis está preocupando as administradoras que, há mais de três meses, não encontram locatários que possam pagar mil e duzentos reais mensais por imóveis de dois quartos. Por isso, muitos proprietários preferem manter seus imóveis fechados aguardando que a situação mude a curto prazo e então possam encontrar inquilinos confiáveis.

O texto na TV — manual de telejornalismo, 1999 p. 69.

Julgue a correção gramatical das informações derivadas do texto II e apresentadas nos itens subseqüentes.


- 11 As administradoras buscam à elevação dos preços, mesmo que não apareça locatários para os imóveis.
- 12 As imobiliárias, administradoras dos imóveis, estão ansiosas porque, há muito, não encontram locatários com poder aquisitivo para assumirem aluguéis tão caros.
- 13 O aluguel mensal de um imóvel com apenas dois quartos e sem dispensa de empregada está orçado à aproximadamente um mil e duzentos reais.
- 14 Existem vários proprietários, que preferem manter fechados seus imóveis, enquanto aguardam um locatário compatível, com os preços estipulado.

A partir das informações do texto II e com base nos princípios de redação e correspondência oficial, julgue os itens a seguir.

- 15 A Associação de Corretores de Imóveis expediu, em resposta a um requerimento da Associação de Prefeitos de Quadras do Plano Piloto, uma exposição de motivos, sob a forma de abaixo-assinado, justificando que aguardam, a curto prazo, mudanças na legislação imobiliária, as quais afetarão suas condutas em prol dos locatários.
- 16 Para que a informação constasse de um relatório técnico, realizado em razão de inspetoria a administradoras, deveria estar assim redigida: “As administradoras afirmaram que a elevação do preço dos aluguéis as está preocupando há mais de três meses, pois não têm encontrado locatários para os imóveis, e que muitos proprietários preferem manter seus apartamentos fechados, aguardando que a situação mude, para que possam encontrar inquilinos confiáveis.”

Faça apenas um pedido: que você reveja sua opinião sobre esse assunto.

Há um fato ainda inexplicado: terem eles sobrevivido a tantas adversidades.



Considerando a pontuação e a sintaxe das orações dos períodos acima da ilustração, julgue os itens seguintes.

- 17 O emprego de dois-pontos nos dois períodos justifica-se por estarem eles antecedendo orações que servem de apostos aos termos antecedentes.
- 18 No primeiro período, a oração iniciada pelo pronome relativo “que” classifica-se como oração subordinada adjetiva explicativa.
- 19 O segundo período tem início com uma construção impessoal, em que o sujeito é inexistente.
- 20 A segunda oração do primeiro período está construída na voz ativa; já a segunda oração do segundo período está estruturada na voz passiva.

Com relação a *hardware* e *software* de microcomputadores do tipo PC, julgue os itens seguintes.


- 21 Considere que dois computadores sejam exatamente idênticos em tudo, exceto nas quantidades de memória RAM instaladas, que é de 256 MB em um e 512 MB no outro. Então o computador com maior capacidade de memória RAM poderá armazenar uma quantidade de dados maior que o outro, entretanto, não haverá diferença nos tempos que cada um deles leva para executar um mesmo programa, independentemente do tipo de programa.
- 22 Em geral, as memórias *cache* propiciam acesso mais lento que as memórias RAM dinâmicas, mas são as memórias que atualmente apresentam menor preço.
- 23 O disco rígido utiliza processos magnéticos para a gravação de dados. Existem, atualmente, discos rígidos com capacidade para armazenar mais de 80 GB.
- 24 Atualmente, é possível a instalação de dois sistemas operacionais em um mesmo computador PC. Apesar de não causar incompatibilidade, desde que ambos os sistemas operacionais sejam corretamente inicializados, a instalação do Windows XP e do Linux em um mesmo PC exige que cada sistema operacional seja instalado em um *winchester* diferente do computador.

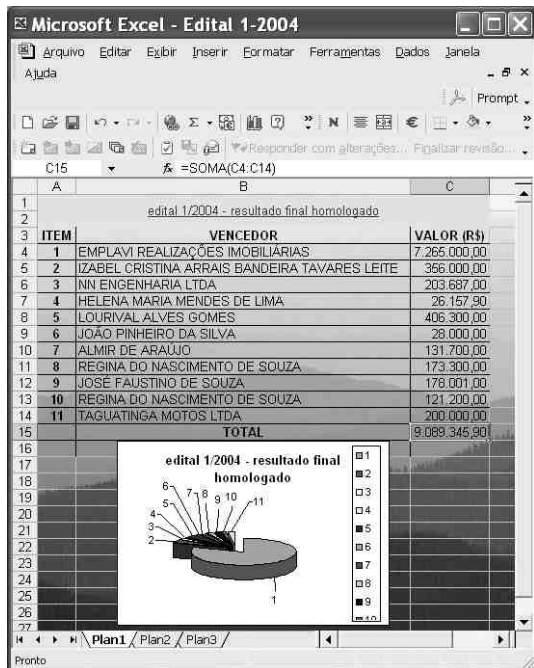
Com relação ao sistema operacional Linux, julgue os itens subseqüentes.

- 25 No Linux, a execução pode ser realizada por meio de linha de comando, apesar de existirem versões desse sistema operacional que permitem a execução de programas usando recursos disponíveis em ambientes gráficos.
- 26 No Linux, o diretório denominado *home* é adequado para que o usuário armazene seus arquivos pessoais.


ITEM	VENDEDOR	VALOR (R\$)
005	EMPLAVI REALIZAÇÕES IMOBILIÁRIAS	7.285.000,00
007	IZABEL CRISTINA ARRAIS BANDEIRA TAVARES LEITE	356.000,00
009	NN ENGENHARIA LTDA	203.687,00
041	HELENA MARIA MENDES DE LIMA	26.157,00
079	LOURIVAL ALVES GOMES	406.300,00
104	JODÃO PINHEIRO DA SILVA	28.000,00
117	ALMIR DE ARAÚJO	131.700,00
118	REGINA DO NASCIMENTO DE SOUZA	173.300,00
129	JOSÉ FAUSTINO DE SOUZA	178.001,00
130	REGINA DO NASCIMENTO DE SOUZA	121.200,00
131	TAGUATINGA MOTOS LTDA	200.000,00

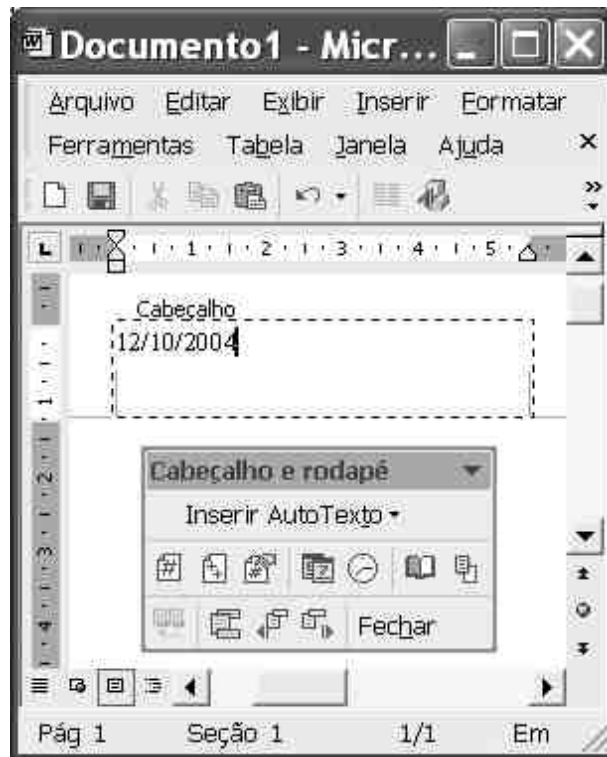
Considere a figura acima, que ilustra uma janela do Internet Explorer 6 (IE6), contendo uma página *web* de endereço eletrônico <http://www.terracap.df.gov.br/index2.htm> e que pertence ao sítio da TERRACAP. Julgue os itens a seguir, relativos ao IE6, à Internet e à janela mostrada, supondo que o IE6 esteja em sessão de uso.

- 27 Sabendo que a planilha mostrada na janela do IE6 pode ser exportada para um arquivo do Excel 2002, então, por meio de ferramenta disponibilizada no *menu Ferramentas*, é possível que o total dos valores arrecadados no processo regido pelo **EDITAL 01/2004**, indicados na coluna **VALOR (R\$)**, seja calculado utilizando-se unicamente operações com o *mouse*.
- 28 Com base nas informações contidas na janela ilustrada, é correto concluir que, ao se clicar o botão , será iniciado procedimento de acesso à página cujo URL é <http://www.terracap.df.gov.br>.





A figura acima ilustra uma janela do Excel 2002 contendo informações obtidas do sítio da TERRACAP, relativas a processo de licitação realizado em 2004. Considerando essa figura, julgue os itens que se seguem, relativos ao Excel 2002 e à janela ilustrada.

- 29 O gráfico mostrado na parte inferior da figura pode ter sido obtido por meio de funcionalidades do Excel 2002 disponibilizadas ao se clicar o botão .
- 30 Sabendo que a planilha ilustrada contém plano de fundo, é correto afirmar que esse plano de fundo pode ter sido inserido por meio de funcionalidade acessível no menu **Formatar**.


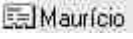
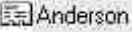
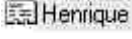



Considerando a figura acima, que ilustra uma janela do Word 2002 em uma sessão de uso para a elaboração de um documento, julgue os seguintes itens.

- 32 Caso se deseje inserir no cabeçalho do documento em edição um texto armazenado em arquivo, é possível fazê-lo por meio de funcionalidade encontrada no menu **Inserir AutoTexto**.
- 33 Sabendo que “12/10/2004” corresponde ao dia, mês e ano da sessão de uso do Word mencionada, é correto afirmar que essa data pode ter sido inserida no cabeçalho do documento ao se clicar o botão .
- 34 Caso se aplique um clique duplo no botão **Fechar**, será iniciado um procedimento de finalização da sessão atual de uso do Word. O Word será encerrado caso se confirme que as modificações realizadas no documento em edição devem ser armazenadas em um arquivo de nome “Documento1.doc”.
- 35 Ao contrário do corpo do documento, onde é possível se definir mais de uma coluna de texto, dentro do cabeçalho do documento essa possibilidade não é permitida, como pode ser confirmado pela observação do botão , que está desativado.



Com relação à janela do Outlook Express 6 ilustrada acima, julgue o item a seguir.

- 31 Ao se clicar o botão , será iniciado processo de envio de mensagem de correio eletrônico aos contatos ,  e , cujo conteúdo pode ser editado por meio de funcionalidades acessíveis ao se clicar o botão .

Depois de um encontro que o chanceler Celso Amorim chamou de “histórico”, os governos do Brasil, Índia, Japão e Alemanha anunciaram que trabalharão juntos por uma reforma do Conselho de Segurança das Nações Unidas (ONU). O “Conselho precisa refletir as realidades da comunidade internacional no século 21”, afirmou o comunicado do novo Grupo dos 4 (G-4). Um reflexo do mundo que emergiu da II Guerra, o Conselho tem cinco membros permanentes com direito a veto e dez cadeiras rotativas ocupadas pelos demais países, em representação dos continentes, por períodos de dois anos.

O Estado de S. Paulo, 22/9/2004, p. A4 (com adaptações).

Tendo o texto acima como referência inicial e considerando os mais distintos aspectos do sistema internacional contemporâneo, além da política externa praticada pelo Brasil, julgue os itens subseqüentes.

- 36 Infere-se do texto que o Grupo dos 4 contesta a manutenção, na nova realidade mundial deste início de século, dos mesmos padrões que presidiram o surgimento do Conselho de Segurança (CS), sob os efeitos do cenário que surgia com o fim da II Guerra Mundial.
- 37 Os países que mantêm assento permanente e ainda monopolizam o direito de veto no CS são Estados Unidos da América (EUA), Reino Unido, França, China e Rússia.
- 38 Integrante do G-4, a Índia possui a segunda maior população do planeta, sendo suplantada apenas pela China.
- 39 No G-4, o Brasil comparece na condição de maior país da América do Sul, em termos de extensão territorial, de população e de poderio econômico.
- 40 Embora não-integrante da União Européia, por causa de sua histórica rivalidade com a França, a Alemanha é uma das maiores forças econômicas da atualidade.
- 41 A importância do CS decorre do fato de que trata de temas que afetam diretamente a paz e a segurança internacionais, embora não tenha o poder de sugerir o envio de forças militares da ONU para locais de conflito.
- 42 Quando o G-4 afirma que o CS precisa refletir a realidade mundial de hoje, parte do princípio de que a Guerra Fria, que por décadas dividiu o mundo entre dois pólos de poder, mantém-se de pé, mas agora com novos protagonistas.
- 43 O Brasil tem procurado se isolar no cenário internacional, talvez como forma de preservar os mercados que está conquistando aos poucos.

- 44 Ao reduzir ao máximo suas viagens internacionais, o presidente Luiz Inácio Lula da Silva emite sinais de que o Brasil concorda com os rumos da atual globalização econômica, preferindo apoiar incondicionalmente as ações das grandes potências.
- 45 Ao defender a reforma do CS da ONU, o Brasil não esconde seu desejo de também se transformar em membro permanente do órgão.

A consciência do bem-estar e da preservação ambiental faz crescer a procura por alimentos orgânicos. Dados da Federação Internacional dos Movimentos de Agricultura Orgânica revelam a existência de mais de 800 mil hectares plantados com alimentos orgânicos no país. No mundo, o Brasil está em 5.º lugar em área de produção. A garantia de controle de qualidade dos alimentos orgânicos não tem respaldo oficial. As certificadoras que hoje emitem o selo de qualidade ainda dependem de regulamentação por parte do governo federal.

Correio Braziliense, 18/9/2004, p. 16 (com adaptações).

Tendo o texto acima como referência inicial e considerando os diversos aspectos concernentes ao tema por ele focalizado, julgue os itens seguintes.

- 46 Para que um alimento seja classificado como orgânico, uma condição básica é que ele seja produzido sem o uso de agrotóxicos.
- 47 A consciência a que se refere o texto, especialmente em termos de preservação da natureza, sempre existiu ao longo da história, tendo apenas aumentada sua divulgação nas últimas décadas.
- 48 Acredita-se que a preocupação com a saúde seja uma das mais fortes razões para a mudança de hábitos alimentares dos brasileiros, como se vê no aumento da demanda por produtos orgânicos.
- 49 Bem mais baratos e com oferta garantida em todo o país, os alimentos orgânicos tendem a ganhar rapidamente o mercado.
- 50 O Brasil dispõe de extensa, rígida e regulamentada legislação relativa aos alimentos orgânicos, o que facilita o trabalho de fiscalização por parte das autoridades.

## CONHECIMENTOS ESPECÍFICOS

### Hierarquia

Diz que um leão enorme ia andando chateado, não muito rei dos animais, porque tinha acabado de brigar com a mulher e esta lhe dissera poucas e boas (ou seja, muitas e ruins). Ainda com as palavras da mulher o aborrecendo, o leão subitamente se defrontou com um pequeno rato, o ratinho mais menor que ele já tinha visto. Pisou-lhe a cauda e, enquanto o rato forçava inutilmente para fugir, o leão gritou: “Miserável criatura, estúpida, ínfima, vil, torpe: não conheço na criação nada mais insignificante e nojento. Vou te deixar com vida apenas para que você possa sofrer toda a humilhação do que lhe disse, você, desgraçado, inferior, mesquinho, rato!” E soltou-o. O rato correu o mais que pôde, mas, quando já estava a salvo, gritou pro leão: “Será que Vossa Excelência poderia escrever isso pra mim? Vou me encontrar agora mesmo com uma lesma que eu conheço e quero repetir isso pra ela com as mesmas palavras!”

Millôr Fernandes. *Fábulas fabulosas*. 1985, p. 112.

Com base no texto acima, julgue os itens a seguir.

- 51 O texto, porque relata com ironia uma situação envolvendo animais, mesmo com o intuito de criticar condutas de violência e subjugação existentes nas relações humanas, não pode constar de um relatório.
- 52 A utilização do pronome “Vossa Excelência” imprime mais deferência ao tratamento do que se houvesse sido empregada a forma “Vossa Senhoria”.
- 53 O rato exigia do leão um texto legal, escrito, porque não acreditava na tradição oral, igualmente válida a tal finalidade.

Brasília, 1.º de novembro de 1995.

Exmo. Sr.

Dr. José Silva

M.D. Presidente da Academia Brasileira de Letras

Nesta

Presidente Silva, saiba o que ocorre:  
Vai haver eleição na Academia  
E é então que se impõe ter ousadia,  
Que anda voando aí quem menos corre.

Se cada candidato se socorre  
Do que lhe pode ser de mais valia,  
Socorro-me somente da Poesia,  
Nesta hora de intenso corre-corre.

Eu pleiteio o favor de sua ajuda;  
Com ela (não há mesmo quem se iluda)  
Atingirei a meta — eis o que eu noto.

Excelência, é difícil a batalha  
E por isso eu lhe rogo que me valha  
Com a sólida ajuda de seu voto.

Respeitosas saudações

(a) J. G. Araújo

GERALDO, 1992, p. 63 (com adaptações).

Com base no texto anterior e a respeito de redação de expediente, julgue os seguintes itens.

- 54 Pelo teor do texto, depreende-se que o autor pretendeu redigir um requerimento, mas que, devido à forma inusitada, não pode ser considerado modelo de redação oficial.
- 55 O fechamento “Respeitosas saudações” é uma forma adequada tanto para ofícios quanto para memorandos.
- 56 A data e a assinatura, colocadas à margem direita do papel, são distribuições aconselhadas tanto para atas quanto para cartas circulares.
- 57 Considerando que “Memorial” é “um documento escrito relativo às lembranças, às vivências de alguém, visando ao pleito de algum benefício”, para que o texto acima pudesse ser assim classificado e servisse à finalidade a que se propõe, deveria estar redigido na forma verbal do pretérito perfeito do indicativo.

Manter boas relações humanas no trabalho é uma habilidade que compõe importante diferencial nas organizações. Acerca desse tema, julgue os itens que se seguem.

- 58 As manifestações de descontentamento — comuns em quase todo ambiente de trabalho — devem ser resolvidas antes que se transformem em algum tipo de ameaça ao equilíbrio e ao moral da equipe.
- 59 Coletar informações, junto à chefia imediata, acerca do contexto no qual ocorreu determinado problema de relacionamento interpessoal é suficiente para a solução desse problema.
- 60 O gerente que tem opinião própria e que decide sozinho o que é importante para a sua equipe favorece o bom clima de trabalho.

Em cada um dos itens a seguir é apresentada uma situação hipotética acerca do trabalho de relações públicas (RP), seguida de uma assertiva a ser julgada.

- 61 Catarina é gerente do setor de RP de uma organização pública do Distrito Federal (DF). Ela está sempre buscando conhecer as características do público-alvo de seu órgão. Nessa situação, é correto afirmar que essa conduta de Catarina contribui para a eficácia do seu atendimento como profissional de RP.
- 62 Jorge é um profissional de RP e atua em um órgão do DF. Ele tem competência técnica e interpessoal. Nessa situação, é correto afirmar que o trabalho de Jorge, devido a sua qualidade, influi positivamente na formação da imagem que o cliente faz dessa organização.

Acerca de arquivamento e de procedimentos administrativos, julgue os itens a seguir.

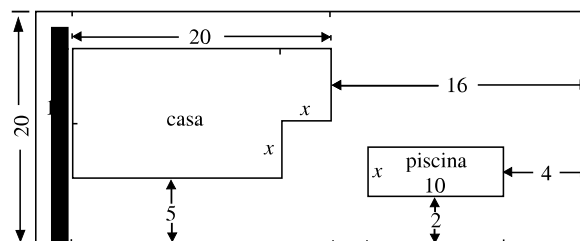
- 63 A gestão de documentos compreende fundamentalmente as atividades típicas desenvolvidas nos arquivos correntes.
- 64 O método decimal possibilita a expansão ilimitada de subdivisões. Portanto, esse é o método mais indicado para o arquivamento de processos administrativos.
- 65 O profissional responsável pelo encaminhamento de documentos contendo características de ostensivo pode inteirar-se do teor informativo desses documentos antes de sua distribuição.
- 66 O arquivamento é uma etapa posterior à classificação de documentos, mediante a adoção de um plano de classificação.
- 67 As pastas suspensas são unidades de acondicionamento adotadas, fundamentalmente, para o arquivamento de documentos na fase corrente.
- 68 A solicitação de empréstimo de documentos ao arquivo central poderá ser efetivada mediante a identificação do solicitante, do respectivo setor de trabalho e da data do empréstimo.
- 69 Com o objetivo de racionalizar o espaço físico nos setores de trabalho, é aconselhável que, finalizado o trâmite, os documentos arquivísticos que devem ser preservados por um período de 2 anos ou mais sejam transferidos ao arquivo central.
- 70 Aos documentos arquivísticos de produção interna será atribuída uma codificação complementar como elemento diferenciador dos documentos de origem externa.

Determinada empresa é departamentalizada funcionalmente e possui as diretorias de *marketing*, de recursos humanos, de produção, de administração financeira e administração de material. As atribuições são definidas para cada diretoria de forma a respeitar os assuntos tradicionais de cada disciplina.

Considerando as informações acima, julgue os itens a seguir.

- 71 A definição da frequência e da quantidade de compras das principais matérias-primas empregadas na produção, em função de seu alto impacto financeiro, deve ser uma atribuição da diretoria de administração financeira.
- 72 Compete à diretoria de administração de recursos humanos a definição do quantitativo da força de trabalho a ser alocado no almoxarifado.
- 73 Definir alterações na estrutura organizacional da empresa é atribuição da diretoria de administração de recursos humanos.

- 74 O recrutamento e a seleção do pessoal de vendas devem ser efetuados pela diretoria de administração de recursos humanos.
- 75 A definição dos preços dos produtos fabricados pela empresa é responsabilidade da diretoria de administração financeira.
- 76 Definir a proporção da participação do capital de terceiros nos investimentos da empresa em equipamentos para produção é responsabilidade da diretoria de administração financeira.
- 77 A definição do critério utilizado para valoração dos estoques de produtos acabados é atribuição da área de administração financeira.
- 78 Entre as atribuições da área de administração da produção, inclui-se a escolha das embalagens dos produtos.
- 79 A definição dos locais de vendas dos produtos fabricados pela empresa é responsabilidade da diretoria de administração de material.
- 80 A realização de inventários é atribuição da área de administração de material.



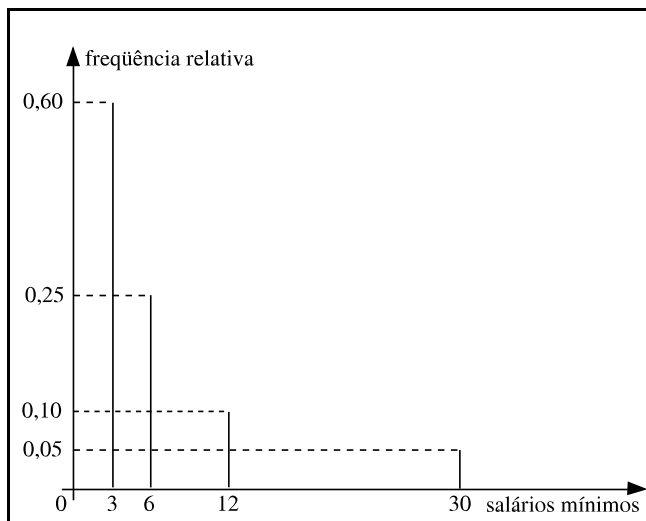
Na figura acima, que representa o projeto de ocupação de um terreno com a construção de uma casa e uma piscina, todas as medidas são expressas em metros. O terreno é retangular e ocupa uma área de  $800 \text{ m}^2$ . As figuras que representam a casa e a piscina têm seus lados paralelos aos lados do terreno. Considere que a área da casa seja superior à área da piscina em mais de  $144 \text{ m}^2$ . Julgue os itens a seguir, a respeito desse projeto.

- 81 Se a área da casa corresponder a 560% da área da piscina, então a área da piscina é superior a  $36 \text{ m}^2$ .
- 82 A largura  $x$  da piscina é inferior a 6 m.
- 83 A porção do terreno sem nenhuma construção tem área inferior a  $520 \text{ m}^2$ .

RASCUNHO

Julgue os itens seguintes.

- 84 Considere que o volume de um tetraedro regular seja igual a  $7,52 \text{ cm}^3$ . Então, supondo que  $\sqrt{2} = 1,41$  e que  $\sqrt{3} = 1,73$ , esse tetraedro tem área inferior a  $30 \text{ cm}^2$ .
- 85 Considere que as medidas dos lados de um triângulo retângulo estão em progressão aritmética e que o perímetro e a área desse triângulo, em cm e  $\text{cm}^2$ , respectivamente, são expressos por números iguais. Então um dos lados desse triângulo mede 12 cm.
- 86 Sabe-se que 4 resmas de papel e 3 cartuchos para impressora custam R\$ 275,00 e que 5 resmas de papel e 2 cartuchos de impressora custam R\$ 212,50. Então cada cartucho de impressora custa 6 vezes o preço de uma resma de papel.
- 87 Considere um lote de 10 peças das quais 4 estão com defeito. Se 2 peças desse lote são escolhidas aleatoriamente, então a probabilidade de essas 2 peças serem defeituosas é superior a 15%.



O gráfico acima mostra a frequência relativa dos salários dos empregados (em salários mínimos) de certa empresa. Com base nesse gráfico, julgue o item abaixo.

- 88 O salário médio dessa empresa corresponde a 8 salários mínimos.

Pedro tomou R\$ 1.000,00 emprestados, comprometendo-se a pagar uma taxa de juros de 216% ao ano, capitalizados mensalmente. Supondo que  $1,18^6 = 2,7$  e que Pedro quite a sua dívida ao final do primeiro ano após a data do empréstimo, julgue os itens que se seguem.

- 89 Se os juros forem simples, então, ao final do período, Pedro terá pago um total superior a R\$ 2.500,00.
- 90 Se os juros forem compostos, então, ao final do período, Pedro terá pago um total inferior a R\$ 6.000,00.

Em cada um dos itens a seguir, é apresentada uma situação hipotética acerca de cidadania e direito constitucional, seguida de uma assertiva a ser julgada.

- 91 Renato, de trinta anos, é filho de Ademar. Nessa situação, Renato tem o dever de ajudar e amparar seu pai na velhice e na enfermidade.

- 92 Ana tem 17 anos de idade e sua avó Renata tem 75 anos. Nessa situação, o voto é facultativo tanto para Ana quanto para Renata.
- 93 Bernardo completou 18 anos em janeiro de 2004 e, após ter-se alistado nas Forças Armadas, alegou que suas convicções pacifistas eram incompatíveis com o exercício de atividades militares. Nessa situação, a alegação de Bernardo não é um argumento válido para eximi-lo do serviço militar, pois esse serviço é obrigatório por força constitucional.

Acerca do direito constitucional, julgue os itens a seguir.

- 94 O DF acumula as competências legislativas estaduais e municipais.
- 95 Brasília é um dos municípios que compõem o DF.
- 96 A Câmara Legislativa do DF, composta por deputados distritais e presidida pelo governador do DF, integra o Poder Legislativo do Distrito Federal.
- 97 Sabendo que o Lago Paranoá encontra-se integralmente inserido no território do DF, esse lago deve ser considerado um bem da União.

Em cada um dos itens a seguir, é apresentada uma situação hipotética, seguida de uma assertiva a ser julgada.

- 98 Na última eleição, Ricardo e Arnaldo foram eleitos senadores da República pelo DF. Nessa situação, caso Ricardo venha a renunciar ao seu mandato, deverá assumir seu lugar o terceiro candidato mais votado do DF na referida eleição para o Senado Federal.
- 99 O presidente da República editou decreto determinando a extinção de empresa pública federal. Nessa situação, tal decreto é inválido.
- 100 Renato ocupa cargo público de professor na Secretaria de Estado da Educação do DF e foi recentemente investido em emprego público de natureza técnica, lotado em uma empresa pública do DF. Nessa situação, é permitido a Renato acumular esses dois cargos.

RASCUNHO