

CONCURSO PÚBLICO
Nível Superior

Cargo **2**: **CONTADOR**

MANHÃ

Caderno Cinza

LEIA COM ATENÇÃO AS INSTRUÇÕES ABAIXO.

- 1 Ao receber este caderno, confira atentamente se o tipo de caderno — Caderno Cinza — coincide com o que está registrado em sua folha de respostas. Em seguida, verifique se ele contém cento e vinte itens, correspondentes às provas objetivas, corretamente ordenados de 1 a 120.
- 2 Caso o caderno esteja incompleto ou tenha qualquer defeito, solicite ao fiscal de sala mais próximo que tome as providências cabíveis.
- 3 Não utilize lápis, lapiseira, borracha e(ou) qualquer material de consulta que não seja fornecido pelo CESPE/UnB.
- 4 Não se comunique com outros candidatos nem se levante sem autorização do chefe de sala.
- 5 Recomenda-se não marcar ao acaso, cada item cuja resposta divirja do gabarito oficial definitivo receberá pontuação negativa, conforme consta em edital.
- 6 A duração das provas é de **três horas e trinta minutos**, já incluído o tempo destinado à identificação — que será feita no decorrer das provas — e ao preenchimento da folha de respostas.
- 7 Você deverá permanecer obrigatoriamente em sala por, no mínimo, uma hora após o início das provas e poderá levar o seu caderno de provas somente no decurso dos últimos **quinze minutos** anteriores ao horário determinado para o término das provas.
- 8 Ao terminar as provas, chame o fiscal de sala mais próximo, devolva-lhe a sua folha de respostas e deixe o local de provas.
- 9 A desobediência a qualquer uma das determinações constantes no presente caderno ou na folha de respostas poderá implicar a anulação das suas provas.

AGENDA (datas prováveis)

- I 25/9/2007, após as 19 h (horário de Brasília) — Gabaritos oficiais preliminares das provas objetivas: Internet — www.cespe.unb.br/concursos/ipc2007.
- II 26 e 27/9/2007 — Recursos (provas objetivas): exclusivamente no Sistema Eletrônico de Interposição de Recurso, Internet, mediante instruções e formulários que estarão disponíveis nesse sistema.
- III 18/10/2007 — Resultado final das provas objetivas e convocação para a avaliação de títulos: Diário Oficial do Estado do Espírito Santo e Internet.

OBSERVAÇÕES

- Não serão objeto de conhecimento recursos em desacordo com o item 12 do Edital n.º 1 — IPC, de 22/6/2007.
- Informações adicionais: telefone 0(XX) 61 3448-0100; Internet — www.cespe.unb.br/concursos/ipc2007.
- É permitida a reprodução deste material apenas para fins didáticas, desde que citada a fonte.

- De acordo com o comando a que cada um dos itens de **1 a 120** se refira, marque, na **folha de respostas**, para cada item: o campo designado com o código **C**, caso julgue o item **CERTO**; ou o campo designado com o código **E**, caso julgue o item **ERRADO**. A ausência de marcação ou a marcação de ambos os campos não serão apenadas, ou seja, não receberão pontuação negativa. Para as devidas marcações, use a **folha de respostas**, único documento válido para a correção das suas provas.
- Nos itens que avaliam **Noções de Informática**, a menos que seja explicitamente informado o contrário, considere que todos os programas mencionados estão em configuração-padrão, em português, que o *mouse* está configurado para pessoas destros e que expressões como clicar, clique simples e clique duplo referem-se a cliques com o botão esquerdo do *mouse*. Considere também que não há restrições de proteção, de funcionamento e de uso em relação aos programas, arquivos, diretórios e equipamentos mencionados.

CONHECIMENTOS BÁSICOS

1 Com exceção de algumas sociedades africanas —
nas quais as mulheres desempenham papéis importantes na
4 vida ritual e econômica —, a maior parte das sociedades
humanas permite mais ampla participação na vida cultural
aos elementos do sexo masculino. Grande parte da vida ritual
do Xingu, por exemplo, é interdita às mulheres. Em alguns
7 segmentos de nossa sociedade, o trabalho fora de casa é
considerado inconveniente para o sexo feminino.

10 É óbvio que a participação de um indivíduo em sua
cultura depende de sua idade. Mas é necessário saber que
essa afirmação permite dois tipos de explicações: uma de
ordem cronológica e outra estritamente cultural.

13 Existem limitações que são objetivamente
determinadas pela idade: uma criança não está apta a exercer
certas atividades próprias de adultos, da mesma forma que
16 um velho já não é capaz de realizar algumas tarefas. Outras
questões estão relacionadas com a determinação de limite
entre as classes etárias, ou seja, como separar adolescentes
19 de adultos sem incorrer em algum tipo de arbitrariedade?

Roque de Barros Laraia. *Cultura – um conceito antropológico*, p. 80-1 (com adaptações).

Acerca da organização das idéias e das estruturas lingüísticas do texto acima, julgue os itens a seguir.

- 1 Depreende-se da argumentação do primeiro parágrafo do texto que a condição social das mulheres no Xingu segue modelos de sociedades africanas.
- 2 Na linha 3, o emprego da vírgula depois do travessão justifica-se por separar a expressão de circunstância deslocada para o início do período, na qual está incluída uma explicação.
- 3 Na linha 6, o uso do sinal indicativo de crase em “às mulheres” deve-se à presença de artigo definido feminino e à exigência de que o complemento de “interditada” seja introduzido pela preposição **a**.
- 4 O emprego do pronome “nossa” (l.7) indica que o autor está se identificando como participante da “vida ritual do Xingu” (l.5-6).
- 5 Segundo as regras de ortografia da língua portuguesa, e sem que se alterem os sentidos do texto, a palavra “segmentos” (l.7) também poderia ser escrita como **seguimentos**.
- 6 Mantém-se a mesma relação de sentidos entre os termos da oração, bem como a correção gramatical do texto, ao se substituir o trecho “para o sexo feminino” (l.8) por **pelo sexo feminino**.
- 7 A expressão “essa afirmação” (l.11) retoma a idéia de que o trabalho fora de casa pode ser considerado inconveniente para as mulheres.
- 8 Na linha 12, a palavra “ordem” tem o mesmo sentido que na seguinte frase: O indivíduo recebe do meio influências de várias ordens.
- 9 No último período do texto, sugere-se que a determinação de limites entre as classes etárias se apóia em critérios culturais.

1 Diferentemente dos anos 70 do século passado, hoje
não existe mais um padrão da mãe trabalhadora. Cada uma
escolhe a melhor maneira de criar os filhos, dependendo das
4 condições. Uma trabalha o dia inteiro e se sentem
realizadas na profissão. Outras argumentam que o bom
mesmo seria trabalhar meio período e estar o outro com a
7 prole. Existem muitas maneiras de demonstrar proximidade
com o filho, seja por um telefonema no meio da tarde, seja
saindo um dia mais cedo para ir buscá-lo na escola.

10 O importante é que, nessa independência feminina,
a criança continue a ser prioridade e que, seja lá qual for a
escolha da mãe, ela possa crescer em um ambiente de
13 confiança e segurança.

Istoé, 9/5/2007 (com adaptações).

A partir das idéias desenvolvidas no texto acima e considerando os aspectos lingüísticos desse texto, julgue os seguintes itens.

- 10 Depreende-se da argumentação do texto que, nos anos 70 do século passado, as mulheres deixavam de trabalhar quando se tornavam mães.
- 11 O uso do plural em “Um” (l.4) e em “Outras” (l.5) respeita as regras gramaticais porque esses termos fazem referência à idéia de cada uma das mães que compõem o “padrão da mãe trabalhadora” (l.2).
- 12 Preservam-se a coerência textual e a correção gramatical ao se deslocar o pronome átono de “se sentem” (l.4) para depois do verbo: **sentem-se**.
- 13 A supressão da palavra “o” antes de “bom mesmo” (l.5-6) provocaria incorreção gramatical e prejudicaria a coerência textual.
- 14 Na linha 6, o termo “o outro” retoma, por coesão, a idéia expressa pela palavra “período”.
- 15 Mantendo-se as relações de sentido originais do texto, seria correta a inserção de **Por isso** antes de “Existem” (l.7), fazendo-se o ajuste na inicial maiúscula.

O que afasta o brasileiro do trabalho

- 1 Em 2006, o governo concedeu 140.000 auxílios-doença acidentários. O benefício é dado a quem precisa se afastar do trabalho por, no máximo, quinze dias, em função de problemas de saúde. Uma compilação de estudos da Universidade de Brasília mostra quais são os males que mais levam os brasileiros a se ausentar do emprego e as ocupações em que esses males são mais freqüentes.

A		B	
INCIDÊNCIA DOS PRINCIPAIS PROBLEMAS QUE CAUSAM AFASTAMENTO (a cada 10.000 empregados)		O QUE AFASTA CADA PROFISSIONAL	
dores na região dorsal	38	controladores de voo	depressão e estresse
traumatismo do punho ou da mão	28	motoristas de caminhão	dores musculares
tendinites	24	dentistas	dores nas costas, ombro e braço
traumatismo de joelho ou perna	18	professores	problemas de voz
depressão, transtorno bipolar	15	funcionários de hotéis	dores nas costas e problemas nas articulações



Veja, 4/7/2007 (com adaptações).

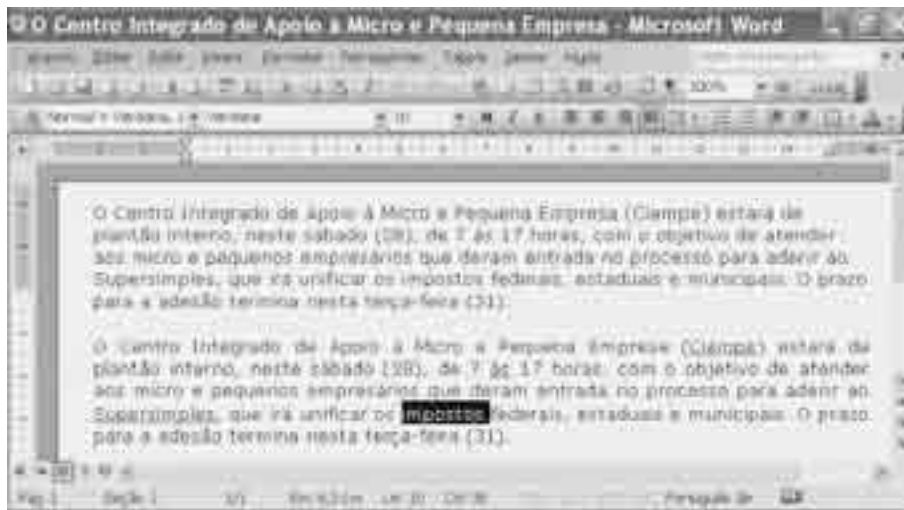
Com base nas informações do texto e das tabelas acima, julgue os itens que se seguem.

- 16 Está de acordo com as regras gramaticais da língua e coerente com a argumentação do texto a seguinte reescrita para o segundo período do texto (l.1-2):
Recebe o benefício quem, por problemas de saúde, precisa afastar-se do trabalho por, no máximo, quinze dias.
- 17 Preservam-se a coerência textual e o respeito às regras de concordância ao se retirar do texto a expressão “Uma compilação de” (l.2), usando-se inicial maiúscula em “estudos” (l.2).
- 18 A tabela A mostra como foram proporcionalmente distribuídos, pelos principais problemas que causam afastamento do trabalho, os auxílios-doença de que trata o texto inicial.
- 19 Os problemas de saúde dos professores registrados na tabela B correspondem ao terceiro problema mais freqüente entre os listados na tabela A.
- 20 Sendo considerada a afirmação do texto “ocupações em que esses males são mais freqüentes” (l.3-4), a tabela B mostra que dentistas e funcionários de hotéis apresentam problemas de saúde semelhantes para se afastarem do trabalho.




Um usuário acessou a página *web* do município de Cariacica, ilustrada na figura acima, por meio de uma rede ADSL, utilizando o navegador Internet Explorer, versão 6.0 (IE6), a partir de um microcomputador cujo sistema operacional é o Windows XP. Com base nessas informações, julgue os itens a seguir, relativos a Internet, correio eletrônico e navegadores.

- 21 Se o referido usuário tiver permissão, ao clicar o *link* **Webmail**, ele terá acesso a uma interface da Internet para ler e escrever *e-mails* usando o navegador.
- 22 A figura  indica que o IE6 qualifica a página exibida como segura.
- 23 Se o usuário clicar o botão , a página será recortada e poderá ser colada em um documento do Word.
- 24 Utilizando-se o Outlook Express, é possível encaminhar a página do município de Cariacica anexa a uma mensagem de correio eletrônico.
- 25 O ADSL é um protocolo que permite a navegação na rede mundial de forma rápida e totalmente segura.





Considerando a figura acima, que apresenta um texto em edição no Microsoft Word 2003, julgue os itens que se seguem.

- 26 O segundo parágrafo pode ter sido feito por meio dos recursos Copiar e Colar do menu **Editar**.
- 27 A palavra “impostos”, que está selecionada no texto, está formatada com letra do tipo normal e tamanho 10.
- 28 O primeiro parágrafo do texto está formatado com alinhamento esquerdo, enquanto o segundo está com alinhamento justificado.
- 29 Para fazer a correção da grafia somente no primeiro parágrafo, é suficiente selecioná-lo e clicar a ferramenta .

REGIAO	DEMANDA	COTA (R\$)
1	Dren. e Pav. da Rua das Torres (Fiscal II)	
2	Dren. e Pav. da Rua São João (Bela Vista)	
4	Dren. e Pav. da Rua Vicente Santório (Modelo)	1.209.000,00
	Dren. e Pav. da Rua Paulo Nascimento (REGIONAL - Bairros Contemplados: Santo Antônio e Campo Verde)	1.000.000,00
5	Dren. e Pav. do Trecho da Rodovia José Sette até a BR 101 (REGIONAL)	942.000,00
7	Dren. e Pav. da Rua Vicente Santório Ramos (trecho de Vera Cruz)	
	Pav. das Ruas Andersonia, Tucano e Papagaio (REGIONAL - Bairros Contemplados: São Conrado, São Gerardo, Vera Cruz e Boa Sorte)	
8	Pav. da Rua Pais Magos com construção da escadaria (REGIONAL - Bairros Contemplados: Santa Luzia, Via Palestina, São Francisco)	916.000,00
	Dren. e Pav. da Rua Manoel Laurentino (REGIONAL - Bairros Contemplados: Boa Vista, Itaquê e Sistema)	
10	Dren. e Pav. do Meio da Companhia, que inclui Ruas Diamantina, Nívis e Alameda Ipiranga (REGIONAL)	

A figura acima apresenta parte do orçamento participativo da cidade de Cariacica, reproduzido do sítio da prefeitura dessa cidade e editado no Excel 2003. Considerando essas informações e a referida figura, julgue os seguintes itens.

- 30 As informações mostradas são insuficientes para se afirmar que o nome do arquivo que contém a referida planilha é Pasta 1.
- 31 As células A2, A3 e A4 podem ter sido mescladas por meio da ferramenta associada ao botão , que, além disso, possibilita a formatação de fontes.
- 32 Para centralizar verticalmente o número 1.209.000,00, é suficiente clicar, sucessivamente, a célula C1 e o botão .

Com relação a procedimentos para a realização de cópias de segurança e a sistemas de arquivo, julgue os itens a seguir.

- 33** Para se criar a cópia de um arquivo de determinada planilha do Excel, é necessário fazer a compactação do arquivo por meio do ZIPDriver.
- 34** *Pendrive* é um dispositivo de armazenamento constituído por uma memória *flash* e um adaptador USB para interface com o computador.
- 35** Utilizando-se o Windows Explorer, é possível criar, no máximo, três subpastas em uma pasta já existente.

Existe uma armadilha, no caminho do Brasil, montada por quem não tem interesse na construção de um modelo alternativo de geração de energia. E adotada pelos líderes de países que integram um eixo de esquerda na América Latina, que segue de La Paz a Havana, com epicentro em Caracas. Esses líderes não têm perdido oportunidade de combater o programa brasileiro de produção de etanol, sob o argumento de que as terras destinadas ao plantio de cana-de-açúcar poderiam ser utilizadas para a produção de alimentos.

Os produtores brasileiros de cana estão longe de ser os heróis descritos pelo presidente Lula. Muitas vezes agridem o meio ambiente, derrubam matas nativas, ocupam áreas antes usadas em outras culturas e até mesmo, em alguns casos, utilizam mão-de-obra em regime próximo ao escravo. Nem sempre os que arremessam pedras contra o Brasil compraram seus estilingues nas lojas do Greenpeace. Os ataques à produção de etanol cresceram depois que o Brasil e os Estados Unidos da América (EUA) firmaram protocolo de entendimento sobre a criação de um mercado mundial para o álcool, que pode vir a beneficiar os dois países — mas também o meio ambiente global.

Marcos Magalhães. *Armadilha latina*. In: *Jornal do Brasil*, 27/8/2007, p. D2 (com adaptações).

Tendo o texto acima como referência inicial e considerando as múltiplas implicações do tema por ele abordado, além do atual cenário latino-americano, julgue os itens que se seguem.

- 36** O fato de ser um grande produtor mundial de petróleo pode explicar a razão pela qual a Venezuela não vê com bons olhos o programa brasileiro de produção de etanol.

- 37** O texto sugere que Bolívia e Cuba incentivam o Brasil a prosseguir e expandir seu programa de produção de biocombustíveis.
- 38** A afinidade ideológica — de esquerda — com o atual governo brasileiro explica o apoio de Fidel Castro, Evo Morales e Hugo Chávez às pretensões do Brasil de ampliar sua produção de álcool combustível.
- 39** O presidente Lula chegou a elogiar, com eloquência, o papel, na economia brasileira, dos produtores de cana-de-açúcar.
- 40** Uma das críticas feitas ao programa brasileiro para a produção de etanol refere-se à expansão da monocultura açucareira em prejuízo das áreas disponíveis para a produção de alimentos.
- 41** A tradicional preocupação com o meio ambiente é característica marcante da agroindústria açucareira brasileira.
- 42** Nos últimos anos, o poder público tem desenvolvido programa de combate a toda e qualquer forma de trabalho escravo no Brasil.
- 43** Mencionado no texto, o Greenpeace é uma das mais conhecidas organizações não-governamentais voltadas para a defesa do meio ambiente em escala mundial.
- 44** Infere-se do texto que, na atualidade, nem vantagens econômicas recíprocas conseguem aproximar Brasil e EUA.
- 45** Em sua recente viagem ao México e a países da América Central, o presidente Lula procurou destacar as vantagens da tecnologia brasileira para a produção de biocombustíveis.
- 46** Comparado aos combustíveis derivados de petróleo, o etanol produzido a partir da cana-de-açúcar é menos poluente.
- 47** Uma forma de atenuar o aquecimento global é a redução do volume de gases ampliadores do efeito estufa emitidos na atmosfera.
- 48** O Brasil é, hoje, o único país a produzir uma fonte de energia alternativa ao petróleo.
- 49** Fator de degradação ambiental, as queimadas provocadas pelo homem foram abolidas no Brasil graças à rígida legislação adotada pelo país há alguns anos.
- 50** Por causa de seus efeitos nocivos ao meio ambiente, o petróleo está deixando rapidamente de ser utilizado no sistema produtivo mundial.

CONHECIMENTOS ESPECÍFICOS

balancete de verificação (saldos em R\$ 1.000)						
n.º	conta	saldo		n.º	conta	saldo
1	títulos a pagar	33		38	provisão para contingências trabalhistas e tributárias	21
2	Internet a pagar	1		39	debêntures a receber de longo prazo	22
3	despesa de telefone	1		40	financiamentos a pagar de longo prazo	22
4	despesa de assinatura de revistas	1		41	reserva legal	23
5	telefone a pagar	2		42	seguros antecipados	23
6	condomínio a pagar	2		43	adiantamento de salários	25
7	despesa de energia	2		44	mercadorias para revenda	25
8	despesa de material de escritório	2		45	depreciação acumulada	25
9	energia a pagar	3		46	provisão para perda de estoques	26
10	encargos a recolher	3		47	cheques a receber	32
11	impressoras	3		48	tributos sobre vendas	32
12	despesa de água e esgoto	3		49	fundos de investimentos	33
13	despesa de material de limpeza	3		50	terrenos	33
14	aluguel a pagar	4		51	debêntures emitidas com pagamento em curto prazo	34
15	despesa de manutenção e conservação	4		52	prédios	36
16	despesa de aluguel	5		53	gastos na implantação de novas instalações	36
17	impostos a recolher	8		54	ágio na emissão de debêntures	43
18	provisão para perda de investimentos	9		55	tratores e implementos	43
19	despesas financeiras	9		56	empréstimos a pagar	44
20	fornecedores	10		57	assinaturas antecipadas	48
21	seguros a pagar	11		58	material de escritório	48
22	provisão para devedores duvidosos	11		59	amortização acumulada	56
23	computadores	11		60	cartão de crédito a receber	65
24	despesas diversas	11		61	empréstimos a pagar de longo prazo	65
25	material de limpeza	13		62	capital social	66
26	títulos a receber de longo prazo	13		63	gastos no desenvolvimento de novos produtos	77
27	casas	13		64	títulos a receber	85
28	deságio na emissão debêntures de curto prazo	14		65	equipamentos de telecomunicações	85
29	aluguel antecipado	14		66	impostos a pagar em longo prazo	86
30	aparelhos de ar condicionado	14		67	custo da mercadoria vendida	110
31	devolução de vendas	14		68	contas a receber	114
32	salários a pagar	15		69	receitas financeiras	160
33	empréstimos a diretores	15		70	imposto de renda e contribuição social sobre lucro	167
34	investimentos em mercado futuro	16		71	ações de outras companhias	200
35	despesa de salários	18		72	equivalência patrimonial credora	260
36	honorários a pagar	19		73	banco	330
37	veículos	20		74	receita bruta de vendas	356

Considerando o balancete de verificação acima apresentado, julgue os itens que se seguem, acerca da análise econômico-financeira e da elaboração das demonstrações contábeis segundo a Lei n.º 6.404/1976 e legislação complementar.

- 51 O índice de liquidez seca é maior do que 2.
- 52 O índice de liquidez imediata é menor do que 2.
- 53 O passivo exigível em longo prazo totaliza R\$ 213.000,00.
- 54 Caso a empresa incorresse em despesas financeiras no período, no valor de R\$ 52.000,00, a margem de lucro antes da apuração dos tributos federais, com tributação pelo lucro real, seria reduzida em 60%.

item	valor (R\$)
custos e despesas fixas	30.000,00
custos variáveis unitários	50,00
preço de venda unitário	130,00

RASCUNHO

Considerando os dados da tabela acima relativos a determinada indústria, julgue os itens subseqüentes, a respeito da relação custo-volume-lucro dessa indústria.

- 55 O ponto de equilíbrio contábil obtido a partir dos dados em apreço é superior a 350 unidades.
- 56 Caso a margem de contribuição da empresa em questão aumente em 20%, seu ponto de equilíbrio contábil será reduzido para 320 unidades.
- 57 Caso as despesas e os custos fixos da referida indústria sejam reduzidos em 50%, seu ponto de equilíbrio contábil será menor que 190 unidades.

mão-de-obra direta	12.000,00
matéria-prima consumida	50.000,00
componentes diretos	40.000,00
custos indiretos fixos	60.000,00
despesas indiretas fixas	40.000,00

Considerando os dados da tabela acima, que mostra os custos e despesas, em reais, de uma empresa, relativos à produção e venda de 10.000 unidades do produto X em determinado período, julgue os itens a seguir.

- 58 O custo variável unitário do produto X é menor que R\$ 12,00.
- 59 Caso a empresa praticasse um preço de venda do produto X de maneira uniforme no valor unitário de R\$ 24,00, então, o lucro obtido corresponderia a R\$ 38.000,00.
- 60 Caso a empresa utilizasse uma política de vendas mais agressiva e reduzisse o preço de venda unitário do produto X para R\$ 15,00, o ponto de equilíbrio contábil seria maior do que 20.000 unidades.
- 61 Ao adotar um preço de vendas de R\$ 30,00 por unidade do produto X e uma venda de 13.000 unidades, mantidas as demais variáveis, o lucro obtido pela empresa seria de R\$ 130.500,00.
- 62 O acréscimo no preço de venda reflete, na mesma proporção, o montante de lucro operacional auferido na operação.
- 63 Ao aumentar a produtividade para 30.000 unidades por período, a empresa poderá reduzir seu preço de venda unitário para R\$ 20,00 e obter um lucro final maior que R\$ 190.000,00, desde que venda todas as 30.000 unidades produzidas.

Acerca da análise custo-volume-lucro e suas implicações, julgue os itens que se seguem.

- 64** Ao utilizar a análise custo-volume-lucro, a empresa obtém informações sobre o volume a ser vendido para cobrir todos os seus custos e despesas. Sem a utilização de sistema de controle paralelo, é improvável que a empresa determine, com exatidão, o volume que deverá ser vendido para atingir um lucro esperado.
- 65** Ao determinar o ponto de lucro máximo, a empresa, não determinará, necessariamente, o ponto máximo de vendas. Tal situação decorre da possibilidade de ocorrência de rendimentos decrescentes.

Acerca da consolidação das demonstrações contábeis e da utilização de indicadores para a análise das empresas, julgue os itens subseqüentes.

- 66** Ao se registrar o recebimento de recursos de longo prazo, o índice de liquidez corrente sofrerá acréscimo e o índice de liquidez geral não sofrerá alterações.
- 67** Com o intuito de manter a liquidez, a empresa deverá optar pela captação de empréstimos de longo prazo com carência, de preferência. Assim, a capacidade de pagamento de suas dívidas de curto prazo aumentará, mesmo com o aumento de seu índice de endividamento.
- 68** Ao captar recursos de coligadas, a empresa registrará um passivo e um disponível em sua contabilidade. A consolidação das demonstrações contábeis deverá excluir esta operação para não interferir no saldo final dos grupos de contas.

Julgue os itens seguintes, relativos às metodologias de apuração de estoque e aos sistemas de controle de estoques e suas peculiaridades.

- 69** Ao se utilizar o UEPS como controle de estoques, pelo sistema permanente, o valor do estoque final das mercadorias disponíveis para revenda será menor, em relação ao uso do PEPS, em uma economia inflacionária.
- 70** A média ponderada móvel é utilizada em postos de combustíveis, principalmente pela dificuldade de segregar os estoques disponíveis. Apesar da restrição da legislação fiscal vigente, os postos de gasolina utilizam tal controle para finalidade gerencial.
- 71** A utilização do UEPS como controle de estoques só é permitida pela legislação vigente no caso de sistemas periódicos de controle de estoques.

Julgue os itens a seguir, referentes à apuração do custo de mercadorias para revenda.

- 72** Ao utilizar o sistema de controle de estoques permanente, a empresa obtém o saldo de mercadorias disponíveis para revenda somente ao efetuar o registro de uma nova compra de mercadorias.
- 73** Ao efetuar o registro da venda de mercadorias à vista, de acordo com o sistema de controle permanente, a empresa reduzirá o estoque de mercadorias disponíveis para revenda e aumentará o saldo do ativo circulante disponível, mesmo que a venda seja feita com prejuízo. A apuração do custo da mercadoria vendida (CMV) é imediata e proporciona a visualização da margem bruta de lucro da operação.

Acerca da contabilização dos investimentos em sociedades e seu reflexo no patrimônio, julgue os itens seguintes.

- 74** No caso de um investimento em coligadas ter sido avaliado pelo método de custo e de o seu resultado corresponder a R\$ 20.000,00, com distribuição de 50% dos lucros, o lançamento correto, em reais, na investidora que detenha 15% do patrimônio líquido da investida, será o seguinte:
- D Lucros ou Prejuízos acumulados 1.500
C Caixa 1.500
- 75** Ao utilizar o método de custo como referência para a contabilização de investimentos, a empresa investidora contabilizará em seu ativo circulante somente a proporção do montante de recursos distribuídos pela investida. Assim, os lucros retidos pela investida não interferem no saldo do ativo circulante da investidora.

A adoção de um plano de contas único tem o propósito de atender, de maneira uniforme e sistematizada, ao registro contábil dos atos e fatos que afetam ou possam vir a afetar o patrimônio público. Acerca da estrutura e classificação das contas na administração pública, julgue os itens subseqüentes.

- 76** As contas de receitas e de despesas estão entre as classes de contas de resultado.
- 77** No passivo, onde estão registradas as obrigações, as contas estão dispostas em ordem decrescente do grau de liquidez.
- 78** O ativo compensado e o passivo compensado compreendem as contas com função precípua de controle, que possam vir a afetar o patrimônio público.

Considere que a unidade gestora de determinado instituto de previdência adquira um veículo para uso próprio. Em face dessa situação, julgue os itens seguintes quanto ao registro contábil que deve ser feito no momento do recebimento do veículo.

- 79** A unidade gestora deve fazer um lançamento contábil no sistema patrimonial, em função da incorporação do ativo.
- 80** Não deverá ser efetuado nenhum lançamento no sistema orçamentário, mesmo sendo esse o momento do fato gerador.
- 81** O efeito da compra do veículo será nulo para fins de apuração do resultado do exercício, já que se trata de uma despesa de capital.

Os resultados gerais do exercício serão demonstrados no balanço orçamentário, no balanço financeiro, no balanço patrimonial e na demonstração das variações patrimoniais. Com relação ao conteúdo e à estrutura dessas demonstrações, julgue os itens subseqüentes.

- 82** O balanço financeiro demonstra as receitas e despesas previstas em confronto com as receitas realizadas.
- 83** A demonstração das variações patrimoniais indica o resultado patrimonial do exercício.
- 84** As contas de compensação são demonstradas no balanço patrimonial.

Os créditos adicionais são autorizações de despesas não computadas ou insuficientemente dotadas na Lei de Orçamento. Acerca das características dos créditos adicionais, julgue os itens subseqüentes.

- 85** Os créditos adicionais são classificados em créditos suplementares, créditos especiais e créditos extraordinários.
- 86** Os créditos adicionais terão vigência adstrita ao exercício financeiro em que forem abertos, salvo expressa disposição legal em contrário, quanto aos suplementares.

O planejamento orçamentário é efetuado com três instrumentos básicos: o Plano Plurianual (PPA), a Lei das Diretrizes Orçamentárias (LDO) e a Lei Orçamentária Anual (LOA). No que tange à elaboração do orçamento e às características desses instrumentos, julgue os itens a seguir.

- 87** A vigência do PPA estende-se até o início do primeiro exercício financeiro subseqüente ao mandato do chefe do Poder Executivo.
- 88** A iniciativa nas matérias de natureza orçamentária é do Poder Legislativo, mas a competência é do Poder Executivo.
- 89** A LOA é constituída por três orçamentos: fiscal, seguridade social e investimentos das empresas.
- 90** A LDO deverá ser acompanhada pelos anexos de metas fiscais e de riscos fiscais.

O orçamento público surgiu para atuar como instrumento de controle das atividades financeiras do governo. Entretanto, para a real eficácia desse controle, é necessário que a constituição orgânica do orçamento se vincule a determinadas regras ou princípios orçamentários, que formam os pilares de uma boa gestão dos recursos públicos. Acerca dos princípios orçamentários previstos na Lei n.º 4.320/1964, julgue os itens a seguir.

- 91** O princípio da unidade dispõe que as previsões de receita e despesa devem fazer referência, sempre, a um período limitado de tempo.
- 92** Segundo o princípio da universalidade, as despesas devem ser classificadas de forma detalhada para facilitar sua análise e compreensão.

Para fins de apreciação da proposta orçamentária, do acompanhamento e da fiscalização orçamentária, o governo vem ao longo dos anos desenvolvendo sistemas que permitam consultas aos seus dados, como o Sistema Integrado de Administração Financeira do Governo Federal (SIAFI) e o Sistema Integrado de Dados Orçamentários (SIDOR). Acerca da função desses sistemas, julgue os itens subseqüentes.

- 93** O SIAFI é o principal instrumento de gestão da Secretaria do Tesouro Nacional, que, por seu intermédio, realiza o acompanhamento e o controle de toda a execução orçamentária e financeira do governo federal.
- 94** O SIDOR representa um conjunto de procedimentos, justapostos entre si, com a incumbência de cuidar do processamento de cunho orçamentário, por meio de computação eletrônica, cabendo sua supervisão à Secretaria de Orçamento Federal.

Publicada a LOA e observadas as normas de execução orçamentária e de programação financeira para o exercício, as unidades orçamentárias estarão em condições de utilizar seus créditos (dotações orçamentárias). Com relação à execução da despesa pública, julgue os itens que se seguem.

- 95** A referida execução dá-se em quatro estágios: previsão, lançamento, arrecadação e recolhimento.
- 96** Quando não paga até o encerramento do exercício financeiro, e desde que atenda aos requisitos previstos em legislação específica, a despesa pode ser inscrita como restos a pagar.

No desempenho de suas atribuições, o Tribunal de Contas da União recebe, periodicamente, uma parte da documentação contábil e outros demonstrativos relativos à atuação das unidades da administração pública federal sujeitas à sua jurisdição, que são apreciados sob a forma de tomadas e prestação de contas. Essas contas são analisadas sob os aspectos de legalidade, legitimidade, economicidade, eficiência e eficácia, após o que são julgadas regulares, regulares com ressalvas, irregulares ou ilíquidáveis. Julgue o item a seguir, acerca das contas regulares com ressalvas.

- 97** Contas regulares com ressalvas são aquelas em que o julgamento de mérito é impossível devido a caso fortuito ou força maior.

Em certos casos especiais, é permitida a contratação direta por meio de dispensa e inexigibilidade de licitação, desde que preenchidos os requisitos estabelecidos pela Lei n.º 8.666/1993, que instituiu as normas para licitações e contratos da administração pública. Acerca da inexigibilidade de licitação, julgue o item que se segue.

- 98** Sua opção deve-se, quase sempre, aos custos, que não podem ultrapassar os benefícios advindos de um processo licitatório.

A Lei n.º 101/2000, conhecida como Lei de Responsabilidade Fiscal (LRF), fixou normas de finanças públicas voltadas para a responsabilidade na gestão fiscal, estabelecendo metas de resultados e obediência a limites de gastos. Julgue o item seguinte, a respeito da preservação do patrimônio público de acordo com a LRF.

- 99** É vedada a aplicação da receita de capital derivada da alienação de bens e direitos que integram o patrimônio público para o financiamento de despesa corrente, salvo se destinada por lei aos regimes de previdência social, geral e próprio dos servidores públicos.

Considere os seguintes dados, extraídos do balanço orçamentário de determinado instituto de previdência.

receita (em R\$)				despesa (em R\$)			
títulos	previsão	execução	diferenças	títulos	fixação	execução	diferenças
corrente	500.000	360.000	-140.000	orçamentários e suplementares	800.000	560.000	-240.000
capital	300.000	240.000	-60.000	soma	800.000	560.000	-240.000
soma	800.000	600.000	-200.000	superavit	0	40.000	40.000
deficit	0	0	0	total	800.000	600.000	-200.000
total	800.000	600.000	-200.000				

A partir dos dados apresentados, julgue o item abaixo.

100 É correto afirmar que o resultado orçamentário do exercício foi deficitário.

Um grupo de assistentes sociais foi contratado para levantar os dados necessários à elaboração de uma pesquisa socioeconômica. Sabe-se que 5 desses assistentes sociais, em 3 horas de trabalho, são capazes de coletar 45% dos dados necessários e que todos os membros do grupo trabalham com a mesma eficiência.

Com base nessas informações, julgue os itens a seguir.

- 101** A colaboração de 6 membros do grupo permitiria, em duas horas e meia de trabalho, a coleta de 45% dos dados necessários à pesquisa.
- 102** Em 4 horas de trabalho, 7 membros do grupo são capazes de coletar mais de 80% dos dados necessários à pesquisa.
- 103** Para coletar todos os dados necessários à pesquisa, 8 membros do grupo precisariam trabalhar menos de 4 horas.

Considere que um capital de R\$ 5.000,00 tenha sido aplicado em um fundo de investimentos por quatro meses. Considere, ainda, que o sistema de capitalização seja mensal, e os juros, compostos.

Tomando 1,0074 como valor aproximado para $1,03^{\frac{1}{4}}$ e 1,06 como valor aproximado para $1,015^4$, e desconsiderando taxas e impostos, julgue os itens seguintes.

- 104** Se o montante obtido ao final dos 4 meses de aplicação tiver sido de R\$ 5.150,00, então o montante obtido ao final do primeiro mês de aplicação era inferior a R\$ 5.030,00.
- 105** Se o fundo de investimentos pagou juros compostos de 1,5% ao mês, então o montante ao final do 4.º mês superou R\$ 5.200,00.

RASCUNHO

Considere a situação em que Renato tenha descontado uma promissória de R\$ 2.000,00 que venceria em 2 meses, em um banco que pratica a taxa de desconto comercial simples (por fora) de 8% ao mês. Supondo que $\sqrt{\frac{25}{21}} = 1,09$, julgue os itens subsequentes, relativos a essa situação.

106 Pelo título descontado, Renato recebeu menos de R\$ 1.600,00.

107 O valor cobrado pelo banco para descontar o título corresponde à prática de uma taxa mensal de juros compostos superior a 8,8%.

Considere que um capital de R\$ 20.000,00 tenha sido aplicado em um fundo de investimentos, pelo período de um ano, com capitalização mensal e a determinada taxa de juros compostos. Considere, ainda, que, ao final dos 12 meses, o montante tenha sido de R\$ 22.540,00. Nessa situação, tomando-se 1,01 como valor aproximado para $1,127^{\frac{1}{12}}$, julgue os itens que se seguem.

108 A taxa nominal anual dessa aplicação foi inferior a 11,5%.

109 A taxa efetiva anual dessa aplicação foi superior a 12%.

Considerando que, em determinado ano, a taxa de inflação tenha ficado em 25%, julgue os itens a seguir acerca de um investimento com capitalização anual realizado nesse ano.

110 Se a taxa real de juros que capitalizava o investimento tiver sido de 8% ao ano, então a taxa aparente de juros foi inferior a 30% ao ano.

111 Se a taxa aparente de juros tiver sido de 40% ao ano, então a taxa real de juros desse investimento foi superior a 13%.

RASCUNHO

Julgue os itens seguintes.

112 Considere que um título de valor nominal igual a R\$ 30.000,00 tenha sido descontado 2 meses antes do seu vencimento. Considere, ainda, que o banco que processou o desconto cobra 4% do valor nominal a título de taxa de administração e que a taxa de desconto praticada por esse banco seja a comercial simples de 8% ao mês. Nessa situação, o custo efetivo da transação, em termos da taxa mensal, foi superior a 12%.

113 Considere que um investimento produza o fluxo de caixa mostrado na tabela a seguir.

data (mês)	entradas (R\$)	saídas (R\$)
0	0	2.000,00
1	1.500,00	3.000,00
2	4.000,00	0

Nesse caso, a taxa interna de retorno — i — desse investimento satisfaz à seguinte equação: $4(1+i)^2 + 3(1+i) - 8 = 0$.

114 Considere que, ao colocar um terreno à venda, o proprietário tenha anunciado que aceitaria uma das seguintes opções de pagamento:

I pagamento à vista, no valor de R\$ 100.000,00;

II pagamento de R\$ 50.000,00 no ato da compra e mais R\$ 80.000,00 um ano após a compra.

Nessa situação, supondo-se que haja uma aplicação que paga juros compostos líquidos de 4% ao mês e tomando-se 0,62 como valor aproximado para $1,04^{-12}$, então a melhor opção para o comprador é a opção I.

115 Considere que a importância de R\$ 60.000,00 tenha sido tomada como empréstimo e deva ser quitada em 9 prestações anuais iguais e consecutivas, pelo sistema francês de amortização (SFA). Considere, ainda, que a primeira prestação vença em um ano após a tomada do empréstimo e a taxa de juros do financiamento seja a composta e de 4% ao ano. Nessa situação, tomando-se 0,70 como valor aproximado para $1,04^{-9}$, é correto afirmar que a primeira amortização será inferior a R\$ 5.700,00.

RASCUNHO

Considere que a compra de um microcomputador que custa R\$ 4.620,00 à vista tenha sido financiada em 12 prestações mensais iguais e consecutivas, à taxa de juros compostos de 5% ao mês. Tomando-se 0,56 como valor aproximado para $1,05^{-12}$, julgue os itens subseqüentes.

116 Se a primeira prestação da referida compra for paga um mês após a compra (postecipada), então o valor dessa prestação será inferior a R\$ 520,00.

117 Se a primeira prestação for paga na data da compra, como entrada (antecipada), então o valor dessa prestação será superior a R\$ 510,00.

Considere que a quantia de R\$ 42.000,00 tenha sido financiada utilizando-se o sistema de amortização constante (SAC), à taxa de juros compostos de 2% ao mês. Considere, ainda, que o financiamento tenha sido quitado em prestações mensais e consecutivas, e a primeira tenha vencido um mês após a tomada do empréstimo. Nessa situação, supondo que o valor da amortização tenha sido de R\$ 2.800,00, julgue os itens que se seguem.

118 O prazo do financiamento foi inferior a 16 meses.

119 O valor da primeira prestação foi inferior a R\$ 3.600,00.

120 O valor dos juros pagos na segunda prestação foi inferior a R\$ 800,00.

RASCUNHO