

CONCURSO PÚBLICO
Nível Médio

Cargo 6:

**TÉCNICO ADMINISTRATIVO
PREVIDENCIÁRIO**

**Caderno
Branco**

TARDE

LEIA COM ATENÇÃO AS INSTRUÇÕES ABAIXO.

- 1 Ao receber este caderno, confira atentamente se o tipo de caderno — Caderno Branco — coincide com o que está registrado em sua folha de respostas. Em seguida, verifique se ele contém cento e vinte itens, correspondentes às provas objetivas, corretamente ordenados de 1 a 120.
- 2 Caso o caderno esteja incompleto ou tenha qualquer defeito, solicite ao fiscal de sala mais próximo que tome as providências cabíveis.
- 3 Não utilize lápis, lapiseira, borracha e(ou) qualquer material de consulta que não seja fornecido pelo CESPE/UnB.
- 4 Não se comunique com outros candidatos nem se levante sem autorização do chefe de sala.
- 5 Recomenda-se não marcar ao acaso, cada item cuja resposta diverja do gabarito oficial definitivo receberá pontuação negativa, conforme consta em edital.
- 6 A duração das provas é de **três horas e trinta minutos**, já incluído o tempo destinado à identificação — que será feita no decorrer das provas — e ao preenchimento da folha de respostas.
- 7 Você deverá permanecer obrigatoriamente em sala por, no mínimo, uma hora após o início das provas e poderá levar o seu caderno de provas somente no decurso dos últimos **quinze minutos** anteriores ao horário determinado para o término das provas.
- 8 Ao terminar as provas, chame o fiscal de sala mais próximo, devolva-lhe a sua folha de respostas e deixe o local de provas.
- 9 A desobediência a qualquer uma das determinações constantes no presente caderno ou na folha de respostas poderá implicar a anulação das suas provas.

AGENDA (datas prováveis)

- I 25/9/2007, após as 19 h (horário de Brasília) — Gabaritos oficiais preliminares das provas objetivas: Internet — www.cespe.unb.br/concursos/ipc2007.
- II 26 e 27/9/2007 — Recursos (provas objetivas): exclusivamente no Sistema Eletrônico de Interposição de Recurso, Internet, mediante instruções e formulários que estarão disponíveis nesse sistema.
- III 18/10/2007 — Resultados finais das provas objetivas e do concurso: Diário Oficial do Estado do Espírito Santo e Internet.

OBSERVAÇÕES

- Não serão objeto de conhecimento recursos em desacordo com o item 12 do Edital n.º 1 — IPC, de 22/6/2007.
- Informações adicionais: telefone 0(XX) 61 3448-0100; Internet — www.cespe.unb.br/concursos/ipc2007.
- É permitida a reprodução deste material apenas para fins didáticos, desde que citada a fonte.

- De acordo com o comando a que cada um dos itens de **1 a 120** se refira, marque, na **folha de respostas**, para cada item: o campo designado com o código **C**, caso julgue o item **CERTO**; ou o campo designado com o código **E**, caso julgue o item **ERRADO**. A ausência de marcação ou a marcação de ambos os campos não serão apenadas, ou seja, não receberão pontuação negativa. Para as devidas marcações, use a **folha de respostas**, único documento válido para a correção das suas provas.
- Nos itens que avaliam conceitos de informática, a menos que seja explicitamente informado o contrário, considere que todos os programas mencionados estão em configuração-padrão, em português, que o *mouse* está configurado para pessoas destros e que expressões como clicar, clique simples e clique duplo referem-se a cliques com o botão esquerdo do *mouse*. Considere também que não há restrições de proteção, de funcionamento e de uso em relação aos programas, arquivos, diretórios e equipamentos mencionados.

CONHECIMENTOS BÁSICOS

1 A previdência social é um seguro público cuja
função é garantir que as fontes de renda do trabalhador e de
sua família sejam mantidas quando ele perde a capacidade de
trabalhar por algum tempo (doença, acidente, maternidade)
ou permanentemente (morte, invalidez e velhice). Ela é
responsável pelo pagamento de diversos benefícios ao
trabalhador brasileiro, tais como aposentadoria, salário-
maternidade, salário-família, auxílio-doença, auxílio-acidente
e pensão por morte. Para ser assegurado pela previdência, é
preciso contribuir regularmente com o INSS, que é o caixa
da previdência social, responsável pelas arrecadações das
contribuições e pelo pagamento dos benefícios.

13 Todos os trabalhadores registrados com carteira
assinada são obrigatoriamente protegidos pela previdência
social, e aqueles que não são registrados podem se filiar
espontaneamente, como contribuintes individuais (caso
dos trabalhadores autônomos e empresários) ou como
contribuintes facultativos (caso dos estudantes, das donas de
casa etc.).

Internet: <www.nev.incubadora.fapesp.br> (com adaptações).

Considerando as idéias e os aspectos gramaticais do texto acima, julgue os itens a seguir.

- 1 A família do trabalhador que contribui para a previdência tem a sua fonte de renda assegurada pela previdência social, caso o trabalhador sofra acidente que o impeça de trabalhar definitivamente.
- 2 As mulheres não têm direito a receber o seguro pago pela previdência social durante a licença-maternidade, pois essa é uma obrigação do seu empregador.
- 3 A forma pronominal “Ela” (l.5) substitui a expressão “capacidade de trabalhar” (l.3-4).
- 4 Os termos “previdência”, “família”, “benefícios”, “empresários” acentuam-se graficamente porque são palavras paroxítonas, no singular ou no plural, terminadas em ditongo crescente.
- 5 O primeiro parágrafo delimita, com objetividade, o assunto tratado no texto: a função da previdência social e quem é amparado por ela.

Julgue os próximos itens quanto à correção gramatical.

- 6 As fontes de renda do trabalhador pode ser mantida quando ele perde a capacidade de trabalhar por algum tempo.
- 7 O trabalhador brasileiro, é beneficiado, pelo seguro público pago pela previdência social, se perder a capacidade pelo trabalho.
- 8 O contribuinte assegurado precisa contribuir, regularmente ao INSS, para receber o benefício.
- 9 Diversos benefícios são pagos ao trabalhador brasileiro pela previdência social para garantir a sua fonte de renda, em caso de doença e morte.
- 10 Aqueles que não tem carteira assinada podem filiar-se ao INSS e serem amparados pela previdência social.

Texto para os itens de 11 a 20

1 A previdência social no Brasil está no vermelho, e
nossos idosos não têm garantia de sobrevivência com base na
aposentadoria. O problema é simples: a mecânica de
qualquer sistema de previdência consiste na aplicação das
contribuições dos empregados e empregadores em alguns
investimentos sólidos, que possam garantir o pagamento da
aposentadoria do trabalhador contribuinte.

Como não se sabe como fazer funcionar o milagre da multiplicação dos pães e, sendo inequívoco que os recursos do pagamento dos aposentados vêm de algum lugar, é lógico que os cidadãos, de uma forma geral, pagam os aposentados por meio dos impostos. Entretanto, essa fonte de recursos está atingindo os limites de saturação e, em breve, se não houver uma revolução política, é quase certo que teremos uma revolução social catastrófica, após a qual serão gastos 50 anos, no mínimo, para restabelecer o equilíbrio político e econômico do país, conforme as previsões mais otimistas.

Embora seja dito que apenas alguns poucos cidadãos pagam impostos, é bom que se saiba que o mais miserável dos cidadãos paga, no mínimo, 30% do seu salário em impostos embutidos no preço da luz, do transporte, do vestuário, dos remédios, do arroz, do feijão e até da água que bebe. Assim, claro, os pobres e até os trabalhadores de salário mínimo é que estão custeando as atuais aposentadorias milionárias de alguns poucos e, o mais trágico, sem terem a garantia de poder contar com as suas próprias aposentadorias futuras, embora a tenham pago durante longos e penosos anos.

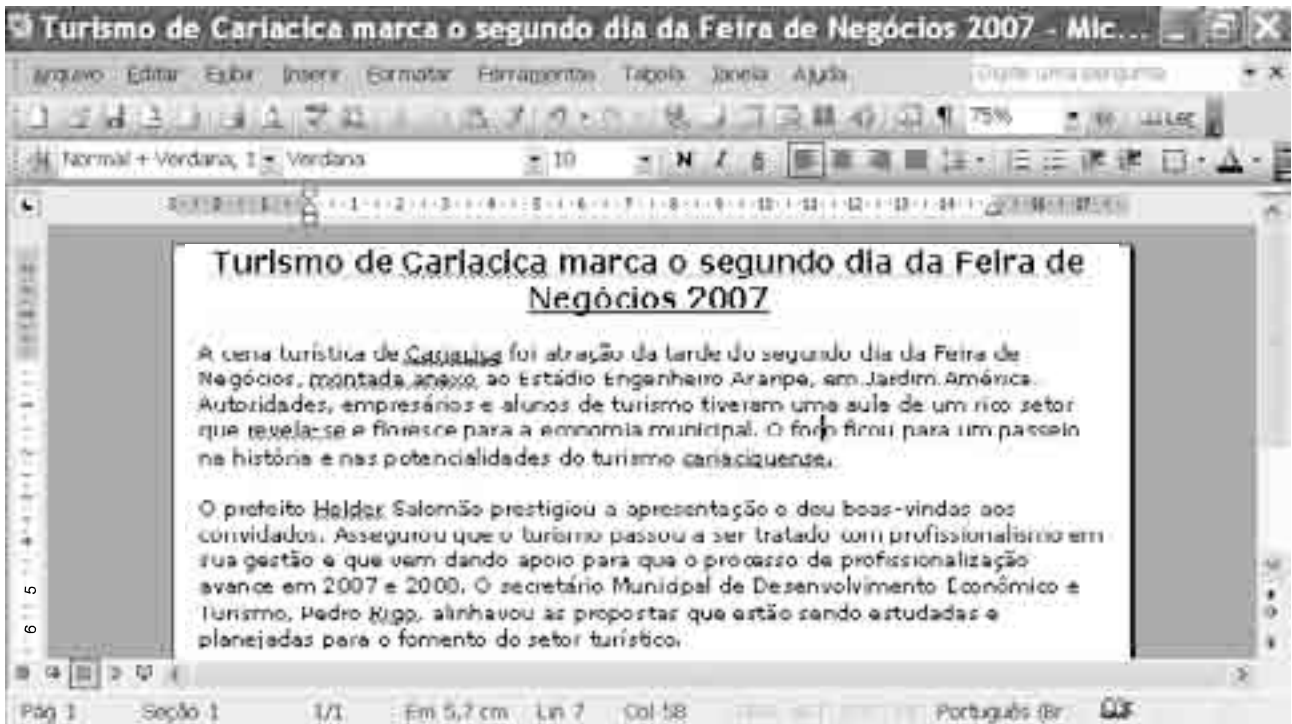
Internet: <www.consumidorbrasil.com.br> (com adaptações).

Com relação aos sentidos do texto, julgue os itens que se seguem.




- 11 No Brasil, os aposentados podem vir a ter dificuldade em viver com os rendimentos provenientes da aposentadoria, porque a previdência social está operando no vermelho.
- 12 Os recursos para o pagamento dos aposentados são, em geral, provenientes dos impostos pagos pelos cidadãos.
- 13 Se não houver uma mudança radical na política da previdência social, esta atingirá os limites da saturação, o que poderá provocar uma situação catastrófica na sociedade brasileira.
- 14 O cidadão mais pobre paga, pelo menos, 30% de seus rendimentos em impostos, que estão incluídos no preço de bens e serviços.
- 15 Os trabalhadores que ganham salário mínimo não serão beneficiados com a aposentadoria em futuro próximo.

Com relação às estruturas lingüísticas do texto, julgue os itens subseqüentes.

- 16 Na linha 3, os dois-pontos introduzem uma explicação.
- 17 Estaria gramaticalmente correta, embora se alterasse o sentido do texto, a substituição do trecho “garantir o pagamento da aposentadoria do trabalhador contribuinte” (ℓ.6-7) pelo seguinte: garantir o pagamento da aposentadoria à trabalhadora contribuinte.
- 18 Ao se deslocar o trecho “Como não se sabe (...) de algum lugar” (ℓ.8-10) para imediatamente após “por meio dos impostos” (ℓ.12), preserva-se o sentido e mantém-se a coerência do período.
- 19 A palavra “revolução” (ℓ.14) expressa a idéia da necessidade de mudanças radicais na política em relação à previdência social.
- 20 Caso o conectivo “Embora” (ℓ.19) seja substituído por **Caso**, mantém-se o sentido original do texto.



Considerando a figura apresentada acima, que contém um texto em edição no Word 2003, julgue os itens a seguir.


- 21 Para se substituir o estilo de fonte sublinhado no título do texto pelo estilo itálico, é suficiente selecioná-lo e clicar o botão .
- 22 O sublinhado abaixo da palavra “Cariacica”, no primeiro parágrafo do texto, indica que o verificador ortográfico encontrou uma palavra que não reconhece. Nesse caso, esse verificador ortográfico pode determinar as palavras que, em seu dicionário, têm semelhança ortográfica com a palavra não-reconhecida, exibindo uma lista delas e realçando aquela que mais se aproxima da palavra em apreço.
- 23 A ferramenta disponibilizada pelo botão  é usada para se aplicar formatação de texto ou alguma formatação gráfica básica, como bordas e sombreadamento.
- 24 É possível copiar formatos, no texto, por meio do botão .

Considerando os conceitos de Internet, *intranet*, correio eletrônico e, ainda, o Internet Explorer 6 (IE6), julgue os itens que se seguem.

- 25 Para se acessar uma página *web*, é essencial que o computador esteja conectado à Internet por meio de tecnologia ADSL.
- 26 O programa Outlook Express permite que se encaminhe a terceiros uma mensagem recebida, incluindo, se for o caso, os anexos nela contidos.
- 27 Para acessar a página *web* do município de Cariacica por meio do navegador IE6, o usuário necessita informar ao programa o endereço de correio eletrônico do referido município.
- 28 O IE6 disponibiliza ferramenta que permite mostrar o histórico dos acessos à Internet.

	A	B	C
1	REGIAO	DEMANDA	COTA (R\$)
2	1	Construção parcial da Galeria do Valeão - Paralela à Rua Bom Pastor (REGIONAL - Bairros Contemplados: Estrela do Sul, Vila Nova, Estrela Daiva e Carajá Verde)	
3		Dren. e Pav. da Rua Porto Seguro (Tradentes)	
4		Dren. e Pav. da Rua Sucupira (Parque Gramado)	
5		Dren. e Pav. da Rua do Colégio (Vila Rica)	990.000,00
6		2	Ampliação da Patrulha Rural Mecanizada - Caminhão Pipa e Mascuantes (REGIONAL)
7	Construção de Câmaras Frias (REGIONAL - A definir com a comunidade)		845.000,00
8	OBRA DA CIDADE	CONSTRUÇÃO DE CMEI (Centro Municipal de Educação Infantil)	1.506.000,00

A figura mostrada acima contém parte do orçamento participativo da prefeitura de Cariacica, que está sendo editado no Excel 2003. Considerando essa figura, julgue os itens subsequentes.

- 29 O valor total da cota, em reais, pode ser obtido usando-se a fórmula =soma(C2;C8).
- 30 O nome da planilha apresentada é Plan1, e o nome do arquivo em que a planilha está armazenada é Orçamento Participativo.xls.
- 31 Os títulos das colunas dessa planilha podem ter sido centralizados selecionando-se as células A1, B1 e C1 e, em seguida, clicando-se o botão .
- 32 Para se inserir uma coluna antes da coluna A, é suficiente selecionar essa coluna e ativar a opção Colunas do menu Inserir.

Acerca dos procedimentos para realização de cópias de segurança e do sistema de arquivos do Windows XP, julgue os itens seguintes.

- 33 Um arquivo de 2 megabytes não pode ser gravado em disquete, pois esse tipo de mídia só possui 1,44 gigabyte de espaço para armazenamento.
- 34 O Windows XP possui um programa específico para criar cópias de segurança, chamado Backup.
- 35 A extensão ZIP indica que o arquivo está compactado.

O Supremo Tribunal Federal (STF) não poupou ninguém. Depois de cinco sessões e de 34 horas reunidos, os ministros encerraram o julgamento de admissibilidade do inquérito do *mensalão*. Com poucas e pontuais divergências, decidiram abrir processo criminal contra cada um dos 40 denunciados pelo procurador-geral da República.

Correio Braziliense, 29/8/2007, p. 2 (com adaptações).

Tendo o texto acima como referência inicial e considerando a abrangência do tema que ele focaliza e aspectos da realidade brasileira contemporânea, julgue os itens que se seguem.

- 36 O STF é a mais alta corte da justiça brasileira.
- 37 Entende-se por *mensalão* uma suposta operação que consistiria no pagamento a partidos e políticos em troca de apoio a projetos governamentais.

- 38 Ao aceitar a denúncia oferecida pelo Ministério Público, o STF transformou os acusados em réus.
- 39 O texto afirma que todos os 40 acusados foram condenados em última instância.
- 40 A decisão do STF foi unânime, isto é, todos os ministros acataram integralmente as denúncias apresentadas.
- 41 O texto sugere que a totalidade dos acusados é constituída por ministros do atual governo.
- 42 Corrupção ativa é a submissão, contra a vontade, à ação de um agente corruptor.

A preocupação mundial com o meio ambiente e o aumento dos preços internacionais do petróleo abriram uma janela de oportunidades sem precedentes para o Brasil no campo dos combustíveis limpos. Hoje, os brasileiros dominam a tecnologia dos chamados biocombustíveis, um mercado em ascensão e que, no momento, faz parte da agenda de discussão de qualquer país preocupado em buscar formas de gerar fontes energéticas renováveis e menos poluentes, a preços mais competitivos que os dos combustíveis derivados do petróleo.

Gazeta Mercantil, Suplemento Especial: Biocombustíveis, 15/8/2007, capa.

Tendo o texto acima como referência inicial e considerando aspectos marcantes do cenário econômico, energético, ambiental, científico e tecnológico do mundo contemporâneo, julgue os itens seguintes.

- 43 Na atualidade, o tema da proteção ambiental tornou-se exclusivo dos países ricos.
- 44 O Brasil é considerado hoje uma economia emergente no panorama mundial.
- 45 O petróleo é considerado o mais limpo dos combustíveis.
- 46 Por ser essencial à economia contemporânea, o petróleo tem seu preço estável.
- 47 A EMBRAPA é exemplo de instituição brasileira que ganhou projeção nacional e internacional na área científico-tecnológica.
- 48 Os biocombustíveis são considerados fontes energéticas menos poluentes que os combustíveis derivados do petróleo.
- 49 O Brasil domina a tecnologia de produção do etanol a partir da cana-de-açúcar.
- 50 Por não ter petróleo, o Brasil investiu na tecnologia do álcool como combustível.


CONHECIMENTOS ESPECÍFICOS

Considerando aspectos gerais de *hardware*, julgue os itens a seguir.

- 51 O processador, principal componente de *hardware*, controla as outras partes do computador.
- 52 A ampliação da capacidade de memória ROM melhora a velocidade do computador, pois torna possível a utilização de diversos programas ao mesmo tempo.
- 53 Informações sobre o espaço de disco rígido disponível podem ser obtidas por meio dos seguintes procedimentos: abrir a pasta Meu computador, clicar o botão direito do *mouse* sobre a unidade de disco rígido e clicar a opção Propriedades.



Considerando a figura acima, que apresenta um texto sendo editado no Word 2003, julgue os itens subsequentes.

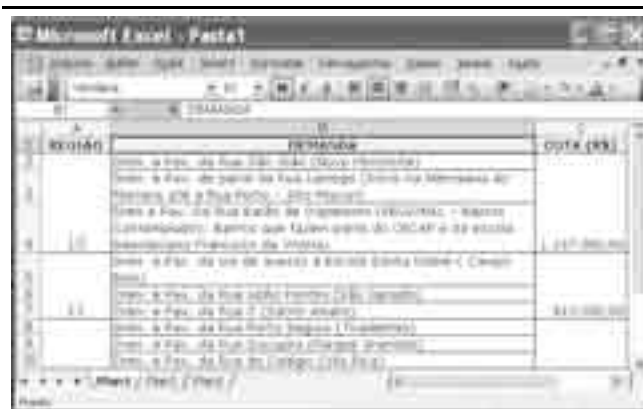
- 54 A opção Bordas e sombreamento do *menu* **Formatar** permite colocar uma borda na figura.
- 55 Para se colocar a figura após o terceiro parágrafo, é suficiente: clicar a figura, selecionar a opção Recortar do *menu* **Formatar**, posicionar o cursor na posição desejada; clicar a opção Colar.
- 56 Ao se selecionar o primeiro parágrafo e clicar a ferramenta , todas as linhas desse parágrafo serão numeradas.
- 57 Observando-se a figura, identifica-se que o arquivo tem apenas uma página e uma seção e está sendo visualizado com *zoom* de 100%.

Considerando os conceitos de Internet e correio eletrônico, julgue os itens seguintes.




- 58 O grande atrativo da Internet é a possibilidade de busca de informações para o computador local mediante o uso do *upload*.
- 59 A conexão com a Internet por meio dos provedores de acesso pode ser realizada via onda de rádio.
- 60 Arquivos do Word podem ser compactados junto com arquivos do Excel.
- 61 Não existe diferença entre o Outlook Express e o Microsoft Office Outlook.
- 62 Para se encaminhar um arquivo anexo utilizando-se o Outlook Express, é necessário usar um compactador e salvar o arquivo no formato .XLS.

Considerando os conceitos de rede de computadores, julgue os itens a seguir.

- 63 Uma forma rápida de se acessar uma pasta na rede é mapear-se o caminho da respectiva pasta.
- 64 A maior vantagem de se usar rede de computadores é a possibilidade de compartilhar recursos.
- 65 Para se imprimir uma informação via rede de computadores, é necessário que a impressora tenha sido instalada na porta serial do computador.



Considerando a figura acima, que apresenta uma janela do Excel 2003 com uma planilha que está sendo editada, julgue os itens subsequentes.

- 66 Para se inserir uma linha antes da célula A1, é suficiente clicar com o botão da direita o título da linha **1** e, em seguida, clicar a opção Inserir.
- 67 A função da ferramenta  é inserir uma figura no Excel.
- 68 O símbolo R\$ foi colocado na célula C1 usando-se a ferramenta .
- 69 É possível fechar a janela do Excel após se clicar a ferramenta  e clicar a opção Fechar.

Considerando o sistema de arquivos do Windows XP e os procedimentos para a realização de cópias de segurança, julgue os próximos itens.

- 70 Usando-se o Windows Explorer, é possível criar cópias de segurança, ou seja, o chamado *backup*.
- 71 Levar fitas de *backup* para outro prédio é um procedimento aconselhado para garantir-se a segurança das cópias.
- 72 Para se garantir a integridade dos dados, cópias de segurança devem ser realizadas em fitas, visto que tal procedimento é realizado de forma deficiente em outros tipos de mídias.
- 73 Uma desvantagem da armazenagem de dados em discos removíveis é que, após a remoção do disco, os dados são apagados.
- 74 O principal programa do Windows XP para o gerenciamento de arquivos e pastas é o Windows Explorer.
- 75 No Windows Explorer, ao se arrastar uma pasta de uma unidade de disco para um disco removível, a pasta será automaticamente apagada da unidade de origem.

Texto para os itens de 76 a 85

1 A previdência social é um seguro social adquirido por meio de contribuição mensal que garantirá ao segurado uma renda no momento em que ele não puder trabalhar.

4 Suponhamos que você exerça alguma atividade por conta própria; se acaso ficar doente, quem irá pagar suas despesas? Se você contribui para a previdência social todos os meses,

7 pode solicitar o auxílio-doença e obter um rendimento. No caso das mulheres que precisam parar de trabalhar por causa do parto, o salário-maternidade assegura uma renda mensal

10 durante 120 dias. A previdência social também paga outros benefícios, como vários tipos de aposentadorias e pensão por morte.

13 Todo trabalhador com carteira assinada está automaticamente filiado à previdência social. Os trabalhadores autônomos e os empresários são contribuintes individuais.

16 E mesmo quem não tem renda própria — como estudantes, donas de casa e desempregados — pode pagar como contribuinte facultativo para ter direito aos benefícios.

19 A previdência social está presente em todo o país por meio das agências do Instituto Nacional do Seguro Social (INSS). É com o INSS que você deve entrar em contato para

22 se inscrever, contribuir mensalmente ou solicitar benefícios. Mas não se esqueça: para ter direito aos benefícios, você precisa estar inscrito no INSS e manter suas contribuições

25 em dia.

Internet: <www.senac.br> (com adaptações).

Julgue os itens que se seguem, relativos às idéias do texto.

- 76 Por ser um seguro social mantido graças à contribuição mensal de seus segurados, a previdência social também os ampara em caso de aposentadoria e morte.
- 77 O texto é predominantemente narrativo e expõe situações em que o trabalhador, ao estar impedido de trabalhar, recebe uma renda.
- 78 O emprego de “você” (l.4) tem sentido indeterminado e pode referir-se ao trabalhador, de um modo geral.
- 79 De acordo com o texto, todas as mulheres, ao darem à luz, têm direito a receber o salário-maternidade pelo período de 120 dias.
- 80 Os trabalhadores autônomos podem contribuir facultativamente com a previdência social, desde que estejam inscritos no INSS e mantenham a contribuição mensal em dia.

Com referência às estruturas lingüísticas do texto, julgue os itens a seguir.

- 81 Na expressão “no momento em que” (l.3), o emprego da preposição “em” é facultativo.
- 82 A oração “Se você contribui para a previdência social todos os meses” (l.6) representa uma condição para a solicitação de um auxílio e para a obtenção de um rendimento.
- 83 Nas linhas 16 e 17, os travessões podem ser substituídos por parênteses sem prejuízo ao sentido e à correção gramatical.
- 84 O uso da crase em “filiado à previdência social” (l.14) é facultativo e justifica-se pela regência da palavra “filiado”.
- 85 A expressão “por meio das” (l.19-20) pode ser substituída por **mediante as**, sem prejuízo para a correção gramatical e o sentido do texto.

Texto para os itens de 86 a 95

1 A discussão sobre a melhor forma de reorganizar a
previdência social é uma das mais vivas no Brasil
contemporâneo, e uma expressiva parcela do esforço do
4 Congresso Nacional tem sido dedicada a ela.
Compreensivelmente. Esta é uma nação jovem, com
156 milhões de habitantes, que sofreu, em muito pouco tempo,
7 um vertiginoso processo de urbanização. Some-se, ainda,
como complicador, uma outra marca do Brasil que se procura
amenizar: as diferenças sociais. Dentro do sistema de
10 previdência, em que se misturam todas essas questões, estão o
Brasil emancipado, o Brasil afluyente, o Brasil corporativo e o
Brasil marginalizado. Para se compreenderem melhor os seus
13 problemas, é preciso voltar no tempo.

Embora, no século XIX, tivessem sido criados alguns
mecanismos de seguro social e proteção à saúde para certas
16 categorias profissionais, como é o caso dos militares, o marco
do nascimento da seguridade social no Brasil foi a
promulgação da Lei Eloy Chaves, em 1923. Essa lei criou a
19 Caixa de Assistência e Previdência dos Ferroviários,
inaugurando um modelo de organização da seguridade no
âmbito da proteção ao trabalhador. Esse modelo, ainda que
22 restrito a um pequeno número de categorias profissionais
organizadas, teve rápido crescimento ao longo dos anos 20.

As caixas de aposentadoria e pensões (CAPs) eram
25 organizadas por empresa e(ou) categoria profissional. Seu
sistema básico era o de capitalização coletiva, financiada de
forma tripartite pelos trabalhadores, empregadores e Estado.
28 Embora as CAPs tenham continuado a existir até os anos 60,
a partir de 1933, o modelo de caixas foi substituído por um
modelo de vinculação exclusiva ao gênero ou à categoria
31 profissional: os institutos de aposentadorias e pensões (IAPs).

O modelo dos IAPs representou uma expansão
de cobertura, para vincular aos institutos boa parte dos
34 trabalhadores urbanos formais e autônomos. No entanto,
alguns segmentos do próprio mercado formal de trabalho não
estavam cobertos — sem contar o setor informal, os
37 trabalhadores rurais e outras categorias. Estima-se que apenas
30% da força de trabalho do país, no final dos anos 50,
estavam protegidos por algum instituto.

Internet: <www.mre.gov.br> (com adaptações).

Com referência às idéias do texto, julgue os itens seguintes.

- 86** O texto apresenta o funcionamento de alguns modelos de seguridade social que foram criados no Brasil desde a segunda década do século XX até os anos sessenta.
- 87** O termo “vertiginoso” (l.7) foi empregado em sentido conotativo e significa algo que ocorre com espantosa rapidez.
- 88** O trecho “Dentro do sistema (...) o Brasil marginalizado” (l.9-12) pode ser reescrito da seguinte forma, mantendo-se a correção gramatical e o sentido: No sistema de previdência, em que todas essas questões estão misturadas, há vários Brasis: o emancipado, o afluyente, o corporativo e o marginalizado.
- 89** Mantendo-se a correção gramatical e o sentido do texto, o período “Esse modelo (...) dos anos 20” (l.21-23) poderia ser reescrito da seguinte forma: Mesmo restrito a um pequeno número de categorias profissionais organizadas, esse modelo cresceu rapidamente durante os anos 20.
- 90** Em “Estima-se” (l.37), o pronome “se” indica indeterminação do sujeito, o que confere impessoalidade ao texto.

Julgue os itens subseqüentes quanto às estruturas lingüísticas do texto.

- 91** A palavra “reorganizar” é formada morfologicamente pelo sufixo “re”, que imprime o sentido de repetição da ação de organizar.
- 92** Preserva-se a correção gramatical do período com a substituição da forma verbal “compreenderem” (l.12) pela forma na terceira pessoa do singular.
- 93** A forma pronominal “Seu” (l.25) refere-se à expressão “caixas de aposentadoria e pensões” (l.24).
- 94** O emprego da letra maiúscula é obrigatório na escrita da palavra “Estado” (l.27), porque esta foi empregada com o sentido de conjunto das instituições que administram uma nação, para distingui-la da palavra **estado**, em referência a território que integra um país.
- 95** A expressão “No entanto” (l.34) liga logicamente períodos sintáticos cujas idéias estão em oposição.

1 A expansão do escopo das ações do INPS fez com
que fosse criado, em 1974, com a Lei n.º 6.036, o
Ministério da Previdência Social. Em 1975, foi feita a
4 Consolidação das Leis da Previdência Social. Em 1977, a
Lei n.º 6.439 criou o Sistema Nacional de Previdência e
Assistência Social (SINPAS). Essa estrutura manteve-se
7 até o advento da Constituição de 1988, que definiu um
conceito de seguridade social abrangente, estendendo os
direitos a cobertura previdenciária, saúde e assistência
10 social à totalidade da população, independentemente do
exercício profissional e da existência de vínculo
contributivo.

Em conseqüência, estabeleceu-se para a
13 seguridade social um orçamento global, que passou a
integrar o financiamento das ações de saúde, previdência e
16 assistência social, além das ações relacionadas à proteção
ao trabalhador desempregado. As fontes de financiamento
potenciais para a seguridade passaram a ser a contribuição
19 sobre a folha de salários (empregados, empregadores e
trabalhadores por conta própria); a contribuição sobre o
lucro líquido; o FINSOCIAL, posteriormente transformado
22 em contribuição para o financiamento da seguridade
(COFINS); e o PIS/PASEP, voltado para compor o Fundo
de Amparo ao Trabalhador (FAT), gerido pelo Ministério
25 do Trabalho e Emprego e dedicado ao financiamento do
seguro-desemprego. Tanto os benefícios rurais como os
assistenciais mantiveram sérias deficiências quanto ao seu
28 custeio.

Internet: <www.mre.gov.br> (com adaptações).

Quanto à pontuação e à redação de correspondências oficiais, julgue os itens que se seguem, relacionados ao texto acima.

- 96** Preserva-se a correção gramatical, se for inserida uma vírgula logo após “INPS” (l.1).
- 97** Na linha 14, a supressão da vírgula antes de “que” acarretaria alteração do sentido do período.
- 98** Com o uso de dois-pontos logo após “passaram a ser” (l.18), seria mantida a correção gramatical.
- 99** O texto pode constituir um relatório técnico, se for escrito formalmente no padrão ofício.
- 100** Se o texto integrasse uma correspondência oficial e fosse dirigido a uma autoridade superior, seria correto no fecho dessa correspondência o emprego da expressão “Atenciosamente”.

Uma empresa gastou a quantia de R\$ 3.315,00 na compra dos seguintes produtos: sabão, detergente e desinfetante. As quantias gastas na compra desses produtos são diretamente proporcionais aos números 3, 5 e 7, respectivamente. Com base nessas informações, julgue os itens seguintes.

101 A empresa gastou com sabão uma quantia inferior a R\$ 600,00.

102 A quantia que a empresa com desinfetante foi superior a R\$ 1.500,00.

103 Com detergente, a empresa gastou R\$ 1.105,00.

Uma equipe de pedreiros trocou o piso de um escritório em 3 dias de trabalho. No primeiro dia, em 6 horas de trabalho, a equipe trocou 45% do piso. No segundo dia, a jornada de trabalho foi de 4 horas. Nessa situação, assumindo que a equipe trabalhou sempre no mesmo ritmo, julgue os itens que se seguem.

104 No segundo dia de trabalho, a equipe trocou 25% do piso.

105 No terceiro dia, a jornada de trabalho foi inferior a 3 horas.

Um cliente de uma instituição financeira fez um empréstimo para pagar em 4 meses. Ao final do 4.º mês, sua dívida era de R\$ 1.656,00. Com base nessas informações, sabendo que a instituição cobra juros compostos de 2,5% ao mês e assumindo que $1,025^4 = 1,104$, julgue os itens subseqüentes.

106 O empréstimo feito pelo cliente foi inferior a R\$ 1.530,00.

107 Um mês após realizado o empréstimo, a dívida do cliente era superior a R\$ 1.550,00.

Sabendo que um banco pratica uma taxa de juros nominal de 48% ao ano para empréstimos a seus clientes, com capitalização mensal a juros compostos, e assumindo que $1,04^{12} = 1,60$, julgue os itens a seguir.

108 Um empréstimo de R\$ 1.000,00 renderia de juros ao banco, em um mês, uma quantia inferior a R\$ 43,00.

109 A taxa efetiva anual dessa operação é superior a 65%.

Considerando que, em determinado período, a taxa de inflação de certo país foi de 8%, e sabendo que, nesse período, uma aplicação de R\$ 5.000,00 resultaria em um montante de R\$ 5.670,00, julgue os itens seguintes.

110 A taxa real de juros no referido período foi inferior a 5,2%.

111 A taxa aparente de juros, nesse período, foi superior a 13%.

Na tabela a seguir, apresentam-se alguns dados relativos a aplicações realizadas no regime de juros simples.

capital (R\$)	taxa (mensal)	tempo (meses)	juros (R\$)	montante (R\$)
1.000,00	3%	z	120,00	1.120,00
x	y	7	1.680,00	4.680,00

Considerando as informações acima, julgue os próximos itens.

112 Na tabela, o tempo z foi superior a 5 meses.

113 Na tabela, a taxa mensal y é igual a 8%.

Considere que um título de valor nominal de R\$ 10.000,00 seja descontado 5 meses antes de seu vencimento, a uma taxa de desconto comercial simples de 4% ao mês. Com base nessas informações, julgue os itens que se seguem.

114 O valor do desconto é inferior a R\$ 1.800,00.

115 A taxa efetiva da operação é de 5,5% ao mês.

Em cada um dos próximos itens, é apresentada uma situação hipotética a respeito de matemática financeira, seguida de um assertiva a ser julgada.

116 Na venda de um bem cujo valor é R\$ 7.000,00, uma loja oferece as seguintes opções para seus clientes:

I pagamento a vista com desconto de 10% do valor do bem;

II uma entrada de R\$ 2.420,00 mais duas parcelas semestrais, sendo a primeira de R\$ 2.000,00 e a segunda, de R\$ 3.000,00.

A loja cobra juros compostos de 3% ao mês.

Nessa situação, e supondo que $1,03^{-6} = 0,84$ e que $1,03^{-12} = 0,70$, a opção I é a mais vantajosa para os clientes.

117 Um cliente deseja aplicar em um banco a quantia de R\$ 10.000,00 durante 3 meses. O banco oferece as seguintes opções para seus clientes:

I juros compostos de 10% ao mês;

II juros simples de 12% ao mês.

Nessa situação, a opção II é a mais vantajosa para o cliente.

118 Um título de valor nominal de R\$ 15.000,00 foi descontado em um banco 4 meses antes do seu vencimento. O banco cobrou um total de R\$ 3.000,00 de taxas administrativas e desconto. Nessa situação, e considerando que tenha sido adotado o regime de juros simples, o custo efetivo da operação correspondeu a uma taxa mensal inferior a 6%.

Considere que um investidor faça 12 depósitos mensais consecutivos de R\$ 1.000,00 cada, em uma instituição financeira que paga juros compostos de 5% ao mês. A propósito dessa situação, e assumindo que $1,05^{12} = 1,80$, julgue os itens subseqüentes.

119 Se o investidor começar a depositar a partir da data de hoje (renda antecipada), no fim de 12 meses ele acumulará mais que R\$ 16.500,00.

120 Caso o investidor faça o primeiro depósito um mês após a data de hoje (renda *postecipada*), no fim de 12 meses ela acumulará menos que R\$ 16.500,00.