



MUNICÍPIO DE VITÓRIA

SECRETARIA MUNICIPAL DE ADMINISTRAÇÃO (SEMAD)

Concurso Público
Nível Superior



Aplicação: 13/1/2008

Cargo 21: CONTROLADOR DE RECURSOS MUNICIPAIS
ÁREA DE ATUAÇÃO: ECONOMIA

Caderno U

40 HORAS
TARDE

LEIA COM ATENÇÃO AS INSTRUÇÕES ABAIXO.

- 1 Confira atentamente se o tipo de caderno — Caderno U — coincide com o que está registrado em sua folha de respostas. Em seguida, verifique se ele contém **CENTO E VINTE** itens, correspondentes às provas objetivas, corretamente ordenados de 1 a 120.
- 2 Caso o caderno esteja incompleto ou tenha qualquer defeito, solicite ao fiscal de sala mais próximo que tome as providências cabíveis.
- 3 Não utilize lápis, lapiseira (grafite), borracha e(ou) qualquer material de consulta que não seja fornecido pelo CESPE/UnB.
- 4 Não se comunique com outros candidatos nem se levante sem autorização do chefe de sala.
- 5 Recomenda-se não marcar ao acaso: cada item cuja resposta diverja do gabarito oficial definitivo receberá pontuação negativa, conforme consta em edital.
- 6 A duração das provas é de **quatro horas**, já incluído o tempo destinado à identificação — que será feita no decorrer das provas — e ao preenchimento da folha de respostas.
- 7 Você deverá permanecer obrigatoriamente em sala por, no mínimo, **uma hora** após o início das provas e poderá levar este caderno de provas somente no decurso dos últimos **quinze minutos** anteriores ao horário determinado para o término das provas.
- 8 Ao terminar as provas, chame o fiscal de sala mais próximo, devolva-lhe a sua folha de respostas e deixe o local de provas.
- 9 A desobediência a qualquer uma das determinações constantes do presente caderno ou da folha de respostas poderá implicar a anulação das suas provas.

AGENDA (datas prováveis)

- I **15/1/2008**, após as 19 h (horário de Brasília) – Gabaritos oficiais preliminares das provas objetivas: Internet — www.cespe.unb.br/concursos/pmvs2007.
- II **16 e 17/1/2008** – Recursos (provas objetivas): exclusivamente no Sistema Eletrônico de Interposição de Recurso. Internet, mediante instruções e formulários que estarão disponíveis nesse sistema.
- III **7/2/2008** – Resultado final das provas objetivas e convocação para a entrega da documentação para a avaliação de títulos e para a perícia médica de pessoas com deficiência: Imprensa Oficial do Município e Internet.

OBSERVAÇÕES

- Não serão objeto de conhecimento recursos em desacordo com o item 1.3 do Edital n.º 9 – PMV/NS, de 26/10/2007.
- Informações adicionais: telefone 0800 61 3448-0100; Internet — www.cespe.unb.br/concursos/pmvs2007.
- É permitida a reprodução deste material apenas para fins didáticos, desde que citada a fonte.

- De acordo com o comando a que cada um dos itens de **1 a 120** se refira, marque, na **folha de respostas**, para cada item: o campo designado com o código **C**, caso julgue o item **CERTO**; ou o campo designado com o código **E**, caso julgue o item **ERRADO**. A ausência de marcação ou a marcação de ambos os campos não serão apenadas, ou seja, não receberão pontuação negativa. Para as devidas marcações, use a **folha de respostas**, único documento válido para a correção das suas provas.
- Nos itens que avaliam **Noções de Informática**, a menos que seja explicitamente informado o contrário, considere que todos os programas mencionados estão em configuração-padrão, em português, que o *mouse* está configurado para pessoas destros e que expressões como clicar, clique simples e clique duplo referem-se a cliques com o botão esquerdo do *mouse*. Considere também que não há restrições de proteção, de funcionamento e de uso em relação aos programas, arquivos, diretórios e equipamentos mencionados.

CONHECIMENTOS BÁSICOS

1 A Organização das Nações Unidas calcula ser de
1 bilhão o número de pessoas que já sofrem com a escassez
de água potável no planeta. Soma-se a isso o fato de que a
4 demanda crescente impulsionada pelo aumento populacional,
a poluição e a contaminação das fontes hídricas aceleram o
processo de redução da água, cujo principal fator é a
7 devastação ambiental — que inclui a derrubada de florestas,
matas ciliares e outros biomas essenciais à sobrevivência e
à permanência de rios e outras fontes hídricas. A água, sem
10 a qual não existe vida, tende a tornar-se um bem cada vez
mais escasso, e não são poucos os especialistas que já
antevêm, em um futuro não muito distante, a ocorrência de
13 conflitos armados entre povos e nações na disputa por essas
fontes. O Brasil dispõe de 12% das reservas de água doce da
Terra, mas infelizmente não as administra com competência
16 para fazer jus a tamanha generosidade da natureza.

Diário Catarinense, 22/11/2007 (com adaptações).

Em relação às idéias e às estruturas do texto acima, julgue os itens que se seguem.

- 1 A forma verbal “aceleram” (ℓ.5) está no plural para concordar com o sujeito composto.
- 2 A substituição de “cujo” (ℓ.6) por **em qual o** mantém a correção gramatical do período.
- 3 Em “à sobrevivência e à permanência” (ℓ.8-9), o sinal indicativo de crase justifica-se pela regência de “essenciais” (ℓ.8), que exige preposição, e pela presença de artigo definido feminino.
- 4 Em “tornar-se” (ℓ.10), o “-se” indica sujeito indeterminado.
- 5 O segmento que compõe o último período do texto está adequado para correspondências oficiais.

1 A população do Brasil cresceu nada menos que
14 milhões de 2000 a 2007, segundo o IBGE, chegando a
183,9 milhões de pessoas, o que nos inclui entre as dez
4 nações mais populosas do planeta e nos aproxima das cinco
nações da lista com mais de 200 milhões de habitantes.
Somente o crescimento dos últimos sete anos já supera a
7 população de muitos países desenvolvidos, como Holanda,
Bélgica, Áustria ou Dinamarca. É mais do que toda a
população de Portugal.

10 A extensão territorial do Brasil faz com que o país
tenha uma baixa densidade populacional. No entanto, como
somos hoje um país urbano, algumas cidades já se
transformaram em aglomerações com dimensões similares às
13 de megalópoles da Ásia ou da Europa.

Desse modo, o Brasil enfrenta hoje problemas
16 característicos de países com elevada concentração urbana:
periferias inchadas, falta de infra-estrutura e enorme
dificuldade para a administração pública se fazer presente em
19 todas as áreas sob sua responsabilidade.

Editorial. O Globo, 21/11/2007 (com adaptações).

A respeito das idéias e de aspectos gramaticais do texto acima, julgue os itens de **6 a 10**.

- 6 Depreende-se do texto que a população de Portugal é inferior a 14 milhões de pessoas.
- 7 O emprego de “nos” (ℓ.3) inclui no texto o autor e os leitores brasileiros.
- 8 A eliminação de “do” (ℓ.8) prejudica a correção gramatical do período.
- 9 O termo “No entanto” (ℓ.11) pode, sem prejuízo para a correção e para as informações originais do período, ser substituído por qualquer um dos seguintes: Porém, Entretanto, Contanto que.
- 10 O emprego de vírgula após “inchadas” (ℓ.17) justifica-se por isolar expressão apositiva.

1 O Brasil rural está vencendo seus desafios com
mais rapidez. A universalização da educação e o acesso
progressivo a comodidades do mundo moderno, como
4 energia elétrica e telecomunicações, além da importância
crescente do agronegócio na economia, tendem a reduzir
fluxos migratórios para as cidades e ainda a diminuir as
7 diferenças entre os indicadores do campo e dos centros
urbanos (as taxas de fecundidade, por exemplo, já se
aproximam).

10 Mas o Brasil metropolitano continua sem rumo
definido. Intervenções pontuais tentam atacar os problemas,
mas é evidente a falta de articulação entre os municípios que
13 compõem as regiões metropolitanas, até porque parte
significativa das soluções foge à alçada das prefeituras.
Os governos estaduais não têm capacidade financeira para
16 exercer esse papel de articulador, e é dos cofres federais que
as iniciativas dependem quase que inteiramente.

Idem, *ibidem*.

Em relação ao texto acima, julgue os itens a seguir.

- 11 A substituição de “está vencendo” (ℓ.1) por **vence** mantém a correção gramatical do período.
- 12 Em “ainda a diminuir” (ℓ.6), a presença da preposição é exigida pela regência de “tendem” (ℓ.5).
- 13 Infere-se das informações do texto que, no Brasil, a migração do campo para a cidade tende a diminuir.
- 14 Na linha 13, a forma verbal “compõem” está no plural porque concorda com “regiões metropolitanas”.
- 15 Na linha 14, o sinal indicativo de crase em “à alçada” justifica-se pela regência de “soluções”, que exige preposição, e pela presença de artigo feminino.

1 Basta ter eleições para um país ser considerado democrático? Não, dizem os cientistas políticos que comparam regimes pela história afora. Adam Przeworski
4 argumenta que só é democrática a eleição em que há contestação porque há mais de um partido competindo pelo poder. E, claro, alternância de partidos no poder.

7 Outro modo de comparar países é a maturidade de seu regime político. A idéia é que um país acumula experiências de resolução democrática de conflitos
10 pelos anos ininterruptos de democracia. Isso quer dizer respeito às regras estabelecidas no jogo democrático, sem mudanças de última hora para servir aos interesses
13 dos poderosos.

A idade da Constituição torna-se importante porque revela o respeito que os competidores têm pelas
16 regras do jogo ali estabelecidas. O país que muda as regras ao sabor dos interesses eventuais e momentâneos, de quem pode manipular o Poder Legislativo com o seu
19 poder, não pode ser considerado um país de democracia consolidada.

Alba Zaluar. *Folha de S.Paulo*, 19/11/2007 (com adaptações).

A propósito das idéias e de aspectos gramaticais do texto acima, julgue os próximos itens.

16 Pelas informações do texto, só é considerado democrático o país que tem mais de um partido que se alternam no poder por meio de eleições e que mantém a Constituição por muito tempo sem mudança de regras de última hora.


17 O segmento “que comparam regimes pela história afora” (ℓ.2-3) tem natureza restritiva em relação aos termos antecedentes.

18 Subentende-se, após “claro,” (ℓ.6) a estrutura “só é democrática a eleição em que há”.

19 Haveria prejuízo para a correção gramatical do período com o emprego de sinal de dois-pontos logo após “dizer” (ℓ.10).

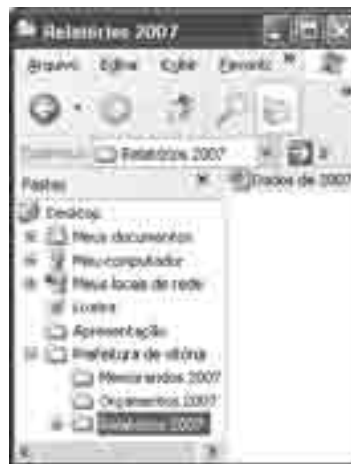
20 A substituição de “ao sabor dos” (ℓ.17) por **conforme** prejudica a correção gramatical do período e altera as informações originais.

Com relação ao Word 2003 e ao Excel 2003, julgue os itens que se seguem.



21 A ferramenta correspondente ao botão  permite fazer correções gramaticais e de grafia das palavras.

22 O *menu* Inserir permite alterar o tipo de fonte.

23 Uma planilha do Excel 2003 pode ser colada com vínculo em um documento do Word 2003; dessa forma, qualquer alteração feita na referida planilha será atualizada no arquivo do Word.



A figura acima mostra uma janela do Windows Explorer, executado em um computador cujo sistema operacional é o Windows XP. Com relação a essa figura e à segurança da informação, julgue os itens subsequentes.

24 O procedimento de clicar o ícone  'Dados do 2007' e arrastar para a pasta associada ao ícone  'Orçamentos 2007' fará que o arquivo de nome Dados de 2007 permaneça na pasta Relatórios 2007 e uma cópia seja enviada para a pasta Orçamentos 2007.

25 Ao se clicar a ferramenta , o arquivo de nome Dados de 2007 será movido para a pasta Orçamento 2007.

26 O Windows XP possui uma ferramenta que auxilia o usuário na realização de *backup* dos arquivos.

27 O *firewall* é um antivírus que permite detectar e eliminar diversos tipos de vírus.


Ano	Total de Escolas	Número de Escolas construídas
2004	1300	10
2005	1400	11
2006	1500	12
2007	1600	13

Considerando a figura acima, que mostra uma janela do Outlook Express 6 (OE6) com uma mensagem contendo uma planilha copiada do Excel, julgue os próximos itens.


28 O *e-mail* será encaminhado para Paulo com cópia para Ana.

29 Uma desvantagem do OE6 é que, quando o usuário termina de editar a mensagem, deve imediatamente encaminhá-la, caso contrário ela será descartada.

30 Considerando que a planilha foi criada no Excel a partir da célula A1, é correto afirmar que o número de escolas construídas no ano de 2005 é igual ao resultado da execução da fórmula =B4-B3.

31 Para se centralizar o título da planilha, é suficiente selecioná-lo e clicar o botão .

Julgue os itens subsequentes, acerca do Internet Explorer 6 (IE6) e de conceitos de Internet.

- 32 Um cuidado que os usuários devem ter em relação ao acesso à Internet é fazer *download* apenas de arquivos confiáveis para evitar a contaminação por vírus.
- 33 O IE6 possui uma ferramenta de antivírus que detecta sítios não confiáveis.
- 34 Ao se digitar www.mec.gov.br na barra de endereço do IE6 e pressionar a tecla , terá início o *upload* de todos os arquivos, imagens e textos da página do MEC.
- 35 No endereço <http://www.mec.gov.br>, os caracteres “http” indicam a existência de um servidor de arquivos ftp.

Julgue os itens que se seguem, a respeito do projeto de transposição do rio São Francisco, um dos principais empreendimentos incluídos no Plano de Ação de Aceleração do Crescimento (PAC), do governo federal, e de suas implicações para a sociedade e a política nacionais.

- 36 Apesar de o referido projeto ser de interesse de alguns estados do Nordeste do Brasil, em outros estados da mesma região houve manifestações de preocupação com o enfraquecimento do caudal do mencionado rio, econômica e socialmente importante para suas populações.
- 37 A inclusão do projeto de transposição do rio São Francisco no PAC vem sendo apontada pelo governo federal como uma forma de articular, política e economicamente, ações que necessitam ser realizadas.
- 38 A decisão de suspender o projeto de transposição do rio São Francisco, tomada pelo tribunal regional federal, é inédita, uma vez que questões ambientais não foram debatidas antes do início dos trabalhos de transposição desse rio.
- 39 Conflitos de competência legal entre conselhos federais e instâncias locais e regionais da área ambiental exemplificam a tensão latente no campo do direito ambiental no Brasil.
- 40 Apesar das tensões que envolvem o processo legal acerca do assunto, a opinião pública nacional é amplamente favorável ao projeto citado, entendido como estratégico não apenas para o Nordeste do país, mas também para o Sul e o Sudeste.

A propósito do crescimento econômico do Brasil, conforme os resultados dos últimos relatórios divulgados por grupos de estudo e consultorias de todo o país, julgue os itens a seguir.

- 41 O Brasil, depois de crescimento modesto em anos anteriores, retomou, gradualmente, em 2007, índices de crescimento econômico mais alentados, apresentando cerca de 5% de aumento no PIB.
- 42 O crescimento da agropecuária e da indústria, associado à expansão do crédito e do consumo de bens de massa, é um aspecto da retomada do crescimento brasileiro em 2007.
- 43 De acordo com os dados de crescimento econômico divulgados por estudos realizados pela iniciativa privada e por órgãos públicos, o Brasil voltou a liderar o crescimento da América Latina.
- 44 Crescimento econômico com a presença de elementos inflacionários é característica do modelo de desenvolvimento em curso no país.
- 45 Mesmo com previsão de expressiva taxa de crescimento do PIB para o final do ano de 2007, o crescimento econômico do Brasil segue aquém daquele obtido por grandes economias emergentes como a Índia e a China.
- 46 O crescimento econômico brasileiro continua concentrado no Sudeste e Sul do país, sem alteração relativa à presença do Centro-Oeste ou do Nordeste do país na produção nacional.

Acerca da situação da segurança em países da América Latina, julgue os próximos itens.

- 47 O tema central da campanha de eleição presidencial na Argentina, ocorrida no segundo semestre de 2007, foi segurança.
- 48 No Brasil, o êxito de bilheteria do filme **Tropa de Elite** evidenciou que a situação da segurança causa grande apreensão na população brasileira.
- 49 As grandes capitais de países da América Latina apresentam situação relativamente semelhante no que se refere à insuficiência da segurança pública, mesmo com os esforços recentes de Bogotá nessa área.
- 50 Em matéria de segurança pública, o Chile é exceção ao quadro apresentado pela América Latina.

CONHECIMENTOS COMPLEMENTARES

A respeito do direito constitucional, julgue os itens a seguir.

- 51** A Constituição Federal assegura o direito a privacidade, que é entendida como vida privada, a intimidade, a honra e a imagem.
- 52** O controle preventivo de constitucionalidade de uma lei é exercido, no âmbito do Poder Legislativo, pelas comissões de constituição e justiça.
- 53** São membros do Poder Judiciário do estado do Espírito Santo os desembargadores do tribunal de justiça do estado, os juízes de direito e os juízes do trabalho.
- 54** A iniciativa popular, prevista na Constituição do Estado do Espírito Santo, pode ser exercida pela apresentação à Assembléia Legislativa do estado de projeto de lei ou proposta de emenda à Constituição, devidamente articulados e subscritos por, no mínimo, 1% do eleitorado estadual, distribuído em pelo menos cinco municípios com um mínimo de 2% dos eleitores de cada um desses municípios.
- 55** Se o governador, o vice-governador e o presidente da Assembléia Legislativa do Estado do Espírito Santo viajarem juntos para a capital federal, por um período igual ou superior a 20 dias consecutivos, o vice-presidente da Assembléia Legislativa deve assumir interinamente o governo do estado.
- 56** A renúncia do governador do estado do Espírito Santo somente se tornará efetiva com o conhecimento da respectiva mensagem pela Assembléia Legislativa do estado.

Julgue os item seguintes, referentes ao direito administrativo.

- 57** A publicação do ato administrativo é condição de eficácia e validade desse ato.
- 58** O princípio da eficiência, que não estava previsto expressamente na Constituição Federal de 1988, passou a integrar o texto constitucional apenas com o advento da Emenda Constitucional n.º 19/1998.
- 59** O contrato administrativo verbal é legalmente previsto.
- 60** O serviço de táxi é uma espécie de permissão de serviço público.
- 61** O princípio da autotutela garante à administração pública o poder de anular seus próprios atos quando estes estiverem eivados de vícios que os tornem ilegais.
- 62** A Empresa Brasileira de Correios e Telégrafos é uma empresa pública. Sendo assim, seus bens são passíveis de penhora.

Com relação à legislação previdenciária, julgue os itens a seguir.

- 63** Considere que João de Souza tenha arrendado um pedaço de terra de propriedade de José Silva, passando a exercer atividade rural em regime de economia familiar, sem empregados permanentes. Nessa situação, João de Souza deverá contribuir para a seguridade social com base em um valor proporcional à comercialização da sua produção rural.
- 64** A previdência social tem por finalidade garantir aos seus beneficiários os meios indispensáveis de manutenção nas hipóteses de ocorrência de riscos sociais, tais como incapacidade, idade avançada e desemprego involuntário, além de garantir a sobrevivência da família nos casos de morte ou de reclusão do provedor econômico.
- 65** Em relação à gestão da seguridade social brasileira, o modelo de organização implementado pelas autoridades públicas é caracterizado, essencialmente, pelo caráter democrático e centralizado da administração, apesar de ser possível, quando solicitada, a participação dos trabalhadores, dos empregadores e dos aposentados, a exemplo do que aconteceu nas reuniões do Conselho de Desenvolvimento Econômico e Social, organizadas pelo atual governo.
- 66** Não incide contribuição previdenciária sobre as aposentadorias e pensões pagas pelo regime geral de previdência social (RGPS), ao contrário do que acontece com os regimes próprios de previdência.
- 67** As questões relacionadas à seguridade social devem ser consideradas prioritárias em qualquer Estado moderno, tendo em vista a importância da finalidade social que ela representa. No modelo brasileiro, as prestações são agrupadas em dois setores específicos: a assistência e a previdência social.
- 68** Os servidores vinculados aos regimes próprios criados pelos entes federativos, mas sem regime de previdência complementar, podem filiar-se facultativamente ao RGPS a fim de garantir uma renda extra quando se aposentarem.

Com base nos preceitos da Lei Complementar n.º 101/2000 — Lei de Responsabilidade Fiscal —, julgue os itens a seguir.

69 Considere que o governo de determinado município pretenda criar um programa de erradicação de doenças, durante os dois próximos exercícios, a ser executado com o pessoal permanente da secretaria de saúde. Nessa situação, as despesas com a remuneração desse pessoal se enquadram entre as obrigatórias de caráter continuado.

70 Considere que o Poder Executivo de uma prefeitura tenha apresentado, ao final do exercício, as seguintes despesas relacionadas a pessoal.

pessoal e encargos sociais R\$ 550.000,00

aposentadorias R\$ 70.000,00

mão-de-obra terceirizada R\$ 90.000,00

decisões judiciais de competência do

próprio exercício R\$ 140.000,00

diárias e ajudas de custo R\$ 50.000,00

Nessa situação, considerando-se que a receita corrente líquida tenha sido de R\$ 1.500.000,00, é correto concluir que as despesas de pessoal superaram o limite permitido.

Com base nos preceitos da Lei n.º 4.320/1964, julgue os itens que se seguem.

71 As despesas com inativos diferenciam-se das despesas com pensionistas, pois apenas estas últimas caracterizam-se como transferências correntes, por não haver contraprestação direta em bens ou serviços.

72 As despesas que não sejam pagas no exercício e que tenham sido liquidadas ou apenas empenhadas são passíveis de inscrição em restos a pagar.

Considerando a legislação e os conceitos e aplicações da auditoria, julgue os seguintes itens.

73 A auditoria para verificação do cumprimento de obrigações fiscais pode ser exercida tanto por agentes do poder público como por profissionais contratados pela empresa, com ou sem vínculo empregatício, em caráter permanente ou não.

74 Considere que, em determinada instituição, a auditoria interna constate a ocorrência de erros ou a existência de fraudes que estejam levando à prática de impropriedades ou irregularidades. Nesse caso, não será preciso aguardar o final dos exames para a emissão de relatório parcial, que deverá ser entregue ao solicitante do trabalho.

75 Considere a seguinte situação.

Na avaliação do controle interno, o auditor verificou que, para cada cheque preparado, existia um *voucher* em que o pagamento era autorizado, mediante a anexação dos respectivos documentos comprobatórios. As assinaturas nos cheques e nos *vouchers* eram coincidentes e os documentos comprobatórios haviam sido inutilizados.

Nessa situação, é correto concluir que os controles internos eram satisfatórios.

76 Ao selecionar os devedores e credores da entidade sob exame para efeito de circularização, o auditor deve levar em conta alguns critérios, entre os quais se destacam os saldos individuais relevantes e os valores vencidos há mais tempo.

77 A evidência física, obtida em exame físico ou inspeção de ativos tangíveis, é considerada como geralmente muito confiável, mas o auditor pode não ter qualificação para determinar a qualidade, a condição ou o valor, tarefa que pode depender de um especialista.

78 Considere que, ao analisar o saldo de contas a pagar da empresa sob exame, o auditor tenha encontrado alguns saldos devedores, decorrentes de adiantamentos efetuados aos fornecedores. Nesse caso, o auditor deverá efetuar um lançamento de ajuste, a débito de contas a pagar e a crédito de adiantamentos a fornecedores.

79 O auditor interno pode realizar trabalhos de forma compartilhada com profissionais de outras áreas, caso em que assumirá a responsabilidade pelo trabalho do grupo, independentemente da habilitação dos seus participantes.

80 As expressões “exceto por”, “exceto quanto” e “com exceção de” são típicas do parecer com abstenção de opinião.

RASCUNHO

CONHECIMENTOS ESPECÍFICOS

A análise microeconômica estuda o comportamento individual dos agentes econômicos e, por essa razão, constitui um fundamento sólido à análise dos grandes agregados econômicos. A esse respeito, julgue os itens a seguir.

- 81** A descoberta de que o consumo de azeite de oliva contribui para elevar os níveis do bom colesterol desloca a curva de demanda por esse tipo de azeite para cima e para a direita.
- 82** O fato de que os ingressos de cinema costumam ser mais baratos no período vespertino é consistente com a idéia de que a elasticidade preço da demanda, nesse horário, é mais elevada quando comparada com as sessões noturnas após as 18 horas.
- 83** Supondo-se que os pais de um candidato ficarão igualmente satisfeitos se ele conseguir ser aprovado no vestibular da UnB ou naquele da USP, então, para essa família, as curvas de indiferença entre educação superior na universidade paulista ou na UnB são constituídas por linhas retas positivamente inclinadas.
- 84** De acordo com um estudo recente, a elasticidade renda da demanda de leite em pó, no Brasil, é negativa para todas as faixas de renda. Supondo-se que essa elasticidade esteja corretamente estimada, é possível afirmar que, para esse produto, o efeito renda reforça o efeito substituição.
- 85** Quando a função de produção é linear, tanto o produto médio como a produtividade marginal do fator trabalho são crescentes no nível de produção.
- 86** O fato de que construir e operar uma fábrica capaz de produzir diariamente 2.500 automóveis não exige 2,5 vezes mais trabalho, talento empresarial, equipamentos e espaço físico do que o necessário para produzir 1.000 automóveis explica-se pela existência de retornos crescentes de escala na indústria automobilística.
- 87** Quando a função de produção exhibe rendimentos decrescentes no insumo variável, o custo marginal aumenta com o volume produzido.
- 88** Em mercados organizados sob a forma de concorrência perfeita, a curva de demanda com a qual se confrontam as firmas que operam nesses mercados, a exemplo da curva de demanda de mercado, é negativamente inclinada.
- 89** A promoção de marcas conhecidas de medicamentos junto aos médicos que os receitam — de forma que esses profissionais sejam bem informados a respeito das características desses remédios — constitui um exemplo de poder de monopólio das marcas registradas, o que contribui para elevar os lucros das empresas que os fabricam.
- 90** A adoção de uma estrutura de preço colusiva em mercados oligopolistas é tanto mais provável quanto mais rápida for a inovação tecnológica e quanto mais diferenciados forem os produtos transacionados nesses mercados.
- 91** Uma das vantagens associadas ao paradigma E-C-D (Estrutura – Conduta – Desempenho) advém do fato de esse paradigma enfatizar a existência de diferenciais de lucratividade entre empresas em uma mesma indústria.

- 92** O fato de a maior participação no mercado aumentar o volume de vendas, reduzir os custos médios de produção e elevar a lucratividade da empresa é consistente com a existência de uma curva de experiência negativamente inclinada.
- 93** Uma cadeia de *fast food*, ao selecionar cuidadosamente os fornecedores de seus insumos, busca adquirir vantagens competitivas por meio da diferenciação de produto.

A teoria macroeconômica analisa o comportamento dos grandes agregados econômicos. Utilizando os conceitos básicos dessa teoria, julgue os itens que se seguem.

- 94** A alta do IBOVESPA em 2007, por elevar os níveis de investimento da economia brasileira, aumenta o Produto Interno Bruto (PIB) no Brasil.
- 95** As quotas de fundos de renda fixa, a exemplo dos depósitos de poupança, fazem parte do agregado monetário M2.
- 96** Aumentos da poupança pública deslocam a curva IS para baixo e para a esquerda, o que sinaliza, no curto prazo, redução da produção e do emprego.
- 97** A adoção de políticas monetárias restritivas para combater a inflação é mais eficaz quando a curva LM é perfeitamente inelástica em relação à taxa de juros.
- 98** A redução da alíquota do IPI que incide sobre bens de capital, que passará de 3,5% para 2%, anunciada recentemente pelo governo, se concretizada, provocará um deslocamento ao longo da curva de demanda agregada da economia brasileira e conduzirá à expansão do nível de atividade.
- 99** O fato de que, no longo prazo, aumentos da taxa de inflação não alteram a taxa de desemprego é consistente com a hipótese de uma curva de oferta agregada vertical.

Para a nova economia globalizada, o estudo da economia e das finanças internacionais é fundamental para o entendimento das regras que norteiam as transações entre países. A esse respeito, julgue os itens a seguir.

- 100** Tradicionalmente, no Brasil, a conta de serviços e renda, que integra a conta-corrente, é superavitária, o que contribui para reduzir os desequilíbrios externos.
- 101** A imposição de tarifas e quotas à importação, além de gerar perdas em termos de bem-estar, provoca, também, uma redistribuição de recursos em favor dos consumidores e em detrimento dos produtores.
- 102** A União Européia constitui exemplo de união econômica porque, além de estabelecer um mercado comum, ela inclui também a união monetária e a harmonização de algumas políticas econômicas, particularmente no que se refere às políticas macroeconômicas e regulatórias.

A ação do Estado é crucial para garantir a produção eficiente e equitativa de bens públicos, bem como de bens privados ofertados pelo setor público. Baseando-se nos princípios básicos da economia do setor público e das finanças públicas, julgue os itens subseqüentes.

- 103** A existência de bens públicos puros — não-excludentes e não-rivais — justifica a intervenção do Estado na economia, visto que esses bens não são eficientemente providos pelo setor privado.
- 104** Entre as desvantagens dos impostos cumulativos, encontra-se o fato de que esse tipo de imposto estimula, desnecessariamente, a integração vertical da produção.
- 105** As Necessidades de Financiamento do Setor Público (NFSP), no conceito operacional, representam a diferença entre as NFSP nominais e a atualização monetária incidente sobre a dívida líquida do setor público.
- 106** Aumentos do *superavit* primário e das taxas de juros contribuem para elevar a razão dívida/PIB para uma dada taxa de inflação.
- 107** Aumentos nas taxas de crescimento da economia contribuem para elevar o patamar de sustentabilidade da dívida pública, porque o crescimento permite elevar o endividamento do setor público sem aumentar a proporção da dívida em relação ao PIB.

A análise da economia mundial é fundamental para o entendimento da situação econômica brasileira atual. Acerca desse assunto, julgue os itens a seguir.

- 108** Além dos aumentos das tarifas aduaneiras, os mecanismos adotados para viabilizar a estratégia de desenvolvimento por meio da substituição de importações incluíram a adoção de uma política cambial que implicava desvalorização real do câmbio e controle do acesso às divisas mediante restrição de licenças à importação.
- 109** Na elaboração do II Plano Nacional de Desenvolvimento (PND), atendendo-se orientação de um capitalismo nacional com perfil liberal, foi reduzida, drasticamente, a participação do setor público nos investimentos realizados no âmbito desse plano.
- 110** No período 1974/1979, em resposta ao segundo choque do petróleo e à alta dos juros externos, que desencadearam a crise da dívida externa, a correção da taxa de câmbio e das tarifas públicas foi suficiente para debelar as pressões inflacionárias e reduzir o endividamento da economia brasileira.
- 111** O gatilho salarial, instituído pelo Plano Cruzado e desencadeado toda vez que a inflação ultrapassasse 20%, por ampliar a indexação, constituiu elemento de instabilidade nesse plano.

112 No âmbito das reformas da década passada, a renegociação dos passivos estaduais — que consistiu na federalização da dívida dos estados frente ao mercado, cuja contrapartida foi a colateralização das receitas futuras de transferências constitucionais — restringiu a capacidade de endividamento desses entes federativos, o que contribuiu para o necessário ajuste do setor público.

113 No período 1995-1998, embora a estabilização associada ao Plano Real tenha potencializado os benefícios da competição, os desequilíbrios — fiscal e externo — restringiram o crescimento do investimento e da produção.

114 Em virtude do elevado grau de endividamento externo do setor privado, a desvalorização cambial de 1999 implicou a redução substancial do patrimônio desse setor.

Em relação a questões de desenvolvimento econômico e social, julgue os itens subseqüentes.

115 No período 1960-1980, o aumento da desigualdade no Brasil foi acompanhado de reduções significativas do bem-estar social e de aumentos expressivos dos níveis de pobreza.

116 Na década passada, o melhor desempenho, em termos de PIB, coube, de fato, aos estados do Centro-Oeste, provavelmente em decorrência de maior inserção das suas exportações no mercado internacional.

117 O Índice de Desenvolvimento Humano (IDH) mensura o nível de desenvolvimento humano dos países e, para tal, leva em conta indicadores de educação e longevidade, porém, exclui a dimensão renda, já que essa dimensão já está contemplada no cômputo do PIB.

118 As agências de fomento estaduais, cujo objetivo é financiar capital fixo e de giro associados a projetos nos estados, podem praticar operações com recursos próprios e recursos provenientes de repasses originários de fundos constitucionais e dos orçamentos federal, estadual e municipal.

No que diz respeito às normas gerais de direito financeiro para elaboração e controle dos orçamentos e balanço nas diferentes esferas de governo, incluídas aquelas estabelecidas pela Lei Complementar n.º 101/2000 — Lei de Responsabilidade Fiscal (LRF) —, julgue os itens subseqüentes.

119 De acordo com a LRF, os municípios brasileiros não poderão gastar com pessoal mais do que 60% da receita corrente líquida, incluídas as despesas com indenização por demissão de servidores ou empregados.

120 A Lei n.º 4.320/1964 estabelece normas gerais para elaboração e controle dos orçamentos e balanços e a LRF fixa regras de finanças públicas voltadas para a responsabilidade na gestão fiscal.