



# MUNICÍPIO DE VITÓRIA

## SECRETARIA MUNICIPAL DE ADMINISTRAÇÃO (SEMAD)

**Concurso Público**  
Nível Superior



Aplicação: 13/1/2008

**Cargo 36: MÉDICO**

**Caderno LIMA**

**40 HORAS**  
**MANHÃ**

**LEIA COM ATENÇÃO AS INSTRUÇÕES ABAIXO.**

- 1 Confira atentamente se o tipo de caderno — Caderno LIMA — coincide com o que está registrado em sua folha de respostas. Em seguida, verifique se ele contém **CENTO E VINTE** itens, correspondentes às provas objetivas, corretamente ordenados de 1 a 120.
- 2 Caso o caderno esteja incompleto ou tenha qualquer defeito, solicite ao fiscal de sala mais próximo que tome as providências cabíveis.
- 3 Não utilize lápis, lapiseira (grafite), borracha e(ou) qualquer material de consulta que não seja fornecido pelo CESPE/UnB.
- 4 Não se comunique com outros candidatos nem se levante sem autorização do chefe de sala.
- 5 Recomenda-se não marcar ao acaso: cada item cuja resposta diverja do gabarito oficial definitivo receberá pontuação negativa, conforme consta em edital.
- 6 A duração das provas é de **quatro horas**, já incluído o tempo destinado à identificação — que será feita no decorrer das provas — e ao preenchimento da folha de respostas.
- 7 Você deverá permanecer obrigatoriamente em sala por, no mínimo, **uma hora** após o início das provas e poderá levar este caderno de provas somente no decurso dos últimos **quinze minutos** anteriores ao horário determinado para o término das provas.
- 8 Ao terminar as provas, chame o fiscal de sala mais próximo, devolva-lhe a sua folha de respostas e deixe o local de provas.
- 9 A desobediência a qualquer uma das determinações constantes do presente caderno ou da folha de respostas poderá implicar a anulação das suas provas.

**AGENDA (datas prováveis)**

- I 15/1/2008, após as 19 h (horário de Brasília) – Gabaritos oficiais preliminares das provas objetivas: Internet — [www.cespe.unb.br/concursos/pmvs2007](http://www.cespe.unb.br/concursos/pmvs2007)
- II 16 e 17/1/2008 – Recursos (provas objetivas): exclusivamente no Sistema Eletrônico de Interposição de Recurso. Internet, mediante instruções e formulários que estarão disponíveis nesse sistema.
- III 7/2/2008 – Resultado final das provas objetivas e convocações para a entrega da documentação para a avaliação de títulos e para a perícia médica de pessoas com deficiência: Imprensa Oficial do Município e Internet.

**OBSERVAÇÕES**

- Não serão objeto de conhecimento recursos em desacordo com o item 13 do Edital n.º 9 – PMV/NS, de 26/10/2007.
- Informações adicionais: telefone 0XX(51)3448-0100; Internet — [www.cespe.unb.br/concursos/pmvs2007](http://www.cespe.unb.br/concursos/pmvs2007).
- É permitida a reprodução deste material apenas para fins didáticos, desde que citada a fonte.

- De acordo com o comando a que cada um dos itens de **1 a 120** se refira, marque, na **folha de respostas**, para cada item: o campo designado com o código **C**, caso julgue o item **CERTO**; ou o campo designado com o código **E**, caso julgue o item **ERRADO**. A ausência de marcação ou a marcação de ambos os campos não serão apenadas, ou seja, não receberão pontuação negativa. Para as devidas marcações, use a **folha de respostas**, único documento válido para a correção das suas provas.
- Nos itens que avaliam **Noções de Informática**, a menos que seja explicitamente informado o contrário, considere que todos os programas mencionados estão em configuração-padrão, em português, que o *mouse* está configurado para pessoas destras e que expressões como clicar, clique simples e clique duplo referem-se a cliques com o botão esquerdo do *mouse*. Considere também que não há restrições de proteção, de funcionamento e de uso em relação aos programas, arquivos, diretórios e equipamentos mencionados.

## CONHECIMENTOS BÁSICOS

1 As capitais brasileiras perdem quase metade (45%)  
da água retirada dos mananciais em vazamentos de redes de  
abastecimento, fraudes e falhas de medição. Os 6,14 milhões  
4 de litros desperdiçados diariamente nas grandes cidades do  
país seriam suficientes para atender a 38 milhões de  
consumidores.

7 Os dados sobre as coberturas e desperdícios nas  
redes públicas de abastecimento de água e de saneamento  
estão reunidos em um estudo elaborado pelo Instituto  
10 Socioambiental (ISA). O estudo, inédito pela abrangência,  
ressalta a necessidade urgente de adoção de medidas para  
expandir as regiões de preservação ambiental e as redes de  
13 saneamento básico, assim como para conter a invasão de  
áreas de mananciais e recuperar aquelas que já foram  
degradadas em função da falta de planejamento urbano  
16 eficaz — o que acontece na maior parte das grandes cidades.  
O estudo recomenda, ainda, a intensificação dos esforços de  
educação ambiental, para que a população compreenda que  
19 também é responsável pela conservação da água.

O Estado de S.Paulo, 23/11/2007 (com adaptações).

Em relação às idéias e às estruturas lingüísticas do texto acima, julgue os itens a seguir.

- 1 A vírgula logo após “abastecimento” (l.3) é empregada para isolar expressão apositiva.
- 2 A expressão “seriam suficientes” (l.5) está no plural para concordar com “Os 6,14 milhões de litros” (l.3-4).
- 3 Subentende-se, logo após “como” (l.13), o segmento “a necessidade urgente de adoção de medidas”.
- 4 Depreende-se das informações do texto que a falta de planejamento urbano eficaz tem como consequência a degradação de áreas de mananciais.
- 5 O termo “para que” (l.18) pode, sem prejuízo para a informação original do texto, ser substituído por qualquer um dos seguintes: afim de que, de modo que, de forma que, contanto que.

1 Um longo período de bonança econômica e de farta  
liquidez internacional, melhoria nos indicadores de emprego,  
perspectivas de crescimento menos medíocre do que  
4 nos anos anteriores e uma redução consistente na  
desigualdade social devido a uma política mais universalista  
e sistemática de transferência de renda não devem obscurecer  
7 um fato que é uma miséria em si: o país é tão desigual,  
amargou tantos anos de estagnação econômica, concentrou  
tanta renda que qualquer melhora, com essa base de  
10 comparação, é relativa. Uma evolução consistente na  
redução da desigualdade depende de uma visão mais global,  
que contemple as chamadas “portas de saída” dos programas  
13 sociais, o desenvolvimento inclusivo e uma visão igualitária  
que também seja federativa.

Valor Econômico, 23/11/2007.

Julgue os itens que se seguem, relativos às idéias e às estruturas lingüísticas do texto acima.

- 6 Na linha 3, a eliminação de “do” após a palavra “mediocre” prejudica a correção gramatical do período.
- 7 A forma verbal “devem” (l.6) está no plural para concordar com o sujeito composto.
- 8 A expressão “amargou” (l.8) está sendo empregada no mesmo sentido que tem na frase: O refresco depois de algum tempo amargou.
- 9 O emprego da vírgula logo após “global” (l.11) justifica-se por isolar oração subordinada adjetiva explicativa.
- 10 A expressão “desenvolvimento inclusivo” (l.13) equivale a desenvolvimento interno.

1 Há hoje poucas dúvidas de que, na ausência de  
ações incisivas e permanentes, o planeta se tornará cada vez  
mais hostil à vida humana. A Conferência do Clima, da  
4 Organização das Nações Unidas (ONU), a ser realizada em  
Bali, em dezembro, está cercada pela urgência e pela  
necessidade e ameaçada pela politicagem e estreiteza de  
7 interesses econômicos. Movem-se em direções opostas  
os diagnósticos severos lançados pelo Painel  
Intergovernamental sobre Mudanças Climáticas (IPCC), que  
10 coloca as transformações ambientais no limiar da  
irreversibilidade, e a conduta dos principais países  
poluidores do mundo, na maior parte dos casos, negligente  
13 e desinteressada.

Diante da gravidade das ameaças, as metas do  
Protocolo de Kyoto se tornaram tímidas. O balanço feito  
16 pelo secretário-executivo da Convenção do Clima, da ONU,  
Yvo de Boer, indica que o objetivo de reduzir em 5,2% as  
emissões de gases nocivos à atmosfera, com base em 1990,  
19 será atingido em 2012.

*Idem, ibidem.*

Acerca das idéias e das estruturas lingüísticas do texto acima,  
julgue os itens seguintes.

- 11 Na linha 3, o sinal indicativo de crase em “à vida humana”  
justifica-se pela regência de “hostil”, que exige preposição,  
e pela presença de artigo definido feminino.
- 12 Depreende-se das informações do texto que os principais  
países poluidores do mundo são aqueles a que são atribuídas  
as ameaças de politicagem e de estreiteza de interesses  
econômicos para a Conferência do Clima, em Bali.
- 13 Os termos “cercada” (l.5) e “ameaçada” (l.6) estão no  
feminino singular porque concordam com “Conferência”  
(l.3).
- 14 O segundo período do texto — “A Conferência (...)”  
interesses econômicos” — está adequado para textos de  
correspondência oficial.
- 15 Em “se tornaram” (l.15), o “se” indica sujeito  
indeterminado.

1 Obter sucesso no tratamento de doenças  
consideradas incuráveis parecia sonho sem possibilidade de  
realização. Distrofia muscular, Alzheimer ou Parkinson são  
4 doenças que condenam as pessoas a carregá-las vida afora.  
Há cerca de 10 anos, acendeu-se uma luz no horizonte.  
Depois de décadas de pesquisa, cientistas anunciaram a  
7 descoberta da célula-tronco embrionária humana — capaz de  
se transformar em qualquer tipo de tecido. A novidade  
provocou reações. De um lado, juntaram-se fervorosos  
10 entusiastas. Eles viram na conquista arma capaz de vencer  
males sem esperança de recuperação. De outro, apaixonados  
opositores, que ergueram barreiras morais. Para eles, a vida  
13 humana começa na fecundação. Não se pode, pois, destruir  
os embriões em favor da pesquisa. Mais: o avanço dos  
estudos poderia levar à clonagem humana e à  
16 comercialização de órgãos.

A descoberta de método de produzir célula-tronco  
sem embrião reacende a esperança de se chegar com mais  
19 rapidez à cura de enfermidades e à criação de órgãos  
sobressalentes. Duas equipes independentes de cientistas  
(uma japonesa e outra norte-americana) conseguiram obter  
22 células-tronco a partir de tecido comum. A regressão celular,  
que dispensa clonagem, deve superar resistências éticas e  
religiosas.



*Correio Braziliense, 22/11/2007.*

Julgue os próximos itens, referentes às idéias e a aspectos  
gramaticais do texto acima.

- 16 O sujeito de “parecia” (l.2) é “tratamento” (l.1).
- 17 Na linha 4, o termo “-las”, em “carregá-las”, retoma o  
antecedente “doenças”.
- 18 Subentende-se, imediatamente antes da expressão  
“apaixonados opositores” (l.11-12), a forma verbal  
“juntaram-se”.
- 19 As ocorrências de “Eles” (l.10) e “eles” (l.12) têm o mesmo  
referente.
- 20 Subentende-se das informações do texto que a regressão  
celular, que parte de tecido comum para obter células-tronco,  
vai enfrentar argumentos contrários de fundo ético e  
religioso.






Considerando a figura acima, que mostra a janela do Word 2003, com parte de um texto extraído do sítio [www.vitoria.es.gov.br](http://www.vitoria.es.gov.br), julgue os seguintes itens.

- 21 Para se obter o sublinhado do título, utiliza-se a ferramenta .
- 22 O botão , na barra inferior da janela, permite iniciar a correção ortográfica do texto.
- 23 O texto pode ser copiado, sem prejuízo de formatação, para a célula A1 de uma planilha do Excel.





Com relação à segurança da informação e à figura acima, que mostra uma janela do Windows Explorer, executado em um computador cujo sistema operacional é o Windows XP, julgue os itens a seguir.

- 24 A pasta  Prefeitura possui 3 subpastas.
- 25 O arquivo contido na pasta  Orçamentos é um arquivo do Excel.
- 26 Para se fazer o *backup* da pasta  Prefeitura e de todo o seu conteúdo, é suficiente clicar com o botão direito do *mouse* sobre essa pasta e executar o programa WinZIP.
- 27 *Hijackers* são programas ou *scripts* que *seqüestram* navegadores de Internet, principalmente o Internet Explorer.






Considerando os conceitos de Internet e a figura acima, que mostra uma janela do Outlook Express com uma página do Internet Explorer 6, julgue os próximos itens.

- 28 Ao se acessar a página no Internet Explorer 6.0, é possível encaminhá-la usando-se o botão , conforme o exemplo da figura.
- 29 O campo  Coc deve ser utilizado para encaminhar *e-mail* com anexo em segurança.
- 30 Para se enviar o *e-mail* da figura, é necessário estar conectado à Internet, usando-se Plug and play.
- 31 No Internet Explorer 6, é possível configurar recursos de segurança, como, por exemplo, sítios confiáveis.



Considerando a figura acima, julgue os itens subsequentes, acerca do Excel 2003.

- 32 Considerando-se que o valor do IPVA é 10% do valor do ICMS, a fórmula para a execução desse cálculo é =10%\*B10.
- 33 O valor disponível pode ser calculado usando-se a ferramenta .
- 34 Para se formatar com estilo moeda a célula B10, é suficiente selecionar essa célula e clicar a ferramenta .
- 35 Pode-se alterar a cor da fonte das células mediante a utilização da ferramenta .

### Texto para os itens de 36 a 45

Com um deságio de 35% sobre o preço-teto de R\$ 122,00 por megawatt/hora, o governo federal licitou a usina hidrelétrica Santo Antonio, a primeira das duas usinas que compõem o complexo hidrelétrico do rio Madeira, em Rondônia. Santo Antonio é a terceira maior hidrelétrica prevista no Programa de Aceleração do Crescimento (PAC), atrás de Jirau e Belo Monte. “Esse leilão marca a retomada da participação de grandes projetos hidrelétricos na expansão do setor elétrico, o que reforça a vocação brasileira para a geração de energia limpa, renovável e de menor custo para o consumidor brasileiro”, avalia o ministro interino de Minas e Energia, Nelson Hubner.

Leilão do Madeira garante energia para o crescimento. Em questão, Secretaria de Comunicação Social da Presidência da República, n.º 579, 10/12/2007 (com adaptações).

Tomando o texto acima como referência inicial, julgue os itens que se seguem, relativos ao tema da energia no Brasil e no mundo.

- 36** Energia é um tema de interesse relativo dos Estados nacionais ante a crescente diversificação de oferta no mercado internacional.
- 37** A vulnerabilidade energética na parte meridional da América do Sul vem se apresentando como elemento limitante do crescimento econômico de países como a Argentina.
- 38** Empresas internacionais como a Gasprom, da Rússia, têm apresentado gerenciamento aberto, mas pouco estratégico, das grandes reservas de gás daquele país.
- 39** A água em movimento nos rios ou barrada por represas, fonte de energia renovável em hidrelétricas, é cada vez mais valorizada no mercado global.
- 40** A base nuclear da energia produzida no mundo amplia-se cada vez mais ante o esgotamento iminente do petróleo.

Julgue os seguintes itens, relativos à relação entre energia, preço e crescimento econômico no Brasil.

- 41** O deságio de 35% obtido pelo governo brasileiro no leilão da hidrelétrica de Santo Antonio tende a ser benéfico ao preço final da produção e distribuição da energia ao consumidor.
- 42** A imagem de um país que trabalha com energia limpa e renovável é um ganho político no mundo, reafirmada no primeiro leilão realizado para aproveitamento hidroelétrico do rio Madeira.
- 43** Na área de geração de energia elétrica, o Brasil ainda subestima as fontes não-fósseis como a hídrica, a eólica e a biomassa.
- 44** A descoberta de novas fontes de gás no Brasil na plataforma marítima brasileira causou regozijo à sociedade e ao governo.
- 45** A manutenção do crescimento econômico brasileiro na proporção dos países emergentes exige oferta segura e proporcional de energia nos próximos anos.

A América do Sul, região na qual o Brasil se vincula ao meio internacional por sua geografia e história, é objeto de grande debate no país. A respeito desse tema, julgue os itens que se seguem.

- 46** Dotada de países com baixa capacidade de interferir na construção de normas internacionais, uma saída plausível para a América do Sul participar das coisas do mundo é o programa de integração regional.
- 47** O Brasil, país que possui fronteira com todos os países da América do Sul, tem levado adiante, sem ressalvas internas, o programa de integração.
- 48** A Venezuela, já parte integrante do MERCOSUL, teve sua adesão plenamente ratificada pelo Congresso Nacional do Brasil.
- 49** A Argentina, com nova presidente, a única mulher com tal responsabilidade na América do Sul, já iniciou agenda de cooperação importante com o Brasil.
- 50** A Venezuela, na qual proposta de reforma constitucional foi rejeitada em referendo pela população, é país estratégico para a integração energética na América do Sul.

## CONHECIMENTOS COMPLEMENTARES

Acerca da história natural das doenças, segundo o modelo de Laevell e Clark, julgue os itens a seguir.

- 51 A história natural da doença compreende as inter-relações entre o agente, o suscetível e o meio ambiente.
- 52 No processo do adoecimento, o homem está presente tanto como gerador de condições favorecedoras do adoecimento quanto como vítima do contexto de agressão à saúde.
- 53 Na concepção epidemiológica da história natural da doença, a descrição dos fatores ambientais é feita de forma semelhante à da ecologia, englobando, exclusivamente, os ambientes físico e biológico.
- 54 O período de patogênese da história natural da doença inicia-se com os primeiros sintomas apresentados pelo paciente.
- 55 A utilização de inquéritos para se descobrirem casos novos de doenças na comunidade é classificada como medida de prevenção primária.

Acerca da reforma sanitária e dos modelos de assistência à saúde, julgue os itens que se seguem.

- 56 A reforma sanitária brasileira deve ser entendida como um movimento de reforma setorial que, promovido pelo segmento ligado à saúde, engloba as ações dessa natureza.
- 57 Entre as intervenções propostas pela reforma sanitária para a reorientação do sistema de serviços de saúde no Brasil, consta o desenvolvimento de recursos de saúde, incluídos os recursos materiais e humanos, além da gestão do sistema.
- 58 Em face da desestruturação do sistema de saúde pública, propõe-se, na reforma sanitária, o financiamento misto para os hospitais públicos, com verbas governamentais e receitas decorrentes do atendimento a pacientes particulares e convênios.
- 59 O modelo assistencial sanitário tem por base as campanhas sanitárias.
- 60 Em um modelo assistencial alternativo, podem-se integrar tanto a demanda espontânea de atendimento quanto a busca ativa de casos de determinado agravo à saúde.

Acerca da legislação e regulamentação do Sistema Único de Saúde (SUS), julgue os itens de 61 a 68.

- 61 O SUS é financiado exclusivamente com recursos do orçamento da seguridade social, da União, dos estados, do Distrito Federal (DF) e dos municípios.
- 62 Conforme determinado pela Emenda Constitucional n.º 29/2000, foi promulgada lei que deve ser revista anualmente e que define os recursos mínimos a serem aplicados pela União, pelos estados, pelo DF e pelos municípios em ações e serviços públicos de saúde.
- 63 Compete ao SUS executar as ações de vigilância sanitária e epidemiológica, bem como as de saúde do trabalhador.
- 64 De acordo com a legislação vigente no Brasil, a alimentação, a moradia, o saneamento básico, o meio ambiente, o trabalho, a renda, a educação, o transporte, o lazer e o acesso aos bens e serviços essenciais são fatores determinantes e condicionantes da saúde.

65 A direção do SUS é única, sendo centralizada por órgãos específicos em cada esfera de governo.

66 O SUS conta, em cada esfera de governo, com duas instâncias colegiadas — conferência de saúde e conselho de saúde —, ambas com caráter permanente e deliberativo.

67 Os conselhos de saúde, compostos por representantes do governo, prestadores de serviço, profissionais de saúde e usuários, atuam na formulação de estratégias e no controle da execução da política de saúde na instância correspondente, inclusive em relação a aspectos econômicos e financeiros. Suas decisões são homologadas pelo chefe do poder legalmente constituído em cada esfera do governo.

68 O processo de articulação entre os gestores, nos diferentes níveis do SUS, ocorre, preferencialmente, em dois colegiados de negociação: a Comissão Intergestores Tripartite (CIT) e a Comissão Intergestores Bipartite (CIB).

Acerca da metodologia dos estudos epidemiológicos e dos indicadores de saúde na população, julgue os itens a seguir.

69 Um estudo que vise a detectar o número dos casos de dengue que se desenvolvem em determinada população acompanhada durante um ano é classificado como uma coorte prospectiva.

70 Os estudos analíticos visam a testar hipóteses, que relacionam eventos para aferir correlações de causalidade.

71 O coeficiente de mortalidade geral consiste no número total de óbitos em determinado período dividido pela população total no início de tal período, multiplicado pela base 1.000.

72 A Pesquisa Nacional por Amostra de Domicílios (PNAD), inquérito que visa a definir dados de saúde pública, com amostra probabilística, é realizada concomitantemente com os censos demográficos, a cada 10 anos.

73 A imunização de todas as crianças contra difteria, tétano, coqueluche e pólio é um indicador de efetividade dos serviços de saúde recomendado pela OMS para acompanhar os progressos em direção à meta de se alcançar saúde para todos.

Julgue os itens subseqüentes, que tratam dos sistemas de informação em saúde no Brasil.

**74** A mensuração do estado de saúde da população, que é uma tradição em saúde pública, teve seu início com o registro sistemático de dados de mortalidade e de sobrevivência. Com os avanços no controle das doenças infecciosas e a melhor compreensão do conceito de saúde e de seus determinantes populacionais, a análise da situação sanitária passou a incorporar outras dimensões do estado de saúde.

**75** A principal crítica ao Indicadores e Dados Básicos para a Saúde (IDB) é o fato de que os indicadores apresentados não podem ser desagregados por categorias.

**76** O Sistema de Informações sobre Mortalidade (SIM) oferece a gestores de saúde, pesquisadores e entidades da sociedade informações relevantes para a definição de prioridades nos programas de prevenção e controle de doenças, a partir das declarações de óbito coletadas pelas secretarias municipais de saúde.

**77** O Sistema de Informações de Nascidos Vivos (SINASC), que fornece dados como sexo do bebê, local onde ocorreu o nascimento, tipo de parto, peso ao nascer e nome dos pais, foi criado em 1999 e contém dados coletados a partir de 2000.

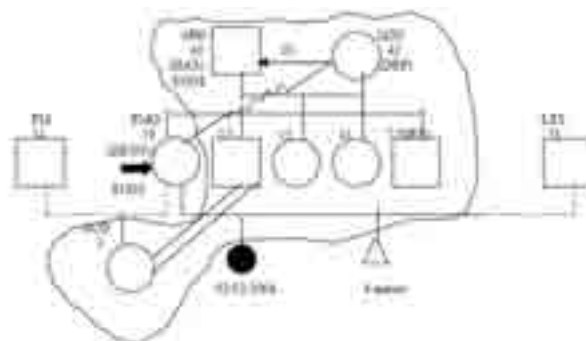
Acerca da educação em saúde, que é de fundamental importância para o campo do sanitarismo, julgue os próximos itens.

**78** De acordo com o Ministério da Saúde, educar e aprender em saúde devem constituir um processo contínuo de indagação, reflexão, questionamento e, principalmente, de construção coletiva, articulada e compartilhada.

**79** Segundo o regramento vigente, o financiamento da Política Nacional de Educação Permanente em Saúde se realiza por meio do Bloco de Gestão do Pacto pela Saúde, com repasse de verbas regular e automático, fundo a fundo.

**80** Para Vygotsky, o processo de aprendizagem consiste, prioritariamente, em preparar o indivíduo moral e intelectualmente para assumir sua posição na sociedade, relevando-se o cotidiano para o plano secundário.

## CONHECIMENTOS ESPECÍFICOS



Legenda:  
■ indivíduo-índice    □ gênero masculino    ○ gênero feminino  
● aborto    → relação de domínio    = relações muito próximas  
--- relação distantes    ~~~ relações conflituosas    △ gravidez

R.M.R. Bastos *et al.* Internet: <www.nates.ufjf.br.pdf> (com adaptações).

Com referência ao diagrama mostrado na figura acima, julgue os itens a seguir.

**81** O diagrama em questão representa um genograma familiar, também conhecido como ecomapa.

**82** O diagrama mostrado detalha a estrutura e o histórico familiar, dá informações sobre os vários papéis de seus membros e das diferentes gerações; fornece as bases para a discussão e análise das interações familiares.

**83** A elaboração desse diagrama requer entrevista clínica extensiva e contínua, visando coletar e atualizar dados e informações relativas à família em seus diferentes ciclos de vida.

**84** A construção desse tipo de diagrama é de particular interesse nas situações de ansiedade crônica, depressão, ataques de pânico, consumo de drogas, violência doméstica e sexual e nos problemas de comportamento infantil, por exemplo.

**85** Uma das desvantagens desse tipo de diagrama é o efeito Rashomon — que expressa o fato de essa técnica ser estática no tempo —, funcionando como uma fotografia das relações familiares com data definida.

Em contexto amplo a família representa duas ou mais pessoas que vivem (geralmente) em um mesmo domicílio, têm vínculos emocionais ou afetivos e desempenham tarefas sociais inter-relacionadas. Com relação aos ciclos vitais, à estrutura, à dinâmica e às crises previsíveis no desenvolvimento da família, julgue os itens de **86** a **91**.

**86** As etapas de desenvolvimento da vida, pelas quais a família passa ao longo do tempo, com problemas previsíveis e tarefas específicas a serem realizadas, representam o ciclo vital da família.

**87** São exemplos de crises previsíveis no desenvolvimento familiar: o casamento, o nascimento do primeiro filho e o desemprego.

**88** No momento em que o(s) filho(s) começa(m) a sair de casa, deixando seus pais sozinhos (vivendo a crise da meia-idade e a expectativa da morte de seus próprios pais), inicia-se a crise previsível de desenvolvimento familiar denominada ruptura familiar tardia.

- 89** Famílias nucleares, em processo de separação, ampliadas e monoparentais representam exemplos de diferentes tipos de estruturas familiares.
- 90** Na relação do casal, a função conjugal pode ter três formas básicas: a vital, a desvitalizada e a conflituosa.
- 91** Com relação à divisão do poder entre o casal, nos relacionamentos saudáveis o ideal é que haja o fenômeno de ação por fusão, em que os cônjuges agem como se fossem um só, negando as diferenças existentes e mantendo a estabilidade do casal.

Acerca da visita domiciliar, julgue os itens seguintes.

- 92** É o conjunto de ações sistematizadas para tornar viável o cuidado a pessoas com algum nível de alteração no estado de saúde (dependência física ou emocional) ou para realizar atividades vinculadas aos programas de saúde.
- 93** É o instrumento de realização da assistência domiciliar, que, por sua vez, se caracteriza pela realização de todo e qualquer atendimento em domicílio realizado por profissionais que integram a equipe de saúde.

Em relação à assistência à mulher gestante e no puerpério, julgue os itens que se seguem.

- 94** Rastrear indicadores de risco gestacional, realizar imunizações, aconselhar e prover intervenção terapêutica obstétrica são exemplos de objetivos fundamentais do acompanhamento pré-natal.
- 95** Caso uma gestante de 25 anos de idade relate, em sua primeira consulta de pré-natal, que a data da sua última menstruação tenha sido 15 de abril de 2007, será correto concluir que a data provável de seu parto será 22 de dezembro de 2007.
- 96** Estudos clínicos randomizados indicam que a indução de trabalho de parto nas gestantes que completam 41 semanas de gestação é conduta preferível à avaliação seriada do bem-estar fetal (por meio do índice do líquido amniótico e da monitorização cardíaca fetal).
- 97** Ensaio clínico randomizado têm demonstrado grande benefício — redução da mortalidade materna e perinatal, da necessidade de tratamento intensivo para o recém-nascido e da incidência de baixo peso de nascimento — no emprego rotineiro de ultra-sonografia obstétrica em mulheres com menos de 24 semanas de gestação.
- 98** No puerpério imediato, não deve ser realizada a deambulação precoce, pois essa conduta, além de aumentar a incidência de complicações hemorrágicas, não altera o risco de tromboembolismo venoso puerperal.
- 99** Após o parto, enquanto a mulher estiver realizando amamentação exclusiva e em amenorréia, ela não tem qualquer possibilidade de engravidar.
- 100** Os ensaios clínicos randomizados indicam que o período associado a menor incidência de complicações (especialmente infecções) para o reinício da atividade sexual após o parto é de 2 meses (conforme a disposição do casal).

Julgue os itens subseqüentes, relativos aos cuidados que devem ser dados aos recém-nascidos e lactentes.

- 101** A descamação transitória do tipo furfurácea, que usualmente ocorre após o décimo dia de vida do recém-nascido e que melhora em aproximadamente duas semanas, é denominada miliária ou sudâmina.
- 102** A persistência do coto umbilical por um período maior do que 30 dias pode estar associada a alteração na função dos neutrófilos ou a intensa contaminação bacteriana.
- 103** Atualmente, recomenda-se o tratamento cirúrgico da criptorquidia após os 3 anos de idade.
- 104** A hérnia inguinal predominante na infância é a indireta, que ocorre com maior freqüência nos meninos que nas meninas e tem seu encarceramento como uma complicação comum.

Procedimento cirúrgico que não necessita de internação hospitalar no perioperatório é considerado cirurgia ambulatorial — esse tipo de procedimento é normatizado pelo Conselho Federal de Medicina. Acerca desse tipo de ato cirúrgico e assuntos relacionados, julgue os itens seguintes.

- 105** Para um paciente ser considerado para uma cirurgia ambulatorial, ele não pode ter qualquer comprometimento sistêmico (leve, moderado ou grave), seja pela doença que demanda o ato cirúrgico, seja por outras doenças gerais, mesmo que compensadas.
- 106** Esterilização é o processo no qual há destruição completa de todos os microrganismos (inclusive esporos) dos materiais que irão entrar em contato com o campo operatório, que é realizado por meio de agentes físicos ou químicos.
- 107** Anestesia tópica, infiltração local, bloqueio de campo e anestesia de condução (troncular, peridural e raquianestesia) são tipos de anestesia regional.
- 108** As unidades que realizam cirurgias ambulatoriais devem garantir assistência, após a alta dos pacientes, devido à possibilidade de ocorrência de complicações, durante 24 horas por dia, obrigatoriamente, em estrutura própria, segundo a regulamentação vigente.



Cada um dos itens subseqüentes apresenta um caso clínico hipotético, seguido de uma proposta de diagnóstico principal, que deve ser julgada.

- 109** Uma criança de 6 anos de idade teve febre de 38,5 °C associada a um exantema de aspecto maculopapular, com distribuição centrípeta e, após algumas horas passou a apresentar aspecto vesicular, que evoluíram para pústulas e, posteriormente formaram crostas em 3 a 4 dias; as lesões eram polimórficas (isto é, apresentaram-se nas várias formas evolutivas simultaneamente) e pruriginosas. Nesse caso clínico, deve-se considerar como diagnóstico principal o sarampo.
- 110** Uma criança de 5 anos de idade apresentou febre por 4 dias, associada a tosse produtiva, corrimento seromucoso do nariz e conjuntivite, e, no seu exame físico, foram constatadas pequenas manchas brancas com halo eritematoso na altura dos pré-molares. Seqüencialmente, a criança apresentou exantema maculopapular, de cor avermelhada, com distribuição no sentido craniocaudal, que se iniciava na região retroarticular e na face e, três dias depois, estendeu-se ao tronco e às extremidades, persistindo por 6 dias. Nesse caso clínico, deve-se considerar varicela como diagnóstico principal.

Acerca do uso de imunobiológicos (vacinas), que representa uma das medidas mais relevantes de prevenção em saúde, julgue os itens a seguir.

- 111** Em princípio, pacientes com imunodeficiência congênita (ou adquirida) e com neoplasia maligna não devem receber vacinas com componentes vivos atenuados (bactérias ou vírus).
- 112** Os mais prevalentes eventos adversos associados ao uso de vacinas são: dor, edema, eritema, enduração no local da aplicação, febre e anafilaxia.

Segundo a Organização Mundial de Saúde, a adolescência é um período do desenvolvimento humano que se estende dos 10 aos 19 anos e é marcado por grandes alterações biopsicossociais. Com respeito aos problemas clínicos que ocorrem nessa fase do desenvolvimento humano, julgue os itens seguintes.

- 113** Uma queixa freqüente dos adolescentes é o atraso do desenvolvimento puberal que pode decorrer de produção insuficiente de hormônio hipotalâmico liberador das gonadotrofinas (GnRH), causando variados padrões de secreção de GnRH.
- 114** As acnes dos tipos comedoniana e papulopustular podem ser tratadas por meio da aplicação de agentes tópicos como o ácido retinóico e os antibióticos, por exemplo.

Dados norte-americanos mostram que a hipertensão arterial sistêmica tem uma incidência que varia entre 10% e 15% nas primigrávidas. Com referência a esse tema, julgue os itens que se seguem.

- 115** Diretrizes nacionais e internacionais recentes têm recomendado que, em gestantes, o diagnóstico de hipertensão arterial sistêmica seja dado quando os valores da pressão arterial forem maiores ou iguais a 130 mmHg × 85 mmHg.
- 116** Gestantes que apresentam hipertensão arterial crônica grave devem ser tratadas preferencialmente com inibidores da enzima conversora de angiotensina, pois esse grupo de medicamentos promove proteção da função renal e melhora o fluxo sanguíneo uteroplacentário.
- 117** Como regra geral nas gestantes, para a aferição da pressão arterial diastólica pelo método auscultatório, deve-se considerar o desaparecimento dos sons de Korotkoff (fase V).
- 118** Quando pacientes com pré-eclâmpsia ou eclâmpsia apresentam, nos exames laboratoriais: hemácias fragmentadas no sangue periférico (hemólise microangiopática), plaquetopenia, elevação de transaminases e de desidrogenase láctica e hiperbilirrubinemia deve-se considerar como diagnóstico principal a síndrome HELLP.

O termo medicina baseada em evidências refere-se ao uso consciente, explícito e judicioso das melhores evidências científicas disponíveis com vistas à tomada de decisões (propedêuticas ou terapêuticas) relacionadas com o ato de cuidar dos pacientes. Com referência a esse tema, julgue os itens subseqüentes.

- 119** A sensibilidade de um teste diagnóstico é definida como a probabilidade de o teste gerar um resultado positivo, dado que o indivíduo é portador da doença, ou seja, é a capacidade que determinado teste diagnóstico tem de detectar os casos positivos da doença.
- 120** Diretrizes (também denominadas de revisões sistemáticas) são revisões da literatura médica que utilizam técnicas específicas e explícitas de identificação de pesquisas originais e de análise de dados da literatura com vistas a evitar (ou pelo menos mitigar) os vieses que podem desvirtuar os resultados.

