



GOVERNO DO ESTADO DO PARÁ
SECRETARIA DE ESTADO DE ADMINISTRAÇÃO (SEAD)
UNIVERSIDADE DO ESTADO DO PARÁ (UEPA)

Concurso Público

Cargo **17**

Nível Superior Técnico

Formação: **FISIOTERAPIA**

MANHÃ

Aplicação: 2/3/2008

LEIA COM ATENÇÃO AS INSTRUÇÕES ABAIXO.

- 1 Ao receber este caderno, verifique se ele contém quarenta questões, correspondentes às provas objetivas, corretamente ordenadas de 1 a 40.
- 2 Caso o caderno esteja incompleto ou tenha qualquer defeito, solicite ao fiscal de sala mais próximo que tome as providências cabíveis, pois não serão aceitas reclamações posteriores.
- 3 Não utilize lápis, lapiseira (grafite), borracha e (ou) qualquer material de consulta que não seja fornecido pelo CESPE/UnB.
- 4 Não se comunique com outros candidatos nem se levante sem autorização do chefe de sala.
- 5 A duração das provas é de **três horas e trinta minutos**, já incluído o tempo destinado à identificação — que será feita no decorrer das provas —, e ao preenchimento da folha de respostas.
- 6 Você deverá permanecer obrigatoriamente em sala por, no mínimo, **uma hora** após o início das provas e poderá levar este caderno de provas somente no decurso dos últimos **quinze minutos** anteriores ao horário determinado para o término das provas.
- 7 Ao terminar as provas, chame o fiscal de sala mais próximo, devolva-lhe a sua folha de respostas e deixe o local de provas.
- 8 A desobediência a qualquer uma das determinações constantes no presente caderno ou na folha de respostas poderá implicar a anulação das suas provas.

AGENDA (datas prováveis)

- I **4/3/2008**, após as 19 h (horário de Brasília) – Gabaritos oficiais preliminares das provas objetivas: Internet — www.cespe.unb.br/concursos/uepa2007.
- II **5 e 6/3/2008** – Recursos (provas objetivas): exclusivamente no Sistema Eletrônico de Interposição de Recurso, Internet, mediante instruções e formulários que estarão disponíveis nesse sistema.
- III **3/4/2008** – Resultado final das provas objetivas e convocações para a avaliação de títulos e entrega de documentos para desempate de nota final: Diário Oficial do Estado do Pará e Internet.

OBSERVAÇÕES

- Não serão objeto de conhecimento recursos em desacordo com o item 12 do Edital n.º 1 – SEAD/UEPA, de 29/11/2007.
- Informações adicionais: telefone 0(XX) 61 3448-0100; Internet — www.cespe.unb.br/concursos/uepa2007.
- É permitida a reprodução deste material apenas para fins didáticos, desde que citada a fonte.

- Nas questões de **1 a 40**, marque, em cada uma, a única opção correta, de acordo com o respectivo comando. Para as devidas marcações, use a **folha de respostas**, único documento válido para a correção das suas provas.
- Nas questões que avaliam **Noções de Informática**, a menos que seja explicitamente informado o contrário, considere que todos os programas mencionados estão em configuração-padrão, em português, que o *mouse* está configurado para pessoas destros e que expressões como clicar, clique simples e clique duplo referem-se a cliques com o botão esquerdo do *mouse*. Considere também que não há restrições de proteção, de funcionamento e de uso em relação aos programas, arquivos, diretórios e equipamentos mencionados.

CONHECIMENTOS BÁSICOS

Texto para as questões de 1 a 8

Tempo e artista

- 1 Imagino o artista num anfiteatro
Onde o tempo é a grande estrela
Vejo o tempo obrar a sua arte
- 4 Tendo o mesmo artista como tela
Modelando o artista ao seu feitio
O tempo, com seu lápis impreciso
- 7 Põe-lhe rugas ao redor da boca
Como contrapesos de um sorriso
- Já vestindo a pele do artista
- 10 O tempo arrebatou-lhe a garganta
O velho cantor subindo ao palco
Apenas abre a voz, e o tempo canta
- 13 Dança o tempo sem cessar, montando
O dorso de exausto bailarino
Trêmulo, o ator recita um drama
- 16 Que ainda está por ser escrito
- No anfiteatro, sob o céu de estrelas
Um concerto eu imagino
- 19 Onde, num relance, o tempo alcance a glória
E o artista, o infinito.

Chico Buarque de Holanda. **Paratodos**.
SONOPRESS, BMG, Ariola Discos Ltda.

QUESTÃO 1

Considerando as idéias do texto, é correto afirmar que o autor

- A apresenta o tempo como um inimigo implacável da carreira do artista.
- B mostra divergências existentes entre a imaginação do artista e a ação do tempo.
- C relata acontecimentos vividos por um artista através dos tempos.
- D sustenta que, na sua imaginação, a estrela do espetáculo é o tempo, e não o artista.

QUESTÃO 2

Assinale a opção em que o pronome “lhe” **não** tem o mesmo sentido que em: “O tempo arrebatou-lhe a garganta” (v.10).

- A Afagou-lhe os cabelos com amor.
- B A luz sempre lhe afugenta o sono.
- C O marido sempre lhe nega a resposta.
- D Ajeitou-lhe o colar e saiu mansamente.

QUESTÃO 3

O processo de formação da palavra “anfiteatro” (v.1 e 17) é denominado

- A composição por justaposição.
- B derivação imprópria.
- C derivação prefixal.
- D derivação parassintética.

QUESTÃO 4

Assinale a opção em que o verbo **arrebatou** apresenta o mesmo sentido que ocorre em “O tempo arrebatou-lhe a garganta” (v.10).

- A A atriz arrebatou a cena e dançou.
- B A beleza do lugar arrebatou sua alma.
- C A interpretação do pianista arrebatou aplausos.
- D Flores frágeis, o vento as arrebatou.

QUESTÃO 5

Na segunda estrofe, o pronome “lhe” em “Põe-lhe rugas ao redor da boca” está empregado em referência a

- A “artista”.
- B “feitio”.
- C “tempo”.
- D “lápis”.

QUESTÃO 6

O autor empregou o pronome relativo “Onde” (v.19) para se referir à palavra “concerto” (v.18). Assinale a opção em que o pronome relativo “onde” foi usado de acordo com a escrita culta padrão.

- A São pessoas desonestas, pessimistas e individualistas, onde só pensam nelas mesmas.
- B Por ser interesseiro, casou-se com a rica filha do vizinho onde mais tarde se separou.
- C As mulheres procuram o caminho mais largo, onde são menos numerosos os espinhos.
- D Depois de muito refletir, decidiu ser padre onde foi morar num seminário.

QUESTÃO 7

O termo em destaque, em “Que ainda está por ser **escrito**” (v.16), classifica-se como

- A substantivo.
- B adjetivo.
- C advérbio.
- D verbo.

QUESTÃO 8

De acordo com o contexto, em “E o artista, o infinito” (v. 20), a vírgula marca a elipse do verbo

- A imaginar.
- B alcançar.
- C divisar.
- D lobrigar.

Texto para as questões 9 e 10

O Brasil, ao adensar presença econômica na América do Sul por meios múltiplos — da internacionalização das empresas aos investimentos produtivos e à exportação de produtos com valor agregado, todos fatores nucleares ao entendimento da celebrada folga cambial e redução de vulnerabilidade externa —, não esperava colher apenas louros e palmas dos vizinhos. Há tensões no *front*. Há choques de interesses, valores e idéias.

José Flávio Sombra Saraiva. **Uma política à altura dos desafios.**
In: **Folha de S.Paulo**, 15/12/2007, p. 3 (com adaptações).

QUESTÃO 9

Tomando o texto como referência inicial, assinale a opção correta no que concerne ao papel do Brasil na América do Sul.

- Ⓐ O país vem conseguindo impor suas visões de mundo sem contestações dos vizinhos.
- Ⓑ A força do Brasil no seu entorno decorre da capacidade econômica e política de empreender projetos produtivos voltados para a integração.
- Ⓒ A internacionalização das empresas brasileiras na região tem um papel nefasto aos projetos de desenvolvimento locais.
- Ⓓ O Brasil possui poder proporcional ao da Alemanha e da França em capacidade de patrocinar os custos totais da integração na região, sem riscos de debates internos e com recursos para bancá-los.

QUESTÃO 10

Ainda considerando o texto como referência inicial, assinale a opção correta.

- Ⓐ A Amazônia, por estar no coração do centro-norte da América do Sul, é área de grande interesse para a integração da região.
- Ⓑ A Amazônia brasileira, incluída nos novos projetos de investimento energético, como o primeiro leilão para construção de hidrelétrica no rio Madeira, é a área mais dinâmica de integração sul-americana.
- Ⓒ A integração sul-americana caminha sem sustos e crises de valores e políticas.
- Ⓓ A força do empreendimento sul-americano tem no tema do desenvolvimento sustentável seu eixo estrutural e condição primeira para a aproximação das sociedades envolvidas no esforço de adensamento nas relações internacionais da região.

QUESTÃO 11

Assinale a opção correta relativamente aos problemas e questões que envolvem o contexto amazônico.

- Ⓐ A questão indígena, embora relevante por envolver seres humanos, está bem resolvida e não causa preocupações aos governos subnacionais e nacional.
- Ⓑ O problema fundiário apresenta baixa vinculação com a questão ambiental.
- Ⓒ A exploração ilegal de madeiras do conjunto rico da biodiversidade da região e dos minérios é matéria de grande preocupação dos habitantes da região e do Brasil.
- Ⓓ A produção de conhecimento científico de ponta e tecnológico acerca dos temas amazônicos é controlada pelos centros científicos e pelas universidades da região.

QUESTÃO 12

O crescimento econômico do Brasil é tema da ordem do dia. Novos elementos vêm sendo agregados pelos órgãos públicos e privados de pesquisa no final de 2007 e início de 2008. Assinale a opção correta relativamente a esse tema.

- Ⓐ Quanto à paridade do poder de compra do real, o Brasil, segundo o Banco Mundial, é a sexta economia do mundo, de acordo com os dados de 2005.
- Ⓑ O Brasil de 2007 manteve o grau de crescimento pífio do PIB do ano anterior.
- Ⓒ O Brasil, apesar do crescimento notado nos anos recentes, diminuiu seu peso relativo na economia latino-americana.
- Ⓓ O Brasil é a economia emergente que mais cresce nos últimos anos, particularmente quando comparada às economias da China e da Índia.

QUESTÃO 13

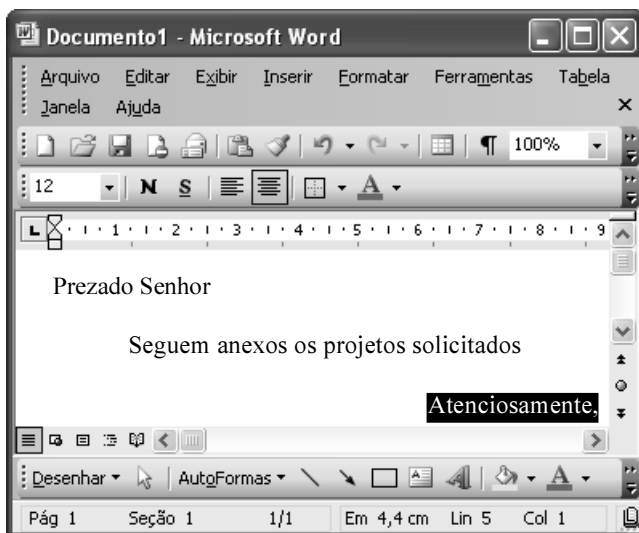
As relações entre sociedade e educação, no Brasil contemporâneo, reúnem aspectos positivos e negativos. A respeito desse tema, assinale a opção correta.

- Ⓐ A educação de melhor qualidade, embora se concentre na oferta para classes sociais mais elevadas, não interfere no destino social dos educandos.
- Ⓑ A educação básica atende, de forma universal, a todos os que dela necessitam, com qualidade equivalente, em todas as partes do país, nos estabelecimentos públicos e privados.
- Ⓒ As universidades públicas federais contribuem modestamente para o desenvolvimento nacional e para a produção de pesquisa científica das ciências básicas.
- Ⓓ A formação do cientista brasileiro vem progredindo quantitativamente, quando comparada à de uma década atrás.


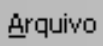

QUESTÃO 14

Acerca do sistema operacional Windows XP, assinale a opção correta.

- A O Painel de controle possibilita configurar som e vídeo do computador.
- B O Windows Explorer é um programa usado para a edição de imagens e permite defini-las como papel de parede.
- C O *backup* do Windows XP é um programa que permite compactar arquivos em diversos formatos.
- D A opção Executar do *menu* Iniciar executa automaticamente os programas definidos como favoritos no momento da iniciação do computador.

QUESTÃO 15






Considerando a janela do Word 2003 exibida na figura acima e as características do Microsoft Office, assinale a opção correta.

- A A palavra **Atenciosamente,** está alinhada à direita na página.
- B Ao se clicar a ferramenta , a palavra selecionada ficará em negrito.
- C Para definir o formato da página deve ser selecionada a opção Configurar página do menu .
- D Ao se clicar a ferramenta , o texto selecionado ficará subscrito.

QUESTÃO 16

	A	B
1	Mês	Número de Usuários
2	Janeiro	2345
3	Fevereiro	2700
4	Março	3200
5	Abril	4235
6	Maio	5640
7	Junho	6543
8	Julho	6978
9	Total Semestre	31641

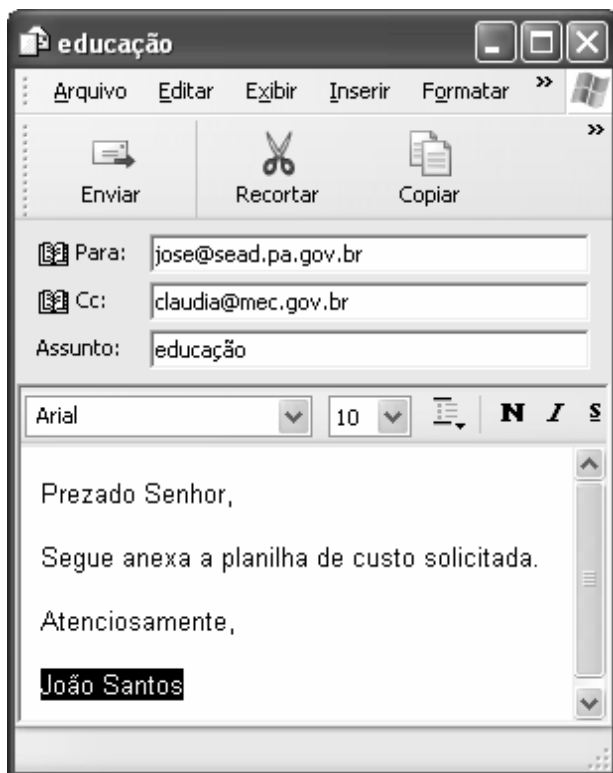
Considerando a figura do BrOffice Calc exibida acima, assinale a opção correta.

- A Para se calcular o total do semestre é possível que foram executados os seguintes procedimentos: clicar a célula B9; clicar a ferramenta ; pressionar a tecla .
- B Para se mover uma célula é suficiente clicar a ferramenta  e arrastá-la.
- C A ferramenta  permite salvar o documento em edição.
- D Ao se clicar a ferramenta , serão definidas cores para o fundo das células.




QUESTÃO 17

Considerando os conceitos de Internet e o navegador Internet Explorer 6 (IE6), assinale a opção correta.

- A *Download* é um tipo de conexão rápida e segura da Internet.
- B No endereço www.sead.pa.gov.br, o termo pa.gov indica que se trata de um sítio do governo do estado do Pará e .br indica que é um sítio do Brasil.
- C Uma característica importante do IE6 é a existência de mecanismos de segurança avançados contra todo tipo de vírus.
- D *Upload* é um serviço de antivírus do IE6.

QUESTÃO 18

Considerando a figura acima, que ilustra uma mensagem em edição no Outlook Express 6.0, assinale a opção correta.

- A A ferramenta  é usada para inserir cópia de arquivo anexo.
- B Ao se clicar a ferramenta , a mensagem será excluída.
- C Para iniciar uma nova mensagem é suficiente clicar o botão **N**.
- D O campo  indica que uma cópia da mensagem será encaminhada para o destinatário do endereço claudia@mec.gov.br.

QUESTÃO 19

Assinale a opção correta, segundo a Lei n.º 5.810/1994 — Regimento Jurídicos dos Servidores Públicos Civis do Estado do Pará.

- A O servidor responde civil, penal e administrativamente pelo exercício irregular de suas atribuições.
- B Acerca de servidor não aprovado em estágio probatório, é apropriado afirmar que ele será demitido.
- C Urbanidade e discrição não são deveres funcionais do servidor.
- D A sanção disciplinar de repreensão será aplicada nos casos da prática de infração administrativa de natureza grave.

QUESTÃO 20

Assinale a opção em que constam os requisitos funcionais indispensáveis para a aprovação no estágio experimental a que se submete o servidor público em exercício.

- A assiduidade, disciplina e liderança
- B disciplina, responsabilidade e popularidade
- C assiduidade, disciplina, capacidade de iniciativa, produtividade e responsabilidade
- D responsabilidade, disciplina, assiduidade, capacidade de iniciativa, liderança e cortesia

CONHECIMENTOS ESPECÍFICOS

QUESTÃO 21

Na aplicação de eletroterapia, um paciente com o músculo atrofiado deve receber

- A estimulação elétrica neuromuscular.
- B estimulação elétrica transcutânea.
- C corrente interferencial.
- D corrente galvânica.

QUESTÃO 22

Considere que um paciente pneumopata, recém-operado, internado em uma unidade de terapia intensiva, esteja precisando de um coadjuvante na terapia de higiene brônquica. Nessa situação, a liberação da secreção pulmonar será facilitada com o uso de

- A pressão positiva expiratória final (PEEP).
- B respiração com pressão positiva intermitente (RPPI).
- C pressão positiva inspiratória (IPAP).
- D estimulação elétrica transcutânea (TENS).

QUESTÃO 23

Considerando-se a classificação das lesões nervosas periféricas agudas por fator traumático, um paciente que apresenta bloqueio de condução nervosa resultante de uma desmielinização por isquemia tem uma lesão do tipo

- A axonotmese.
- B neurocitoma.
- C neurotmese.
- D neuropraxia.

QUESTÃO 24

Considere que, após um acidente automobilístico, um paciente adulto tinha apresentado instabilidade medial na articulação do joelho direito, devido a uma lesão do ligamento colateral medial. Nessa situação,

- A indica-se o teste de Lachman, que é um bom teste preditivo.
- B é necessário o fortalecimento dos músculos vasto lateral e tensor da fáscia lata, o que permite maior estabilidade articular.
- C indica-se o teste do bocejo para a confirmação da presença da lesão.
- D o fortalecimento dos músculos tibial anterior e bíceps femoral permite maior estabilidade articular.

QUESTÃO 25

Julgue os itens a seguir, relativos ao diagrama de comprimento-tensão para uma fibra muscular estimulada isometricamente, incluindo os estados extremos de encurtamento e estiramento da fibra.

- I A tensão da fibra muscular diminui à medida que seu comprimento é diminuído.
- II A tensão da fibra muscular diminui à medida que ela ultrapassa o seu comprimento de estado de repouso.
- III A tensão da fibra muscular aumenta à medida que seu comprimento é diminuído.
- IV A tensão da fibra muscular aumenta à medida que ela ultrapassa o seu comprimento de estado de repouso.

Estão certos apenas os itens

- A I e II.
- B I e III.
- C II e IV.
- D III e IV.

QUESTÃO 26

Um dos objetivos da fisioterapia na expansão pulmonar, em particular, das técnicas que envolvem a reexpansão alveolar, é

- A inibir a dinâmica intersticial, favorecendo a expansão pulmonar.
- B conter o aumento da mobilidade toracopleuropulmonar.
- C favorecer o aumento das condições de mobilidade diafragmática.
- D aumentar as zonas de colapso para maior ventilação das não-colapsadas.

QUESTÃO 27

Considerando que, durante a avaliação postural de uma paciente de 68 anos de idade, hígida, tenha sido identificada uma cifose postural de 59 graus, assinale a opção correta.

- A Não se pode considerar que a paciente tenha hipercifose, pois a coluna dorsal encontra-se dentro do grau de normalidade, considerando-se a relação entre grau e idade.
- B Os músculos responsáveis por esse padrão postural são o longuíssimo torácico e o esplênio da cabeça, devido a sua condição de encurtamento.
- C A paciente terá seu centro de massa deslocado pósterolateralmente, no sentido da sua perna dominante, o que aumenta seu equilíbrio.
- D O ligamento amarelo, uma das estruturas da coluna vertebral, encontra-se em tensão de distensão.

QUESTÃO 28

Carlos, 58 anos de idade, sofreu amputação cirúrgica transfemoral de terço superior, devido a complicações do seu quadro de diabetes. No quarto dia pós-operatório, em seu processo de reabilitação física, algumas estratégias foram criadas para sua recuperação.

Considerando essa situação hipotética, assinale a opção correta, com relação a essas estratégias de recuperação.

- A O paciente poderá utilizar facilmente, como forma de suspensão protética, o sistema de válvula de sucção com encaixe quadrilátero.
- B O soquete protético definitivo deve ser confeccionado após a absorção do edema residual pós-cirúrgico, mesmo que isso retarde o processo de reabilitação física.
- C O encaixe protético do tipo PTB é o mais indicado nesse caso.
- D Os exercícios de fortalecimento de membros superiores são contra-indicados, nesse caso, devido à condição clínica do paciente.

QUESTÃO 29

A lesão do nervo toracodorsal, em um paciente com diagnóstico de lesão neurológica periférica por infecção neural, pode gerar repercussões funcionais significativas. Nesse tipo de lesão, uma das abordagens da cinesioterapia deve estar voltada para a recuperação muscular por meio do movimento de

- A rotação medial, adução e extensão da articulação do ombro.
- B rotação lateral e adução do ombro.
- C adução do ombro no plano horizontal.
- D rotação medial e abdução da articulação do ombro.

QUESTÃO 30

Considere que uma paciente atendida pelo programa de saúde da família tenha chegado ao posto de saúde queixando-se de incontinência urinária pós-parto. Sabendo que o parto ocorreu há três semanas, assinale a opção correta.

- A O músculo destrusor da paciente está hipoativo ou hipossensível.
- B Os exercícios domiciliares devem ser orientados no sentido de aumentar a resistência de músculos específicos do assoalho pélvico.
- C Os exercícios domiciliares devem ser orientados no sentido de relaxar os músculos específicos do assoalho pélvico.
- D A paciente deve ser orientada a ingerir bastante líquido para aumentar a pressão da bexiga e, conseqüentemente, a desobstrução do canal uretral.

QUESTÃO 31

Ao teste especial denominado “manobra de Adson” é indicado para identificar a existência de

- A compressão do feixe neurovascular por costela cervical ou anormalidades da musculatura escalena.
- B instabilidade ântero-inferior do ombro.
- C instabilidade posterior da articulação glenoumeral.
- D integridade das artérias radial e ulnar, que irrigam a mão.

QUESTÃO 32

Na avaliação do paciente com lesão do plexo braquial, o examinador deve compreender claramente a neuroanatomia e os sinais e sintomas originados das estruturas lesadas. Com relação a esse assunto, assinale a opção correta.

- A O nervo mediano é derivado das raízes nervosas de C4, C5 e C6.
- B A lesão da raiz nervosa de C7 afeta o reflexo bicipital.
- C A lesão da raiz nervosa de C8 provoca alteração na região do dermatomo do braço, face anterior, lado radial da mão, até os dedos polegar e indicador.
- D A lesão da raiz nervosa de T1 provoca alterações no dermatomo localizado no lado medial do antebraço até a base do dedo mínimo.

QUESTÃO 33

Na análise ergonômica de um posto de trabalho, observou-se que um profissional analista de sistemas, com 10 anos de atuação na área, quando sentado, durante a utilização de computador de mesa, apresentava grande projeção anterior de pescoço e hiperextensão da coluna cervical. Nessa situação,

- A exercícios para ganho de força muscular de extensores cervicais estão indicados como medida terapêutica.
- B exercícios de alongamento dos flexores de pescoço promoverão maior mobilidade cervical e melhora da postura.
- C o músculo trapézio superior está em posição encurtada, devendo ser alongado.
- D a simples mudança da altura da cadeira é suficiente para promover uma melhor postura e, conseqüentemente, a correção do desvio apresentado.

QUESTÃO 34

Um paciente paraplégico com lesão nível C8 – T1, cadeirante, ao realizar manobra de elevação do acento da cadeira de rodas para descompressão da região glútea, utilizando os membros superiores com apoio nos braços da cadeira e, logo em seguida, voltando lentamente para a posição de apoio sentado, está realizando, respectivamente,

- A contração concêntrica do músculo tríceps braquial e contração concêntrica do músculo bíceps braquial.
- B contração excêntrica do músculo tríceps braquial e contração concêntrica do músculo tríceps braquial.
- C contração excêntrica do músculo tríceps braquial e contração excêntrica do músculo bíceps braquial.
- D contração concêntrica do músculo tríceps braquial e contração excêntrica do músculo tríceps braquial.

QUESTÃO 35

Um paciente que apresenta fraqueza muscular de grau 2 (segundo a escala de Oxford) dos músculos abdutores dos dedos das mãos (2.º ao 5.º) deve realizar exercícios terapêuticos para fortalecimento dos músculos

- A interósseos dorsais.
- B lumbricais.
- C interósseos palmares.
- D palmar longo e palmar curto.

QUESTÃO 36

Quanto às indicações e contra-indicações do uso de órteses para pacientes com lesão neurológica, assinale a opção correta.

- A A órtese de marcha recíproca (RGO) do tipo Parawalker é indicada para pacientes com traumatismo raquimedular e mieloplasia, com lesão compreendida entre os níveis T1 e L5.
- B A órtese tornozelo-pé (AFO) não pode ser confeccionada com material termoplástico para pacientes com lesão nervosa periférica, devido ao risco de alergia a esse material.
- C A Swivel-Walker pode trazer benefícios para pacientes portadores de lesão medular compreendida entre C6 e L1.
- D A AFO com termoplástico dinâmico é indicada para pacientes com quadro de paralisia espástica.

QUESTÃO 37

Assinale a opção que apresenta o nome de um teste ou sinal específico utilizado para verificação da condição reflexa na avaliação de criança com paralisia cerebral.

- A McMurray
- B Galant
- C Patrick–Fabre
- D Murphy

QUESTÃO 38

Considerando um paciente cardiopata, adulto, com indicação de transplante cardíaco, assinale a opção correta.

- A Para esse paciente é indicada a realização de exercícios de treinamento muscular de sobrecarga na fase pré-transplante.
- B Um dos parâmetros de avaliação desse paciente é o teste de caminhada de 6 minutos.
- C É correto afirmar que um paciente nessas condições apresenta boa *endurance* funcional na fase pré-operatória.
- D Na fase pós-transplante, a mobilidade passiva no leito é contra-indicada, devido à sobrecarga cardíaca gerada.

QUESTÃO 39

Considere que, durante a avaliação da marcha de um paciente adulto jovem, tenha sido observada uma dorsiflexão excessiva de um dos tornozelos. Entre as condições que podem estar presentes nesse quadro, inclui-se

- A artrodese de fixação do joelho em posição neutra.
- B hiperatividade tônica do músculo sóleo, o que impede o avanço da tibia sobre o tálus, com conseqüente padrão dorsiflexor.
- C artrodese de fixação do tornozelo em posição neutra obstruindo a flexão plantar.
- D hiperatividade tônica do músculo gastrôcnêmio, influenciando a flexão do joelho na fase de apoio, com conseqüente dorsiflexão.

QUESTÃO 40

De acordo com o Código de Ética Profissional de Fisioterapia e Terapia Ocupacional (Resolução COFFITO n.º 10), é permitido ao fisioterapeuta

- A prescrever medicamento, desde que seja para utilização na fonoforese e iontoforese.
- B emprestar seu nome, fora do âmbito profissional, para propaganda de instrumental ou equipamento fisioterapêutico.
- C oferecer consulta ou prescrever tratamento por meio de revista ou televisão.
- D advertir, na equipe de saúde em que atua, qualquer membro que esteja incorrendo em imperícia, negligência ou imprudência.