



Governo do Estado da Paraíba

Secretaria de Estado da Administração

Fundação de Desenvolvimento da Criança e do Adolescente
"Alice de Almeida" – FUNDAC

CONCURSO PÚBLICO
Nível Superior

CARGO

3

MANHÃ

CONTADOR

LEIA COM ATENÇÃO AS INSTRUÇÕES ABAIXO.

- 1 Ao receber este caderno, verifique se ele contém cinquenta questões, correspondentes às provas objetivas, corretamente ordenadas de 1 a 50.
- 2 Caso o caderno tenha qualquer defeito, solicite ao fiscal de sala mais próximo que tome as providências cabíveis, pois não serão aceitas reclamações posteriores.
- 3 Não utilize lápis, lapiseira (grafite), borracha e(ou) qualquer material de consulta que não seja fornecido pelo CESPE/UnB.
- 4 Não se comunique com outros candidatos nem se levante sem autorização do chefe de sala.
- 5 A duração das provas é de **quatro horas**, já incluído o tempo destinado à identificação — que será feita no decorrer das provas — e ao preenchimento da folha de respostas.
- 6 Você deverá permanecer obrigatoriamente em sala por, no mínimo, **uma hora** após o início das provas e **não poderá levar este caderno de provas**. Para posterior conferência, apenas a capa deste caderno de provas, com as suas marcações anotadas no espaço abaixo, poderá ser levada e somente no decurso dos últimos **quinze minutos** anteriores ao horário determinado para o término das provas. Solicite que o fiscal a destaque para você.
- 7 Ao terminar as provas, chame o fiscal de sala mais próximo, devolva-lhe a sua folha de respostas e este caderno de provas e deixe o local de provas.
- 8 A desobediência a qualquer uma das determinações constantes no presente caderno ou na folha de respostas poderá implicar a anulação das suas provas.

AGENDA (datas prováveis)

- I **13/5/2008**, após as 19 h (horário de Brasília) – Gabaritos oficiais preliminares das provas objetivas: Internet – www.cespe.unb.br.
- II **14 e 15/5/2008** – Recursos (provas objetivas): exclusivamente no Sistema Eletrônico de Interposição de Recurso, Internet, mediante instruções e formulários que estarão disponíveis nesse sistema.
- III **13/6/2008** – Resultados finais das provas objetivas e do concurso: Diário Oficial do Estado da Paraíba e Internet.

OBSERVAÇÕES

- Não serão objeto de conhecimento recursos em desacordo com o item 11 do Edital n.º 1/2007/SEAD/FUNDAC.
- Informações adicionais: telefone 0(XX) 61 3448-0100; Internet — www.cespe.unb.br.
- É permitida a reprodução deste material apenas para fins didáticos, desde que citada a fonte.

Espaço para anotação das respostas do candidato:

1	2	3	4	5	6	7	8	9	10	11	12	13	14	15	16	17	18	19	20	21	22	23	24	25
26	27	28	29	30	31	32	33	34	35	36	37	38	39	40	41	42	43	44	45	46	47	48	49	50

cespeUnB
Centro de Seleção e de Promoção de Eventos

- Nas questões de 1 a 50, marque, em cada uma, a única opção correta, de acordo com o respectivo comando. Para as devidas marcações, use a **folha de respostas**, único documento válido para a correção das suas provas.
- Nas questões que avaliam **Noções de Informática**, a menos que seja explicitamente informado o contrário, considere que todos os programas mencionados estão em configuração-padrão, em português, que o *mouse* está configurado para pessoas destras e que expressões como clicar, clique simples e clique duplo referem-se a cliques com o botão esquerdo do *mouse*. Considere também que não há restrições de proteção, de funcionamento e de uso em relação aos programas, arquivos, diretórios, recursos e equipamentos mencionados.

CONHECIMENTOS BÁSICOS

QUESTÃO 1

Em um país cujo governo se acostumou a controlar tudo — inclusive a Internet, monitorada 24 horas por dia por milhares de sensores —, não surpreende que se tente domar a meteorologia. Agosto, mês em que serão disputados os Jogos Olímpicos, é uma época chuvosa em Pequim. Para que um temporal não estrague as cerimônias de abertura e de encerramento, os chineses decidiram recorrer a uma técnica conhecida como nucleação de nuvens. Bombardearão os céus com iodeto de prata, substância catalisadora de chuva. Se nuvens negras se aproximarem de Pequim nos dias de início e fim das Olimpíadas, lançadores de foguetes estarão a postos para induzir a chuva antes que ela chegue ao Estádio Olímpico.

A nucleação de nuvens não é uma técnica nova. O custo elevado em relação aos benefícios faz com que seu uso seja apenas ocasional, mesmo nos Estados Unidos da América, país onde surgiu, nos anos 40. Na China, ela é empregada em grande escala para corrigir desigualdades entre regiões secas e chuvosas.

A China controla até o tempo. In: *Época*, 95, 17/3/2008, p. 95 (com adaptações).

Com referência às idéias do texto acima, assinale a opção correta.

- Ⓐ De acordo com o texto, nada — nem a Internet, nem a meteorologia, nem as Olimpíadas — escapa ao rígido controle do governo chinês.
- Ⓑ Durante as Olimpíadas de 2008, os chineses bombardearão os céus com iodeto de prata para que não chova em Pequim.
- Ⓒ Na China, apesar do custo elevado da nucleação de nuvens, essa técnica, utilizada freqüentemente em grandes eventos, será usada nas Olimpíadas, que ocorrerão em agosto deste ano, época chuvosa em Pequim.
- Ⓓ Infere-se da leitura do texto que os chineses estão preocupados com o sucesso das cerimônias de abertura e de encerramento das Olimpíadas.

QUESTÃO 2

Assinale a opção em que o fragmento de texto está gramaticalmente correto.

- Ⓐ A técnica conhecida como nucleação de nuvens criada nos anos 40 usa iodeto de prata para desencadear a chuva.
- Ⓑ Usando foguetes ou aviões, despeja-se cristais de iodeto de prata em meio a uma nuvem.
- Ⓒ Os cristais agrupam-se e começam a cair sob a forma de neve ou chuva.
- Ⓓ Na China, 1% da população trabalham com o equipamento usado para induzir a chuva.

Texto para as questões 3 e 4

- 1 O Brasil é um dos países com empreendedorismo de pior qualidade, afirma o engenheiro Paulo Veras, um dos maiores especialistas em empreendedorismo do país.
- 4 Enquanto, nas nações desenvolvidas, as pessoas abrem uma empresa porque enxergam uma oportunidade, no Brasil, o empreendedorismo surge por necessidade de sobrevivência.
- 7 Segundo Veras, a única solução é uma mudança radical de mentalidade: “Devemos deixar de lado o papel de vítima e nos tornar protagonistas.”

- 10 Para Veras, se olharmos para os países mais desenvolvidos, perceberemos que todos eles têm histórias de empreendedores de sucesso. É isso que leva uma economia ao desenvolvimento. São as empresas que criam oportunidades econômicas, novos produtos, e serviços que acabam gerando emprego. Trata-se de um empreendedorismo vital, de alto impacto econômico, feito por quem pensa grande. Ele cria valor na sociedade.

Negócios & Carreira, Empreendedorismo. In: *Época*, 17/3/2008, p. 56 (com adaptações).

QUESTÃO 3

Assinale a opção correta acerca das idéias do texto.

- Ⓐ Os empreendimentos no Brasil não têm boa qualidade porque os brasileiros não enxergam oportunidades ao abrirem uma empresa.
- Ⓑ A mudança de mentalidade em relação aos negócios parece ser a solução para os brasileiros se tornarem protagonistas de seus próprios negócios.
- Ⓒ Os países desenvolvidos são bem-sucedidos economicamente porque seus empreendedores têm histórias que deram certo.
- Ⓓ É tão importante o papel das empresas para a vitalidade da economia de um país, que elas têm a capacidade de criar valor social.

QUESTÃO 4

Com relação a aspectos lingüísticos do texto, assinale a opção correta.

- Ⓐ O conectivo “Enquanto” (l.4) pode ser substituído por **À medida que**, sem prejuízo do sentido original e da correção gramatical do texto.
- Ⓑ Mantém-se a coerência do texto caso a forma verbal ‘tornar’ (l.9) seja substituída por **tornaríamos**.
- Ⓒ O pronome “isso” (l.12) recupera anaforicamente “todos eles têm histórias de empreendedores de sucesso” (l.11-12).
- Ⓓ Na linha 15, caso o termo “empreendedorismo” estivesse empregado no plural, a oração “Trata-se de um empreendedorismo vital” estaria correta se reescrita da seguinte forma: **Tratam-se de empreendedorismos vitais**.

Texto para as questões 5 e 6

1 Para os que chegavam, o mundo em que entravam era
a arena dos seus ganhos, em ouros e glórias, ainda que estas
fossem principalmente espirituais, ou parecessem ser, como
4 ocorria com os missionários. Para alcançá-las, tudo lhes era
concedido, uma vez que sua ação de além-mar, por mais
abjeta e brutal que chegasse a ser, estava previamente
7 sacramentada pelas bulas e falas do papa e do rei. Eles eram,
ou se viam, como novos cruzados a assaltar e saquear túmulos
e templos de hereges indianos. Mas aqui, o que viam
10 assombrados era o que parecia ser uma humanidade edênica,
anterior à que havia sido expulsa do Paraíso. Abre-se com
esse encontro um tempo novo, em que nenhuma inocência
13 abrandaria sequer a sanha com que os invasores se lançavam
sobre o gentio, prontos a subjugar-los pela honra de Deus e
pela prosperidade cristã. Para os índios que ali estavam, nus
16 na praia, o mundo era um luxo de se viver, tão rico de aves,
de peixes, de raízes, de frutos, de flores, de sementes, que
podia dar as alegrias de caçar, de pescar, de plantar e colher
19 a quanta gente aqui viesse ter. Na sua concepção sábia e
singela, a vida era dádiva de deuses bons, que lhes doaram
esplêndidos corpos, bons de andar, de correr, de nadar, de
22 dançar, de lutar. Olhos bons de ver todas as cores, suas luzes
e suas sombras. Ouvidos capazes da alegria de ouvir vozes
estridentes ou melódicas, cantos graves e agudos e toda a
25 sorte de sons que há. Os recém-chegados eram gente prática,
experimentada, sofrida, ciente de suas culpas oriundas do
pecado de Adão, predispostos à virtude, com clara noção dos
28 horrores do pecado e da perdição eterna. Os índios não
sabiam disso. Eram, a seu modo, inocentes, confiantes, sem
qualquer concepção vicária, mas com claro sentimento de
31 honra, glória e generosidade, e capacitados, como gente
alguma jamais o foi, para a convivência solidária.

Darcy Ribeiro. *O povo brasileiro: a formação e o sentido do Brasil*, p. 44 (com adaptações).

QUESTÃO 5

Assinale a opção correta segundo as idéias do texto.

- Ⓐ Em “tudo lhes era concedido” (ℓ.4-5), o pronome sublinhado refere-se a “ouros e glórias” (ℓ.2).
- Ⓑ A expressão “anterior à que havia sido expulsa do Paraíso” (ℓ.11) permanece gramaticalmente correta se reescrita da seguinte forma: anterior aquela que se havia expulsado do Paraíso.
- Ⓒ No trecho “os invasores se lançavam sobre o gentio” (ℓ.13-14), a forma verbal “se lançavam” pode ser substituída por **eram lançados**, sem que haja alteração do sentido original ou prejuízo à correção gramatical do texto.
- Ⓓ Na linha 14, em “subjugar-los”, o pronome sublinhado refere-se ao termo “gentio”, com o qual estabelece concordância ideológica.

QUESTÃO 6

Assinale a opção correta no que se refere às estruturas linguísticas do texto.

- Ⓐ Na linha 10, a palavra “assombrados” significa **assustados**.
- Ⓑ Na linha 22, a forma pronominal “suas” refere-se ao termo “Olhos”.
- Ⓒ Mantém-se a correção gramatical do texto caso a palavra “recém-chegados” (ℓ.25) seja grafada sem hífen — **recém chegados**.
- Ⓓ No trecho “como gente alguma jamais o foi” (ℓ.31-32), estariam mantidas a coerência e a correção gramatical do texto, caso o pronome “o” fosse substituído por **aquilo**.

QUESTÃO 7

Uma nova economia surgiu em escala global no último quartel do século XX. Denominada informacional, global, em rede, para identificar suas características fundamentais e diferenciadas e enfatizar sua interligação. É informacional porque a produtividade e a competitividade de unidades ou agentes dessa economia — sejam empresas, sejam regiões, sejam nações — dependem basicamente de sua capacidade de gerar, processar e aplicar de forma eficiente a informação baseada em conhecimentos. É global porque as principais atividades produtivas, o consumo e a circulação, assim como seus componentes — capital, trabalho, matéria-prima, administração, informação, tecnologia e mercados — estão organizados em escala global, diretamente ou mediante uma rede de conexões entre agentes econômicos. É em rede porque, nas novas condições históricas, a produtividade é gerada, e a concorrência é feita em uma rede global de interação entre redes empresariais. Essa nova economia surgiu no último quartel do século XX porque a revolução da tecnologia da informação forneceu a base material indispensável para sua criação.

Manuel Castells. *A sociedade em rede*, p. 119 (com adaptações).

Quanto à tipologia, o texto acima classifica-se como um


- Ⓐ fragmento narrativo, em que o autor apresenta as fases da economia global.
- Ⓑ texto dissertativo, cuja idéia principal, apresentada nos dois primeiros períodos sintáticos, é explicada nos períodos subsequentes.
- Ⓒ texto descritivo, pois enumera as características fundamentais e diferenciadas da globalização.
- Ⓓ relato de experiência pessoal do autor em face da nova economia que surgiu nos últimos vinte e cinco anos do século XX.

QUESTÃO 8





Assinale a opção correta quanto à redação de correspondências oficiais.

- Ⓐ A ata é um documento de valor jurídico e, por essa razão, não pode conter rasuras.
- Ⓑ Na atualidade, o fecho das correspondências oficiais se restringe ao termo **Atenciosamente**, que deve ser empregado em documentos dirigidos a todas as autoridades, independentemente da hierarquia do cargo.
- Ⓒ Ofício é uma correspondência dirigida somente aos chefes de seção do mesmo órgão.
- Ⓓ Memorando é o expediente utilizado nas solicitações de serviços entre diferentes órgãos da administração pública.

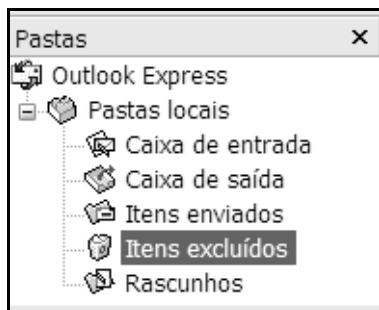
QUESTÃO 9



Considerando a figura acima, que apresenta uma janela do Internet Explorer 6, assinale a opção que apresenta a função correta da ferramenta indicada.

- A  Exibe o histórico de navegação.
- B  Permite encaminhar a página por e-mail.
- C  Acessa a página configurada como página inicial.
- D  Exclui a página atual.

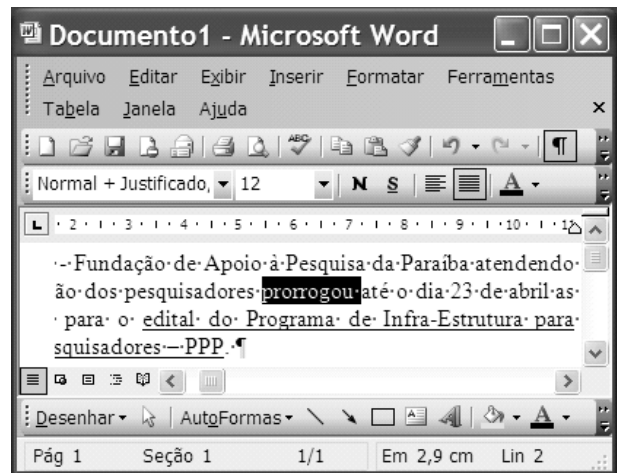
QUESTÃO 10




Considerando a figura acima, que mostra parte da janela do Outlook Express, assinale a opção **incorreta**.

- A Caixa de entrada corresponde ao local em que são armazenadas as mensagens recebidas.
- B Caixa de saída corresponde ao local em que são armazenadas as mensagens que ainda não foram enviadas.
- C Itens enviados corresponde ao local em que estão armazenadas as mensagens enviadas e encaminhadas.
- D Itens excluídos corresponde ao local onde estão armazenadas apenas as mensagens excluídas da pasta Rascunhos.

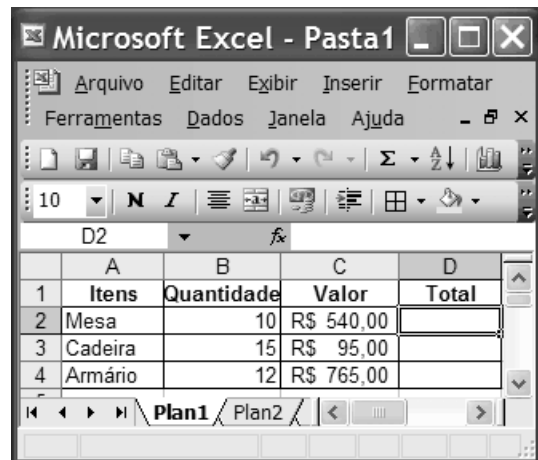
QUESTÃO 11






Considerando a figura acima, que mostra a janela do Word 2003 com um texto em edição, assinale a opção correta.

- A O texto está formatado com alinhamento justificado.
- B O texto contém duas páginas.
- C O sublinhado do trecho edital do (...) PPP pode ter sido colocado usando-se a ferramenta .
- D A palavra “prorrogou” está formatada com o tipo de letra denominado Normal de tamanho 12.

QUESTÃO 12



Considerando a figura acima, que mostra uma planilha em edição no Excel 2003, assinale a opção correta.

- A Para se alterar a cor da fonte da planilha é suficiente selecionar as células A1:D4 e clicar a ferramenta .
- B Para se excluir a coluna Total é suficiente selecioná-la e clicar a ferramenta .
- C Para se alterar a fonte do título das colunas para maiúsculas é suficiente selecionar as células A1, B1, C1 e D1 e clicar a ferramenta .
- D O valor total do item Mesa pode ser calculado usando-se o seguinte procedimento: clicar a célula D2; digitar a fórmula =B2*C2 e pressionar a tecla Enter.

QUESTÃO 13

Acerca de Internet e de *intranet*, assinale a opção correta.

- A A *intranet* pode ser usada apenas em residências.
- B A Internet é a união de um enorme número de redes ao redor do mundo que se comunicam entre si através de meios físicos, e com base em protocolos.
- C Para acessar a Internet é necessária a utilização de *pendrive*.
- D A *intranet* é uma rede especial da Internet para a conexão entre cidades.

QUESTÃO 14

Considerando o procedimento de criação de cópia de segurança de arquivos, assinale a opção correta.

- A O termo *backup* refere-se ao procedimento de manter o antivírus atualizado.
- B Ao se mover um arquivo para a área de trabalho (*Desktop*), é gerada uma cópia de segurança.
- C Copiar periodicamente os arquivos para um *pendrive* que seja guardado fora do ambiente de trabalho é uma forma de *backup*.
- D O Winzip é um *software* antivírus que permite excluir diversos tipos de vírus.

QUESTÃO 15

Em dezembro de 2007, o Congresso Nacional impôs severa derrota ao governo federal ao votar contra a prorrogação de um importante mecanismo de arrecadação com que o Poder Executivo contava há alguns anos. Trata-se do(a)

- A imposto de renda das pessoas físicas (IRPF).
- B imposto de renda das pessoas jurídicas (IRPJ).
- C imposto sobre a circulação de mercadorias e serviços (ICMS).
- D contribuição provisória sobre movimentação financeira (CPMF).

QUESTÃO 16

Motivo de acalorados debates, sobretudo entre cientistas e religiosos, chegou ao Supremo Tribunal Federal a questão das células-tronco. Capazes de se transformar em qualquer um dos tipos de célula do corpo, elas podem representar a cura para quase todas as doenças. No Brasil, a grande controvérsia ocorre quanto à utilização de células-tronco

- A encontradas no cordão umbilical.
- B extraídas da medula óssea.
- C geradas de embriões humanos.
- D derivadas de macacos.

QUESTÃO 17

A última conferência da Organização das Nações Unidas (ONU) sobre mudanças climáticas traçou um caminho para negociações nos próximos dois anos, com o objetivo de se chegar a um pacto em substituição ao Protocolo de Kyoto, que vence em 2012. O problema que assusta muitos setores da sociedade mundial, sobretudo por colocar em risco a vida no planeta, é conhecido como

- A aquecimento global.
- B crime organizado mundial.
- C reflorestamento artificial.
- D abalo sísmico.

QUESTÃO 18

A ONU é uma das mais conhecidas entidades do mundo contemporâneo, com atuação planetária. Contando com grande estrutura, a ONU dispõe de um órgão voltado para as áreas da educação, ciência e cultura. Trata-se do(a)

- A FAO.
- B UNESCO.
- C UNICEF.
- D FMI.

QUESTÃO 19

O atual estágio da economia mundial é marcado, entre outras características, pelo aumento da capacidade de produção, pela ampliação dos mercados mundiais e pela rápida circulação de capitais. Esse cenário é comumente denominado de

- A capitalismo de base mercantil.
- B feudalismo.
- C globalização.
- D capitalismo de base agrária.

QUESTÃO 20

Na América Latina, ele vem se notabilizando como estrela de primeira grandeza. Dizendo-se defensor de um modelo especial de socialismo, exerce inegável influência sobre alguns países do subcontinente. Assinale a opção que identifica corretamente esse presidente e seu país.

- A Evo Morales – Bolívia
- B Lula da Silva – Brasil
- C Hugo Cháves – Venezuela
- D Álvaro Uribe – Colômbia

CONHECIMENTOS COMPLEMENTARES

QUESTÃO 21

Célio e Joana, ambos com 37 anos de idade e casados desde 2001, adotaram Josimar, com 17 anos de idade, após regular procedimento perante a Vara da Infância e Juventude de Campina Grande – PB. A sentença judicial que constituiu o vínculo de adoção foi proferida em dezembro de 2007 e imediatamente inscrita no Cartório de Registro Civil.

Considerando a situação hipotética acima apresentada e a Lei n.º 8.069/1990 — Estatuto da Criança e do Adolescente (ECA) —, assinale a opção correta quanto a adoção.

- Ⓐ O falecimento de Célio e Joana restabelecerá o pátrio poder aos pais naturais de Josimar, o que ocorrerá com o encaminhamento da certidão de óbito dos pais adotantes ao Cartório de Registro Civil.
- Ⓑ O processo de adoção é nulo em razão da diferença de idade entre adotantes e adotado.
- Ⓒ Em razão de sua idade, é necessário o consentimento de Josimar no processo de adoção.
- Ⓓ Na certidão de nascimento de Josimar, constarão os nomes de Célio e Joana como pais adotantes e dos pais biológicos, para resguardar futura revogação da adoção.

QUESTÃO 22

No que se refere à prevenção especial da criança e do adolescente, assinale a opção correta.

- Ⓐ Uma criança poderá hospedar-se em motel acompanhada de seus pais.
- Ⓑ A autorização de viagem ao exterior é dispensável se a criança estiver acompanhada apenas da mãe.
- Ⓒ O acesso às diversões e espetáculos públicos é livre aos adolescentes, independentemente da classificação atribuída pelo poder público.
- Ⓓ Uma criança de 11 anos de idade poderá viajar da comarca onde reside no estado da Paraíba para a casa da sua avó em Recife – PE acompanhada apenas de sua irmã de 16 anos de idade.

QUESTÃO 23

Marcos, adolescente de 16 anos de idade, cometeu ato infracional mediante grave ameaça a pessoa, em fevereiro de 2008. O caso teve grande repercussão nos telejornais. Em abril de 2008, o juiz da Vara da Infância e Juventude de Campina Grande – PB aplicou a medida de internação em entidade exclusiva para adolescentes.

Considerando essa situação hipotética, assinale a opção correta de acordo com as medidas socioeducativas previstas no ECA.

- Ⓐ Para ato infracional considerado hediondo e com grande repercussão na mídia televisiva praticado por adolescente, a autoridade competente poderá aplicar, excepcionalmente, a medida de prestação de trabalho forçado.
- Ⓑ As visitas a Marcos na entidade em que estiver internado poderão ser suspensas temporariamente, caso existam motivos relevantes e fundados de prejudicialidade aos seus interesses.
- Ⓒ Adolescentes portadores de deficiência mental ficarão incomunicáveis nas primeiras 48 horas em casos de internação em estabelecimento educacional.
- Ⓓ Marcos não poderá receber assistência religiosa no período de internação, por estar sob os cuidados do Estado e não da Igreja.

QUESTÃO 24

No que se refere ao conselho tutelar, assinale a opção correta.

- Ⓐ O conselho tutelar integra a estrutura do Poder Judiciário estadual e é presidido pelo juiz de direito da respectiva comarca.
- Ⓑ Os membros do conselho tutelar de cada município serão indicados pelo presidente do tribunal de justiça do respectivo estado.
- Ⓒ Compete ao conselho tutelar proferir sentença nos pedidos de guarda das crianças e adolescentes do município em que estiver situado.
- Ⓓ Caso Jean e Lúcia estejam casados há 12 anos, nessa hipótese, se eles forem escolhidos para atuar no Conselho Tutelar de Areia – PB, estarão impedidos, por serem marido e mulher.

QUESTÃO 25

Os adolescentes Aldo e Fábio foram presos em flagrante de ato infracional porque, em 10/6/2007, adentraram em um ônibus e, mediante grave ameaça de morte exercida com emprego de arma de fogo, subtraíram dinheiro, diversos bens e objetos pessoais dos passageiros. Os menores foram conduzidos em compartimento fechado da viatura da Polícia Civil, juntamente com dois outros presos com passagem pela polícia, que haviam cometido crime de roubo em loja de conveniência horas antes. A requerimento do Ministério Público estadual, o juiz da infância e juventude da cidade de João Pessoa – PB determinou a internação provisória dos referidos adolescentes.

Considerando a situação hipotética apresentada, assinale a opção correta à luz do ECA.

- Ⓐ Aldo e Fábio não poderiam ter sido conduzidos em compartimento fechado de veículo policial juntamente com presos com passagem pela polícia, pois isso implicou risco à integridade física dos menores.
- Ⓑ A internação provisória dos adolescentes mencionados poderá ser cumprida em estabelecimento prisional, desde que em seção isolada dos adultos e com instalações apropriadas.
- Ⓒ O requerimento do Ministério Público, de internação provisória dos adolescentes, é nulo, pois a apuração de ato infracional é da competência exclusiva da autoridade policial.
- Ⓓ Mesmo em casos dessa natureza, é vedada a divulgação de atos policiais e judiciais a que se atribua autoria de ato infracional, permitindo-se apenas a identificação das iniciais do nome e sobrenome dos menores.

QUESTÃO 26

As relações interpessoais são um importante aspecto na satisfação no serviço. A competência do indivíduo para lidar consigo e com os outros faz diferença nas relações de trabalho, muitas vezes, marcadas pela competição e pelo inadequado uso do poder. Acerca de relações humanas no trabalho, assinale a opção correta.

- Ⓐ Consideração e elogio constituem ingredientes indispensáveis quando se busca lealdade, mas têm menor impacto em questões relacionadas à produtividade no trabalho.
- Ⓑ A compreensão do comportamento da chefia e dos colegas a partir dos próprios valores e crenças facilita a relação, pois as diferenças individuais, nesse contexto, podem ser desconsideradas.
- Ⓒ A conduta de falar sem olhar para a pessoa com quem se comunica desqualifica o outro e pode causar mal-estar nas relações de trabalho.
- Ⓓ Compartilhar com os colegas os erros cometidos no trabalho é uma atitude inadequada, que pode prejudicar a imagem profissional.

QUESTÃO 27

No contexto das organizações, as pessoas trabalham em grupos distintos. O estabelecimento de relações harmoniosas entre esses diferentes grupos depende de alguns aspectos. A respeito das relações entre os grupos de trabalho, julgue os itens a seguir.

- I Desentendimentos entre os grupos dos diversos setores de trabalho podem ser evitados com uma clareza maior das atribuições que competem a cada um.
- II A colaboração entre os grupos pode ser encorajada pelas boas relações entre seus líderes.
- III O isolamento de um grupo em relação aos demais é devido à sua dinâmica, excluindo-se a possibilidade de qualquer influência do líder para tal situação.
- IV Reuniões periódicas só auxiliam a manter boas relações entre os grupos se estes já são harmoniosos, do contrário, tendem a agravar situações problemáticas.

Estão certos apenas os itens

- Ⓐ I e II.
- Ⓑ I e III.
- Ⓒ II e IV.
- Ⓓ III e IV.

QUESTÃO 28

A força de trabalho de uma organização é constituída pela existência de uma variedade de pessoas com diferentes características, o que pode levar a conflitos nas relações de trabalho. A respeito desse assunto, assinale a opção **incorreta**.

- Ⓐ Uma interferência deliberada sobre a tentativa de uma outra pessoa alcançar os seus objetivos é fator determinante nas situações de conflito interpessoal.
- Ⓑ Uma grande interdependência entre os grupos de trabalho pode possibilitar que um prejudique o trabalho do outro, o que seria um fator gerador de conflito.
- Ⓒ Uma das formas de se resolver os conflitos é por meio de negociações, que reduzem os riscos de confrontações agressivas.
- Ⓓ Conflitos profissionais não geram qualquer ganho positivo para a organização.

QUESTÃO 29

Em relação ao Código de Ética Profissional do Servidor Público Civil do Poder Executivo, assinale a opção correta.

- Ⓐ É vedado ao servidor público o uso da função para obter favorecimentos, desde que não ocupe uma posição estratégica na organização.
- Ⓑ Informações privilegiadas do serviço podem ser usadas em benefício de parentes que delas necessitem.
- Ⓒ Documentos não devem ser retirados da instituição pública, sem uma autorização legal.
- Ⓓ Em determinadas circunstâncias, é possível desviar servidor público para atender a interesse particular.

QUESTÃO 30

Julgue os itens que se seguem, a respeito de comportamento ético no serviço público.

- I A embriaguez habitual de servidor fora do serviço não constitui conduta aética.
- II O bom conceito na vida funcional de servidor pode ser afetado por sua conduta na vida privada.
- III O servidor não se conduz por princípios éticos ao prestar serviço público inadequado.
- IV Os colegas de trabalho devem ser coniventes com o servidor, pois a embriaguez constante pode ser problema de alcoolismo.

A quantidade de itens certos é igual a

- Ⓐ 1.
- Ⓑ 2.
- Ⓒ 3.
- Ⓓ 4.

CONHECIMENTOS ESPECÍFICOS

Balancete de verificação para as questões de 31 a 35

n.º	conta	valor (R\$)
1	aluguel antecipado	3.110
2	banco	5.549
3	capital social	96.149
4	caixa	690
5	computadores e impressoras	14.850
6	contas a pagar	14.700
7	contas a receber	3.258
8	custo da mercadoria vendida	45.800
9	deduções da receita	20.000
10	depreciação acumulada	91.200
11	despesa de aluguel	9.835
12	despesa de depreciação	4.197
13	despesa de energia	5.480
14	despesa de material	3.549
15	despesa de salários	53.201
16	despesa de seguros	6.689
17	despesa de telefone	3.350
18	despesa financeira	2.986
19	despesas com taxas	9.980
20	energia a pagar	998
21	estoques de mercadorias para revenda	2.581
22	fornecedores	4.120
23	impostos a pagar	1.149
24	impostos a recuperar	2.850
25	impostos sobre a receita	12.580
26	investimentos em ações	3.358
27	investimentos em coligadas	5.580
28	investimentos em controladas	12.580
29	máquinas e equipamentos	65.800
30	material de consumo	3.321
31	prédios	6.650
32	prejuízos acumulados antes do resultado do período	3.498
33	provisão para créditos de liquidação duvidosa	1.140
34	provisão para desvalorização de estoques	987
35	receita antecipada	3.214
36	receita de vendas	125.800
37	receita financeira	7.495
38	reservas	2.210
39	salários a pagar	12.100
40	salários antecipados	2.900
41	seguros antecipados	2.900
42	telefone a pagar	650
43	terrenos	12.480
44	títulos a pagar de longo prazo	12.850
45	valores a receber em longo prazo	12.580
46	veículos	32.580

QUESTÃO 31

O balanço patrimonial de uma empresa apresenta os seus recursos econômicos e as origens desses recursos. Considerando as informações apresentadas no balancete de verificação, é correto afirmar que o valor total do ativo é

- A inferior a R\$ 95.963.
- B superior a R\$ 96.120 e inferior a R\$ 100.790.
- C superior a R\$ 101.100 e inferior a R\$ 106.980.
- D superior a R\$ 191.400.

QUESTÃO 32

A análise econômico-financeira permite a avaliação de empresas e a comparação entre empresas de um mesmo setor da economia. Com relação ao balancete de verificação apresentado, é correto afirmar que o índice de liquidez geral é

- A inferior a 0,30.
- B superior a 0,31 e inferior a 0,50.
- C superior a 0,51 e inferior a 0,70.
- D superior a 0,71.

QUESTÃO 33

Considere que o saldo anterior da conta de salários a pagar corresponda a R\$ 5.081 e o saldo anterior de salários antecipados, a R\$ 2.900. Desse modo, de acordo com o balancete de verificação apresentado, assinale a opção correspondente ao valor de salários pagos no período em análise.

- A R\$ 7.019
- B R\$ 41.101
- C R\$ 46.182
- D R\$ 53.201

RASCUNHO

QUESTÃO 34

Ainda com referência ao balancete de verificação em apreço, é correto afirmar que o índice de endividamento da empresa é

- A inferior a 20%.
- B superior a 21% e inferior a 30%.
- C superior a 31% e inferior a 50%.
- D superior a 51%.

QUESTÃO 35

Considere que o saldo anterior da conta de seguros a pagar correspondia a R\$ 2.520 e o saldo anterior da conta de seguros antecipados, a R\$ 2.200. Nesse caso, com base no balancete de verificação apresentado, infere-se que o valor de seguros pagos no período em análise é igual a

- A R\$ 2.520.
- B R\$ 6.689.
- C R\$ 9.209.
- D R\$ 9.909.

QUESTÃO 36

As operações de *leasing* são comuns em empresas que necessitam de diversos tipos de ativos para a manutenção de suas atividades operacionais. Acerca desse assunto, é correto afirmar que, no *leasing*

- A financeiro, o arrendador corre o risco de não recuperar 100% do valor desembolsado ao final do contrato.
- B financeiro, o prazo de arrendamento é compatível com o prazo de vida útil do bem e o valor residual garantido (VRG) é condição da operação. Desse modo, é interessante para o arrendatário adquirir o bem ao final do contrato.
- C operacional, o contrato não admite a devolução do bem; o arrendatário deverá adquiri-lo ao final do contrato pelo VRG.
- D operacional, o prazo de contratação deve ser superior a 75% do prazo de vida econômica útil do bem.

Texto para as questões de 37 a 39

item	valor (R\$)
mão-de-obra direta (por unidade produzida)	5,00
matéria-prima (por unidade produzida)	7,35
custos indiretos de fabricação	20.000,00
despesas fixas do período	32.000,00
preço de venda (por unidade)	25,00
produção máxima da empresa no período:	40.000 unidades

QUESTÃO 37

O conceito de margem de contribuição é amplamente utilizado pelas indústrias. Com relação à tabela acima, é correto afirmar que, em unidades, a quantidade de produção mínima necessária para atingir o ponto de equilíbrio contábil apurado é

- A inferior a 2.500.
- B superior a 2.501 e inferior a 4.000.
- C superior a 4.001 e inferior a 5.500.
- D superior a 5.501.

QUESTÃO 38

A quantidade exata de unidades a ser produzida para retornar uma margem operacional de lucro de 40% é

- A inferior a 17.500.
- B superior a 17.501 e inferior a 19.000.
- C superior a 19.001 e inferior a 21.000.
- D superior a 21.001.

RASCUNHO

QUESTÃO 39

Considerando uma variação desfavorável de 20% nos custos da mão-de-obra, o ponto de equilíbrio contábil será atingido com a produção de determinada quantidade de unidades. É correto afirmar que essa quantidade é

- A inferior a 2.500.
- B superior a 2.501 e inferior a 3.000.
- C superior a 3.001 e inferior a 4.000.
- D superior a 4.001.

QUESTÃO 40

A Lei n.º 4.320/1964 e suas alterações estabelecem normas gerais para a contabilidade pública. Acerca das receitas públicas, é correto afirmar que as receitas

- A auferidas com a alienação de bens móveis e imóveis serão registradas como receitas de transferências correntes.
- B imobiliárias serão registradas como receitas patrimoniais.
- C advindas de operações de crédito serão contabilizadas como receitas correntes.
- D advindas de participações e dividendos serão contabilizadas como receita de capital.

QUESTÃO 41

A Lei n.º 4.320/1964 e suas alterações estabelecem normas gerais sobre o registro de receitas e despesas públicas. Acerca do registro de despesas públicas, é correto afirmar que os gastos com

- A material permanente serão classificados como despesas de capital.
- B a amortização da dívida pública serão classificados como despesas correntes.
- C a constituição de fundos rotativos serão contabilizados como despesas correntes.
- D subvenções sociais serão contabilizados como despesas de capital.

QUESTÃO 42

A Lei Complementar n.º 101/2000 busca normatizar os procedimentos contábeis vinculados à esfera pública. Assinale a opção correta acerca da escrituração e consolidação das contas.

- A A despesa e a assunção de compromissos serão registradas segundo o regime de caixa, apurando-se, em caráter complementar, o resultado dos fluxos financeiros pelo regime de competência.
- B As demonstrações contábeis compreenderão, isolada e conjuntamente, as transações e as operações de cada órgão, fundo ou entidade da administração direta, autárquica e fundacional, excluindo do conjunto as empresas estatais dependentes.
- C A disponibilidade de caixa constará de registro conjunto dos órgãos, de modo que os recursos vinculados a órgão, fundo ou despesa obrigatória fiquem englobados e identificados por um único número.
- D As receitas e as despesas previdenciárias serão apresentadas em demonstrativos financeiros e orçamentários específicos.

RASCUNHO

QUESTÃO 43**RASCUNHO**

Considere a situação de uma empresa que possuía saldo de impostos antecipados no valor de R\$ 9.000 e, no período em análise, os impostos correspondiam a R\$ 32.600. Nesse caso, considerando a apropriação do saldo remanescente de tributos, após a utilização do crédito tributário, assinale a opção correspondente à demonstração correta, em reais, dessa operação no livro diário.

- A** D impostos a recolher 32.600
 C impostos a recuperar 9.000
 C disponível 23.600
- B** D impostos 32.600
 C impostos a pagar 23.600
 C impostos antecipados 9.000
- C** D impostos 32.600
 C disponível 23.600
 C impostos a recuperar 9.000
- D** D impostos a recuperar 9.000
 D impostos 32.600
 C impostos a recolher 41.60

QUESTÃO 44

Uma empresa efetuou investimentos em várias sociedades e obteve resultado positivo. Em algumas sociedades, a avaliação dos investimentos ocorreu pelo método de custo enquanto, em outras, ocorreu pelo método de equivalência patrimonial. A controlada GVP proporcionou resultado positivo de R\$ 20.000 e a companhia investidora detém 60% de suas ações. A controlada não distribuiu dividendos. Nesse caso, assinale a opção correspondente ao correto registro do valor obtido pela investidora, em reais, considerando que este investimento é relevante.

- A** D disponível 12.000
 C receita de equivalência patrimonial 12.000
- B** D dividendos a receber 12.000
 C equivalência patrimonial 12.000
- C** D ações da companhia GVP 12.000
 C receita de dividendos 12.000
- D** D ações da companhia GVP 12.000
 C equivalência Patrimonial 12.000

QUESTÃO 45

data	operação	quantidade	valor unitário (R\$)
1.º/3/2008	estoque inicial	3	4,00
1.º/3/2008	compra	8	5,00
1.º/3/2008	venda	10	9,00
2/3/2008	compra	15	6,00
5/3/2008	venda	12	12,00
7/3/2008	compra	5	6,50
9/3/2008	compra	1	7,00
12/3/2008	venda	4	14,00

A partir das informações apresentadas na ficha de controle de estoques apresentada acima, assinale a opção correspondente ao valor do saldo final de mercadorias para revenda, considerando a utilização do inventário permanente e o UEPS.

- A** R\$ 33,50
B R\$ 35,00
C R\$ 39,50
D R\$ 142,00

QUESTÃO 46**RASCUNHO**

data	operação	quantidade	valor unitário (R\$)
1/3/2008	estoque inicial	8	5,00
1/3/2008	compra	5	6,85
2/3/2008	compra	3	7,00
5/3/2008	venda	12	13,00
7/3/2008	compra	5	6,50
9/3/2008	compra	1	7,00
12/3/2008	venda	4	15,00

Utilizando-se das informações contidas na ficha de controle de estoques apresentada acima, assinale a opção correspondente ao resultado bruto da venda de mercadorias, considerando a utilização do inventário permanente e o PEPS.

- A R\$ 95,25
- B R\$ 121,25
- C R\$ 137,10
- D R\$ 120,75

QUESTÃO 47

A quantia de C reais foi investida pelo período de N meses em uma instituição financeira que paga $i\%$ de juros simples ao mês, produzindo J reais de juros e o montante de M reais. Nesse caso, se a mesma quantia de C reais fosse investida pelo período de 2N meses à taxa de $\frac{i}{3}\%$ de juros simples, produziria J' reais de juros e o montante de M' reais. Com relação a essa situação, assinale a opção correta.

- A $J' > J$.
- B $M = M' + \frac{J'}{3}$.
- C $3J' = 2J$.
- D $M' = M + \frac{J}{3}$.

QUESTÃO 48

No regime de juros simples, os capitais R\$ 6.500,00 e R\$ 9.500,00 foram investidos, na mesma data, às taxas de 25% ao ano e 15% ao ano, respectivamente. Nessa situação, com relação à data das aplicações, os montantes serão iguais depois de

- A mais de 8 anos e menos de 12 anos.
- B mais de 12 anos e menos de 16 anos.
- C mais de 16 anos e menos de 20 anos.
- D mais de 20 anos.

QUESTÃO 49**RASCUNHO**

Para a compra de um terno que custa R\$ 420,00, um cliente de uma loja tem 3 opções de pagamento:

- I à vista, com 15% de desconto;
- II em duas prestações mensais e iguais, sem desconto, vencendo a primeira 1 mês após a compra;
- III em três prestações mensais e iguais, sem desconto, vencendo a primeira no ato da compra.

Considerando-se as aproximações

$$210 = 167 \times 1,12^2 \text{ e } 140 = 112 \times 1,12^2$$

e que esse cliente pode aplicar seu dinheiro à taxa de juros compostos de 12% ao mês, é correto afirmar que, nessa situação, para esse cliente

- A a melhor opção é a I.
- B a pior opção é a II.
- C a melhor opção é a II e a pior é a III.
- D a melhor opção é a III e a pior é a I.

QUESTÃO 50

Duas dívidas, cada uma delas no valor de R\$ 15.000,00, devem ser quitadas em 4 meses, à taxa de juros compostos de 8% ao mês, uma, pelo sistema francês (SAP), e a outra, pelo sistema de amortização constante (SAC). Sabendo que, pelo SAP, o valor das prestações é constante e igual a R\$ 4.529,00, assinale a opção correta com relação a essas dívidas.

- A No sistema SAP, o valor da primeira amortização será superior a R\$ 3.300,00.
- B No sistema SAC, o valor das amortizações será inferior a R\$ 3.700,00.
- C No sistema SAC, o valor da segunda prestação será inferior à prestação no sistema SAP.
- D A soma dos juros pagos no sistema SAC será superior à soma dos juros pagos no sistema SAP.