



# Governo do Estado da Paraíba

## Secretaria de Estado da Administração

### Fundação de Desenvolvimento da Criança e do Adolescente "Alice de Almeida" – FUNDAC

CONCURSO PÚBLICO  
Nível Fundamental

CARGO

# 15

MANHÃ

# MOTORISTA

**LEIA COM ATENÇÃO AS INSTRUÇÕES ABAIXO.**

- 1 Ao receber este caderno, verifique se ele contém cinquenta questões, correspondentes à prova objetiva, corretamente ordenadas de 1 a 50.
- 2 Caso o caderno tenha qualquer defeito, solicite ao fiscal de sala mais próximo que tome as providências cabíveis, pois não serão aceitas reclamações posteriores.
- 3 Não utilize lápis, lapiseira (grafite), borracha e(ou) qualquer material de consulta que não seja fornecido pelo CESPE/UnB.
- 4 Não se comunique com outros candidatos nem se levante sem autorização do chefe de sala.
- 5 A duração da prova é de **quatro horas**, já incluído o tempo destinado à identificação — que será feita no decorrer da prova — e ao preenchimento da folha de respostas.
- 6 Você deverá permanecer obrigatoriamente em sala por, no mínimo, **uma hora** após o início da prova e **não poderá levar este caderno de prova**. Para posterior conferência, apenas a capa deste caderno de prova, com as suas marcações anotadas no espaço abaixo, poderá ser levada e somente no decurso dos últimos **quinze minutos** anteriores ao horário determinado para o término da prova. Solicite que o fiscal a destaque para você.
- 7 Ao terminar a prova, chame o fiscal de sala mais próximo, devolva-lhe a sua folha de respostas e este caderno de prova e deixe o local de prova.
- 8 A desobediência a qualquer uma das determinações constantes no presente caderno ou na folha de respostas poderá implicar a anulação da sua prova.

#### AGENDA (datas prováveis)

- I 13/5/2008, após as 19 h (horário de Brasília) – Gabaritos oficiais preliminares da prova objetiva: Internet – [www.cespe.unb.br](http://www.cespe.unb.br).
- II 14 e 15/5/2008 – Recursos (prova objetiva): exclusivamente no Sistema Eletrônico de Interposição de Recurso, Internet, mediante instruções e formulários que estarão disponíveis nesse sistema.
- III 12/6/2008 – Resultados finais da prova objetiva e do concurso: Diário Oficial do Estado da Paraíba e Internet.

#### OBSERVAÇÕES

- Não serão objeto de conhecimento recursos em desacordo com o item 11 do Edital n.º 1/2007/SEAD/FUNDAC.
- Informações adicionais: telefone 0(XX) 61 3448-0100; Internet — [www.cespe.unb.br](http://www.cespe.unb.br).
- É permitida a reprodução deste material apenas para fins didáticos, desde que citada a fonte.

Espaço para anotação das respostas do candidato:



|    |    |    |    |    |    |    |    |    |    |    |    |    |    |    |    |    |    |    |    |    |    |    |    |    |
|----|----|----|----|----|----|----|----|----|----|----|----|----|----|----|----|----|----|----|----|----|----|----|----|----|
| 1  | 2  | 3  | 4  | 5  | 6  | 7  | 8  | 9  | 10 | 11 | 12 | 13 | 14 | 15 | 16 | 17 | 18 | 19 | 20 | 21 | 22 | 23 | 24 | 25 |
| 26 | 27 | 28 | 29 | 30 | 31 | 32 | 33 | 34 | 35 | 36 | 37 | 38 | 39 | 40 | 41 | 42 | 43 | 44 | 45 | 46 | 47 | 48 | 49 | 50 |



Nas questões de 1 a 50, marque, em cada uma, a única opção correta, de acordo com o respectivo comando. Para as devidas marcações, use a **folha de respostas**, único documento válido para a correção da sua prova.

## CONHECIMENTOS GERAIS

### Texto para as questões de 1 a 3

Forno de microondas, comida congelada, enlatados, e ainda geladeiras de última geração que descongelam sozinhas acabam com odores e decoram o ambiente. A cozinha de hoje não se parece em nada com aquela de 50 anos atrás. Quando, há meio século, as mulheres entraram no mercado de trabalho e diminuíram o tempo que passavam em casa, a indústria teve de se aperfeiçoar para oferecer o que essa nova rotina exigia: praticidade. Paralelamente, os homens descobriram o prazer da culinária e prezam uma cozinha sofisticada e integrada à área de convívio da casa.

Em decorrência dessas transformações, a sociedade mudou a forma de se relacionar com a comida, e as cozinhas tornaram-se espaços de convivência, ganharam *status* e até decoração condizente com o perfil do dono. Se antes o ambiente tinha de ser funcional, hoje precisa agradar aos olhos, antes de inspirar o paladar. As pesquisas mostram que é o estilo do eletrodoméstico que faz a diferença para o cliente.

Apesar disso, o tempo dedicado à alimentação diminuiu. Nos anos 70, era de duas horas, hoje é de apenas 15 minutos, em média, de acordo com pesquisa da Associação Brasileira de Indústria da Alimentação.

Revista do Correio, 6/4/2008, p. 3 (com adaptações).

### QUESTÃO 1

No texto apresentado, o autor destaca, no primeiro parágrafo, o forno de microondas, a comida congelada e os enlatados, principalmente, porque eles são

- A) práticos.
- B) baratos.
- C) duráveis.
- D) coloridos.

### QUESTÃO 2

De acordo com o texto, “Forno de microondas, comida congelada, enlatados, e ainda geladeiras de última geração que descongelam sozinhas” têm em comum o fato de que todos eles

- A) são produtos importados.
- B) poupam o tempo de quem cozinha.
- C) estão em todas as cozinhas brasileiras.
- D) fazem aumentar o tempo dedicado às refeições.

### QUESTÃO 3

De acordo com as informações do texto, o que continua igual ao que era há 50 anos é

- A) o ambiente da cozinha.
- B) o mercado de trabalho.
- C) a necessidade de preparar refeições.
- D) o tempo dedicado ao preparo da alimentação.

### QUESTÃO 4

Assinale a opção em que a substituição do trecho sublinhado pelo pronome em negrito está correta.

- A) Decoram o ambiente. / Decoram-**lo**.
- B) Os cozinheiros prezam uma cozinha bem equipada. / Os cozinheiros prezam-**a**.
- C) A decoração inspira o paladar. / A decoração inspira-**lhe**.
- D) Não conseguimos imaginar uma demora tão grande. / Não conseguimos imaginá-**la**.

### QUESTÃO 5

Assinale a opção em que o emprego dos sinais de pontuação está correto.

- A) A cozinha de hoje, não se parece em nada com aquela, de 50 anos atrás.
- B) Quando as mulheres entraram, há meio século, no mercado de trabalho, o tempo que passavam em casa diminuiu.
- C) Os homens descobriram, o prazer da culinária; e, prezam uma cozinha sofisticada e integrada, à área de convívio da casa.
- D) Nos anos 70 o tempo da refeição era de duas horas hoje é, de apenas, 15 minutos em média.

### QUESTÃO 6

Assinale a opção que apresenta concordância adequada para a escrita padrão.

- A) A roupa das mulheres de hoje não são como a do tempo de minha mãe.
- B) O tempo dedicado à convivência e ao lazer pelas mulheres diminuíram.
- C) A população, que antes queria economia, agora quer beleza e elegância.
- D) Hoje até a classe masculina querem usufruir dos prazeres de se trabalhar em uma cozinha.

### QUESTÃO 7

As opções a seguir, na ordem em que são apresentadas, são partes sucessivas de um texto adaptado. Assinale a opção que apresenta erro de grafia.

- A) Aquele era o dia ideal para a reunião, porque o hotel, depois do feriado, estava deserto.
- B) Felizmente, o tempo chuveiro, sempre temido, ainda não a via chegado.
- C) O pessoal foi chegando aos poucos e, logo, o salão estava cheio.
- D) Lucas era o encarregado de coordenar a reunião; por isso, estava nervoso.

**QUESTÃO 8**

As opções a seguir constituem, na ordem em que se apresentam, um texto adaptado. Assinale aquela em que só aparecem substantivos e pronomes.

- A A língua portuguesa de todo dia é simples e descontraída.
- B Se um amigo pergunta ao outro: “O que você ganhou?”
- C O outro pode responder, naturalmente:
- D “Grana, cobre, prata... dinheiro, meu amigo!”

**Texto para as questões 9 e 10****Poema**

- 1 Tarde triste e silenciosa  
de uma vila de beira-mar:  
uma tarde cor-de-rosa
- 4 que vai morrendo em luar...  
Ao longe, a várzea cintila  
de uns restos de sol poente;
- 7 mas por sobre toda a vila  
— do morro a que fica rente —  
desce uma sombra tranqüila
- 10 e anoitece lentamente.

Vicente de Carvalho. *Antologia poética para a infância e a juventude*. Rio de Janeiro: INL, 1961, p. 169.

**QUESTÃO 9**

No primeiro verso do poema apresentado, os adjetivos “triste” e “silenciosa” estão no feminino e no singular para concordar com

- A “Tarde” (v.1).
- B “vila” (v.2).
- C “beira-mar” (v.2).
- D “várzea” (v.5).

**QUESTÃO 10**

Para descrever a cena do poema, o autor empregou apenas verbos no

- A passado.
- B presente.
- C passado e no futuro.
- D presente e no futuro.

**QUESTÃO 11**

Dois amigos compraram uma *pizza* e a dividiram em duas partes iguais. Com a chegada de outros três amigos, eles repartiram cada um dos dois pedaços da *pizza* em cinco pedaços iguais. Considerando que cada um dos cinco amigos comeu a mesma quantidade da *pizza*, o número de pedaços que coube a cada um é igual a

- A 2.
- B 3.
- C 4.
- D 5.

**QUESTÃO 12**

Julgue os itens a seguir.

- I Existem números naturais que não são números inteiros.
- II A cada número inteiro corresponde outro número inteiro que, somado ao primeiro, dá como resultado o número zero.
- III Todo número racional é um número real.
- IV O número real representado pela dízima periódica  $0,333\dots$  não é um número racional.

Estão certos apenas os itens

- A I e III.
- B I e IV.
- C II e III.
- D II e IV.

**RASCUNHO**

### Texto para as questões de 13 e 14

Trinta lojistas compraram, para revender, calças, camisas e vestidos, em uma fábrica de confecções. Sabe-se que dos 30 lojistas:

- I apenas 3 compraram os três produtos referidos;
- II 9 compraram calças e vestidos;
- III 6 compraram camisas e vestidos;
- IV 3 compraram apenas camisas;
- V 9 compraram camisas;
- VI 15 compraram vestidos.

#### QUESTÃO 13

A quantidade de lojistas que compraram apenas calças é igual a

- A 12.
- B 10.
- C 8.
- D 6.

#### QUESTÃO 14

O número de lojistas que compraram apenas calças e camisas é igual a

- A 6.
- B 4.
- C 2.
- D 0.

### Texto para as questões de 15 a 16

No programa PETI, da FUNDAC/PB, as famílias que exercem atividades típicas da área urbana recebem uma bolsa mensal no valor de R\$ 40,00 para cada filho. As famílias que exercem atividades típicas da área rural recebem R\$ 25,00 ao mês, para cada filho.

Internet: <setras.pb.gov.br> (com adaptações).

Considere que os dados abaixo sejam relativos ao número de famílias que participam do PETI, em determinada região do estado da Paraíba, em que \* indica que o valor correspondente deverá ser determinado.

| número de famílias | atividade | número de filhos por família |
|--------------------|-----------|------------------------------|
| 32                 | urbana    | 1                            |
| 16                 | urbana    | 2                            |
| *                  | urbana    | 3                            |
| 20                 | rural     | 1                            |
| 40                 | rural     | 2                            |
| 25                 | rural     | 3                            |

#### QUESTÃO 15

Com base no texto e na tabela, na região mencionada, o número total de filhos das famílias que exercem atividade rural e recebem bolsa do PETI é

- A inferior a 180.
- B superior a 181 e inferior a 185.
- C superior a 186 e inferior a 190.
- D superior a 191.

#### QUESTÃO 16

Com relação às famílias incluídas no referido programa, se o estado da Paraíba gasta, mensalmente, R\$ 1.800,00 com bolsas para aquelas que têm 3 filhos e que exercem atividades urbanas, então o número dessas famílias é igual a

- A 8.
- B 10.
- C 12.
- D 15.

#### RASCUNHO

**QUESTÃO 17**

No Brasil, o Poder Legislativo dispõe de um mecanismo de investigação que, nos últimos anos, tem sido utilizado com frequência e, não raro, recebe grande atenção por parte dos meios de comunicação. Esse instrumento chama-se

- A** Comissão de Constituição e Justiça.
- B** Comissão de Orçamento e Finanças.
- C** Comissão de Relações Exteriores.
- D** Comissão Parlamentar de Inquérito.

**QUESTÃO 18**

Cinco vezes campeão mundial na modalidade, o Brasil tem como esporte preferido da população o

- A** futebol.
- B** voleibol.
- C** basquetebol.
- D** tênis de mesa.

**QUESTÃO 19**

Neste primeiro semestre de 2008, verdadeira epidemia assustou a sociedade brasileira, demonstrando pontos vulneráveis na saúde pública do país. Assinale a opção que identifica esse epidemia e a cidade onde tal doença atingiu sua maior dimensão.

- A** poliomielite – Aracaju
- B** sarampo – São Paulo
- C** crupe – Manaus
- D** dengue – Rio de Janeiro

**QUESTÃO 20**

Os exemplos de políticas públicas de bons resultados, que desempenham há algum tempo importante papel social nas escolas públicas brasileiras, incluem

- A** a distribuição universalizada de computadores e de acesso à Internet.
- B** os programas da merenda escolar e do livro didático.
- C** aprovação automática dos alunos e o fim das apostilas.
- D** a terceirização dos professores e funcionários.

**QUESTÃO 21**

Confirmado em plebiscito, o Brasil de hoje é uma

- A** República presidencialista.
- B** República parlamentarista.
- C** Monarquia constitucional.
- D** Confederação.

**QUESTÃO 22**

A questão ambiental entrou na agenda do mundo contemporâneo. A região brasileira que mais chama a atenção de especialistas e de instituições mundiais, justamente por sua importância para o planeta, é a

- A** chapada Diamantina.
- B** chapada dos Guimarães.
- C** floresta amazônica.
- D** floresta de araucária.

**QUESTÃO 23**

Os alimentos que o ser humano consome devem contribuir para o crescimento do corpo humano e torná-lo resistente às doenças, além de fornecer energia para o desempenho das diversas atividades orgânicas. Quanto aos cuidados com os alimentos e à alimentação, assinale a opção correta.

- A** Verduras e legumes devem ser lavados antes de consumidos.
- B** A ingestão de alimentos crus não apresenta, de forma alguma, riscos à saúde e é benéfica por fortalecer os músculos.
- C** Para o organismo funcionar bem, é importante se comer uma grande quantidade de cada tipo de nutrientes e em proporções iguais.
- D** A água de poço é pura e não precisa ser filtrada nem fervida para ser consumida.

**QUESTÃO 24**

Assinale a opção correta com referência aos problemas mais comuns e cuidados relacionados aos cabelos e ao couro cabeludo.

- A** A infestação por piolhos (pediculose) se manifesta na cabeça pela presença de parasitas no couro cabeludo e só é transmitida por meio da utilização de escova ou pente contaminados pelos mesmos.
- B** A caspa é doença contagiosa e transmissível, que deve ser tratada com antibióticos de uso oral.
- C** Os carrapatos são pequenos parasitas que podem alojar-se no couro cabeludo; para extraí-los, o procedimento correto é arrancá-los da pele com as mãos.
- D** A queda de cabelos pode estar relacionada a práticas impróprias de cuidado com os cabelos, como o uso indevido de secadores e produtos químicos.

**QUESTÃO 25**

Assinale a opção correta no tocante aos problemas mais comuns relativos aos cuidados com os pés e as unhas.

- A** A inflamação do tecido que circunda a unha pode ser tratada colocando-se esterco de vaca sobre o local.
- B** O pé-de-atleta, fissura causada pela umidade, não é transmissível e pode ser tratado aplicando-se borra de café com leite sobre a lesão.
- C** A unha encravada geralmente resulta do corte incorreto da unha, que deve ser cortada uniformemente e em linha reta.
- D** Odores no pé resultam de transpiração excessiva e podem ser solucionados diminuindo-se a frequência da lavagem dos pés para evitar o excesso de umidade.

**QUESTÃO 26**

A pele é um órgão ativo com funções importantes, como a de proteção. Os cuidados para a manutenção da pele saudável incluem

- Ⓐ o hábito de tomar banho várias vezes ao dia, usando sempre sabonetes e evitando aplicar cremes.
- Ⓑ o uso de cosméticos e cremes variados, principalmente no rosto, acompanhado da remoção, com as unhas, de todas as acnes (ou espinhas) formadas.
- Ⓒ a aplicação de preparados caseiros nas rachaduras e lesões que não cicatrizam.
- Ⓓ a realização de exercícios físicos regulares, acompanhados de boa nutrição e da ingestão de líquidos.

**QUESTÃO 27**

Em centros urbanos e em comunidades rurais, é necessário que as condições de moradia sejam adequadas para que o nível de saúde da população seja satisfatório. Com relação a esse assunto, assinale a opção correta.

- Ⓐ O sistema de abastecimento de água mais adequado é o que não depende do abastecimento de companhias de águas e esgoto, pois a água retirada diretamente dos rios tem menos impurezas.
- Ⓑ Quando não existe um sistema de esgotamento sanitário, o mais adequado é construir fossas próximas aos riachos ou córregos.
- Ⓒ O acúmulo do lixo em locais inadequados propicia a proliferação de vetores que, nele encontrando alimento, abrigo e condições favoráveis, ocasionam doenças ao homem.
- Ⓓ A incineração de resíduos infectados é a alternativa mais adequada para lidar com esse tipo de lixo.

**QUESTÃO 28**

O termo ruído pode ser utilizado para descrever um som desagradável ou incômodo, como, por exemplo, o emitido por máquinas. A presença desse tipo de agente em um ambiente de trabalho é considerada um risco do tipo

- Ⓐ químico.
- Ⓑ biológico.
- Ⓒ físico.
- Ⓓ ambiental.

**QUESTÃO 29**

De acordo com o Código de Trânsito Brasileiro (CTB), no estado da Paraíba, o órgão executivo de trânsito responsável por realizar, fiscalizar e controlar o processo de formação, aperfeiçoamento, reciclagem e suspensão de condutores, por expedir e cassar Licença de Aprendizagem, Permissão para Dirigir e Carteira Nacional de Habilitação, mediante delegação do órgão federal competente, é

- Ⓐ o Departamento de Trânsito do Estado da Paraíba.
- Ⓑ o Conselho Estadual de Trânsito da Paraíba.
- Ⓒ a Junta Administrativa de Recursos de Infrações.
- Ⓓ a Polícia Militar do Estado da Paraíba.

**QUESTÃO 30**

O Conselho Nacional de Trânsito (CONTRAN) é coordenador e órgão máximo normativo e consultivo do Sistema Nacional de Trânsito. A composição do CONTRAN inclui um representante

- Ⓐ da Casa Civil da Presidência da República.
- Ⓑ do Ministério da Fazenda.
- Ⓒ de cada estado da Federação.
- Ⓓ do Ministério dos Transportes.

**QUESTÃO 31**

Com relação às normas gerais de circulação previstas no CTB, assinale a opção correta.

- Ⓐ Logo depois de colocar o veículo em circulação nas vias públicas, o condutor deve verificar as condições de funcionamento dos equipamentos de uso obrigatório e assegurar-se da existência de combustível suficiente para chegar ao local de destino.
- Ⓑ A circulação deve ocorrer sempre pelo lado direito da via e as ultrapassagens devem ser feitas sempre pela esquerda, não se admitindo exceções.
- Ⓒ Quando dois veículos se aproximarem de rotatória que não disponha de sinalização, terá preferência de passagem o veículo que estiver circulando pela direita.
- Ⓓ Em situações excepcionais, a autoridade de trânsito poderá permitir o trânsito de veículos sobre passeios, calçadas e nos acostamentos mesmo que não seja para adentrar imóveis ou áreas especiais de estacionamento ou para sair desses locais.

**QUESTÃO 32**

Ainda a respeito das normas gerais de circulação previstas no CTB, assinale a opção correta.

- Ⓐ Quando uma pista de rolamento tiver várias faixas de circulação no mesmo sentido, as da direita serão destinadas ao deslocamento dos veículos mais lentos e também aos de menor porte (motocicletas e bicicletas) — quando não houver faixa especial a eles destinada — e as da esquerda, destinadas à ultrapassagem e ao deslocamento dos veículos de maior velocidade.
- Ⓑ Nas capitais dos estados, os veículos do corpo de bombeiros destinados a socorro de incêndio e salvamento gozam de livre circulação, estacionamento e parada, mesmo quando não estão em serviço de urgência.
- Ⓒ O condutor não poderá ultrapassar veículos em vias com duplo sentido de direção e pista única, nos trechos em curvas e em aclives sem visibilidade suficiente, nas passagens de nível, nas pontes e viadutos e nas travessias de pedestres, exceto quando houver sinalização que permita a ultrapassagem.
- Ⓓ Em uma pista de rolamento com três faixas de circulação no mesmo sentido, o condutor que trafega pela faixa do centro, ao perceber que outro que o segue quer ultrapassá-lo, deverá deslocar seu veículo para a faixa da direita, sem acelerar a marcha.


**QUESTÃO 33**

Assinale a opção correta a respeito das determinações previstas no CTB quanto ao uso das luzes dos veículos.

- A Durante a noite, em vias com iluminação pública, o condutor deverá manter acesos os faróis do veículo, utilizando luz baixa; nos túneis que tenham iluminação pública, tanto à noite quanto de dia, o condutor deve manter os faróis do veículo apagados para evitar ofuscamento.
- B A troca de luz baixa e luz alta, de forma intermitente e por curto período de tempo, com o objetivo de advertir outros motoristas, não pode ser utilizada para indicar ao condutor do veículo que segue no sentido oposto a existência de fiscalização rodoviária na via.
- C Em imobilizações ou situações de emergência, bem como em trechos montanhosos, com aclives ou declives acentuados, sob chuva forte, neblina ou cerração, o condutor deve trafegar com o pisca-alerta ligado.
- D O condutor deve manter acessas, à noite, as luzes de posição e o pisca-alerta quando o veículo estiver parado para fins de embarque ou desembarque de passageiros e para carga ou descarga de mercadorias.

**QUESTÃO 34**

De acordo com o CTB, assinale a opção correta quanto a operações de carga ou descarga, parada e estacionamento.

- A Para realizar carga ou descarga em cidade provida de pavimentação e calçamento, o condutor deve posicionar seu veículo no sentido do fluxo, paralelo ao bordo da pista de rolamento e junto à guia da calçada (meio-fio), admitidas as exceções devidamente sinalizadas.
- B Quando proibido o estacionamento na via, a parada deverá restringir-se ao tempo indispensável para embarque ou desembarque de passageiros ou para a operação de carga ou descarga.
- C Para desembarcar, o condutor ou passageiro devem abrir a porta do veículo e, logo em seguida, certificar-se de que o desembarque não acarretará perigo para eles e para outros usuários da via.
- D Considerando que um condutor esteja trafegando em área sinalizada com a placa , é correto afirmar que ele não poderá estacionar nessa área.

**QUESTÃO 35**

Considerando a terminologia adotada pelo CTB, assinale a opção que apresenta associação correta entre o termo e a sua descrição.

- A Microônibus — veículo automotor de transporte coletivo com capacidade para até 22 passageiros.
- B Camioneta — veículo misto destinado ao transporte de passageiros e carga no mesmo compartimento.
- C Ônibus — veículo automotor de transporte coletivo com capacidade para mais de 22 passageiros, ainda que, em virtude de adaptações com vistas à maior comodidade desses, possa transportar um número menor.
- D Motoneta — veículo de duas ou três rodas, provido de um motor de combustão interna, cuja cilindrada não exceda a 50 cm<sup>3</sup> e cuja velocidade máxima de fabricação não exceda a 50 km/h.

**QUESTÃO 36**

A sinalização tem a seguinte ordem de prevalência:

- I as ordens do agente de trânsito sobre as normas de circulação e outros sinais;
- II as indicações do semáforo sobre os demais sinais;
- III os gestos dos condutores sobre a sinalização vertical;
- IV as indicações dos sinais sobre as demais normas de trânsito.

A quantidade de itens certos é igual a

- A 0.
- B 1.
- C 2.
- D 3.

**QUESTÃO 37**

Com relação ao uso de pisca-alerta e buzina em veículos automotores, assinale a opção correta.

- A Fazer advertências necessárias a fim de evitar acidentes é uma das situações em que, de acordo com o CTB, é permitido o uso de buzina.
- B Alguns dos artigos do CTB são voltados para a segurança no trânsito; um deles recomenda que, em nenhuma situação, o condutor deverá frear bruscamente seu veículo.
- C Em trechos de declives acentuados na regiões serranas, o condutor deve trafegar com seu veículo engrenado, em velocidade reduzida e com o pisca-alerta ligado, para alertar os condutores à sua traseira quanto aos riscos da via de circulação.
- D Em uma rodovia, o condutor de veículo não pode fazer uso de buzina para advertir a um outro condutor sobre o propósito de ultrapassá-lo.

**QUESTÃO 38**

Figura I

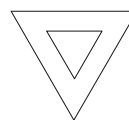


Figura II

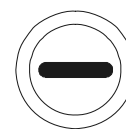


Figura III



Figura IV





Com referência às placas de sinalização vertical mostradas nas figuras acima, assinale a opção correta.

- A As figuras I e II ilustram placas de advertência.
- B As figuras III e IV ilustram placas de regulamentação.
- C A placa da figura III significa **Proibido seguir em frente**.
- D A placa da figura IV significa **Veículos lentos conservem-se à direita**.



**QUESTÃO 39**

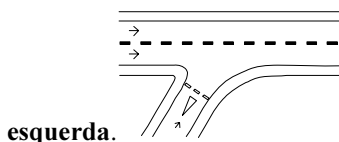
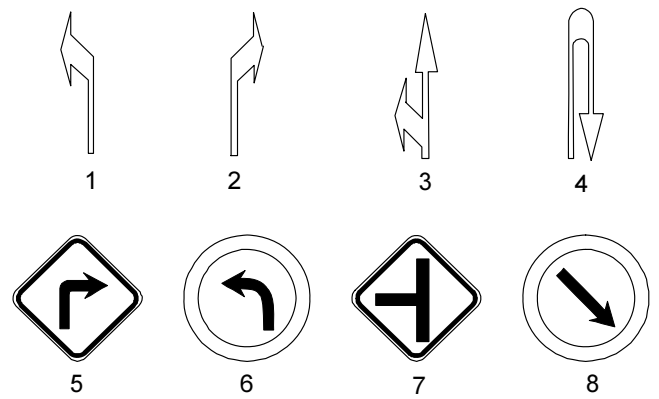
Com relação às placas de sinalização vertical, assinale a opção correta.

- A** A placa  significa que é **Proibido ultrapassar**.
- B** A placa  proíbe a circulação de veículos com mais de 10 metros de comprimento.
- C** A placa  alerta o condutor para a existência de uma condição adversa: vento lateral.
- D** A placa  significa **Início de pista dupla**.

**QUESTÃO 40**

A sinalização horizontal é um subsistema da sinalização viária que se utiliza de linhas, marcações, símbolos e legendas, pintados ou apostos sobre o pavimento das vias. Com relação a esse subsistema de sinalização viária, assinale a opção correta.

- A** A sinalização horizontal é apenas de advertência; por isso, seu descumprimento não significa infração nem acarreta multa.
- B** Na sinalização de separação de fluxos opostos em um trecho em que seja proibido ultrapassar, o leito da via é dividido com faixa branca contínua.
- C** Em trecho com duas ou mais faixas de circulação no mesmo sentido e separadas por faixas contínuas, sob condições normais de circulação, são proibidas a ultrapassagem e a transposição de faixas.
- D** No encontro de vias mostrado na figura a seguir, a sinalização triangular na parte inferior significa **Confluência à esquerda**.

**QUESTÃO 41**

Entre as placas de sinalização vertical e as marcas de sinalização horizontal mostradas nas figuras acima, há correspondência de significado entre as sinalizações apresentadas nas figuras

- A** 1 e 6.  
**B** 2 e 5.  
**C** 3 e 7.  
**D** 4 e 8.

**QUESTÃO 42**

Quanto à gravidade, as infrações de trânsito são classificadas em

- A** levíssimas, leves, graves e gravíssimas.  
**B** leves, graves, muito graves e gravíssimas.  
**C** levíssimas, muito graves e gravíssimas.  
**D** leves, médias, graves e gravíssimas.

**QUESTÃO 43**

De acordo com o edital do concurso da FUNDAC, para o cargo de motorista o candidato deverá, entre outros requisitos, possuir, no mínimo, Carteira Nacional de Habilitação (CNH) de categoria C. Isso significa que o candidato a motorista da FUNDAC deverá ter habilitação para conduzir

- A** veículo motorizado utilizado no transporte de escolares.  
**B** veículo motorizado utilizado em transporte de carga, cujo peso bruto total exceda a três mil e quinhentos quilogramas.  
**C** microônibus utilizado no transporte de turistas.  
**D** ônibus empregado no transporte coletivo.

**QUESTÃO 44**

De modo geral, no atendimento de primeiros socorros a vítima de ferimentos em acidente de trânsito prestado por atendente que não seja especialista, deve-se

- Ⓐ oferecer água ou algum refrigerante à vítima, para acalmá-la e evitar desidratação.
- Ⓑ evitar remover a vítima, para não haver perigo iminente de agravamento da situação.
- Ⓒ contar à vítima a real situação das suas lesões, para que ela colabore com o atendente.
- Ⓓ oferecer à vítima algum medicamento analgésico ou relaxante, para que ela não sofra durante o atendimento.

**QUESTÃO 45**

Na figura acima, é demonstrada uma forma de imobilização muito utilizada no atendimento de primeiros socorros a vítima de acidente em membros superiores. Esse tipo de imobilização é denominado

- Ⓐ garrote.
- Ⓑ compressa.
- Ⓒ tipóia.
- Ⓓ torniquete.

**QUESTÃO 46**

Com relação aos quadros de desmaio e de ameaça de desmaio, assinale a opção correta.

- Ⓐ Um dos sintomas apresentados por vítima de ameaça de desmaio é a vermelhidão da face.
- Ⓑ Na maioria dos casos, a vítima não percebe que vai desmaiar e o desmaio torna-se inevitável.
- Ⓒ Os sintomas apresentados por vítima de desmaio incluem inconsciência, pulso e respiração fortes e pele seca (sem suor).
- Ⓓ A vítima de desmaio deve ser deitada com a cabeça mais baixa que o corpo ou no mesmo nível, e, se possível, suas pernas devem ser mantidas ligeiramente levantadas.

**QUESTÃO 47**

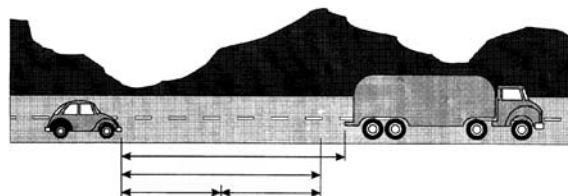
Assinale a opção que apresenta associação correta entre o tipo de emergência e o sintoma apresentado.

- Ⓐ fratura de coluna cervical — paralisia dos dedos das mãos ou dos pés
- Ⓑ fratura de crânio — ausência de movimentos do tórax
- Ⓒ estado de choque — ausência de pulsação
- Ⓓ convulsão — hemorragia no nariz, boca ou ouvido

**QUESTÃO 48**

Assinale a opção correta com relação às recomendações de direção defensiva.

- Ⓐ Os espelhos retrovisores do veículo devem ser regulados com o veículo em movimento, de forma que sejam evitados erros no ajuste desses dispositivos.
- Ⓑ Em declives, a utilização de *banguela* (trafegar com o câmbio do veículo em ponto morto ou neutro) só é permitida em trechos onde não trafeguem outros veículos e desde que não se esteja transportando passageiros.
- Ⓒ Ao se frear o veículo em pista molhada, deve-se utilizar o pedal de freio com extremo cuidado e manter a direção firme e sempre em linha reta.
- Ⓓ Em situações de má visibilidade, deve-se reduzir a velocidade do veículo bruscamente, para que colisões contra a traseira de outros veículos sejam evitadas.

**QUESTÃO 49**

Ainda com relação às recomendações de direção defensiva e considerando a figura acima, assinale a opção que apresenta associação correta com relação a distância de seguimento (DS), distância de reação (DR), distância de parada (DP) e distância de frenagem (DF).

- Ⓐ  $DS = DP + DF$
- Ⓑ  $DR = DS - DP$
- Ⓒ  $DP = DR + DF$
- Ⓓ  $DF = DR - DP$

**QUESTÃO 50**

A placa de sinalização vertical ilustrada na figura acima alerta o condutor quanto à existência de condição adversa do(a)

- Ⓐ luz.
- Ⓑ via.
- Ⓒ veículo.
- Ⓓ clima.





**cespeUnB**

Centro de Seleção e de Promoção de Eventos