


Tribunal de Justiça do Estado de Pernambuco
Poder Judiciário
de Pernambuco



Concurso Público

CARGO:

TÉCNICO JUDICIÁRIO
DA 2.^a ENTRÂNCIA

CADERNO DE PROVAS

(Aplicação: 1.º/7/2001)



TRIBUNAL DE JUSTIÇA DO ESTADO DE PERNAMBUCO
Concurso Público (Aplicação: 1.º/7/2001)
CARGO: TÉCNICO JUDICIÁRIO DA 2.ª ENTRÂNCIA

INSTRUÇÕES

- 1 Este caderno consta de **quarenta** questões objetivas, assim distribuídas: **doze** questões de **LÍNGUA PORTUGUESA**, **cinco** questões de **NOÇÕES DE DIREITO ADMINISTRATIVO E NOÇÕES DE DIREITO CONSTITUCIONAL**, **cinco** questões de **NOÇÕES DE DIREITO CIVIL E NOÇÕES DE DIREITO PROCESSUAL CIVIL**, **cinco** questões de **NOÇÕES DE DIREITO PENAL E NOÇÕES DE DIREITO PROCESSUAL PENAL**, **oito** questões de **CONHECIMENTOS DE INFORMÁTICA** e **cinco** questões de **CONHECIMENTOS GERAIS**.
- 2 Caso este caderno esteja incompleto ou tenha qualquer defeito, o candidato deverá solicitar ao fiscal de sala mais próximo que o substitua.
- 3 Recomenda-se não marcar ao acaso: cada questão cuja resposta diverja do gabarito oficial definitivo acarretará a perda de um quarto do valor de questão certa, conforme consta no Edital n.º 1/2001 – TJPE, de 27/4/2001.
- 4 Não é permitida a consulta a livros, dicionários, apontamentos, apostilas, régua, calculadoras ou qualquer outro material.
- 5 Durante as provas, o candidato não deve levantar-se nem comunicar-se com outros candidatos.
- 6 A duração das provas é de **três horas e trinta minutos**, já incluído o tempo destinado à identificação — que será feita no decorrer das provas — e ao preenchimento da Folha de Respostas.
- 7 A desobediência a qualquer uma das recomendações constantes nas presentes Instruções, na Folha de Rascunho ou na Folha de Respostas poderá implicar a anulação das provas do candidato.

AGENDA

- I **3/7/2001** – divulgação do gabarito oficial preliminar das provas objetivas, no Jornal do Comércio, no Diário de Pernambuco e na Internet — no endereço <http://www.cespe.unb.br>.
- II **4 e 5/7/2001** – recebimento de recursos das provas objetivas, nos locais e horários a serem informados juntamente com a divulgação do gabarito oficial preliminar das provas objetivas.
- III **19/7/2001** – data provável da divulgação (após a apreciação de eventuais recursos), no Diário Oficial do Poder Judiciário de Pernambuco e nos locais mencionados no item I: do resultado final das provas objetivas para candidatos ao cargo de Taquígrafo Judiciário e da convocação para a prova de apanhamento taquigráfico; do resultado final do concurso e da convocação para perícia médica para os candidatos aos demais cargos que realizarem provas no dia 1.º/7/2001.

Observações:

- Não serão objeto de conhecimento recursos em desacordo com o estabelecido no título **10 DOS RECURSOS** do Edital n.º 1/2001 – TJPE, de 27/4/2001.
 - Informações relativas a resultado não serão prestadas por telefone.
 - É permitida a reprodução deste material, desde que citada a fonte.
-



TRIBUNAL DE JUSTIÇA DO ESTADO DE PERNAMBUCO
Concurso Público (Aplicação: 1.º/7/2001)
CARGO: TÉCNICO JUDICIÁRIO DA 2.ª ENTRÂNCIA

Nas questões de 1 a 40, marque, em cada uma, a única opção correta, de acordo com o respectivo comando. Na Folha de Respostas, a indicação do campo SR é facultativa e não contará para efeito de avaliação; servirá somente para caracterizar que o candidato desconhece a resposta correta.

LÍNGUA PORTUGUESA

Texto LP-I – questões de 1 a 3

Tomates silvestres

1 Morador de um barraco na periferia de São Paulo e sem
nenhum antecedente criminal, Donisete Borges da Silva estava
desempregado há quase dois anos, quando sentiu na pele as
4 conseqüências da exclusão social. Detido pela polícia no meio da
tarde, enquanto catava tomates silvestres em um terreno baldio,
ele acreditou que seria liberado a tempo de ir para a escola
7 noturna, onde fazia o terceiro ano do segundo grau. Acusado de
participar de um assalto a um supermercado, seguido de morte,
Donisete só saiu da cadeia um ano e sete meses depois, após ser
10 inocentado por um júri popular. “Se não fosse a persistência de
meu irmão mais velho, que procurou ajudar por todos os lados, eu
estaria na cadeia até hoje”, comentou Donisete. Tudo indica que
13 ele foi vítima de uma acusação injusta. De qualquer forma,
prender antes de julgar é uma medida que só se justifica em
situações excepcionais. E isso não tem nada a ver com culpa nem
16 com necessidade de punição.

Istoé, 11/4/2001, p. 43 (com adaptações).

QUESTÃO 1

Com relação às idéias do texto LP-I, assinale a opção correta.

- A Donisete foi preso pela polícia porque estava catando tomates em um lixão.
- B Apesar de haver sido preso injustamente, Donisete era um fora-da-lei.
- C Ao ser preso, Donisete se deu conta de que só sairia da cadeia em um ano e sete meses.
- D Donisete foi solto graças aos bons serviços de seu advogado.
- E Segundo o autor, salvo em situações excepcionais, uma pessoa só deve ser presa depois de julgada.

QUESTÃO 2

No que se refere ao conteúdo do texto LP-I, assinale a opção incorreta.

- A O texto pode ser dividido em duas partes: um exemplo ilustrativo, em que se narra o que aconteceu a uma pessoa, e uma opinião do autor.
- B Pela sua concisão e precisão vocabular, pode-se afirmar que o texto é um exemplo do estilo jornalístico.
- C O segundo e o terceiro períodos começam por adjetivos derivados de substantivos.
- D No que tange ao significado, os vocábulos “Silva” (l.2) e “silvestres” (l.5) pertencem ao mesmo campo semântico.
- E O quarto período pode, sem alteração de sentido, ser assim redigido: **Donisete comentou que, se não fosse a persistência de seu irmão mais velho, que procurou ajuda por todos os lados, ele estaria na cadeia até hoje.**

QUESTÃO 3

Com base no conteúdo do texto LP-I, assinale a opção correta.

- A Na linha 3, o vocábulo “há” pode ser substituído por **a**, sem que se incorra em erro.
- B Infere-se da expressão “sentiu na pele” (l.3) que Donisete sofreu agressões físicas na cadeia.
- C A expressão “terreno baldio” (l.5) designa uma porção de terra onde se cultivam vegetais.
- D Na linha 9, o vocábulo “só” pode ser substituído por **sozinho**, sem que haja mudança de sentido.
- E Na linha 15, se o vocábulo “nada” for anteposto ao verbo, a palavra “não” pode ser suprimida sem que haja alteração de sentido.

Crime em Santa Teresa

1 Restou uma família estilhaçada.

2 O pai, sobrevivente da tragédia, pede paz para que os filhos possam continuar a viver.

3 Os filhos — uma menina de treze anos de idade, com seqüelas da violência, e um garoto de quinze anos de idade, testemunha da agonia — tentam apagar da memória o calvário da mãe estuprada, esfaqueada, escarpelada e morta por marginais.

4 A mãe, uma fonoaudióloga simpatizante de causas humanitárias, talvez tenha cometido um deslize ao comover-se com a vida miserável do pedreiro que trabalhava em sua casa.

5 Tentou ajudá-lo, dando-lhe roupas e móveis usados.

6 Ingenuamente, foi generosa com aquele que seria um de seus assassinos.

7 A trama encerra uma ciranda de horrores: o crime ocorrido em Santa Teresa, no Rio, na noite de 26 de abril, não só causou comoção como alimentou ondas de fúria vingativa em todo o país.

8 Não pode, nem deve, entrar para a galeria da impunidade nacional.

9 Com desdobramentos patéticos, o caso despertou reações descontraídas até mesmo entre credenciados defensores da lei.

10 “Pena de morte, não.”

11 “É uma agressão à condição humana”, declarou, na quinta-feira, o presidente do Supremo Tribunal Federal (STF).

12 Falou como jurista, não como pai de família.

Época, 7/5/2001, p. 77 (com adaptações).

QUESTÃO 4

O texto LP-II encontra-se distribuído em frases numeradas, cada uma iniciando em uma nova linha. Assinale a opção correta quanto ao conteúdo das frases e à ordenação da seqüência dos acontecimentos.

- A motivo pelo qual um crime bárbaro foi cometido contra vítima indefesa — frases 1, 2 e 6
- B descrição da cena do crime e das reações dos que presenciaram a barbárie — frases 3 e 4
- C conseqüências da violência e repercussões nos diretamente envolvidos — frases 2, 3 e 4
- D manifestação a respeito de prováveis punições para os assassinos — frases 5, 10 e 11
- E comentários do repórter acerca do acontecido — frases 8, 9 e 12

QUESTÃO 5

Segundo o dicionário **Novo Aurélio — Século XXI**, o parágrafo caracteriza-se por ser a unidade de texto escrito cuja função é indicar serem as frases nela contidas o desenvolvimento de uma idéia, estando mais intimamente relacionadas entre si do que as demais frases do texto. Em função disso, assinale a opção correta quanto à distribuição das frases do texto LP-II em parágrafos.

- A As frases devem ser reunidas em dois únicos parágrafos, frases de 1 a 5 e de 6 a 12, pois o texto apresenta apenas duas idéias complementares.
- B As frases 1, 2 e 3 podem constituir o primeiro parágrafo, pois apresentam as vítimas remanescentes da violência contra a matriarca da família.
- C As frases 4, 5 e 6 devem constituir um parágrafo, pois desenvolvem as razões últimas da violência cometida.
- D As frases 7, 8 e 9, reunidas em um parágrafo, expõem, exclusivamente, as circunstâncias espaciais e temporais em que se desenrolou a ação.
- E É necessário que as frases 10, 11 e 12 fiquem juntas, em um parágrafo, porque se referem à manifestação de uma personalidade do sistema judiciário brasileiro.

QUESTÃO 6

Considerando as relações sintáticas dentro dos períodos do texto LP-II, assinale a opção **incorreta**.

- A Em 1, a oração absoluta apresenta posposto o sujeito da ação verbal.
- B Em 2, a oração principal, além do sujeito explícito, apresenta um predicado com um complemento verbal.
- C Em 3, o período é composto por uma única oração.
- D Em 4, a construção da frase explícita que o sujeito passivo não praticou a ação expressa pelo verbo.
- E Em 5, o sujeito é a “fonoaudióloga simpatizante de causas humanitárias”, e o referente do pronome oblíquo *o*, em “lo”, é o pedreiro, citados na frase anterior.

QUESTÃO 7

Assinale a opção **incorreta** quanto ao respeito às normas gramaticais.

- A Um crime ediondo como este não pode e nem deve entrar para a galeria nacional da impunidade.
- B O crime, com patéticos desdobramentos, despertou reações descontraídas mesmo até entre credenciados defensores da lei.
- C O jurista declarou que, mesmo para este caso, era desfavorável à aplicação da pena de morte.
- D O presidente do STF, com referência à pena de morte, declarou-se contrário, argumentando que tal penalidade é uma agressão à condição humana.
- E Foi o legislador que deu tal depoimento a respeito desse crime, porque, se tanta barbaridade houvesse sido cometida contra uma pessoa da sua família, talvez sua opinião fosse diferente.

I – Maconha na escola

No Rio de Janeiro, houve a expulsão de quatro alunos de uma escola de vanguarda, por terem assumido que estavam fumando maconha em uma excursão a Ouro Preto. Os meninos foram flagrados, ou quase, quando a professora, em um quarto ao lado, resolveu reclamar do barulho do quarto vizinho.

Ao chegar, sentiu o cheiro da erva e eles admitiram logo que tinham fumado. Podiam alegar que não era bem assim, que aquele cheiro não era de maconha, que não tinham trágado. Mas eles preferiram dizer a verdade inteira.

A pena máxima provocou protestos dos colegas. Eles se sentiram traídos por um centro de ensino reconhecidamente liberal, de excelência, compreensivo, que dá prioridade ao pensamento crítico e por isso mesmo é preferido da elite cultural da cidade que ali matricula seus filhos.

Em uma das manifestações de rua, havia a seguinte mensagem de ácida ironia anti-hipocrisia: “Não seja honesto, não admita seus atos, minta. Aprendi isso na escola.”

II – Maconha no *drive-thru*

Algumas drogas, como a maconha e o haxixe, são liberadas na Holanda e podem ser encontradas em qualquer esquina. A facilidade final acaba de ser anunciada: o *drive-thru* das drogas. Como ocorre com lanchonetes, será possível adquirir o produto sem descer do carro.

As duas primeiras lojas, chamadas eufemisticamente de cafés, serão inauguradas no ano que vem na cidade de Venlo, na fronteira com a Alemanha, para atender os turistas das drogas.

Essa iniciativa oficial parte do princípio de que tudo o que é proibido acaba acirrando a curiosidade do jovem; em contrapartida, tudo o que é liberado desestimula o interesse e, por conseguinte, a procura. Assim, esperam alterar o consumo de tais produtos.

Paradoxo? Ironia? Como classificar essa situação? Se alguém for analisar as estratégias empregadas, com vistas ao aumento, à diminuição ou à extinção do consumo de drogas, a partir de reflexões dialéticas, poderá dizer:

“Nem tanto...”

Época, 7/5/2001, p. 33 e 67 (com adaptações).

QUESTÃO 8

A respeito das informações que compõem o texto LP-III, julgue os itens a seguir.

- I Os estudantes, ao chegarem ao quarto e serem flagrados pelo cheiro da erva, admitiram logo que tinham fumado.
- II Os protagonistas da situação narrada no fragmento I alegariam não ser verdade a acusação de que tinham fumado maconha, se eles preferissem a mentira à verdade.
- III Livre consumo de drogas, de acordo com o fragmento II, é privilégio da elite que tem dinheiro para manter os filhos em boas escolas e para comprar alimentos em lojas do tipo *drive-thru*.
- IV A expressão “Olho por olho, dente por dente” pode ser associada tanto ao fragmento I quanto ao fragmento II.
- V Tal qual ocorre em lanchonetes e em bares brasileiros, em que se adquirem mercadorias sem descer do carro, pelo sistema *drive-thru*, será possível adquirir drogas, na Holanda, em um futuro próximo.

A quantidade de itens certos é igual a

- A** 1. **B** 2. **C** 3. **D** 4. **E** 5.

QUESTÃO 9

A partir da leitura comparativa dos fragmentos que compõem o texto LP-III, assinale a opção correta.

- A** O assunto é único: as ações de usuários de maconha em prol da alteração das leis que regulam a circulação de drogas consideradas leves.
- B** Um fator distintivo entre os fragmentos está no uso da linguagem: em I, é predominantemente conotativa, e, em II, denotativa.
- C** Embora o assunto esteja inserido em contextos culturais distintos, em cada um dos fragmentos, não há grandes diferenças entre as condutas dos líderes comunitários.
- D** A ironia no tratamento do assunto e a associação da maconha à juventude são traços comuns a ambos os fragmentos.
- E** A presença de discurso direto, expressando opiniões acerca do assunto em pauta, promove aproximação temática dos dois textos.

QUESTÃO 10

Reunidos em assembléia, os membros da Associação Estudantil da escola de onde os estudantes foram expulsos, conforme fragmento I do texto LP-III, sabedores da realidade da Holanda, referida no fragmento II do mesmo texto, e revoltados com a iniciativa tomada pela direção do colégio, por julgá-la intempestiva e contraditória perante as normas liberais do regimento disciplinar, resolveram encaminhar, ao diretor do estabelecimento de ensino, um documento coletivo, solicitando a revisão e a suspensão da pena imposta aos quatro companheiros. Para tanto, escolheram formalizar o pedido em um documento que expressasse, da maneira mais adequada, as aspirações da maioria.

Na situação hipotética descrita, as várias opções de correspondência oficial a ser enviada ao diretor do estabelecimento incluem o(a)

- I abaixo-assinado.
- II carta.
- III *e-mail* (mensagem de correio eletrônico).
- IV requerimento.

A quantidade de itens certos é igual a

- A** 0. **B** 1. **C** 2. **D** 3. **E** 4.

QUESTÃO 11

Julgue os itens abaixo com referência aos princípios de pontuação, de concordância e de regência nominal e verbal.

- I Os estudantes consideraram que, por parte dos diretores da escola liberal em que estudavam houveram traições a assumida postura crítica.
- II Com base nos princípios de que a proibição acirra a curiosidade e de que, em contrapartida, a liberação diminui o interesse, os holandeses esperam controlar o consumo de drogas.
- III Em manifestações de protesto existiam na rua, mensagens ácidas contrária à hipocrisia do colégio de excelência.
- IV Analisar as estratégias empregadas visando à diminuição ou à extinção das drogas, na Holanda, podem levar à comentários divergentes.
- V “Sede honestos, admiti vossos atos, não mintais” são máximas que se aprendem na escola.

Estão certos apenas os itens

- A I e II.
- B I e III.
- C II e V.
- D III e IV.
- E IV e V.

QUESTÃO 12

**Excelentíssimo Senhor
Presidente do Tribunal de Justiça**

José da Silva, brasileiro, maior, residente e domiciliado em Brasília, Distrito Federal, na SQN 417, bloco S, apartamento 612, vem, mui respeitosamente, requerer sua inscrição no Concurso Público para Provimento de Vaga nos Cargos de Nível Médio desse Tribunal, a realizar-se em julho de 2001.

.....
.....

Brasília, 17 de maio de 2001.

José da Silva

Assinale a opção que preenche corretamente as linhas pontilhadas do expediente acima.

- A Nesses termos, espera deferimento.
- B Pede acolhimento Respeitosamente.
- C Atenciosamente, subscrevemo-nos.
- D Cordiais Saudações.
- E Desde já, agradecemos a acolhida por parte de Vossa Excelência.

NOÇÕES DE DIREITO ADMINISTRATIVO E NOÇÕES DE DIREITO CONSTITUCIONAL

QUESTÃO 13

O governo do estado de Pernambuco decidiu criar entidade para a captação de poupança popular com vistas ao financiamento de moradia para a população de baixa renda. Essa entidade teria as seguintes características: controle estatal, forma de sociedade anônima, personalidade jurídica de direito privado e participação minoritária de particulares em seu capital social.

Nessa situação hipotética, a entidade a ser criada pelo governo estadual será um(a)

- A sociedade de economia mista.
- B autarquia.
- C organização social.
- D órgão independente.
- E empresa pública.

QUESTÃO 14

Pedro, servidor do TJPE, no exercício de suas atribuições, causou prejuízo a particular. Nessa hipótese,

- A a responsabilidade de Pedro será objetiva. Ele somente deixará de responder pelos prejuízos que tenha causado se provar culpa exclusiva da vítima.
- B a administração pública será obrigada a indenizar o prejuízo que Pedro causou ao particular, ainda que demonstre que esse prejuízo tenha decorrido de caso fortuito ou força maior.
- C a administração pública somente será responsabilizada se for demonstrado, pelo particular, que Pedro agiu com culpa ou dolo.
- D a responsabilidade de Pedro é regressiva e depende da comprovação de que sua conduta foi culposa ou dolosa.
- E a responsabilidade de Pedro é regressiva e objetiva; a administração será direta e subjetiva.

QUESTÃO 15

O TJPE concedeu aposentadoria voluntária em favor de Joaquim. Após a concessão da aposentadoria, a administração do TJPE descobriu que Joaquim havia juntado certidão falsa de tempo de serviço para obter o tempo necessário à concessão da aposentadoria.

Nessa situação hipotética, a administração do TJPE

- A deverá revogar o ato de aposentadoria.
- B deverá tornar sem efeito o ato em questão.
- C deverá, de ofício, anular o ato de aposentadoria.
- D poderá anular o ato, somente se houver ação judicial própria.
- E não poderá anular administrativamente o ato em questão, considerando a presunção absoluta de legitimidade dos atos administrativos.

QUESTÃO 16

Acerca dos direitos e garantias fundamentais, assinale a opção **incorreta**.

- A** É livre a expressão de atividade intelectual, artística, científica e de comunicação, independentemente de censura ou licença.
- B** A Constituição da República de 1988 prevê a liberdade de crença religiosa, mas não a de culto.
- C** Em caso de flagrante delito, é possível violar o domicílio legal do morador, para prestar socorro, tanto durante a noite quanto durante o dia. Em caso de determinação judicial, somente durante o dia.
- D** É possível a quebra de sigilo bancário e fiscal por determinação de comissão parlamentar de inquérito.
- E** As associações só poderão ser compulsoriamente dissolvidas ou ter suas atividades suspensas por decisão judicial, exigindo-se, no primeiro caso, o trânsito em julgado.

QUESTÃO 17

Com relação à tutela constitucional das liberdades tratada no art. 5.º da Constituição da República de 1988, assinale a opção correta.

- A** É taxativo o rol dos direitos e garantias expressos na Constituição da República.
- B** É exemplificativo o rol dos casos em que é cabível a aplicação da prisão civil por dívida.
- C** O mandado de segurança coletivo pode ser impetrado pelo procurador-geral da República.
- D** É cabível mandado de injunção para proteger direito líquido e certo, não-amparado por *habeas corpus* ou *habeas data*.
- E** As normas definidoras dos direitos e garantias fundamentais têm aplicação imediata.

**NOÇÕES DE DIREITO CIVIL
E NOÇÕES DE DIREITO
PROCESSUAL CIVIL****QUESTÃO 18**

Quanto à sua natureza jurídica, o contrato de compra e venda é um contrato

- A** unilateral e gratuito.
- B** bilateral e gratuito.
- C** bilateral e oneroso.
- D** necessariamente solene.
- E** bilateral e real.

QUESTÃO 19

Com base no Código Civil, assinale a opção **incorreta**.

- A** São incapazes relativamente a certos atos os maiores de dezesseis e os menores de vinte e um anos de idade.
- B** Para os menores de 21 anos de idade, poderá cessar a incapacidade pelo estabelecimento civil ou comercial com economia própria.
- C** Se dois indivíduos falecerem na mesma ocasião, não se podendo averiguar se algum deles morreu antes do outro, presumir-se-ão simultaneamente mortos.
- D** São pessoas jurídicas de direito público a União, os estados, o Distrito Federal e os municípios legalmente constituídos.
- E** A existência legal das pessoas jurídicas de direito privado começa pela elaboração de seus atos constitutivos.

QUESTÃO 20

Considere que Mário doe uma casa para Marina, que é solteira, mas condicione a efetivação da doação à necessidade de ela se casar com ele. Nessa hipótese, a obrigação que subordinou a eficácia do ato negocial a um evento futuro e incerto é denominada obrigação

- A** condicional suspensiva.
- B** modal.
- C** condicional resolutiva.
- D** com termo final.
- E** com termo inicial.

QUESTÃO 21

Dependem de prova os fatos

- A** notórios.
- B** apresentados pelo autor, quanto ao fato constitutivo de seu direito.
- C** admitidos no processo como incontroversos.
- D** afirmados por uma parte e confessados pela parte contrária.
- E** em cujo favor milita presunção legal de existência ou de veracidade.

QUESTÃO 22

Os recursos extraordinário e especial

- A** são interpostos perante o presidente do STF e do Superior Tribunal de Justiça, respectivamente.
- B** são interpostos em peça única, quando a decisão comportar ambos os recursos.
- C** possuem apenas efeito devolutivo.
- D** são incabíveis quando a decisão recorrida contiver parte unânime e não-unânime, devendo, primeiro, interpor-se o recurso de embargos infringentes.
- E** nunca podem ser interpostos se a matéria for penal.

NOÇÕES DE DIREITO PENAL E NOÇÕES DE DIREITO PROCESSUAL PENAL

QUESTÃO 23

Em cada um dos itens que se seguem, é apresentada uma situação hipotética, seguida de uma assertiva a ser julgada.

- I Rodrigo praticou um crime sob a vigência da Lei XX, que cominava pena de reclusão de dois a oito anos. Por ocasião do julgamento, passou a vigor a Lei YY, regulando o mesmo fato e impondo a pena de reclusão de um a quatro anos. Nesse caso, deverá ser aplicada a Lei XX, que estava em vigor por ocasião da prática do fato delituoso.
- II Brito praticou um crime de latrocínio a bordo de um navio mercante brasileiro, que ostentava a bandeira nacional e estava em alto-mar. Nesse caso, será aplicada a lei penal do primeiro país em que a embarcação atracar.
- III Cácio encontrava-se caçando à noite com Pedro, quando disparou um tiro de espingarda em um vulto, supondo tratar-se de um animal de caça, vindo a matar o seu parceiro. Nesse caso, Cácio responderá pelo crime de homicídio doloso, tendo a seu favor a excludente de culpabilidade do erro de proibição.
- IV André e Abreu escalavam uma montanha quando perceberam que a corda que os sustentava estava prestes a romper-se. Para salvar-se, André empurrou Abreu no precipício, matando-o. Nesse caso, André agiu amparado pela excludente de ilicitude da legítima defesa.

A quantidade de assertivas certas é igual a

- A** 0. **B** 1. **C** 2. **D** 3. **E** 4.

QUESTÃO 24

Márcio, funcionário público, com a intenção de lesionar Carlos, desferiu-lhe um soco no rosto. Ao receber o golpe, Carlos desequilibrou-se, caiu e bateu a cabeça na sarjeta, vindo a falecer por traumatismo cranioencefálico. Instaurado inquérito policial, Márcio passou a aliciar e posteriormente a intimidar testemunhas oculares do fato, levando a autoridade policial a representar pela decretação de sua prisão. Decretada a prisão e cumprido o mandado, os autos foram encaminhados ao Ministério Público (MP), que ficou inerte, sem tomar nenhuma providência, por trinta dias.

À luz da situação hipotética apresentada, assinale a opção correta.

- A** Márcio praticou o crime de homicídio doloso.
- B** A prisão preventiva só poderia ter sido decretada na instrução criminal, após o recebimento da denúncia, nunca durante o inquérito policial.
- C** O aliciamento e constrangimento de testemunhas não são motivos suficientes para embasar, por conveniência da instrução criminal, a decretação da prisão preventiva de Márcio.
- D** Diante da inércia do MP em oferecer denúncia no prazo legal, caberá ação privada subsidiária da ação pública, intentada pelo representante legal do ofendido.
- E** Por ser Márcio funcionário público, o juiz, antes de receber a denúncia ou queixa, deverá ordenar a sua notificação, para responder por escrito, dentro do prazo de quinze dias.

QUESTÃO 25

Assinale a opção correta.

- A** O homicídio simples, mesmo quando praticado em atividade típica de grupo de extermínio, não é considerado crime hediondo.
- B** O homem morto e os animais podem ser sujeitos passivos de crime.
- C** O reconhecimento da menoridade, para efeitos penais, supõe a demonstração mediante a apresentação de certidão de nascimento ou prova documental idônea.
- D** Considera-se penalmente inimputável o agente que completa dezoito anos no dia da prática do crime.
- E** Após o advento da atual Constituição da República, aplica-se, no inquérito policial, o princípio do contraditório.

QUESTÃO 26

Agentes da polícia federal, tendo conhecimento prévio de que Ferreira estava comercializando substâncias entorpecentes, abordaram-no, passando-se por consumidores interessados na aquisição de papérolas de cocaína. Ao apresentar a droga que possuía, Ferreira foi preso em flagrante. O seu defensor requereu o relaxamento da prisão, alegando a ocorrência do flagrante preparado. Antes da conclusão do inquérito policial, o MP, de posse do auto de prisão em flagrante e do laudo de constatação, ofertou denúncia contra Ferreira. O juiz recebeu a denúncia, anulou o flagrante e decretou a prisão preventiva do réu.

Diante dessa situação hipotética, assinale a opção correta.

- A** Competirá à justiça federal o processo e julgamento do crime de tráfico interno de entorpecentes.
- B** Houve flagrante preparado, uma vez que Ferreira foi induzido pelos agentes de polícia à prática do crime de tráfico.
- C** O inquérito policial era instrumento imprescindível para o início da ação penal, por denúncia do MP.
- D** O magistrado, em nenhuma hipótese, poderia anular o auto de prisão em flagrante e decretar a prisão preventiva do réu, mesmo diante da presença dos requisitos legais autorizadores.
- E** Caberá *habeas corpus* para trancar a ação penal por falta de justa causa, se o fato narrado na denúncia não constituir crime em tese.

QUESTÃO 27

Acerca dos crimes contra a administração pública, assinale a opção correta.

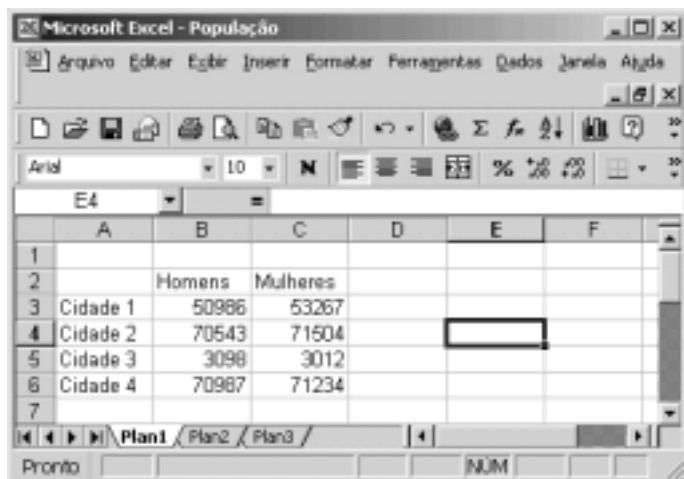
- A** Pratica o crime de peculato próprio o funcionário público que utiliza, em proveito próprio, mão-de-obra pública e veículos e equipamentos pertencentes à administração pública.
- B** O crime de concussão, que tem como sujeito ativo o funcionário público, admite a co-autoria ou participação de particular (pessoa estranha do quadro do funcionalismo público).
- C** O oficial de justiça que recebe vantagem indevida para não citar réu em ação judicial, certificando no mandado não tê-lo encontrado, pratica o crime de corrupção ativa.
- D** O agente de polícia a passeio, no gozo de férias, comete o crime de prevaricação se deixa de efetuar a prisão de amigo, em cuja companhia estava, quando utilizou-se de arma que ilegalmente portava, sem porte e registro.
- E** O chefe de uma repartição pública que toma conhecimento de que o servidor subordinado hierarquicamente praticou, em final de semana, ameaças de morte contra a sua esposa e deixa de responsabilizá-lo pratica o crime de condescendência criminosa.

CONHECIMENTOS DE INFORMÁTICA

Nas questões de 28 a 35, considere que todos os programas mencionados estão em configuração-padrão, em português, e que o *mouse* está configurado para pessoas destros. Assim, a menos que seja explicitamente informado o contrário, expressões como clicar, clique simples e clique duplo referem-se a cliques com o botão esquerdo do *mouse*. Considere também que não há restrições de proteção em relação aos programas, arquivos e diretórios utilizados.






QUESTÃO 28

Foi solicitado a um funcionário de um tribunal que fizesse um levantamento a respeito da população das cidades atendidas pelo tribunal. O funcionário realizou uma pesquisa em diversos órgãos governamentais e obteve os dados solicitados, que incluem o número de homens e mulheres de cada cidade. Feito isso, ele elaborou uma tabela, no Excel 2000, contendo os dados obtidos. Essa tabela é mostrada na janela do Excel 2000 apresentada abaixo.



	A	B	C	D	E	F
1						
2		Homens	Mulheres			
3	Cidade 1	50986	53267			
4	Cidade 2	70543	71504			
5	Cidade 3	3098	3012			
6	Cidade 4	70987	71234			
7						

Com relação a essa tabela e ao Excel 2000, caso o funcionário deseje

- I adicionar uma cor ao fundo das células B2 e C2, ele poderá fazê-lo com sucesso por meio da seguinte seqüência de ações: clicar sucessivamente nas células B2 e C2; clicar em .
- II sublinhar o conteúdo da célula B3, ele poderá fazê-lo com sucesso por meio da seguinte seqüência de ações: clicar na célula B3; clicar no botão , à direita da barra de título.
- III centralizar os conteúdos das células B3, B4, B5, B6, C3, C4, C5 e C6, ele poderá fazê-lo com sucesso por meio da seguinte seqüência de ações, executadas com o *mouse*: posicionar o ponteiro no centro da célula B3; pressionar o botão esquerdo e, mantendo-o pressionado, arrastar o ponteiro de forma a posicioná-lo no centro da célula C6; liberar o botão esquerdo; clicar em .
- IV apagar apenas os conteúdos das células que contêm dados numéricos, ele poderá fazê-lo com sucesso por meio da seguinte seqüência de ações: selecionar as referidas células; clicar em .
- V mesclar as células B1 e C1, ele poderá fazê-lo com sucesso por meio da seguinte seqüência de ações: selecionar as células B1 e C1; clicar em .

Estão certos apenas os itens

- A** I e II. **C** II e IV. **E** IV e V.
B I e III. **D** III e V.























Texto CI-I – questões 29 e 30

A figura a seguir mostra uma janela do Word 2000 com parte de um texto que foi digitado por um usuário.



QUESTÃO 29

Com relação ao texto CI-I, assinale a opção cuja seqüência de ações permite ao usuário, com sucesso, aplicar negrito à palavra “estudos” e alterar o tamanho da fonte utilizada nessa palavra, que é igual a 12, para 10.

- A** Aplicar um duplo clique entre as letras “u” e “d” da palavra “estudos”; pressionar a tecla  e, mantendo-a pressionada, teclar ; liberar as teclas  e ; alterar o número 12, em , para 10.
- B** Clicar entre as letras “u” e “d” da palavra “estudos”; pressionar a tecla  e, mantendo-a pressionada, acionar ; liberar as teclas  e ; alterar o número 12, em , para 10.
- C** Aplicar um duplo clique entre as letras “u” e “d”, da palavra “estudos”; pressionar a tecla  e, mantendo-a pressionada, teclar ; liberar as teclas  e ; clicar duas vezes no botão , em .
- D** Mediante o uso do *mouse*, posicionar o ponteiro imediatamente à esquerda da letra “e” da palavra “estudos”; pressionar o botão esquerdo e, mantendo-o pressionado, posicionar o ponteiro imediatamente à direita da letra “s” da palavra “estudos”; liberar o botão esquerdo; clicar em ; clicar duas vezes no botão , em .
- E** Clicar entre as letras “u” e “d” da palavra “estudos”; clicar no menu  e, em Fonte, selecionar o estilo da fonte “Negrito”; clicar duas vezes no botão , em .

QUESTÃO 30

Sabendo que o documento mostrado na figura CI-I possui duas páginas e supondo que o computador que o usuário está utilizando esteja conectado a uma impressora corretamente instalada e pronta para o uso, assinale a opção cuja seqüência de ações permitiria ao usuário, com sucesso, imprimir todo o conteúdo apenas da primeira página do documento.

- A) Clicar em qualquer local da primeira página; clicar em
- B) Selecionar todo o conteúdo da primeira página; clicar em
- C) Clicar em qualquer lugar da primeira página; clicar no menu **Arquivo**; clicar em Imprimir...; selecionar a opção Página atual; clicar no botão OK.
- D) Clicar em qualquer local da primeira página; pressionar a tecla **Ctrl** e, mantendo-a pressionada, teclar **P**, liberando, em seguida, essas duas teclas.
- E) Aplicar um triplo clique entre as letras “s” e “t” da palavra “estudos”; clicar em qualquer local da primeira página; pressionar a tecla **Ctrl** e, mantendo-a pressionada, teclar **P**, liberando em seguida as teclas **Ctrl** e **P**.

Texto CI-II – questões de 31 a 33

O Windows Explorer do Windows 98 é uma ferramenta computacional que permite ao usuário visualizar a organização dos arquivos e diretórios armazenados, apropriadamente, nos discos existentes no seu microcomputador. Para facilitar essa visualização e a própria organização desses arquivos e diretórios, a janela do Windows Explorer dispõe de diversos botões e *menus*, conforme ilustra a figura abaixo. Além disso, as informações armazenadas podem ser visualizadas em diferentes formatos e níveis de detalhamento, o que torna esse *software* bastante flexível.



QUESTÃO 31

Acerca do Windows Explorer do Windows 98, das informações que ele dispõe a um usuário e tendo como base as informações relativas ao texto CI-II, assinale a opção correta.

- A) Os arquivos e mostrados na figura, pertencem a .
- B) O diretório C:\TJPE contém mais de 8 objetos que ocupam exatamente 1,4 MB da memória disponível no computador.
- C) A memória livre de *winchester* de que ainda dispõe o computador cuja estrutura de arquivos está mostrada na figura é inferior a 6,19 GB.
- D) Como ao diretório [C:] está associado o símbolo , pode-se concluir que esse diretório não possui subdiretório, ao contrário de [A:], que está referenciado ao símbolo .
- E) Na figura mostrada, pode-se verificar que o usuário possui arquivos dos tipos Word e Excel.

QUESTÃO 32

Com relação aos *menus* disponíveis no Windows Explorer do Windows 98 e tendo ainda como base as informações relativas ao texto CI-II, assinale a opção correta.

- A) Caso o usuário queira criar um subdiretório de um determinado diretório, ele poderá fazê-lo com sucesso a partir do menu **Ferramentas** e do *submenu* Inserir subdiretório.
- B) Caso o usuário queira realizar uma pesquisa na *world wide web* (WWW), ele poderá utilizar o *submenu* Pesquisar na Web, do menu **Ir**, que permite o acesso a recursos de pesquisa na WWW do Internet Explorer.
- C) Caso o usuário queira eliminar todos os arquivos armazenados em seu computador, ele poderá obter sucesso nesse empreendimento ao realizar a seguinte seqüência de ações: clicar no menu **Editar**, escolher a opção Selecionar tudo, clicar no menu **Arquivo** e, finalmente, escolher a opção Excluir.
- D) A partir do menu **Favoritos**, o usuário poderá selecionar um de seus arquivos, tornando-o favorito; assim, cada vez que o usuário iniciar uma nova aplicação do Windows Explorer, o referido arquivo será aberto.
- E) Ao clicar no menu **Ferramentas** e escolher o *submenu* Detectar vírus, o usuário poderá aplicar com sucesso ferramentas de detecção e eliminação de vírus que porventura possam existir no diretório C:\TJPE.

QUESTÃO 33

Considerando ainda o texto CI-II e acerca do uso de botões disponíveis no Windows Explorer para a organização de informações de arquivos, diretórios e memória de um microcomputador, assinale a opção correta.

- A) Caso o usuário queira eliminar o arquivo Arquivo 2, enviando-o para a Lixeira de seu computador, será correto adotar a seguinte seqüência de ações: clicar em quatro vezes consecutivas, selecionando assim o referido arquivo e clicar em .
- B) Com o intuito de copiar todo o conteúdo de Diretório 2 em Diretório 1, o usuário do computador selecionou Diretório 2, clicou em e selecionou Diretório 1. Caso esse usuário clique, por fim, em , ele obterá do computador uma mensagem de erro, informando que é impossível realizar a operação de colagem do conteúdo de um subdiretório em outro subdiretório.
- C) Caso Diretório 2 contenha arquivos do tipo Word e o usuário deseje abrir todos esses arquivos ao mesmo tempo, ele obterá sucesso nessa atividade ao aplicar sobre Diretório 2 um duplo clique com o botão direito do *mouse*.
- D) Caso o usuário abra o arquivo Arquivo 1, e, utilizando o *software* adequado, modifique o conteúdo desse arquivo e, logo em seguida, saia desse *software*, salvando antes todas as modificações realizadas, se ele quiser retornar ao estado original do Arquivo 1, anteriormente às modificações efetuadas e salvas, será suficiente que ele clique em .
- E) Caso o usuário queira acessar [C:], estando o Windows Explorer em C:\TJPE, como ilustrado na figura, será suficiente que ele clique em .

QUESTÃO 34

A Internet, a maior rede de computadores do mundo, é formada por vários computadores que, de algum modo, estão ligados entre si. A lentidão do acesso é uma das principais reclamações dos seus usuários. É impossível detectar um motivo único para a demora ao copiar arquivos e carregar páginas da Web, mas existem algumas opções que podem aumentar a velocidade de conexão. Acerca desse tema, julgue os itens a seguir.

- I Para conexões via *cable modem*, é importante instalar *modem* com grande velocidade de transmissão de dados. Atualmente, os *modems* mais rápidos têm velocidade superior a 50 kbps.
- II Em conexões por meio de uma linha telefônica, a velocidade pode ser reduzida em função da qualidade da linha. Por isso, é aconselhável solicitar à companhia telefônica o teste da linha e sua substituição por outra de melhor qualidade, se for necessário.
- III Para acesso à rede por meio de um provedor de serviços, deve-se escolher aquele que ofereça pelo menos duas linhas telefônicas para cada usuário. Nesse caso, uma das linhas pode ser utilizada somente para *download*, com a velocidade de acesso ficando duas vezes maior.
- IV Para se acessar a Internet de modo mais rápido por meio de um provedor nacional, é melhor entrar na rede em um horário de tráfego menos intenso. Nesse caso, é importante saber os períodos de menor utilização da rede ao longo do dia.

A quantidade de itens certos é igual a

- A** 0. **B** 1. **C** 2. **D** 3. **E** 4.

QUESTÃO 35

Na Internet, uma das aplicações mais utilizadas é o correio eletrônico, que permite a troca de mensagens entre os usuários. Julgue os itens que se seguem, relativos ao correio eletrônico.

- I Pode-se enviar uma mensagem para qualquer usuário da rede, independentemente da localidade onde esse usuário estiver.
- II O destinatário da mensagem precisa estar conectado à Internet no momento em que a mensagem é enviada, caso contrário ocorrerá o retorno dessa mensagem com o aviso de destinatário não-encontrado.
- III Sendo uma rede mundial e, portanto, acessada por milhares de usuários, assim que o destinatário lê a mensagem, ela é automaticamente apagada para que a rede possa ser acessada pelo maior número possível de usuários.
- IV Existem programas específicos de correio eletrônico, tais como o Netscape Mail, o Eudora e o Outlook Express, que, apesar de apresentarem algumas semelhanças, colocam à disposição dos usuários recursos diferenciados.
- V Existem listas de correspondências eletrônicas em que é possível implementar grupos de discussões formados por pessoas de interesses semelhantes.

A quantidade de itens certos é igual a

- A** 1. **B** 2. **C** 3. **D** 4. **E** 5.

CONHECIMENTOS GERAIS**QUESTÃO 36**

As circunstâncias que envolvem a economia contemporânea, marcada pela mundialização dos mercados e pela acirrada competição, favorecem a formação de blocos regionais. No continente americano, nos dias de hoje, um dos temas de maior evidência é o que trata da Área de Livre Comércio das Américas (ALCA). A respeito desse tema, assinale a opção **incorreta**.

- A** A ALCA é uma proposta de integração comercial que, quando concluída, englobará todos os países americanos, à exceção de Cuba.
- B** A idéia é de constituição de um mercado comum continental, a ser viabilizado pela redução das tarifas de importação cobradas pelos países integrantes do bloco.
- C** Os defensores da ALCA imaginam que, com tarifas de importações menores, a tendência é de ampliação do comércio entre os países americanos.
- D** Para sua concretização, é necessário consenso entre os países participantes para a definição das regras a que todos estarão sujeitos, a exemplo dos tipos de tarifas e de subsídios que serão permitidos.
- E** Os Estados Unidos da América (EUA) têm jogado o peso de sua influência na economia do Continente para adiar a entrada em vigor da ALCA, temerosos da concorrência agrícola a que estariam sujeitos na atualidade.

QUESTÃO 37

Nos últimos anos, a cena política latino-americana vem conhecendo uma realidade diferente daquela que, tradicionalmente, a caracterizou. Presidentes eleitos, alguns reeleitos, não conseguem terminar seus mandatos ou passam por sérios dissabores após deixarem o governo. A novidade é que não mais se trata de reedição de históricos golpes de estado mas, ao contrário, de ações políticas ou judiciais plenamente cobertas pela normalidade constitucional. A propósito desse quadro, assinale a opção correta.

- A** No Peru, o presidente Alberto Fujimori foi acusado de montar um monumental esquema de corrupção, no que teria recebido apoio de seu assessor Vladimiro Montesinos; mal iniciou seu terceiro mandato, foi deposto por “incapacidade moral” e refugiou-se no Japão.
- B** No Brasil, o presidente Fernando Collor de Melo, acusado de integrar poderoso sistema de corrupção, renunciou ao mandato e, com essa atitude, preservou intactos seus direitos políticos.
- C** Carlos Menem, presidente argentino, conseguiu reeleger-se; terminado seu período de governo, viu-se às voltas com denúncias que o vinculavam ao tráfico internacional de drogas e à venda de segredos militares de seu país à Grã-Bretanha.
- D** Em meio a esses problemas, o Paraguai navega por águas tranquilas: uma década de absoluta estabilidade política permite supor que o atual presidente, Luís González Macchi, terminará seu mandato sem maiores dificuldades, justamente por não pairar sobre ele nenhuma acusação.
- E** Apesar dos processos de *impeachment* e de decisões judiciais, a América Latina ainda não chegou ao ponto de ver um de seus ex-presidentes ser detido.

QUESTÃO 38

Desde que tomou posse como presidente dos EUA, George W. Bush tomou — ou anunciou — algumas medidas que geraram controvérsias. Uma dessas decisões, de aguda repercussão mundial, foi a retirada dos EUA do Protocolo de Kioto. Esse protocolo, assinado em 1997, prevê

- A** o fim dos testes nucleares em qualquer parte do planeta, assim como a gradativa desativação de todas as usinas nucleares em funcionamento hoje.
- B** a proibição, em uma década, de todas as experiências voltadas para a produção de gêneros alimentícios geneticamente modificados, pelos efeitos danosos à saúde humana que, comprovadamente, os chamados transgênicos acarretam.
- C** a redução nas emissões de gás carbônico pelos países industrializados; o gás, produzido sobretudo pela queima de combustíveis fósseis, retém a radiação solar na atmosfera, esquentando o planeta.
- D** a eliminação das guerras que envolvam a presença de países detentores de armas nucleares, justamente por sua potencial capacidade de destruição do mundo.
- E** a proibição definitiva de experimentos científicos que possam conduzir à clonagem de seres humanos.

QUESTÃO 39

Do segundo semestre do ano 2000 aos dias de hoje, o Senado Federal transformou-se em palco de batalhas que caracterizam, aos olhos de muitos, uma crise política de considerável dimensão. A propósito desse quadro, assinale a opção correta.

- A** Sendo majoritário no Senado, ao Partido da Frente Liberal (PFL) caberia indicar o presidente da Casa; por essa razão, o então presidente Antonio Carlos Magalhães (ACM), do PFL-BA, insurgiu-se contra a intenção do Partido do Movimento Democrático Brasileiro (PMDB) de eleger Jader Barbalho (PMDB-PA) para o cargo.
- B** A comprovação de que o painel eletrônico fora violado quando da sessão que cassou o mandato do senador Luiz Estevão acabou por incriminar os senadores ACM e José Roberto Arruda, conforme julgamento do Conselho de Ética do Senado; ante a iminência da cassação de seus mandatos, ambos preferiram renunciar.
- C** A completa recomposição da base governista no Senado, integrada pelo PSDB, PFL e PMDB, logo após o afastamento de ACM, pôs fim à sucessão de denúncias que recaíam sobre o presidente Jader Barbalho.
- D** Comprovada, desde o início, a veracidade da lista com os votos dos senadores que cassaram o mandato de Luiz Estevão, o problema adquiriu proporções ainda maiores, atingindo parlamentares de todos os partidos opositores.
- E** Chamou a atenção dos observadores o fato de que, ao longo de todo o processo de crise gerada pela violação do painel eletrônico do Senado, a nenhum parlamentar tenha ocorrido questionar o voto secreto no Parlamento.

QUESTÃO 40

Na expressão famosa de Nelson Rodrigues, a seleção brasileira de futebol em campo correspondia à “pátria de chuteiras”, tamanha a identificação do país com seu esporte predileto. Quatro vezes campeão mundial de futebol, o Brasil experimenta, nos últimos tempos, sensação diferente daquela a que se acostumara: seu futebol padece de bons resultados, ao tempo em que se multiplicam críticas aos seus dirigentes. Enquanto isso, outras modalidades esportivas avançam no gosto popular e, graças a vitórias importantes, passam a conquistar milhões de novos admiradores. A respeito desse quadro, assinale a opção correta.

- A** A ausência de uma “cultura do esporte” explica o fato de que modalidades esportivas como o vôlei e o basquete, apesar de eventuais bons resultados, não tenham levado o Brasil à conquista de uma competição internacional.
- B** No automobilismo, apenas um brasileiro — Ayrton Senna, falecido ainda muito jovem — inscreveu seu nome na galeria dos grandes campeões desse esporte, fazendo-o de tal forma que, ainda hoje, seu nome é identificado, no imaginário nacional, como sinônimo de determinação, coragem e competência.
- C** Duas Comissões Parlamentares de Inquérito — uma, na Câmara dos Deputados; outra, no Senado Federal — foram instaladas no ano 2000 para tratar de denúncias envolvendo o futebol brasileiro; ambas chegaram ao fim sem conseguir apontar, pelo menos, indícios de má gestão e de fraudes praticadas por dirigentes.
- D** No tênis, o catarinense Gustavo Kuerten, o Guga, notabilizou-se pela conquista do tricampeonato no Torneio de Roland Garros, na França, reafirmando sua condição de grande vencedor, especialmente em quadras de piso de saibro.
- E** Para muitos especialistas, uma das razões para o fraco desempenho do desporto brasileiro decorre, em linhas gerais, da decisão tomada há muitos anos de se retirar a disciplina Educação Física dos componentes curriculares dos ensinos fundamental e médio, tornando-a atividade facultativa.